

**ПРОБНЕ
ЗОВНІШНЄ НЕЗАЛЕЖНЕ ОЦІНЮВАННЯ
З ІСТОРІЇ УКРАЇНИ**
Час виконання – 150 хвилин

Робота складається з двох частин.

Частина 1 «Історія України ХХ – початку ХХІ ст.» містить 30 завдань різних форм. Відповіді на завдання частини 1 Ви маєте позначити та записати в *бланку А*.

Результат виконання цих завдань буде зараховано як результат державної підсумкової атестації.

Частина 2 «Історія України від найдавніших часів до кінця ХІХ ст.» містить 30 завдань різних форм. Відповіді на завдання частини 2 Ви маєте позначити та записати в *бланку А*.

Результат виконання завдань частин 1 і 2 буде використано під час прийому до закладів вищої освіти.

Інструкція щодо роботи в зошиті

1. Правила виконання зазначені перед завданнями кожної нової форми.
2. Відповідайте лише після того, як Ви уважно прочитали та зрозуміли завдання.
3. За необхідності використовуйте як чернетку вільні від тексту місця в зошиті.
4. Намагайтеся виконати всі завдання.

Інструкція щодо заповнення бланка відповідей А

1. У *бланк А* записуйте лише правильні, на Вашу думку, відповіді.
2. Відповіді вписуйте чітко, згідно з вимогами інструкції до кожної форми завдань.
3. Якщо Ви позначили відповідь на завдання 1–28 і 31–58 неправильно, можете виправити її, замалювавши попередню позначку та поставивши нову, як показано на зразку:



4. Якщо Ви записали відповідь на завдання 29, 30 і 59, 60 неправильно, можете виправити її у відповідному місці *бланка А*.
5. Ваш результат залежатиме від загальної кількості правильних відповідей, записаних у *бланку А*.

Ознайомившись з інструкціями, перевірте якість друку зошита та кількість сторінок. Їх має бути 20.

Позначте номер Вашого зошита у відповідному місці *бланка А* так:

| | | | | | | | | | | | | | | |
|---|---|---|---|---|---|---|---|---|----|----|----|----|----|----|
| 1 | 2 | 3 | 4 | 5 | 6 | 7 | 8 | 9 | 10 | 11 | 12 | 13 | 14 | 15 |
| X | | | | | | | | | | | | | | |

Зичимо Вам успіху!

Частина 1
Історія України ХХ – початку ХХІ століття

Пам'ятайте!

Результат виконання завдань частини 1 буде зараховано
як результат державної підсумкової атестації

Завдання 1–23 мають по чотири варіанти відповіді, серед яких лише один правильний. Виберіть правильний, на Вашу думку, варіант відповіді, позначте його в бланку А згідно з інструкцією. Не робіть інших позначок у бланку А, тому що комп'ютерна програма реєструватиме їх як помилки!

Будьте особливо уважні під час заповнення бланка А!

Не погіршуйте власноручно свого результату неправильною формою запису відповідей

1. У якій галузі промисловості Наддніпрянської України вітчизняні підприємці на початку ХХ ст. посідали провідне місце?
А вугледобувній
Б металургійній
В харчовій
Г хімічній

2. Прочитайте уривок зі статті В. Г. Короленка та виконайте завдання.
«...вони лестяць народним забобонам, роздмухують марновірство й наполегливо кличуть до насильства над іноплеменними співвітчизниками. З приводу ще не розслідуваного вбивства в Києві хлопчика Ющинського в народ знову кинута брехлива казка про вживання євреями християнської крові. Це давно відомий прийом старого бузувірства».
Настрої, описані в уривку, були властиві частині суспільства часів
А «Київської катастрофи».
Б «Кривавої неділі».
В «Справи Бейліса».
Г «Листопадового зриву».

3. Для соціально-економічного розвитку українських земель періоду Першої світової війни було характерним
А зростання виробництва сільгосппродукції.
Б посилення інфляційних процесів в економіці.
В збільшення виробництва продуктів нафтопереробки.
Г ліквідування механізмів державного регулювання економіки.

Прочитайте фрагмент історичного документа та виконайте завдання 4–6.

«Високі збори! Грізний момент кривавої боротьби в Росії... потребує від українських партій рішучих кроків. ...Після довгих міркувань і сумнівів Генеральний секретаріат прийшов до тої думки, що для того, аби крайова влада стала справжньою фактичною владою, під нею має бути міцна підвалина, і такою підвалиною може бути тільки проголошення Української Народної Республіки, яка буде повноправним тілом у міцній спілці народів Росії...»

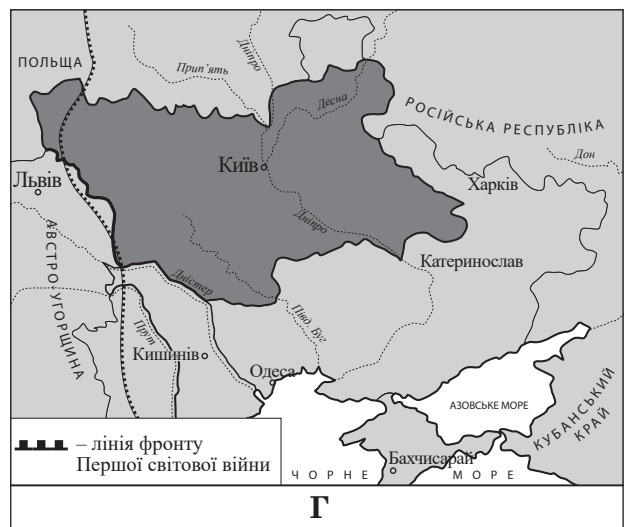
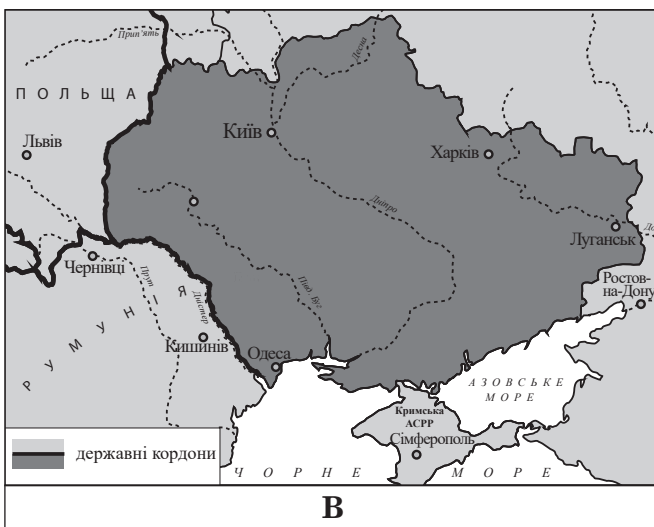
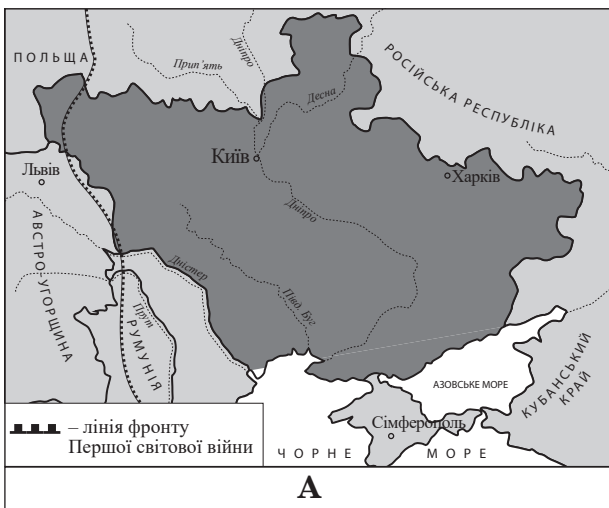
4. Який «момент кривавої боротьби в Росії» спонукав Генеральний секретаріат до прийняття такого рішення?

- А корніловський заколот
- Б більшовицький переворот
- В повалення самодержавства
- Г липнева криза Тимчасового уряду



5. Яким Універсалом Української Центральної Ради закладено «міцну підвалину», «аби крайова влада стала справжньою фактичною владою»?

- А Першим
- Б Другим
- В Третім
- Г Четвертим

6. Укажіть картосхему, на якій відображено територіальні межі Української Народної Республіки на момент її проголошення.



7. *«Німці вважали моє становище поганим і запропонували мені полетіти на аероплані до Одеси (де ще зберігалася моя влада), тому що шляхи всі були відрізані остаточно... Я відхилив цю пропозицію, бо вважав, що повинен досидіти до кінця отут, де уряд і військо, незважаючи на їхнє ставлення до мене», – так оповідає про останні дні свого перебування в Києві*
- А С. Петлюра.
 Б Х. Раковський.
 В М. Грушевський.
 Г П. Скоропадський.
8. Масова націоналізація підприємств була характерна для політики радянської влади в Україні в період
- А 1919–1920 рр.
 Б 1921–1928 рр.
 В 1929–1932 рр.
 Г 1933–1938 рр.
9. Слова Й. Сталіна *«...Ми маємо ворогів внутрішніх...Ми маємо ворогів зовнішніх... Ми мали кризу заготівлі, яку вже ліквідовано. Криза заготівлі стала першим серйозним виступом капіталістичних елементів села проти радянської влади»* були сигналом до
- А запровадження продрозверстки.
 Б створення системи МТС.
 В розпуску колгоспів.
 Г згортання непу.
10. На фото зображено плакати, присвячені Голодомору. З'ясуйте, в основі якого плаката є символічне відображення народної пам'яті про одне зі знарядь геноциду українського народу.



11. Заклик *«Громадяни, пам'ятайте! Неділя, 22 жовтня, – день виборів до Українських Народних Зборів! Усі як один візьмемо участь у виборах депутатів до Українських Народних Зборів!»* з'явився на перших шпальтах львівських газет у
- А 1938 р.
 Б 1939 р.
 В 1944 р.
 Г 1946 р.


12. Хто із зображених осіб міг давати таку клятву: *«Я, воїн Української повстанської армії, узявши в руки зброю, урочисто клянуся своєю честю й совістю перед Великим Народом Українським... боротися за повне визволення всіх українських земель та українського народу від загарбників і здобути Українську Самостійну Соборну Державу...»?*



А



Б



В



Г

13. Завершення визволення Лівобережної України та Донбасу, створення сприятливих умов для визволення Правобережної та Південної України стало наслідком проведення

- А битви за Дніпро.
- Б Ясько-Кишинівської операції.
- В Корсунь-Шевченківської операції.
- Г Карпатсько-Ужгородської операції.

14. Кореспондент газети «Saturday Evening Post», відвідавши в 1945 р. Україну, написав: *«Те, що дехто намагається зобразити як російську славу, було, насамперед, українською війною. Жодна європейська країна не постраждала більше від глибоких ран, нанесених своїм містам, своїй промисловості, сільському господарству, людській силі».*

Описаний у документі стан України став офіційною підставою для

- А участі представників УРСР у створенні ООН.
- Б включення Західної України до складу УРСР.
- В надання республіці допомоги за «планом Маршалла».
- Г обрання України членом Ради з безпеки та спіробітництва в Європі.

15. *«...це один з керівників уніатської Церкви на Західній Україні..., що він має ненависть до радянської влади, і що уніатське духовенство заявляло про необхідність відірвати Україну від Москви..., що український народ є давніший від російського, що історія українського народу не має нічого спільного з історією російського народу...»* – такі «злочини» інкримінувала радянська влада

- А Андрею Шептицькому.
- Б Йосипу Сліпому.
- В Мирославу Любачівському.
- Г Любомиру Гузару.

16. Що стало одним з наслідків ухвалення рішення, опублікованого в одному з офіційних видань СРСР?



*ВІДОМОСТІ
Верховної Ради
Союзу Радянських Соціалістичних
Республік
Указ Президії Верховної Ради СРСР
Про передачу Кримської області зі
складу РРФСР до складу УРСР*

- А отримання УРСР виходу до Чорного моря
 Б зміна адміністративно-територіального устрою УРСР
 В прийняття УРСР до складу Організації Об'єднаних Націй
 Г перетворення УРСР в найбільшу за площею республіку СРСР
17. Зародження дисидентського руху в Україні відбулося в період
- А «повоєнної відбудови».
 Б «відлиги».
 В «застою».
 Г «перебудови».
18. Яке явище радянської дійсності другої половини 1960-х – 1980-х рр. відображено на карикатурі?



- А стрімке зростання цін на товари широкого вжитку
 Б розкрадання державного майна на робочих місцях
 В поглиблення технологічної відсталості легкої промисловості
 Г систематичні перевірки громадян співробітниками міліції

19. Один з творців української естрадної музики, автор 107 пісень, 53 інструментальних творів, автор найкращих пісень року в СРСР – «Червона рута» (1971 р.) та «Водограй» (1972 р.) – це
- А Л. Биков.
 - Б В. Івасюк.
 - В І. Миколайчук.
 - Г С. Параджанов.
20. В уривку джерела: *«Кравчук привіз нам з Біловезької Пущі, якщо вдуматися, відпускну грамоту від Росії. Документ, підписаний ним,.. відминив, у широкому історичному сенсі, усе, що колись прив'язувало Україну до Росії. Ці акти хоч і давно належали минулому, але зберігали для когось символічне значення»* надано оцінку
- А припиненню існування Радянського Союзу.
 - Б підписанню Будапештського меморандуму.
 - В вступу України до Організації Об'єднаних Націй.
 - Г укладенню Договору про дружбу, співробітництво й партнерство між Україною та Росією.

Розгляньте фото та виконайте завдання 21–23.



21. Події, зафіксовані на фото, відбулися
- А 1990 р.
 - Б 2004 р.
 - В 2010 р.
 - Г 2013 р.
22. Ці події ввійшли в історію під назвою
- А «революція троянд».
 - Б «революція Гідності».
 - В «революція на граніті».
 - Г «Помаранчева революція».
23. Що стало приводом до цих подій?
- А загострення відносин з Російською Федерацією
 - Б свавілля правоохоронних органів і сил спецпризначення
 - В масові фальсифікації результатів президентських виборів
 - Г зрив підписання Угоди про асоціацію з Європейським Союзом

У завданнях 24–26 до кожного з чотирьох рядків інформації, позначених цифрами, доберіть один правильний, на Вашу думку, варіант, позначений буквою. Поставте позначки в таблицях відповідей до завдань у бланку А на перетині відповідних рядків (цифри) і колонок (букви). Усі інші види Вашого запису в бланку А комп'ютерна програма реєструватиме як помилки!

Будьте особливо уважні під час заповнення бланку А!
Не погіршуйте власноручно свого результату неправильною формою запису відповідей

24. Увідповідніть подію з її наслідком.

- | | |
|--|---|
| <p>1 проведення в Києві Всеукраїнського з'їзду хліборобів</p> <p>2 оприлюднення Українською Центральною Радою I Універсалу</p> <p>3 збройна боротьба за владу в Києві між загонами більшовиків, прихильників Тимчасового уряду Росії та Української Центральної Ради</p> <p>4 ультиматум Раднаркому РСФРР Українській Центральній Раді</p> | <p>А збройна агресія радянської Росії проти УНР</p> <p>Б створення Генерального секретаріату</p> <p>В прихід до влади гетьмана П. Скоропадського</p> <p>Г корніловський заколот у Росії</p> <p>Д проголошення УНР</p> |
|--|---|

| | А | Б | В | Г | Д |
|---|---|---|---|---|---|
| 1 | | | | | |
| 2 | | | | | |
| 3 | | | | | |
| 4 | | | | | |

25. Увідповідніть ім'я історичної особи та поняття, за допомогою яких можна схарактеризувати її діяльність.

- | | |
|--|---|
| <p>1 Микола Хвильовий</p> <p>2 Василь Липківський</p> <p>3 Лесь Курбас</p> <p>4 Олександр Шумський</p> | <p>А модерний театр, мистецьке об'єднання «Березіль»</p> <p>Б церковний собор, Українська автокефальна православна церква</p> <p>В українізація, наркомат освіти УСРР</p> <p>Г літературна дискусія, ВАПЛІТЕ</p> <p>Д спілка «Гарт», кінематограф</p> |
|--|---|

| | А | Б | В | Г | Д |
|---|---|---|---|---|---|
| 1 | | | | | |
| 2 | | | | | |
| 3 | | | | | |
| 4 | | | | | |

26. Увідповідніть подію та рік, коли вона відбулася.

- | | |
|--|--|
| <p>1 обрання України членом Ради Європи (РЄ)</p> <p>2 вступ України до Світової організації торгівлі (СОТ)</p> <p>3 запровадження національної грошової одиниці – гривні</p> <p>4 підписання Україною Угоди про асоціацію з Європейським Союзом (ЄС)</p> | <p>А 1995 р.</p> <p>Б 1996 р.</p> <p>В 2004 р.</p> <p>Г 2008 р.</p> <p>Д 2014 р.</p> |
|--|--|

| | А | Б | В | Г | Д |
|---|---|---|---|---|---|
| 1 | | | | | |
| 2 | | | | | |
| 3 | | | | | |
| 4 | | | | | |

У завданнях 27 і 28 розташуйте події в хронологічній послідовності. Поставте позначки в таблицях відповідей до завдань у бланку А на перетині відповідних рядків (цифри) і колонок (букви). Цифрі 1 має відповідати вибрана Вами перша подія, цифрі 2 – друга, цифрі 3 – третя, цифрі 4 – четверта. Усі інші види Вашого запису в бланку А комп'ютерна програма реєструватиме як помилки!

Будьте особливо уважні під час заповнення бланку А!
Не погіршуйте власноручно свого результату неправильною формою запису відповідей

27. Установіть послідовність подій, описаних в уривках з історичних джерел.

- А «Я готовий вислухати будь-які заяви, окрім тих, що стосуються голоду на селі та прохання допомогти. Голодують нероби й ледарі, які мають по 30–40 трудоднів на рік...»
- Б «Нове в Шахтинській справі те, що вона має суто контрреволюційний характер...»
- В «Допомогу отримають 8 % голодуючих, якщо реалізувати план організації харчування за рахунок закордонних комісій допомоги...»
- Г «Провести роз'яснювальну роботу серед широких верств населення стосовно доцільності ліквідації так званої “Української автокефальної православної церкви” як осередку відвертої петлюрівщини...»

| | А | Б | В | Г |
|---|---|---|---|---|
| 1 | | | | |
| 2 | | | | |
| 3 | | | | |
| 4 | | | | |

28. Установіть послідовність подій, зафіксованих на фото.



| | А | Б | В | Г |
|---|---|---|---|---|
| 1 | | | | |
| 2 | | | | |
| 3 | | | | |
| 4 | | | | |

Завдання 29 і 30 мають по сім варіантів відповідей, серед яких лише три правильні. Виберіть три цифри, що позначають правильні, на Вашу думку, відповіді, та запишіть їх у *бланку А* згідно з інструкцією. Порядок написання цифр значення не має. Для виправлення помилково вказаної відповіді запишіть новий варіант відповіді (три цифри) у спеціально відведеному місці *бланка А*. Не робіть інших записів у *бланку А*, тому що комп'ютерна програма реєструватиме їх як помилки!

Будьте особливо уважні під час заповнення *бланка А*!

Не погіршуйте власноручно свого результату неправильною формою запису відповідей

29. Укажіть назви українських історико-географічних регіонів, які на початку ХХ ст. входили до складу Австро-Угорської імперії.

- 1 Закарпаття
- 2 Волинь
- 3 Поділля
- 4 Буковина
- 5 Таврія
- 6 Слобожанщина
- 7 Східна Галичина

30. Укажіть причини голоду 1946–1947 рр. в Українській РСР.

- 1 державна політика хлібозаготівель
- 2 збройна боротьба загонів УПА
- 3 повоєнна розруха
- 4 посуха, що вразила територію республіки
- 5 форсована індустріалізація
- 6 ліквідація системи МТС
- 7 «Великий терор»

Ви завершили роботу над завданнями частини 1.
Перевірте правильність перенесення своїх відповідей у *бланк А*.

Пам'ятайте!

Результат виконання завдань частини 1 буде зараховано
як результат державної підсумкової атестації

Частина 2

Історія України від найдавніших часів до кінця ХІХ століття

Завдання 31–53 мають по чотири варіанти відповіді, серед яких лише один правильний. Виберіть правильний, на Вашу думку, варіант відповіді, позначте його в *бланку А* згідно з інструкцією. Не робіть інших позначок у *бланку А*, тому що комп'ютерна програма реєструватиме їх як помилки!

Будьте особливо уважні під час заповнення *бланку А*!

Не погіршуйте власноручно свого результату неправильною формою запису відповідей

31. На картосхемі штрихуванням позначено територіальні межі



- А Сарматії.
- Б Кіммерії.
- В Малої Скіфії.
- Г Боспорського царства.

32. Який великий князь київський «поставив ...русина Іларіона митрополитом Русі у Святій Софії, зібравши єпископів...»?

- А Володимир Великий
- Б Ярослав Мудрий
- В Володимир Мономах
- Г Мстислав Великий

33. Віче в Київській державі (Русі-Україні) – це

- А об'єднання ремісників міста.
- Б народне ополчення під час війни.
- В загальні збори вільного населення міста.
- Г загони професійних воїнів на чолі з князем.

34. Про будівництво якого із зображених на фото храмів ідеться в уривку з історичного джерела: «Заснована ж була ця божественна церква Богородична в літо 1073. У дні благовірного князя Святослава, сина Ярославового, який своїми руками став рів копати, почали будувати церкву цю...»?



А



Б



В



Г

35. Утворення в 1199 р. Галицько-Волинської держави стало результатом

- А міжусобної боротьби руських князів.
- Б об'єднання сил князів у боротьбі проти монголів.
- В виконання одного з рішень Любецького з'їзду князів.
- Г боротьби Польщі та Угорщини за розширення своїх володінь.

36. До складу Великого князівства Литовського більша частина українських земель увійшла за правління князя

- А Свидригайла.
- Б Гедиміна.
- В Ольгерда.
- Г Вітовта.

37. До укладення Люблінської унії з Польським королівством Велике князівство Литовське спонукали поразки у війні з

- А Лівонським орденом.
- Б Османською імперією.
- В Московським царством.
- Г Шведським королівством.

38. У якому місті було надруковано книгу, згадану в уривку з історичного джерела: *«Усесильною правицею Всевишнього Бога, задумом і старанням благочестивого князя Костянтина-Василя.., який звелів улаштувати дім для друкування книг, а до того ж і дім для читання дітей у своєму славному місті... І вибравши знавців божественного писання, грецької, латинської та руської мов, поставив їх навчати дітей. Із цієї причини надрукована ця книжка для першого дитячого навчання многогрішним Іоанном Федоровичем»?*
- А Острозі
 - Б Луцьку
 - В Львові
 - Г Києві

39. Про кого із зображених діячів ідеться в уривку документа: *«...уклав з Київським братством угоду, за якою ставав “старшим братом, дозорцем, довічним охоронцем і наставником” об’єднаних Лаврської та Братської шкіл»?*



40. Союзником козаків у боротьбі проти Речі Посполитої впродовж 1648–1649 рр. було
- А Кримське ханство.
 - Б Московське царство.
 - В Шведське королівство.
 - Г Молдавське князівство.

41. Пам’ятка, зображена на фото, є перлиною архітектурної спадщини
- А Львова.
 - Б Чернігова.
 - В Дрогобича.
 - Г Володимира.




42. Перша Малоросійська колегія розпочала свою діяльність за гетьмана
А І. Мазепи.
Б Д. Апостола.
В І. Самойловича.
Г І. Скоропадського.
43. Учасників соціальних виступів на Правобережній Україні у XVIII ст. називали
А конфедератами.
Б гайдамаками.
В опришками.
Г сердюками.
44. Російсько-турецька війна, яка створила передумови ліквідації Кримського ханства, тривала впродовж
А 1768–1774 рр.
Б 1787–1791 рр.
В 1806–1812 рр.
Г 1828–1829 рр.
45. Укажіть один із заходів, ужитих царською владою на українських землях з метою придушення польського повстання 1830–1831 рр.
А скасування кріпосного права
Б формування козацьких полків
В видання Валуєвського циркуляра
Г здійснення Третього поділу Речі Посполитої
46. Який програмний документ проголошував таке:
«Історичне покликання України полягає в тому, щоб зорганізувати інших слов'ян на боротьбу за національне відродження в усіх сферах економічного, соціального й духовного життя, скасувати кріпацтво, стани, повалити самодержавство. Прийде час, коли вся слов'янизна встане й “не залишиться в ній ні царя, ні царевича.., ні князя, ні графа, ні герцога.., ні пана, ні боярина, ні холопа...”»?
А «Історія русів»
Б «Руська правда»
В «Самостійна Україна»
Г «Книга буття українського народу»
47. Маркіян Шашкевич був натхненником, організатором і лідером
А «Руської трійці».
Б товариства «Просвіта».
В «Собору руських учених».
Г освітнього товариства греко-католицьких священиків.

Розгляньте картосхему та виконайте завдання 48–50.



48. Бурхливий промисловий розвиток регіону, позначеного на картосхемі штрихуванням, відбувався
- А в середині XVIII ст.
 - Б наприкінці XVIII ст.
 - В на початку XIX ст.
 - Г в другій половині XIX ст.
49. Які галузі промисловості були розвиненими в регіоні?
- А харчова та легка
 - Б вугледобувна й металургійна
 - В лісопереробна й металообробна
 - Г нафтодобувна й хімічна
50. Основний обсяг інвестицій у регіон становили
- А іноземні капітали.
 - Б державні субсидії.
 - В дрібні приватні пожертви.
 - Г ресурси українських купців і землевласників.
51. Українські недільні школи в Російській імперії було закрито в
- А 1839 р.
 - Б 1863 р.
 - В 1876 р.
 - Г 1881 р.
52. Радикали Галичини ініціювали створення
- А Головної руської ради.
 - Б товариства «Просвіта».
 - В першої української політичної партії.
 - Г Галицько-руської матиці.

53. Укажіть спільну ознаку картин, репродукції яких наведено.



- А Обидві картини створені українськими живописцями.
- Б Обидва портрети належать до мистецької течії імпресіонізму.
- В На обох картинах зображено портрети українських поетес.
- Г Обидва полотна належать пензлю одного художника.

У завданнях 54–56 до кожного з чотирьох рядків інформації, позначених цифрами, доберіть один правильний, на Вашу думку, варіант, позначений буквою. Поставте позначки в таблицях відповідей до завдань у *бланку А* на перетині відповідних рядків (цифри) і колонок (букви). Усі інші види Вашого запису в *бланку А* комп'ютерна програма реєструватиме як помилки!

Будьте особливо уважні під час заповнення *бланка А*!
Не погіршуйте власноручно свого результату неправильною формою запису відповідей

54. Увідповідніть місто із зафіксованою в літописі подією в історії Київської держави (Русі-України).

- | | |
|--|--|
| <ul style="list-style-type: none"> 1 Іскоростень 2 Царгород (Константинополь) 3 Любеч 4 Корсунь (Херсонес) | <ul style="list-style-type: none"> А хрещення князя Володимира Великого Б проведення з'їзду князів В хрещення княгині Ольги Г загибель князя Ігоря Д укладення «Руської правди» |
|--|--|

| | А | Б | В | Г | Д |
|---|---|---|---|---|---|
| 1 | | | | | |
| 2 | | | | | |
| 3 | | | | | |
| 4 | | | | | |

55. У відповідність зовнішньополітичне завдання гетьмана Б. Хмельницького та захід для його виконання.

- | | | | |
|---|---|---|--|
| 1 | вирішення проблеми браку кінноти у власному війську | А | здійснення Молдавських походів |
| 2 | легітимізація влади Б. Хмельницького, започаткування власної династії | Б | укладення угоди про військовий союз із Трансільванським князівством і Шведським королівством |
| 3 | пошук нових союзників після укладення Віленського московсько-польського перемир'я | В | укладення воєнно-політичного союзу з Кримським ханством |
| 4 | спроба досягнення компромісу з Річчю Посполитою | Г | листування з лорд-протектором Англії, Шотландії та Ірландії О. Кромвелем |
| | | Д | підписання Зборівського договору |

| | А | Б | В | Г | Д |
|---|---|---|---|---|---|
| 1 | | | | | |
| 2 | | | | | |
| 3 | | | | | |
| 4 | | | | | |

56. У відповідність назву видання та ім'я діяча, причетного до його створення.

- | | | | |
|---|-----------|---|------------------|
| 1 | «Громада» | А | П. Куліш |
| 2 | «Основа» | Б | М. Драгоманов |
| 3 | «Кобзар» | В | Т. Шевченко |
| 4 | «Енеїда» | Г | І. Котляревський |
| | | Д | Я. Головацький |

| | А | Б | В | Г | Д |
|---|---|---|---|---|---|
| 1 | | | | | |
| 2 | | | | | |
| 3 | | | | | |
| 4 | | | | | |

У завданнях 57 і 58 розташуйте події в хронологічній послідовності. Поставте позначки в таблицях відповідей до завдань у *бланку А* на перетині відповідних рядків (цифри) і колонок (букви). Цифрі 1 має відповідати вибрана Вами перша подія, цифрі 2 – друга, цифрі 3 – третя, цифрі 4 – четверта. Усі інші види Вашого запису в *бланку А* комп'ютерна програма реєструватиме як помилки!

Будьте особливо уважні під час заповнення *бланка А*!

Не погіршуйте власноручно свого результату неправильною формою запису відповідей

57. Установіть послідовність правління князів Галицько-Волинської держави.

- А Данило Галицький
 Б Юрій I Львович
 В Роман Мстиславич
 Г Юрій II Болеслав

| | А | Б | В | Г |
|---|---|---|---|---|
| 1 | | | | |
| 2 | | | | |
| 3 | | | | |
| 4 | | | | |

58. Установіть послідовність подій, описаних в уривках з історичних джерел.

- А** «...імператор і самодержець всеросійський..., жалуючи підданих своїх – малоросійський народ, видав указ: при гетьмані пану Скоропадському в Глухові... для кращої вірності й управління бути колегії...»
- Б** «Ми стоїмо тепер, Братіє, між двома проваллями... І ми тепер уважати маємо шведів за своїх приятелів, союзників, добродіїв, і немов би од Бога посланих, щоб увільнити нас од рабства та зневаги й поновити на найвищому ступені свободи...»
- В** «Після всемилостивішого від нас звільнення графа Розумовського... із чину гетьманського вказуємо нашому Сенатові для належного керування в Малій Росії утворити там Малоросійську колегію...»
- Г** «...Отож ми, генеральна старшина, кошовий отаман і все Військо Запорозьке домовилися й постановили з ясновельможним гетьманом таке право, яке має бути збережено постійно в Запорозькому Війську: щоб у Вітчизні нашій першими радниками була генеральна старшина...»

| | А | Б | В | Г |
|---|---|---|---|---|
| 1 | | | | |
| 2 | | | | |
| 3 | | | | |
| 4 | | | | |

Завдання 59 і 60 мають по сім варіантів відповідей, серед яких лише три правильні. Виберіть три цифри, що позначають правильні, на Вашу думку, відповіді, та запишіть їх у бланку А згідно з інструкцією. Порядок написання цифр значення не має. Для виправлення помилково вказаної відповіді запишіть новий варіант відповіді (три цифри) у спеціально відведеному місці бланка А. Не робіть інших записів у бланку А, тому що комп'ютерна програма реєструватиме їх як помилки!

Будьте особливо уважні під час заповнення бланка А!

Не погіршуйте власноручно свого результату неправильною формою запису відповідей

59. Проаналізуйте зображену картосхему.



Картосхема дає змогу

- 1 визначити межі Київської держави (Русі-України) в середині X ст.
- 2 показати місце спорудження системи укріплень, зведених для захисту від кочовиків.
- 3 визначити межі проживання кочовиків, які становили найбільшу загрозу для східних слов'ян у VIII–X ст.
- 4 визначити межі удільних князівств періоду роздробленості Київської держави (Русі-України).
- 5 указати напрямки походів київських князів Олега та Ігоря.
- 6 указати території, приєднані до Київської держави (Русі-України) за часів князювання Ярослава Мудрого.
- 7 указати напрямки походів військ Святослава проти Хозарського каганату.

60. Хто з указаних діячів військово-дипломатичними методами намагався протистояти ліквідації автономних прав Гетьманщини?

- 1 І. Мазепа
- 2 П. Калнишевський
- 3 К. Розумовський
- 4 Ф. Прокопович
- 5 С. Палій
- 6 П. Орлик
- 7 К. Гордієнко

Ви завершили роботу над завданнями частини 2.
Перевірте правильність перенесення своїх відповідей у *бланк А*.
Якщо час, відведений на виконання завдань частин 1 і 2, сплив,
здайте *бланк А* інструктору

Кінець зошита