



Відповідає змісту
оновлених навчальних програм
для 5–9 класів

Geneza

459214

ДЕРЖАВНА ПІДСУМКОВА АТЕСТАЦІЯ

В.С. ВЛАСОВ

9 ЗБІРНИК ЗАВДАНЬ

ДЛЯ ПІДСУМКОВИХ
КОНТРОЛЬНИХ
РОБІТ

2018 ІСТОРІЯ УКРАЇНИ

Усі ДПА лише на erudyt.net

Варіант 1

Завдання 1–16 мають чотири варіанти відповідей, серед яких лише один правильний. Виберіть правильний варіант відповіді.

1. Доповніть твердження

Найдавніші свідчення перебування пралюдей (близько 1 млн років тому) на території України виявлено в...

- А Королево на Закарпатті
- Б Киїк-Кобі в Криму
- В Мізині на Чернігівщині
- Г Межиріч на Черкащині

А Б В Г

--	--	--	--

2. У чому особливості давньогрецької колонізації Північного Причорномор'я та Криму?

- А використання грецькими колоніями монет, карбованих у материковій Греції
- Б створення єдиної держави давніх греків на наших теренах
- В найважливішою галуззю сільського господарства були зернове виробництво та вирощування оливок
- Г наслідування колоніями суспільного та культурного життя материкової Греції

А Б В Г

--	--	--	--

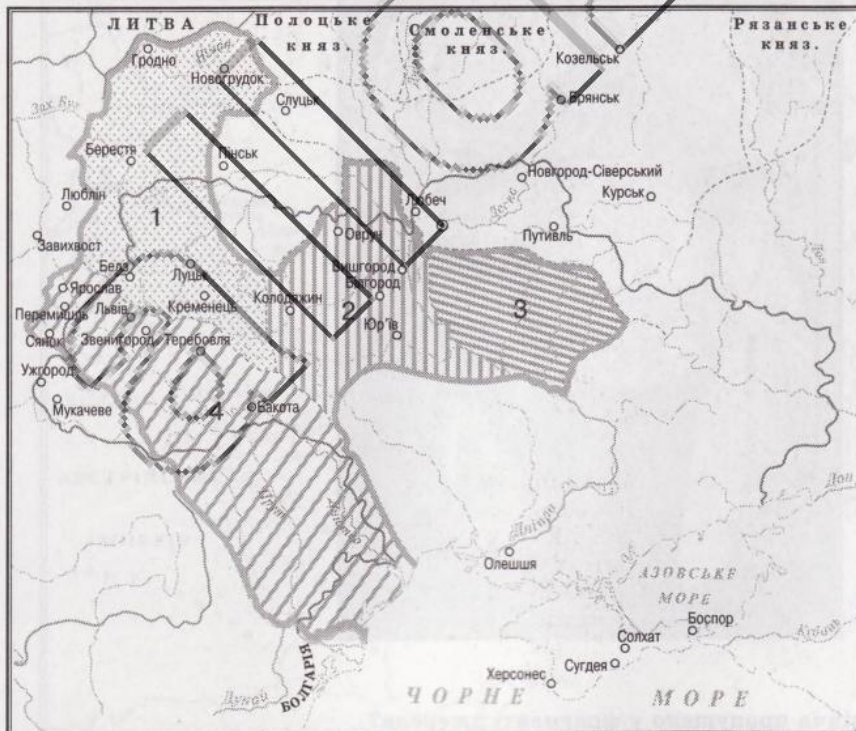
3. У якому рядку правильно перелічено східнослов'янські племена – предки українців?

- А хорвати, сіверяни, поляни, волиняни, радимичі, словени, дуліби
- Б поляни, волиняни, уличі, тиверці, хорвати, деревляни, сіверяни
- В деревляни, сіверяни, дреговичі, уличі, тиверці, в'ятичі, поляни
- Г сіверяни, поляни, дреговичі, словени, тиверці, в'ятичі, волиняни

А Б В Г

--	--	--	--

4. Якими цифрами позначено князівства, що їх об'єднав під своєю владою Роман Мстиславович у 1199 р.?



- А 1, 3
- Б 1, 4
- В 2, 3
- Г 2, 4

А Б В Г

--	--	--	--

5. У якому рядку всі слова можна використати в розповіді про розвиток освіти та поширення писемності в галицьких та волинських землях?

- А школи при церквах та монастирях, «Повчання дітям» Володимира Мономаха
- Б берестяні грамоти зі Звенигорода, скрипторій Володимира Васильковича
- В бронзові писала з Галича та Белза, графіті Софійського собору в Києві
- Г воскові таблички з Перемишля та Острога, Остромирове євангеліє

А	Б	В	Г
<input type="checkbox"/>	<input type="checkbox"/>	<input type="checkbox"/>	<input type="checkbox"/>

6. Терміни українські князі – пани – шляхта-зем'яни доречні в розповіді про

- А виникнення нових верств суспільства у першій половині 16 ст.
- Б структуру панівного стану в другій половині 15 – 16 ст.
- В створення братських шкіл та діяльність православних братств наприкінці 16 ст.
- Г підготовку до об'єднання православної та католицької церков

А	Б	В	Г
<input type="checkbox"/>	<input type="checkbox"/>	<input type="checkbox"/>	<input type="checkbox"/>

7. Де відбувся перший бій між повстанцями й польським військом під час Національно-визвольної війни?

- А на Жовтих Водах
- Б під Пилявцями
- В під Батогом
- Г під Берестечком

А	Б	В	Г
<input type="checkbox"/>	<input type="checkbox"/>	<input type="checkbox"/>	<input type="checkbox"/>

8. Якого гетьмана зображено на наведеній іконі?

- А Б. Хмельницького
- Б І. Виговського
- В Ю. Хмельницького
- Г П. Тетерю

А	Б	В	Г
<input type="checkbox"/>	<input type="checkbox"/>	<input type="checkbox"/>	<input type="checkbox"/>



9. Ім'я якого історичного діяча пропущено у фрагменті джерела?

«Я не можу приховати від пана, що ми тільки-но отримали з України радісну вість, згідно з якою _____ кілька разів у щенні розгромив московитів»

взяв

Усі ДПА лише на erudyt.net

у полон багато значних князів. Був він при цьому у великій небезпеці, бо під ним було гарматним ядром вбито коня. Як тільки дійшла достовірна звістка про ці події, вона викликала тут велику радість і в усіх церквах співали «Тебе, Боже, хвалимо...»».

- А полковника І. Богуна
Б кошового гетьмана І. Сірка

- В гетьмана Ю. Хмельницького
Г гетьмана І. Виговського

А	Б	В	Г

10. Про які українські землі в 70–80-х роках 17 ст. ідеться в уривку зі спогадів французького мемуариста Франсуа-Поля Далерака?

«Нині цей край зруйнований, а війна, ніби гангрена, яка все пожирає, обернула найродючішу частину Європи на спорожнілі поля, зарослі бур'яном руїни, на покинуті жителями міста. Отак нині від тієї України залишилося тільки ім'я козацьке. Її населення розпорошилося, переселившись або понад береги Дніпра, або на землі, що залишаються під пануванням Москви. Решту вирубали турки або забрали в неволю татари...».

- А Лівобережну Україну
Б Правобережну Україну

- В Слобідську Україну
Г Запоріжжя

А	Б	В	Г

11. Яке твердження стосується П. Калнишевського?

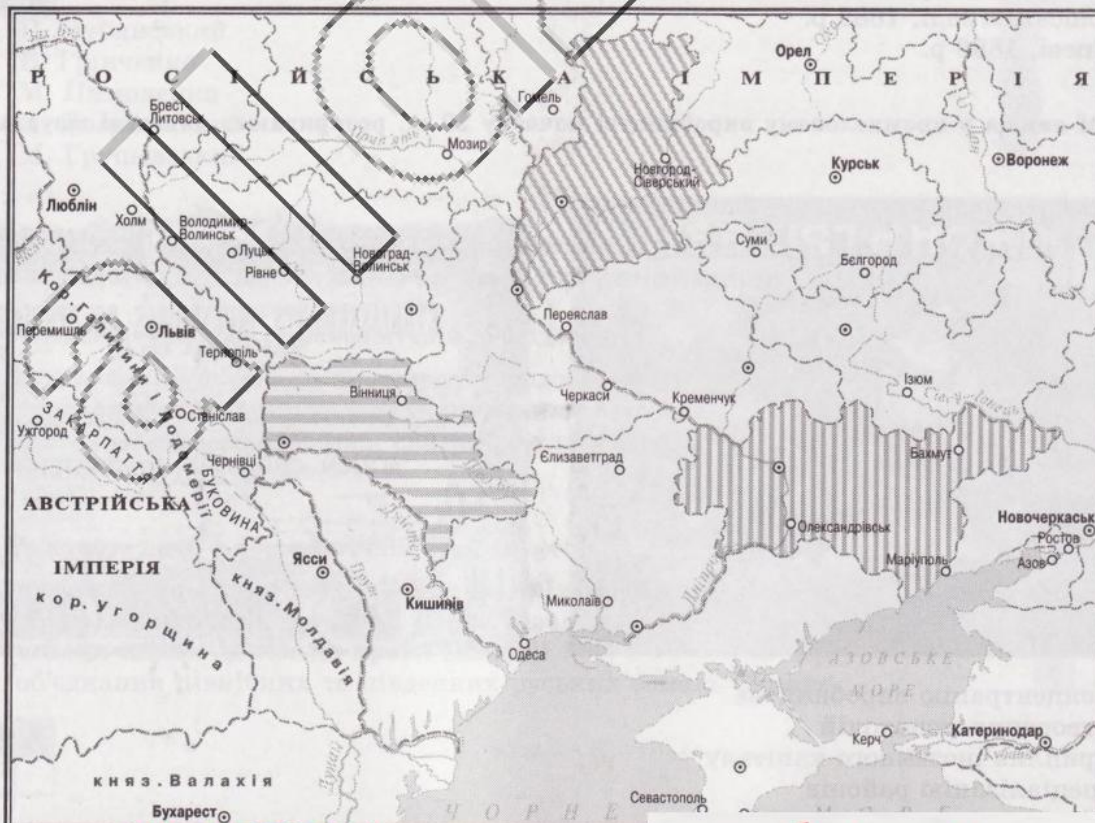
- А протягом 1764–1794 рр. перебував в Україні на посадах генерал-губернатора та президента Малоросійської колегії
Б за участь у російсько-турецькій війні 1768–1774 рр. отримав військове звання генерал-фельдмаршала та почесне прізвище «Задунайський»
В було заслано до Соловецького монастиря, де перебував ув'язненим до 1801 р.
Г останні роки свого життя провів разом з колишніми запорожцями на Задунайській Січі

А	Б	В	Г

12. Території яких губерній підросійської України заштриховані на карті?

- А Київської, Чернігівської, Харківської
Б Катеринославської, Чернігівської, Подільської
В Волинської, Катеринославської, Подільської
Г Чернігівської, Подільської, Таврійської

А	Б	В	Г



13. Про роботу вперше обраного загальноімперського австрійського парламенту (рейхстагу) відома, що

- А від Галичини з 383 депутатів парламенту було обрано лише 5 українців
- Б промова І. Капуцака із с. Ляхівці з вимогою скасування панщини без виплати викупу поміщикам мала неабиякий резонанс
- В у серпні 1848 р. рейхстаг схвалив постанову про звільнення селян від кріпосної залежності без викупу
- Г повноваження парламенту істотно розширилися за нової конституції, яку в березні 1849 р. оприлюднив імператор Австрії Франц-Йосиф I Габсбург

А	Б	В	Г
<input type="checkbox"/>	<input type="checkbox"/>	<input type="checkbox"/>	<input type="checkbox"/>

14. Доповніть твердження

Емський указ 1876 р. російського імператора Олександра II забороняв...

- 1 видавати українською мовою оригінальні твори і робити переклади з іноземних мов, тексти для нот, театральні вистави й публічні читання
- 2 завозити на територію Російської імперії з-за кордону книжки, написані українською мовою
- 3 видавати українською мовою історичні літературні пам'ятки та художні твори, навіть за умови їх написання згідно із загальноросійською орфографією
- 4 видавати в підросійській Україні книжки церковнослов'янською та російською мовами для навчання грамоти
- 5 уживати принизливі та образливі характеристики за ознакою національної належності на теренах Російської імперії

- А 1, 2
- Б 1, 4
- В 2, 5
- Г 3, 4

А	Б	В	Г
<input type="checkbox"/>	<input type="checkbox"/>	<input type="checkbox"/>	<input type="checkbox"/>

15. У якому місті і коли Ілля Мечников та Микола Гамалія створили першу вітчизняну бактеріологічну станцію, що успішно застосовувала запобіжні вакцини та сироватки для лікування інфекційних хвороб?

- А Одесі, 1886 р.
- Б Львові, 1898 р.
- В Єлисаветграді, 1882 р.
- Г Києві, 1888 р.

А	Б	В	Г
<input type="checkbox"/>	<input type="checkbox"/>	<input type="checkbox"/>	<input type="checkbox"/>

16. Які явища у промисловому виробництві початку 20 ст. розкривають наведені візуальні джерела?



- А концентрацію виробництва
- Б утворення монополій
- В приплив іноземного капіталу
- Г спеціалізацію районів

А	Б	В	Г
<input type="checkbox"/>	<input type="checkbox"/>	<input type="checkbox"/>	<input type="checkbox"/>

Усі ДПА лише на erudyt.net

У завданнях 17–18 до кожного із чотирьох рядків інформації, позначених цифрами, доберіть один правильний варіант, позначений буквою. Поставте позначки в таблиці на перетині відповідних рядків (цифри) і колонок (букви).

17. Установіть відповідність між твердженнями, що характеризують князів Київської Русі, та їхніми іменами

- 1 був останнім київським князем, під владою якого перебувала більша частина Київської Русі, після його смерті Київська держава остаточно розпалася на окремі незалежні князівства
- 2 домігся зміни ставлення духовенства до себе, надавши Печерському монастиреві кошти для будівництва Успенського собору
- 3 був високоосвіченою людиною, знав п'ять іноземних мов, одружився з дочкою візантійського імператора Константина Мономаха
- 4 перший раз був вигнаний з київського столу під час повстання киян, спричиненого поразкою Ярославичів від половців на р. Альта

- А Ізяслав Ярославич
- Б Святослав Ярославич
- В Всеволод Ярославич
- Г Володимир Мономах
- Д Мстислав Володимирович

	А	Б	В	Г	Д
1					
2					
3					
4					

18. Установіть відповідність між стислими характеристиками та іменами діячів культури і науки другої половини 19 – початку 20 ст.

- 1 художник-реаліст, майстер побутового жанру на селянську тематику («Сінокіс», «Весілля в Київській губернії», «Ворожіння»)
- 2 дослідник української етнографії та фольклористики, у 1869–1870 рр. очолював етнографічно-статистичні експедиції з вивчення України. Автор вірша «Ще не вмерла України...»
- 3 історик та археолог, дослідник історії запорізького козацтва, три десятиліття очолював Катеринославський історико-краєзнавчий музей
- 4 один з фундаторів Братства тарасівців. Автор фундаментальних наукових праць, перших підручників з української мови й літератури, зокрема «Рідного слова» – книжки для читання в школі

- А П. Чубинський
- Б Б. Грінченко
- В М. Пимоненко
- Г Д. Яворницький
- Д М. Грушевський

	А	Б	В	Г	Д
1					
2					
3					
4					

У завданнях 19–20 розташуйте події у хронологічній послідовності. Поставте позначки в таблиці відповідей на перетині відповідних рядків (цифри) і колонок (букви).

19. Розташуйте явища у хронологічній послідовності

- А формування окремого прошарку – родової знаті
- Б удосконалення зварядь праці, зростання врожаїв
- В виникнення землеробства, скотарства та ремесла
- Г поява майнової нерівності

	А	Б	В	Г
1				
2				
3				
4				



20. Розставте події у хронологічній послідовності

- А утвердження Ігоря Рюриковича на київському столі
- Б невдалий похід князя Ігоря проти Візантії
- В походи князя Аскольда проти Візантії
- Г об'єднання північних та південних руських земель Олегом

	А	Б	В	Г
1				
2				
3				
4				

У завданнях 21–22, які мають сім варіантів відповідей, оберіть три правильні відповіді й запишіть їх номери у клітинки.

21. Які з храмів споруджено за часів Київської Русі?



22. Які програмні вимоги мала українська громада в I Державній думі?

- 1 упровадження української мови в навчальних закладах, судових та місцевих адміністративних органах
- 2 зрівняння греко-католицького духовенства в правах з представниками інших віросповідань
- 3 об'єднання всіх українських земель у межах Російської імперії
- 4 політична автономія для України в її етнічних межах
- 5 призначення на урядові посади у Східній Галичині лише тих чиновників, які володіють українською мовою
- 6 розв'язання аграрного питання
- 7 створення самостійної Української держави з конституційно-монархічною формою правління

Варіант 2

Завдання 1–16 мають чотири варіанти відповідей, серед яких лише один правильний. Виберіть правильний варіант відповіді.

1. Стоянка в Кйік-Кобі, розташована в Криму, відома тим, що саме там знайдено

- А найдавніші знаряддя праці людиноподібної істоти на теренах України
- Б кістки найдавнішої людиноподібної істоти на території України
- В рештки більш ніж 100 мамонтів, а також багатьох інших тварин
- Г жіночі статуетки та браслети з мамонтових кісток

А Б В Г

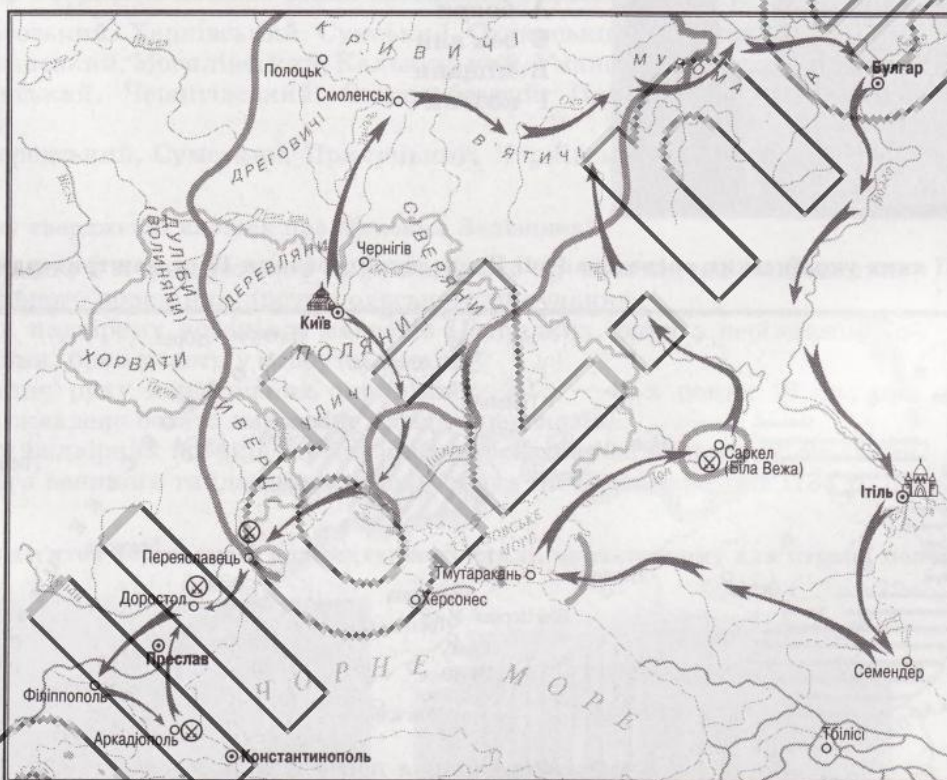
--	--	--	--

2. Який великий князь київський здійснив воєнні походи, позначені на карті?

- А Святослав Ігорович
- Б Володимир Святославович
- В Ярослав Мудрий
- Г Володимир Мономах

А Б В Г

--	--	--	--



3. Завершіть твердження

Любецький з'їзд князів 1097 р. ...

- А припинив міжкнязівські усобиці
- Б схвалив принцип князівської вотчини
- В визнав Київ вотчиною нащадків Святослава Ярославича
- Г поклав край половецьким набігам на Русь

А Б В Г

--	--	--	--

4. Доповніть твердження

Битва під Ярославом на Сяні 1245 р. поклала край...

- А зазіханням німецьких лицарів-хрестоносців на галицько-волинські землі
- Б прагненню Данила Романовича отримати королівську корону
- В міжкнязівським усобицям за Галичину та боярській опозиції

Усі ДПА лише на erudyt.net

Г золотоординському пануванню на українських землях

А Б В Г



5. У якій іконописній майстерні було створено зображену пам'ятку?

- А Києво-Печерського монастиря
- Б Софійського собору в Києві
- В Успенського собору в Галичі
- Г Успенського собору у Володимирі

А Б В Г

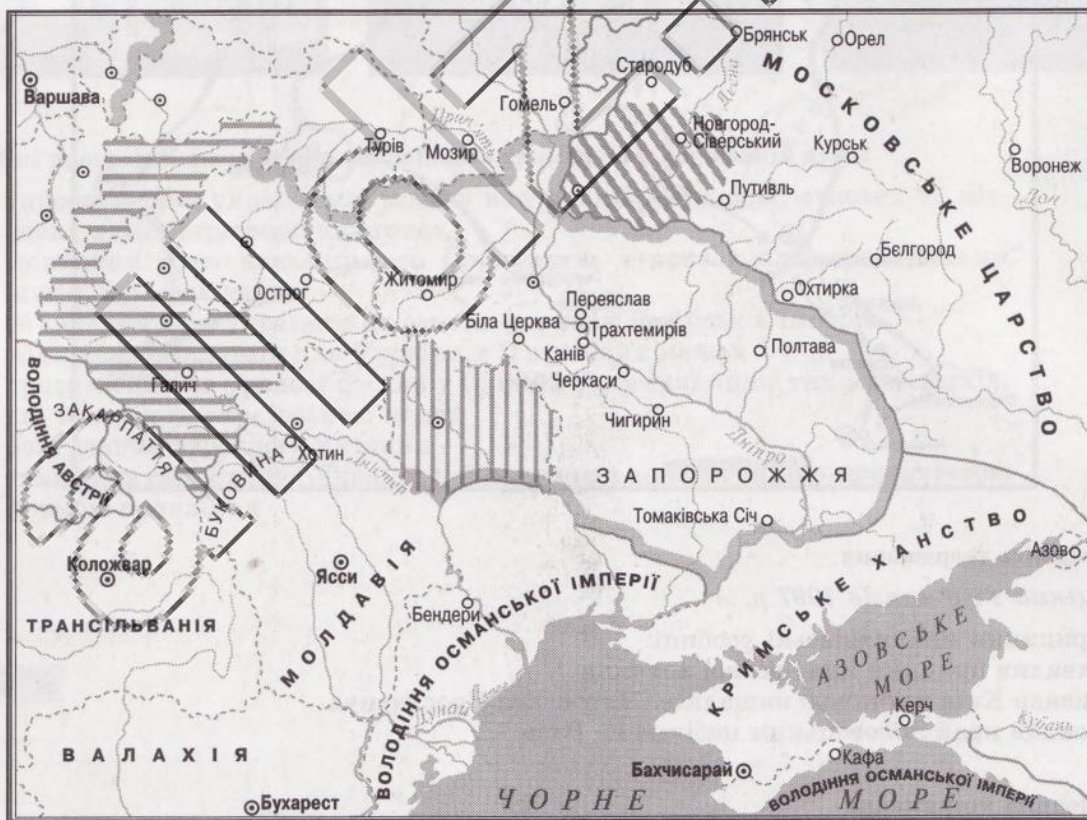
6. Назву якої верстви пропущено в джерелі?

Польський дипломат та історик Самуїл Грондський писав: «Ті з русинського (українського) народу, які... не хотіли тягнути ярмо й терпіти владу місцевих панів, ішли в далекі краї, тоді ще не заселені, і набували собі право на волю... закладали нові поселення і, щоб відрізнитись від підданих, залежних від панів, стали називати себе _____».

- А бояри
- Б зем'яни
- В міщани
- Г козаки

А Б В Г

7. Території яких українських воєводств Речі Посполитої середини 17 ст. заштриховано на карті?



- А Подільського, Чернігівського, Руського
- Б Київського, Брацлавського, Руського
- В Чернігівського, Руського, Брацлавського
- Г Київського, Волинського, Чернігівського

А Б В Г

Усі ДПА лише на erudyt.net

8. Про яку битву йдеться у фрагменті джерела?

«1 травня... в 16 день зранку в гетьмана Миколая Потоцького... з татарами і з козаками був бій. І татари, ...і козаки навмисно, поманивши невеликими людьми, стали нібито від тих ратних польських людей втікати, а... гетьман Потоцький зі своїм військом кинувся за ними... І гетьмана... і польських ратних людей... у тих тісних місцях з ровів спішно всіх побили і в полон побрали».

- А Пилявецьку
Б Корсунську
В Жовтоводську
Г Берестецьку

А	Б	В	Г

9. Доповніть твердження

Полтавський полковник Мартин Пушкар та запорізький отаман Яків Барабаш

- А готували разом з Ю. Немиричем Гадяцькі пункти 1658 р.
Б очолили антиурядовий заколот 1658 р., підтриманий Московією
В претендували на гетьманство після зречення І. Виговського 1659 р.
Г керували передовими загонами козаків під час Конотопської битви 1659 р.

А	Б	В	Г

10. У якому з варіантів названо полки Слобідської України?

- А Острогозький, Харківський, Сумський, Охтирський, Ізюмський
Б Брацлавський, Могилівський, Кальницький, Уманський, Білоцерківський
В Ніжинський, Чернігівський, Стародубський, Полтавський, Переяславський
Г Миргородський, Сумський, Прилуцький, Харківський, Лубенський

А	Б	В	Г

11. У якому твердженні йдеться про Максима Залізняка?

- А полковник, а згодом гетьман гайдамацького війська під час національно-визвольного повстання проти польського панування
Б сотник надвірних козаків у магнатів Потоцьких, один з керівників Коліївщини, брав участь у здобутті Умані
В керманіч руху карпатських опришків у 30-х – 40-х роках 18 ст.; про нього складено багато народних пісень і переказів
Г сотник надвірних козаків князів Любомирських у м. Шаргород, очільник першого великого гайдамацького повстання на Правобережжі 1734 р.

А	Б	В	Г

12. Яка з пам'яток збудована в архітектурному стилі, характерному для першої половини 19 ст.?



А	Б	В	Г

13. Ім'я якого діяча пропущено в уривку з історичного джерела?

«Президент рейхстагу повідомив пана міністра внутрішніх справ, що рейхстаг на своєму засіданні (у лютому 1849 р.) ухвалив таке рішення: "Вважати депутата _____ з виборчої округи Вижниця на Буковині виключеним зі складу рейхстагу й уповноважити президента рейхстагу дати розпорядження про проведення нових виборів"».

- А І. Вагилевича
Б Ю. Бачинського
В Л. Кобилицю
Г У. Кармелюка

А	Б	В	Г

14. Для промислового розвитку західноукраїнських земель у другій половині 19 ст. було характерним

- 1 завершення промислового перевороту в 70-х роках 19 ст.
- 2 домінування залізорудної та машинобудівної промисловості
- 3 виробництво й первинна обробка сировини
- 4 зростання видобутку нафти
- 5 володіння промисловими підприємствами українськими капіталістами

- А 1, 3
Б 2, 4
В 3, 4
Г 3, 5

А	Б	В	Г

15. Доповніть твердження

М. Кропивницький...

- А написав перший драматичний твір в українській літературі
Б поставив першу оперу «Запорожець за Дунаєм»
В створив першу професійну театральну трупу
Г видав першу збірку українських народних пісень

А	Б	В	Г

16. З програми якої української партії початку 20 ст. наведено уривок?

«Партія домагається:

1. Демократичної республіки... 2. Автономії України з окремим представничим зібранням (соймом)... 6. Права кожної нації на культурне й політичне самовизначення... 8. Необмеженої волі слова, друку, совісті, зібраннів, спілок і страйків... 11. Внищення всяких привілеїв класів, сословій, походження, полувіри й націй... 12. Рівноправності всіх мов у школах, судах, місцевих громадських і урядових установах. 16. Безплатного обов'язкового світського, загального й фахового навчання для всіх дітей до 16 років. Харчів, одягу і підручників безплатно для дітей бідних. Передачі всієї народної освіти на Україні до завідування Українського Союму».

- А Русько-української радикальної партії (РУРП)
Б Української національно-демократичної партії (УНДП)
В Української соціал-демократичної робітничої партії (УСДРП)
Г Української народної партії (УНП)

А	Б	В	Г

У завданнях 17–18 до кожного із чотирьох рядків інформації, позначених цифрами, доберіть один правильний варіант, позначений буквою. Поставте позначки в таблиці на перетині відповідних рядків (цифри) і колонок (букви).

17. Установіть відповідність між битвами та інформацією, що їх стосується

- 1 битва на Синіх Водах
2 битва під Вількомиром
3 битва під Могачем
4 битва під Оршею

- А литовсько-польське військо завдало поразки лицарям Тевтонського ордену
Б поділ Закарпаття між князівством Трансільванією і Священною Римською імперією
В поразка князя Свидригайла та його союзників, кінець Великого князівства Руського
Г утвердження влади литовського князя Ольгерда Гедиміновича на більшості українських земель
Д поразка військ Великого князівства Московського під час чергової московсько-литовської війни

	А	Б	В	Г	Д
1					
2					
3					

18. Установіть відповідність між стислими характеристиками та іменами діячів культури і науки другої половини 19 – початку 20 ст.

- 1 учений-мовознавець і сходознавець. Поліглот (вільно володів майже 60 мовами). Його наукові праці – помітний внесок у дослідження проблеми походження й розвитку української мови
- 2 художник, який створив близько 3500 картин і замальовок природи України, її історичного минулого, народного побуту
- 3 композитор, основоположник української класичної музики. Його творчий доробок становить близько 600 пісень; поклав на музику майже 100 творів Шевченка
- 4 письменник, драматург, автор п'єс «Мартин Боруля», «Сто тисяч», «Хазяїн»

- | | |
|-----------------------|---------------------|
| А М. Аркас | Г С. Васильківський |
| Б М. Лисенко | Д А. Кримський |
| В Іван Карпенко-Карий | |

	А	Б	В	Г	Д
1					
2					
3					
4					

У завданнях 19–20 розташуйте події у хронологічній послідовності. Поставте позначки в таблиці відповідей на перетині відповідних рядків (цифри) і колонок (букви).

19. Установіть хронологічну послідовність подій

- | | |
|--|--|
| А православний та уніатський собори в Бересті | |
| Б створення Пересопницького євангелія | |
| В заснування Львівського братства та братської школи | |
| Г видання перших друкованих книжок І. Федоровим у Львові | |

	А	Б	В	Г
1				
2				
3				
4				

20. Установіть хронологічну послідовність подій

- | | |
|------------------------------|--------------------|
| А вибори до І Державної думи | В «справа Бейліса» |
| Б створення ТУП | Г створення РУП |

	А	Б	В	Г
1				
2				
3				
4				

У завданнях 21–22, які мають сім варіантів відповідей, оберіть три правильні відповіді й запишіть їх номери у клітинки.

21. Доповніть твердження

Про Петра Могилу відомо, що він...

- 1 перший митрополит православної ієрархії, яку легалізував польський уряд
- 2 засновник друкарні Києво-Печерського монастиря, яка стала центром книговидавництва
- 3 автор книги «Тератургіма» про Києво-Печерський монастир
- 4 об'єднав ченців в один орден – василіанський, який опікувався просвітницькою діяльністю
- 5 засновник Лаврської школи, яку незабаром об'єднав з Братською школою
- 6 упорядкував і надрукував звід церковних служб і виклад порядку проведення треб-молитов та обрядів
- 7 організатор та редактор Острозької біблії

--	--	--

22. Укажіть твердження, які характеризують здобутки новоєрівської політики народоців

- 1 запровадження в буковинських та галицьких освітніх установах українського фонетичного правопису
- 2 проведення першого з'їзду діячів української культури, науки та освіти
- 3 відкриття у Львівському університеті кафедри української мови і літератури
- 4 видання першої у Львові газети українською мовою – «Зорі Галицької»
- 5 перетворення Літературного товариства ім. Т.Г. Шевченка на наукове та розширення завдяки державним субсидіям його діяльності
- 6 поява низки урядових розпоряджень про підтвердження прав або розширення вжитку української мови в державних установах
- 7 створення мереж фізкультурно-спортивних тог

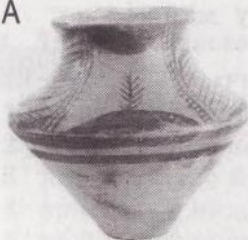
--	--	--

Варіант 3

Завдання 1–16 мають чотири варіанти відповідей, серед яких лише один правильний. Виберіть правильний варіант відповіді.

1. Яку із зображених пам'яток було знайдено на місці Мізинської стоянки?

А



Б



В



Г



А	Б	В	Г
<input type="checkbox"/>	<input type="checkbox"/>	<input type="checkbox"/>	<input type="checkbox"/>

2. Доповніть твердження

З Любецьким з'їздом князів, ініційованим Святополком Ізяславичем і Володимиром Мономахом, пов'язують...

- 1 канонізацію братів Ярослава Мудрого – Бориса та Гліба
- 2 початок боротьби за київський стіл між Ярославичами
- 3 схвалення принципу спадкового володіння уділами за різними гілками Рюриковичів
- 4 схвалення «Правди Ярославичів» – доповнення до «Руської правди»
- 5 проголошення єднання князів перед загрозою половецьких нападів

- А 1, 2
Б 2, 4
В 3, 5
Г 4, 5

А	Б	В	Г
<input type="checkbox"/>	<input type="checkbox"/>	<input type="checkbox"/>	<input type="checkbox"/>

3. У якому рядку всі слова стосуються Юрія І Львовича?

- А титул короля Русі, Галицька митрополія, втрата Люблінської землі
Б столиця – Львів, союз із Тевтонським орденом, останній з Романовичів
В онук Данила, приєднання частини Закарпаття, подорож в Орду
Г походи з ординцями, битва на Калці, спорудження Луцького замку

А	Б	В	Г
<input type="checkbox"/>	<input type="checkbox"/>	<input type="checkbox"/>	<input type="checkbox"/>

4. У якому рядку всі словосполучення можуть бути застосовані для характеристики суспільно-політичного становища українських земель у складі Великого князівства Литовського в 60–70-х роках 14 ст.?

- А систематичні князівські сієми, 90 % населення – русини, олігархічне правління бояр
Б правління литовської династії Гедиміновичів, поїздки в Орду за ярликом на право князування
В федерація земель князівств, поширення руської віри, традиційний суспільно-політичний устрій
Г створення удільних князівств, використання руської мови, скликання народних вічових зборів

А	Б	В	Г
<input type="checkbox"/>	<input type="checkbox"/>	<input type="checkbox"/>	<input type="checkbox"/>

5. Життя запорізьких козаків у Січах-фортецях вирізнялося тим, що

- А вони мешкали в куренях зі своїми рідними – батьками, дружинами та дітьми
Б січовиком можна було стати лише за умови визнання православ'я або добровільного навернення до нього
В стосунки між січовиками визначалися рівнем їхньої заможності та належністю до знатних шляхетських родин
Г там постійно перебували 20–30 тис. вояків, які готові були за першим сигналом вирушити у воєнний похід

А	Б	В	Г
<input type="checkbox"/>	<input type="checkbox"/>	<input type="checkbox"/>	<input type="checkbox"/>

6. Доповніть твердження

Під час переговорів у Переяславі з королівським посольством на початку 1649 р. Б. Хмельницький засвідчив свої наміри у війні проти Речі Посполитої...

- А козацька Україна ввійде до Речі Посполитої на рівних правах з Польщею та Литвою
- Б створення козацької держави в межах визволених від польської влади кількох воєводств
- В створення незалежної від влади польського короля української держави
- Г козацька Україна буде присягати на вірність православному московському царю

А	Б	В	Г
<input type="checkbox"/>	<input type="checkbox"/>	<input type="checkbox"/>	<input type="checkbox"/>

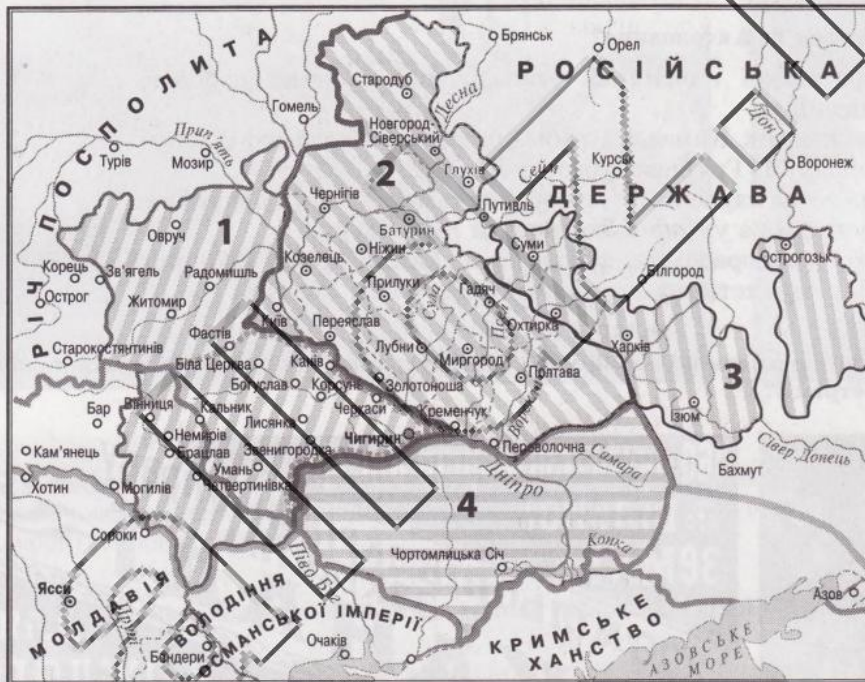
7. Доповніть твердження

Гадяцькі пункти 1658 р. були...

- А укладені таємно Польщею та Литвою, без погодження з українською стороною
- Б першим документом, що передбачав для козацької України визнання з боку Польщі як державної самостійності
- В угодою, яка повертала козацьку державу під скіпетр польського короля в оновленій федерації трьох держав
- Г без змін затверджені сеймом Речі Посполитої, що спонукало до заходів для втілення їх у життя

А	Б	В	Г
<input type="checkbox"/>	<input type="checkbox"/>	<input type="checkbox"/>	<input type="checkbox"/>

8. Якими цифрами позначено українські землі, які за «Вічним миром» закріплювалися за Росією?



- А 1, 2
- Б 2, 3
- В 3, 4
- Г 2, 4

А	Б	В	Г
<input type="checkbox"/>	<input type="checkbox"/>	<input type="checkbox"/>	<input type="checkbox"/>

9. Доповніть твердження

Козаки Задунайської Січі...

- А зверталися до царського уряду з проханням оселитися між Південним Бугом і Дністром
- Б за наказом султана брали участь у воєнних операціях турецької армії на Балканах
- В освоювали незаселені землі та захищали південні рубежі Російської імперії
- Г продовжили історію козацтва під назвою Кубанського козацького війська

А	Б	В	Г
<input type="checkbox"/>	<input type="checkbox"/>	<input type="checkbox"/>	<input type="checkbox"/>

Усі ДПА лише на erudyt.net

10. У якому твердженні йдеться про І. Григоровича-Барського?

- А працюючи у класицистичній манері, створив реалістичну школу портретного малярства
- Б перебуваючи в Італії, написав оперу «Демофонт», вистави якої відбувалися з великим успіхом
- В автор відомих збірок поезій «Сад божественних пісень» та байок «Байки харківські»
- Г збудував міський водогін з фонтаном «Феліціал» («Самсон»), Покровську церкву й церкву Миколи Набережного на Подолі в Києві

А	Б	В	Г

11. Доповніть твердження

Новоутворені Ізмаїльський, Акерманський, Хотинський повіти зі здебільшого українським населенням Бессарабської області опинились у складі Російської імперії внаслідок...

- А російсько-турецької війни 1787–1791 рр.
- Б російсько-турецької війни 1806–1812 рр.
- В російсько-французької війни 1812 р.
- Г російсько-турецької війни 1828–1829 рр.

А	Б	В	Г

12. Які міста поєднала перша залізниця в Наддніпрянській Україні?

- А Одесу та Балту
- Б Київ та Одесу
- В Одесу та Харків
- Г Катеринослав та Ромни

А	Б	В	Г

13. Які з тверджень стосуються В. Антоновича?

- А основоположник української класичної музики, чий творчий доробок складається із 600 пісень
- Б лідер та ідейний натхненник Київської громади протягом усього її існування, ініціатор переїзду М. Грушевського до Львова
- В один з фундаторів Братства тарасівців. Автор фундаментальних наукових праць, перших підручників з української мови й літератури
- Г дослідник української етнографії та фольклористики, у 1869–1870 рр. очолював етнографічно-статистичні експедиції з вивчення України

А	Б	В	Г

14. Яких явищ, що визначали становище населення західноукраїнських земель у другій половині 19 ст., стосуються подані ілюстрації?



- А зростання панщини, виконання повинностей за користування лісами та пасовищами
- Б малоземелля, нерозвинена промисловість та демографічний вибух
- В нестача робочої сили в містах, кріпацька залежність селян від поміщиків
- Г ліквідація поміщицького землеволодіння, завершення промислового перевороту


А	Б	В	Г

15. У якому рядку всі слова стосуються «справи Бейліса»?

- А Андрій Ющинський, циркуляр Столипіна, «Просвіти»
- Б «Клуб русских националистов», Дмитро Донцов, сепаратизм
- В «Кривава неділя», Петро Шмідт, часопис «Гасло»
- Г антисемітизм, чорносотенні організації, суд присяжних

А	Б	В	Г

16. Яка з картин належить пензлю С. Васильківського?



А	Б	В	Г

У завданнях 17–18 до кожного із чотирьох рядків інформації, позначених цифрами, доберіть один правильний варіант, позначений буквою. Поставте позначки в таблиці на перетині відповідних рядків (цифри) і колонок (букви).

17. Установіть відповідність між назвами періодів давньої історії та їхніми стислими характеристиками

- 1 палеоліт
- 2 мезоліт
- 3 неоліт
- 4 енеоліт

- А приручення собаки, поширення рибальства, винайдення лука й стріл
- Б поява знарядь праці з міді та каменю, зародження ковальської справи
- В використання коня для їзди верхи, застосування колісного транспорту
- Г перехід до добування їжі шляхом вирощування рослин і одомашнення тварин
- Д формування людини сучасного типу, поява релігійних вірувань та мистецтва

	А	Б	В	Г	Д
1					
2					
3					
4					

18. Установіть відповідність між свідченнями сучасників та історичними діячами, про які йдеться

- 1 «У нас у предках бояр не було, а він заводить нові порядки, а вольності наші всі одходять»
- 2 «У Криму його ім'я наводило такий страх, що орда щоденно пильнувала та була готова до бою»
- 3 «Академія вітала його як Мойсея, спасителя й визволителя народу від польського рабства»
- 4 «Хай іде до лихого, як з нами не хоче жити, а злякавшись, клобуком покриває голову»

- А Б. Хмельницький
 Б Ю. Хмельницький
 В І. Виговський
 Г І. Брюховецький
 Д І. Сірко

	А	Б	В	Г	Д
1					
2					
3					
4					

У завданнях 19–20 розташуйте події у хронологічній послідовності. Поставте позначки в таблиці відповідей на перетині відповідних рядків (цифри) і колонок (букви).

19. Установіть хронологічну послідовність подій

- А поразка військ Великого князівства Московського у битві під Оршею
 Б перша згадка про українських козаків у писемних джерелах
 В остаточна ліквідація Київського удільного князівства
 Г визнання Кримським ханством васальної залежності від Османської імперії

	А	Б	В	Г
1				
2				
3				
4				

20. Установіть послідовність утворення політичних партій в Україні

- А Українська соціал-демократична робітничка партія (УСДРП)
 Б Русько-українська радикальна партія (РУРП)
 В Українська національно-демократична партія (УНДП)
 Г Українська народна партія (УНП)

	А	Б	В	Г
1				
2				
3				
4				

У завданнях 21–22, які мають сім варіантів відповідей, оберіть три правильні відповіді й запишіть їх номери у клітинки.

21. Що було характерним для української культури другої половини 16 ст.?

- 1 створення літературних творів живою розмовною українською мовою
- 2 відсутність єзуїтських та протестантських навчальних закладів
- 3 поживлення літературного процесу завдяки полеміці навколо ідеї унії церков
- 4 вплив європейського Відродження на містобудування та архітектуру в західноукраїнських землях
- 5 поява світського портретного живопису
- 6 відсутність власних іконописних шкіл, занепад іконопису у зв'язку з появою нових жанрів живопису
- 7 будівництво архітектурних споруд у стилі українського (козацького) бароко

--	--	--

22. Укажіть характерні риси розвитку економіки підросійської України в першій половині 19 ст.

- 1 збереження кріпосницьких відносин
- 2 розвиток сільського господарства інтенсивним шляхом
- 3 за обсягом посівів перше місце посідає картопля
- 4 істотна роль чумацького промислу в розширенні торгівлі та розвитку товарно-грошових відносин
- 5 завершення промислового перевороту
- 6 зростання чисельності міського населення
- 7 ліквідація поміщицького землеволодіння


--	--	--

5. Доповніть твердження

Зображені гравюри...

- А оздоблюють перші книги І. Федорова, надруковані в Острозі
- Б ілюструють першу друковану Біблію церковнослов'янською мовою
- В започатковують нове мистецьке явище — книжкову гравюру
- Г присвячені князю Василю-Костянтину Острозькому

А	Б	В	Г



6. Який рядок містить інформацію, яка доречна в розповіді про Берестецьку битву?

- А річка Пляшівка, козацький табір, Іслам-Гірей III
- Б урочище Горохова Діброва, Максим Кривоніс, коронні гетьмани
- В річка Іква, Тугай-бей, польські хоругви
- Г річка Стрипа, Ян II Казимир, Збаразький замок

А	Б	В	Г

7. Який документ містив наведені приписи?

Розміщення військових залог передбачено в шести містах України, гетьману заборонено вести самостійну зовнішню політику, призначати та знімати генеральну старшину та полковників, а старшині самостійно, без царського дозволу переобирати гетьмана.

- А Білоцерківський договір 1651 р.
- Б Березневі статті 1654 р.
- В Переяславські статті 1659 р.
- Г Слободищенський договір 1660 р.

А	Б	В	Г

8. Чому польський уряд дозволив відновити на Правобережжі козацький устрій?

- А цього вимагали умови російсько-польського «Вічного миру»
- Б щоб убезпечити себе від набігів турецьких військ і татарських орд
- В аби згодом відродити козацьку державу на Правобережжі
- Г щоб використати козаків у війні зі шведами, яка ось-ось мала початися

А	Б	В	Г

9. У якому твердженні йдеться про І. Брюховецького?

- А український гетьман, який підписав Переяславську угоду з Московією, а трохи пізніше Слободищенський трактат з Польщею
- Б гетьман Лівобережної України, який уклав Глухівські статті з царем Олексієм. Домагався виведення московських воєвод з українських міст
- В був гетьманом Правобережної Гетьманщини. Прагнув вибороти незалежність України у спілці з Туреччиною та Кримським ханством
- Г гетьман Лівобережної Гетьманщини, який ціною поступок мав підтримку Москви. Першим з українських гетьманів поїхав до Москви «побачити пресвітлі очі государя»

А	Б	В	Г

10. У якому рядку цифри, якими позначено українські землі Речі Посполитої, відповідають рокам їхнього входження до складу інших держав?



- А 1) 1795 р. 2) 1793 р. 3) 1772 р.
- Б 1) 1772 р. 2) 1795 р. 3) 1793 р.
- В 1) 1795 р. 2) 1772 р. 3) 1775 р.
- Г 1) 1775 р. 2) 1795 р. 3) 1793 р.

А	Б	В	Г

11. Яку подію визначають як складову російського суспільно-політичного руху в Наддніпрянщині в першій половині 19 ст.?

- А створення в Одесі Товариства історії та старожитностей російських
- Б утворення в Тульчині таємного «Південного товариства»
- В утворення Кирило-Мефодіївського товариства
- Г заснування в Києві університету ім. Св. Володимира

А	Б	В	Г

12. Хто автор зображеного офорту?



- А Т. Шевченко
- Б В. Тропінін
- В В. Штернберг
- Г І. Сошенко

А	Б	В	Г

13. Києво-Могилянська академія ушлавилася як

- 1 єдиний вищий загальноосвітній навчальний заклад України та Східної Європи
- 2 засновниця філіалів – Чернігівського, Харківського та Переяславського колегіумів
- 3 заклад, що надавав богословську підготовку католицьким священикам
- 4 осередок, де було створено козацькі літописи
- 5 осередок науки та нових мистецьких ідей

- А 1, 5
Б 2, 4
В 2, 5
Г 3, 4

А	Б	В	Г

14. Укажіть твердження, яке характеризує здобутки новоерівської політики народоців

- А відкриття у Львівському університеті кафедри української мови
Б проведення першого з'їзду діячів української культури, науки і освіти
В відкриття у Львівському університеті кафедри історії України
Г видання першої у Львові газети українською мовою — «Зорі Галицької»

А	Б	В	Г



15. Де розташовано пам'ятник, зображений на ілюстрації?

- А Києві
Б Харкові
В Полтаві
Г Одесі

А	Б	В	Г

16. Як називається організація, про яку йдеться в спогадах Є. Чикаленка?

«Після довгих нарад, обмірковувань вирішили ми 1908 року відновити давню безпартійну загальну організацію, що існувала від 1897 до 1904 року, але тепер уже під назвою _____ без усякої програми, лиш на платформі федеративного устрою Росії та автономії України, у яке увійшли ті самі громади, що входили в Демократично-радикальну партію, і яке дожило до революції 1917 року».

- А «Просвіта»
Б Товариство Українських Поступовців (ТУП)
В Наукове товариство ім. Т. Шевченка (НТШ)
Г Український соціал-демократичний союз – «Спілка»

А	Б	В	Г

У завданнях 17–18 до кожного із чотирьох рядків інформації, позначених цифрами, доберіть один правильний варіант, позначений буквою. Поставте позначки в таблиці на перетині відповідних рядків (цифри) і колонок (букви).

17. Які князівства доби роздробленості відповідають стислим характеристикам?

- 1 піднесення цього князівства за часів роздробленості пов'язують з князем Володимиром Глібовичем

- 2 найдовше за доби роздробленості тривало князювання співправителів Святослава (1177–1194) та Рюрика (1180–1202)
- 3 наприкінці 12 ст. землі краю було переділено між нащадками Ізяслава Мстиславича – засновника династії князів, на кілька уділів
- 4 перший правитель землі Ростислав мав трьох синів – Рюрика, Володаря й Василька

- А Київське
Б Переяславське
В Чернігівське
Г Галицьке
Д Волинське

	А	Б	В	Г	Д
1					
2					
3					
4					

18. Установіть відповідність між іменами церковних діячів та їхніми стислими характеристиками

- 1 Петро Могила
2 Йов Борецький
3 Іпатій Потій
4 Йосиф Вельямін Рутський

- А греко-католицький митрополит, який шукав шляхів порозуміння з православними, а уніатське чернецтво об'єднав у василіанський орден
- Б церковний діяч, якого називали «батьком унії»; після смерті митрополита М. Рогози став греко-католицьким митрополитом
- В митрополит, який отримав цю посаду першим після відновлення 1620 р. вищої православної ієрархії
- Г перебуваючи на митрополичому престолі, здійснив важливі заходи з упорядкування й оновлення церковного життя; створив Київську колегію
- Д львівський єпископ; з 1590 р. брав участь у підготовці унії з Римом, однак напередодні Берестейського собору приєднався до противників ідеї об'єднання церков

	А	Б	В	Г	Д
1					
2					
3					
4					

У завданнях 19–20 розташуйте події у хронологічній послідовності. Поставте позначки в таблиці відповіді на перетині відповідних рядків (цифри) і колонок (букви).

19. Установіть послідовність подій, про які йдеться в уривках з джерел

- А «...Рушив Святослав на хозар. Почувши ж про це, хозари вийшли назустріч з князем своїм, каганом. І зступилися війська битися, і стала битва межі ними, і одолів Святослав хозар і город їхній – столицю Ітиль»
- Б «...Печеніги почали йти на приступ, і зступилися вони на тім місці, де ото є нині Свята Софія, бо тоді це було поле поза городом. І сталася січа люта, і ледве одолів під вечір, і побігли печеніги в різні боки, і не знали вони, куди втікати»
- В «Вийшов Володимир зі священниками цесаричиними і корсунськими на Дніпро. І зійшлося людей без ліку, і влізли вони у воду, і стояли – ті до шиї, а другі – до грудей»
- Г «...Сказала дружина Ігореві: “Отроки Свенельдові вирядилися оружжям і одежею, а ми – голі. Піді-но, княже, з нами по данину, хай і ти добудеш, і ми”... І послухав їх Ігор, пішов у Деревляни по данину»

	А	Б	В	Г
1				
2				
3				
4				

20. Установіть хронологічну послідовність подій

- А зруйнування Чортомлицької Січі царськими військами
- Б прийняття Конституції Пилипа Орлика
- В початок Північної війни Росії проти Швеції
- Г «Вічний мир» між Московським царством і Річчю Посполитою

	А	Б	В	Г
1				
2				
3				
4				

У завданнях 21–22, які мають сім варіантів відповідей, оберіть три правильні відповіді й запишіть їх номери у клітинки.

21. Які з тверджень стосуються храму, зображеного на фотографії?



- 1 головний храм Києво-Печерського монастиря
- 2 перший християнський кам'яний храм Київської Русі
- 3 храм побудовано близько 1000 років тому
- 4 храм збудований першим правителем Русі – християнином
- 5 головний митрополичий храм Київської Русі
- 6 храм перебудовано у 18 ст. в стилі бароко
- 7 у храмі поховано брата Ярослава Мудрого – Мстислава Великого

--	--	--

22. Що з переліченого стосується українського національного руху на західноукраїнських землях у другій половині 19 ст.?

- 1 створення першої української політичної партії
- 2 проголошення ідеї політичної незалежності України
- 3 видання першої книжки сучасною українською літературною мовою
- 4 створення першої самостійницької організації – Братства тарасівців
- 5 масове «ходіння в народ» та Чигиринська змова
- 6 заснування першого українського професійного театру
- 7 діяльність Кирило-Методіївського братства

--	--	--

Варіант 5

Завдання 1–16 мають чотири варіанти відповідей, серед яких лише один правильний. Виберіть правильний варіант відповіді.

1. У якому рядку всі слова стосуються привласнювальних форм господарства та відповідного способу життя?

- А лук і стріли, скребла, плоти і човни, мотика, зернотерка
- Б кам'яні сокири, глиняний посуд, серпи, лук і стріли
- В гачки та гарпуни, дерев'яні списи, одяг зі шкур тварин
- Г рубила, гончарний круг, жнивні ножі, тканий одяг

А Б В Г

2. Доповніть твердження

Похід князя Олега проти Візантії в 907 р. закінчився...

- А знищенням руського флоту за допомогою «грецького вогню»
- Б укладенням вигідного для Русі договору про сплату данини
- В першою спробою впровадити християнство як державну релігію
- Г особистою зустріччю князя з візантійським імператором

А Б В Г

3. Доповніть твердження

Князь Володимир Мономах...

- А перший раз був вигнаний з київського столу під час повстання киян
- Б одружений з дочкою візантійського імператора Константина Мономаха
- В об'єднав під своєю владою більшу частину території Київської держави
- Г уклав перший писаний збірник законів «Руська правда»

А Б В Г

4. Родину якого великого князя київського зображено на сторінці «Ізборника» 1073 р.?

- А Володимира Великого
- Б Ярослава Мудрого
- В Святослава Ярославича
- Г Володимира Мономаха

А Б В Г

5. Що було характерним для суспільно-політичного життя Галицького князівства в 12 ст.?

- А цілковита залежність від Києва, спричинена географічною близькістю
- Б впливовість бояр, що втілювалася в олігархічному правлінні, подібного якому не знали інші князівства Русі
- В столиця князівства, залишаючись резиденцією митрополитів, була на ті часи одним з найбільших європейських міст
- Г політичне піднесення за правління Романа Мстиславича та його сина – Данила

А Б В Г



6. Доповніть твердження

Юрій Котермак (Дрогобич) уславився тим, що був...

- А першим конструктором дерев'яного друкарського пресу
- Б першим автором серед українців, чий твір було надруковано
- В видавцем перших східнослов'янських книг кириличним шрифтом
- Г першим серед українців, хто отримав вищу освіту за кордоном

А Б В Г

7. Яку позицію обстоювали на Люблінському унійному сеймі князі — посли Литви від українських земель?

- А одразу погодилися на унію й не виступали проти передачі українських земель Польщі
- Б домагалися свободи віросповідання та недоторканності місцевих звичаїв
- В пасивно спостерігали, сподіваючись на збільшення своїх політичних прав та станових привілеїв
- Г сперечалися, сподіваючись на розширення своїх володінь за рахунок польських земель

А	Б	В	Г

8. Коли і де відбулася «Тарасова ніч»?

- А 1625 р. біля Курукового озера
- Б 1630 р. під Переяславом
- В 1637 р. під Кумейками
- Г 1638 р. під Жовнином

А	Б	В	Г

9. Що спричинило молдавські походи українського війська 1653 р.?

- А відмова В. Лупу від військової допомоги Б. Хмельницькому під час Батозької битви
- Б прохання В. Лупу допомогти повернути втрачену владу в Молдавії
- В підтримка В. Лупу антиукраїнської коаліції — Речі Посполитої, Валахії й Трансільванії
- Г відмова В. Лупу видати свою дочку Розанду за сина В. Хмельницького — Тимоша




А	Б	В	Г

10. Що було наслідком Чуднівської кампанії українсько-московських військ на західноукраїнські землі 1660 р.?

- А початок українсько-російської війни, Конотопська битва
- Б укладення І. Виговським Гадяцької угоди з Польщею
- В підписання Ю. Хмельницьким Переяславських статей з Московією
- Г укладення Ю. Хмельницьким Слободищенської угоди з Польщею

А	Б	В	Г

11. Яка з пам'яток є зразком класицистичного стилю монументальної скульптури в Україні?



А	Б	В	Г

12. Яку подію оцінюють як складову процесу українського національного відродження в Наддніпрянщині в першій половині 19 ст.?

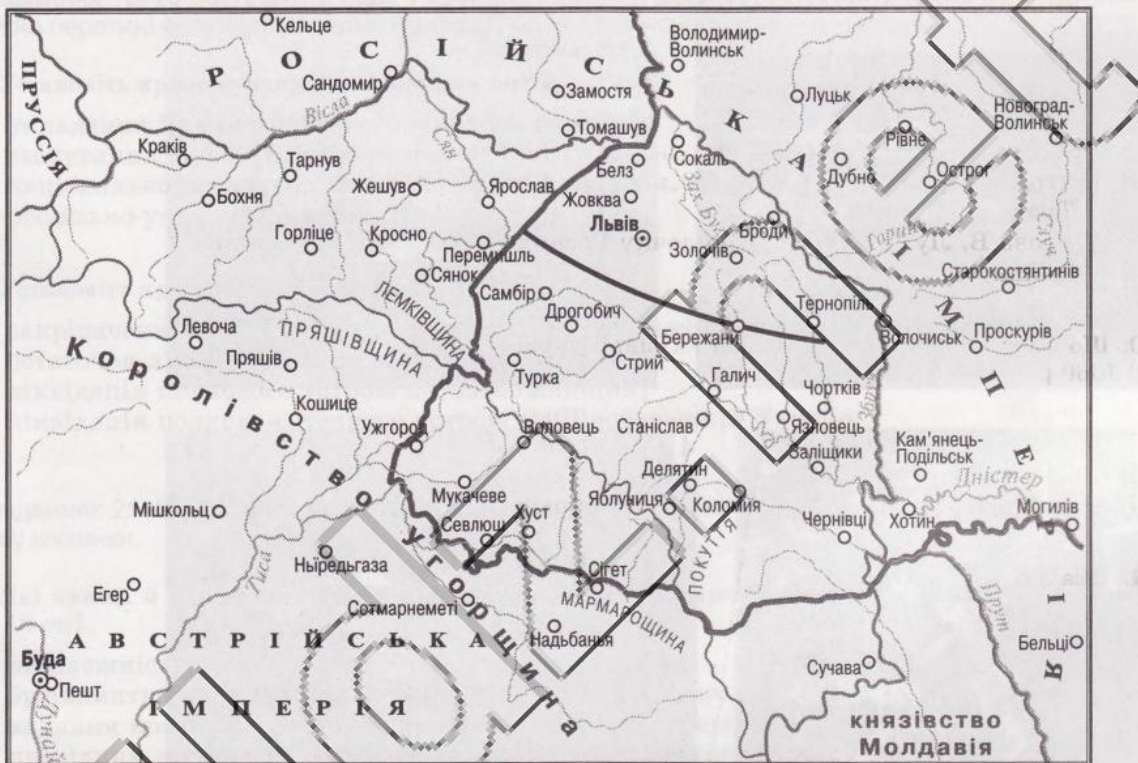
- А таємну місію Василя Капніста до Пруссії
- Б утворення в Тульчині таємного «Південного товариства»
- В початок діяльності гуртка «Руська трійця»
- Г утворення Кирило-Мефодіївського товариства

А	Б	В	Г

13. Назву якого історико-географічного регіону треба вписати на місці дуги-пропуску на карті «Українські землі у складі Австрійської імперії в першій половині 19 ст.»?

- А Північна Буковина
- Б Закарпаття
- В Східна Галичина
- Г Західне Поділля

А	Б	В	Г



14. У якому рядку вказано засновників та лідерів Русько-української радикальної партії?

- А М. Грушевський, І. Франко, Ю. Романчук, К. Левицький
- Б І. Франко, М. Павлик, С. Данилович, Є. Левицький
- В М. Ганкевич, С. Вітик, В. Охримович
- Г Ю. Романчук, О. Огоновський, В. Нагірний

А	Б	В	Г

15. Ім'я якого діяча культури пропущено в уривку зі спогадів Гната Юри?

«Богатирська родина Тобілевичів, крім І. Карпенка-Карого, П. Саксаганського, дала українському театрові ще такого велетня сцени, як —, уславлений режисер і актор на героїчні і трагедійні ролі. Маючи виняткові сценічні дані — високий зріст, статуру, чудову зовнішність, приємний, оксамитового тембру голос, могутній темперамент, велику сценічну привабливість, — він немовби самою долею був призначений для виконання ролей героїчного минулого: Богдана Хмельницького, Сави Чалого, Гната Карого, Тараса з «Бондарівни» та інших — для втілення постатей борців і бунтарів...»

- А М. Лисенко
- Б С. Гулак-Артемівський
- В М. Садовський
- Г М. Кропивницький

А	Б	В	Г



16. У якому рядку всі слова стосуються руху за створення українського університету у Львові на початку 20 ст.?

- А Адам Коцко, арешти та засудження, Андрей Шептицький
- Б «Просвіти», товариство «Сокіл», Анжей Потоцький
- В 3000 народних українських шкіл, Мирослав Січинський
- Г Наукове товариство ім. Т. Шевченка, народні віча, РУРП

А	Б	В	Г

У завданнях 17–18 до кожного із чотирьох рядків інформації, позначених цифрами, доберіть один правильний варіант, позначений буквою. Поставте позначки в таблиці на перетині відповідних рядків (цифри) і колонок (букви).

17. Установіть відповідність між зображеннями пам'яток архітектури та їхнім місцем розташування



- А Хотин
- Б Кам'янець-Подільський
- В Луцьк
- Г Мукачево
- Д Бахчисарай

	А	Б	В	Г	Д
1					
2					
3					
4					

18. Установіть відповідність між історичними діячами та фрагментами джерел, що їх стосуються

- 1 Б. Хмельницький
- 2 І. Богун
- 3 І. Виговський
- 4 Ю. Хмельницький

А «Бачив себе на небі, коли... сподобився бачити пресвітлі очі великого государя нашого, його царську пресвітлу величність, єдиного осяйного під сонцем монарха»

Б «Бог дав мені, що я є нововладцем і самодержцем руським... Виб'ю з лядської неволі весь руський народ, а що перше я воював за шкodu і кривду свою, тепер буду воювати за нашу православну віру...»

В «Ставши гетьманом, присяг на вірність у Переяславлі російському государю і був потверджений на тому уряді від нього; мало потримав при вірності і зараз же зрадив своєму государеві, й прихилився до польського короля...»

Г «Сьогодні рано дано знати, що рада обрала наказним гетьманом... та ухвалила – вириватися з оточення, козаки переправляються поголовно на той бік Стиру; к. й. м. наказав стерти їхній табір і всі дороги так позакривати, щоб і жоден з табору не вийшов»

Д «Я йшов, щоб звільнити з облоги пана Гуляницького, неспішно, чекаючи на хана, і тільки-но той прибув, ми поквапилися і дня 29 червня, в день Св. Петра й Павла ставши біля Соснівської переправи, застали там п'ятнадцять тисяч москви...»

	А	Б	В	Г	Д
1					
2					
3					
4					

У завданнях 19–20 розташуйте події у хронологічній послідовності. Поставте позначки в таблиці відповідей на перетині відповідних рядків (цифри) і колонок (букви).

19. Установіть хронологічну послідовність подій

- А** укладення Бахчисарайського мирного договору
- Б** заснування Нової (Підпільненської) Січі
- В** національно-визвольна акція гетьмана І. Мазепи. Полтавська битва
- Г** російсько-українська війна. Конотопська битва

	А	Б	В	Г
1				
2				
3				
4				

20. Установіть хронологічну послідовність подій

- А** закріпачення селян на Лівобережній та Слобідській Україні
- Б** остаточна ліквідація Запорізької Січі
- В** ліквідація полкового устрою на Слобожанщині
- Г** ліквідація полково-сотенного устрою на Лівобережній Україні

	А	Б	В	Г
1				
2				
3				
4				

У завданнях 21–22, які мають сім варіантів відповідей, оберіть три правильні відповіді й запишіть їх номери у клітинки.

21. Які явища й процеси характерні для культурного та церковного життя України в першій половині 18 ст.?

- 1** незалежність православної Київської митрополії
- 2** будівництво православних храмів у стилі козацького бароко
- 3** видання козацьких літописів коштом козацької старшини
- 4** провідним осередком освіти та науки була Києво-Могилянська академія
- 5** домінування церковного малярства в живописі
- 6** мова написання книжок – українська розмовна
- 7** поява світського портретного живопису

--	--	--

22. Укажіть події та явища, що відбувалися в межах першого етапу українського національного відродження

- 1** заснування перших українських громад у Петербурзі та Києві
- 2** наукова діяльність Південно-Західного відділення Російського географічного товариства
- 3** видання «Енеїди» І. Котляревського
- 4** вихід друком «Русалки Дністрової»
- 5** видання трактату Ю. Бачинського «Україна irredenta»
- 6** видання етнографічних збірників М. Цертелева та М. Максимовича
- 7** створення РУРП – першої політичної партії

--	--	--

Варіант 6

Завдання 1–16 мають чотири варіанти відповідей, серед яких лише один правильний. Виберіть правильний варіант відповіді.

1. Які поняття застосуєте під час розповіді про зображені пам'ятки?

- 1 царські кургани
- 2 бронзовий вік
- 3 звіриний стиль
- 4 розселення слов'ян
- 5 трипільська культура
- 6 скіфи-кочовики

- A 1, 2, 5
- B 1, 3, 6
- B 3, 4, 5
- Г 4, 5, 6



A B B Г

2. До яких заходів, за свідченням літопису, вдалася Ольга, очоливши державу?

- A узяла шлюб з деревлянським князем Малом
- B упорядкувала та ввормувала збирання данини
- B організувала военний похід проти Візантії
- Г запровадила християнство як державну релігію

A B B Г

3. Хто з князів був автором твору, фрагмент якого наведено?

«Тож, Бога ради, не лінуйтеся, я благою вас. Усього ж пам'яте – убогих не забувайте, але, наскільки є змога, по силі годуйте і подавайте сироті, і за вдовицю вступаєте самі, а не давайте сильним погубити людину. Ні правого, ні винного не вбивайте і не повелівайте вбити його... Лінощі ж – усякому лихому мати: що людина вміє – те забуде, а чого ж не вміє – то того не вчиться».

- A Ярослав Мудрий
- B Всеволод Ярославич
- B Володимир Мономах
- Г Мстислав Великий

A B B Г

4. Про наслідки якої події йдеться в твердженнях?

- князь домогся значної дипломатичної перемоги: виграв час для зміцнення оборони своїх земель та згуртування сил для відсічі монголам; • отримав ханський ярлик на свої володіння; • зберіг недоторканість західноруських земель, не впустивши туди ні монгольське військо, ні баскаків

- A коронація Данила Романовича в Дорогичині
- B похід князя Мстислава Всеволодича в Орду
- B зустріч Данила Романовича з ханом Батием
- Г оборона Києва від монгольських орд Батия

A B B Г

5. Завершіть речення

Великий литовський князь Вітовт з метою посилити свою владу наприкінці 14 ст. ...

- A приєднав до своїх володінь більшість українських земель
- B ліквідував найбільші українські удільні князівства
- B об'єднав Велике князівство Литовське з Польським королівством
- Г коронувався як король вінцем, який надіслав Папа Римський

A B B Г

6. У якому рядку вказано керівників повстанських рухів 1595–1596 рр.?

- А Григорій Лобода, Матвій Шаула, Северин Наливайко
- Б Матвій Шаула, Северин Наливайко, Криштоф Косинський
- В Григорій Лобода, Іван Підкова, Северин Наливайко
- Г Северин Наливайко, Дмитро Вишневецький, Матвій Шаула

А	Б	В	Г

7. Які твердження можуть бути застосовані для характеристики соціокультурної ситуації в українських землях у складі Речі Посполитої у другій половині 16 ст.?

- 1 підтримка польською владою всіх церковних конфесій
- 2 згуртування українського суспільства навколо греко-католицької церкви
- 3 збільшення кількості фільваркових господарств, що супроводжувалося закріпаченням селян
- 4 відсутність в українських містах магдебурзького права, уповільнення процесу розвитку міст
- 5 становлення козацької верстви як суспільного стану, її боротьба за свої права

- А 1, 2
- Б 2, 3
- В 2, 4
- Г 3, 5

А	Б	В	Г

8. Коли ухвалено договір з Польщею, відповідно до якого було встановлено позначені кордони Гетьманщини?



- А 1648 р.
- Б 1649 р.
- В 1651 р.
- Г 1654 р.

А	Б	В	Г

9. Завершіть речення

Юрій Хмельницький 1660 р. підписав угоду з Польщею, яка ґрунтувалася на умовах...

- А Зборівського договору, за винятком статті про кількість козацького війська
- Б Білоцерківського договору, за винятком статті про союз із Кримським ханством
- В Гадяцького договору, за винятком статті про Велике князівство Руське
- Г Березневих статей, змінених під поляків

А	Б	В	Г


10. Про перехід на бік І. Мазепи запорізьких козаків відомо, що

- А і Мазепа, і Петро І наполегливо прагнули перетягти запорожців на свій бік
- Б зустріч І. Мазепи, К. Гордієнка та Карла XII відбулася 27 червня 1709 р.
- В у відповідь на приєднання запорожців до І. Мазепи Петро І зруйнував Батурин
- Г він відбувся після ухвалення «Пактів й конституції законів і вольностей Війська Запорізького»

А	Б	В	Г

11. У якому місті розташовано зображений палац, який споруджував К. Розумовський протягом 1799–1803 рр.?

- А Київ
- Б Глухів
- В Батурин
- Г Чигирин



А	Б	В	Г

12. Яке видання мало назву «Основа»?

- А перший український політичний журнал, що виходив у Женеві
- Б перший український літературно-науковий щомісячний журнал, що виходив у Петербурзі
- В друкований орган Київської громади в 1874–1875 рр.
- Г перший український тижневик, від якого бере початок українська преса в Галичині

А	Б	В	Г

13. У якому рядку назви політичних партій розташовано в послідовності, у якій їх згадано в тексті?

У середині 70-х років у Галичині з'явилася молода інтелігенція, яка критично оцінювала діяльність народоців та москвофілів і прагнула надати українському рухові європейського характеру. Там, в українському таборі виникла ще одна, радикальна течія. Незабаром вони створили першу політичну партію на українських землях: 1) _____. Після її розколу з неї виокремилось крило на чолі з М. Ганкевичем, Ю. Бачинським і С. Вітиком, яке 1899 р. оформилося в: 2) _____. За активної участі центристських кіл народоців і радикалів 1899 р. утворилася: 3) _____ – наймасовіша і найвпливовіша партія в українському таборі.

- А 1) УНДП; 2) РУРП; 3) УСДП
- Б 1) УСДП; 2) УНДП; 3) РУРП
- В 1) РУРН; 2) УНДП; 3) УСДП
- Г 1) РУРП; 2) УСДП; 3) УНДП

А	Б	В	Г

14. Чим уславився І. Сікорський?

- А спорудженням першого цивільного дирижабля
- Б першим в Україні польотом (1910) на літаку з бензиновим двигуном власної конструкції
- В створенням у 1913 р. найбільшого на той час у світі літака – «Іллі Муромця»
- Г виконанням у 1913 р. «мертвої петлі» та найбільшим за дальністю і швидкістю перельотом

А	Б	В	Г

15. У якому рядку названо засновників РУПу?

- А В. Винниченко, С. Петлюра, М. Порш, Д. Антонович, Б. Мартос
- Б Д. Антонович, Б. Камінський, Л. Мацієвич, М. Русов
- В В. Чехівський, О. Лотоцький, Є. Чикаленко, Б. Грінченко
- Г Б. Грінченко, С. Єфремов, М. Левицький, Ф. Матушевський

А	Б	В	Г

16. Про кого йдеться у фрагменті із джерела?

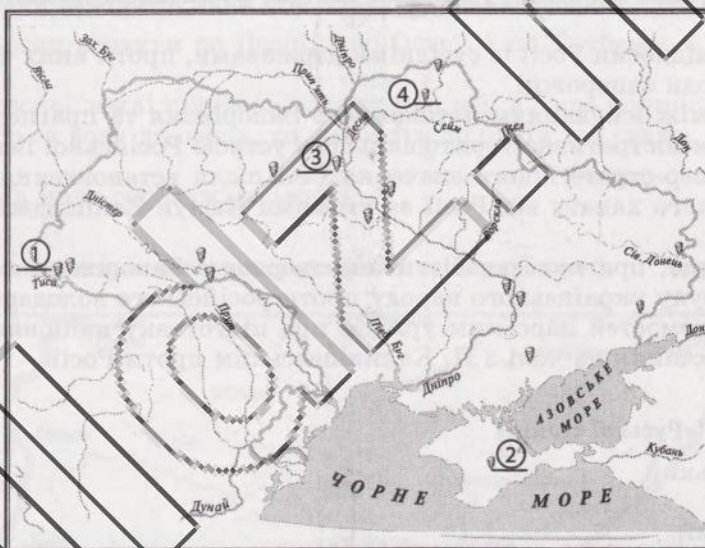
«В Палаті панів промовляв в дні 28 червня 1910 р. та підніс свій авторитетний голос у справі українського університету. Він виказував, що утворення українського університету у Львові вважає справою конче важною і конечною. Се була перша промова Українця в Палаті панів...» (Кость Левицький)

- А А. Волошина
- Б М. Грушевського
- В І. Франка
- Г Андрея Шептицького

А	Б	В	Г

У завданнях 17–18 до кожного із чотирьох рядків інформації, позначених цифрами, доберіть один правильний варіант, позначений буквою. Поставте позначки в таблиці на перетині відповідних рядків (цифри) і колонок (букви).

17. Установіть відповідність між місцем розташування найвідоміших стоянок кам'яного віку в Україні та їхніми назвами



- А стоянка в Кічків-Кобі
- Б стоянка в Королевому
- В Межиріцька стоянка
- Г Кирилівська стоянка
- Д Мізинська стоянка

	А	Б	В	Г	Д
1					
2					
3					
4					

18. Установіть відповідність між іменами історичних діячів та подіями, які їх стосуються

- 1 І. Могильницький
- 2 Ю. Бачинський
- 3 В. Нагірний
- 4 А. Вахнянин

- А видання публіцистичного твору «Україна irredenta»
- Б створення у Львові культурно-освітнього товариства «Просвіта»
- В заснування споживчого кооперативу «Народна торгівля»
- Г створення освітньої організації «Товариство галицьких греко-католицьких священників»
- Д заснування першої кафедри української мови і літератури у Львівському університеті

	А	Б	В	Г	Д
1					
2					
3					
4					

У завданнях 19–20 розташуйте події у хронологічній послідовності. Поставте позначки в таблиці відповідей на перетині відповідних рядків (цифри) і колонок (букви).

19. Установіть послідовність створення пам'яток Київської Русі

- А Остромирове євангеліє
- Б «Слово о полку Ігоревім»
- В Софійський собор у Києві
- Г літопис «Повість минулих літ»

	А	Б	В	Г
1				
2				
3				
4				

20. Установіть хронологічну послідовність

- А утворення Кирило-Мефодіївського товариства
- Б заснування університету в Харкові
- В вихід перших трьох частин «Енеїди» І. Котляревського
- Г заснування університету в Києві

	А	Б	В	Г
1				
2				
3				
4				

У завданнях 21–22, які мають сім варіантів відповідей, оберіть три правильні відповіді й запишіть їх номери у клітинки.

21. У яких твердженнях ідеться про причини остаточної ліквідації Запорізької Січі?

- 1 уповільнення розвитку сільського господарства й промисловості, що ставало на заваді зародження нових буржуазних відносин на українських землях
- 2 виступ запорожців на боці Туреччини під час російсько-турецької війни 1768–1774 рр.
- 3 ускладнення відносин Росії із сусідніми державами, проти яких здійснювали свої походи запорожці
- 4 суперечність між існуванням автономного Запоріжжя та прагненням до уніфікації адміністративно-територіального устрою Російської імперії
- 5 втрата військово-стратегічного значення Січі після встановлення залежності Кримського ханату від Росії за умовами Кючук-Кайнарджійського договору
- 6 імперський уряд прагнув запобігти перетворенню Запоріжжя на центр визвольного руху українського народу проти російського володарювання
- 7 отримання відомостей царським урядом про підготовку національно-визвольного повстання на чолі з П. Калнишевським проти Росії

--	--	--

22. Укажіть членів «Руської трійці»

- 1 І. Могильницький
- 2 І. Вагилевич
- 3 Я. Головацький
- 4 Л. Кобильця
- 5 Ю. Бачинський
- 6 М. Шашкевич
- 7 М. Павлик

--	--	--

Варіант 7

Завдання 1–16 мають чотири варіанти відповідей, серед яких лише один правильний. Виберіть правильний варіант відповіді.

1. Свідченням яких занять трипільців є наведені їхні пам'ятки?



- А скотарство, ткацтво, шліфування, землеробство
- Б прядіння, свердління, обробка заліза, гончарство
- В землеробство, гончарство, обробка міді, свердління
- Г гончарство, обробка міді, прядіння, ткацтво

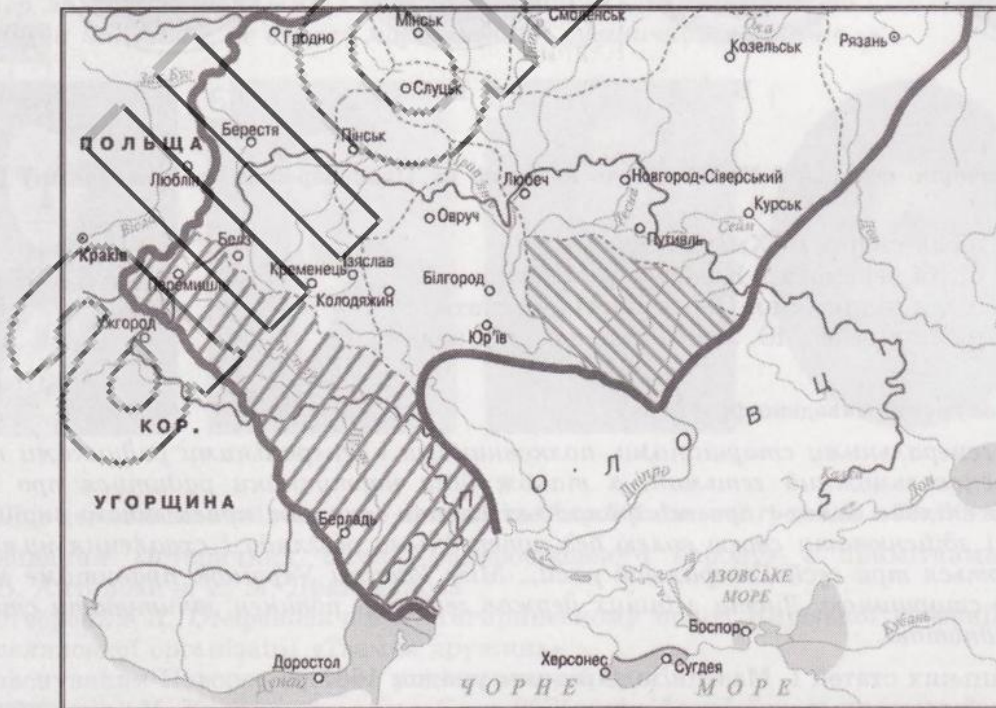
А	Б	В	Г
<input type="checkbox"/>	<input type="checkbox"/>	<input type="checkbox"/>	<input type="checkbox"/>

2. Укажіть літописний фрагмент, який стосується князя Святослава

- А «І став він городи зводити по Десні, і по Остру, і по Трубежу, і по Сулі, і по Стугні»
- Б «Ти, княже, чужої землі шукаєш і дбаєш про неї, а свою полишив...»
- В «Якщо внадиться вовк до овець, то виносить по одній все стадо, якщо не уб'ють його»
- Г «Хай буде Київ мати городам руським»

А	Б	В	Г
<input type="checkbox"/>	<input type="checkbox"/>	<input type="checkbox"/>	<input type="checkbox"/>

3. Території яких князівств за доби роздробленості заштриховано?



- А Київського та Волинського
- Б Галицького та Переяславського
- В Волинського та Галицького
- Г Київського та Чернігівського

А	Б	В	Г
<input type="checkbox"/>	<input type="checkbox"/>	<input type="checkbox"/>	<input type="checkbox"/>

Усі ДПА лише на erudyt.net

4. Доповніть твердження

Державно-політичний союз, відомий під назвою «Кревська унія», передбачав...

- А збереження великокнязівського столу в Литві на чолі з Вітовтом
- Б ліквідацію найбільших удільних князівств на теренах України
- В перехід у православ'я Ягайла, його родичів і всіх нехрещених литовців
- Г шлюб князя Ягайла Ольгердовича з польською королівною Ядвігою

А	Б	В	Г

5. Слова та словосполучення *ставропігія, друкарня, школа, «сім вільних наук»* доречні в розповіді про діяльність

- А осередків протестантизму
- Б православних братств
- В ордену єзуїтів
- Г запорізького козацтва


А	Б	В	Г

6. Для соціально-економічного розвитку українських земель у першій половині 17 ст. було характерним

- А закріпачення міського населення
- Б зменшення повинностей селян та міщан
- В розвиток фільваркових господарств
- Г праця вільних селян на власній землі

А	Б	В	Г

7. На якому з портретів зображено гетьмана Б. Хмельницького?



А

Б

В

Г

А	Б	В	Г

8. Коли територію козацької України було поділено на Правобережну та Лівобережну Гетьманщини?

- А 1657 р. після смерті Б. Хмельницького
- Б 1659 р. після перемоги в Конотопській битві
- В 1659 р. після підписання Переяславських статей
- Г 1663 р. після відмови Ю. Хмельницького від влади

А	Б	В	Г

9. З якого документа наведено фрагмент?

«...З тими генеральними старшинами, полковниками і генеральними радниками повинен теперішній яснотельможний гетьман, а також його наступники радитися про безпеку Вітчизни, про спільне благо і про всі громадські справи і не має права нічого вирішувати, розпочинати і здійснювати своєю волею без попереднього розгляду і схвалення ними. Тому то призначаються три сесії Генеральної ради... Між Радами Україною правитиме гетьман з генеральною старшиною. Листи з інших держав гетьман повинен зачитувати старшині, так само й відповідь».

- А Коломацьких статей І. Мазепи із царським урядом 1687 р.
- Б «Явних й таємних статей Ізмайлову» 1709 р.
- В «Конституції Пилипа Орлика» 1710 р.
- Г «Рішительних пунктів» Д. Апостола 1728 р.

А	Б	В	Г

Усі ДПА лише на erudyt.net

10. Унаслідок яких подій на заштрихованих землях підросійської України наприкінці 18 ст. відбулися зміни в адміністративно-територіальному устрої?



- А ліквідації полкового устрою Гетьманщини
- Б Другого та Третього поділів Речі Посполитої
- В скасування козацького устрою на Слобожанщині
- Г ліквідації паланкового устрою Запорізької Січі

А	Б	В	Г
<input type="checkbox"/>	<input type="checkbox"/>	<input type="checkbox"/>	<input type="checkbox"/>

11. Укажіть портрет історичного діяча, про якого йдеться в уривку з джерела

«У 1847 р., у зв'язку з відомою всім історією, він був засланий рядовим в Оренбурзький корпус із заборотою писати й малювати... Батальйонний командир не любив його за незламний характер, за те, що він не вмів і не хотів нікому вклонятися, і водив його кожний день разом з іншими на навчання, де вчився маршировки і рушничних прийомів...».



А	Б	В	Г
<input type="checkbox"/>	<input type="checkbox"/>	<input type="checkbox"/>	<input type="checkbox"/>

12. Що з переліченого свідчить про діяльність Старої Київської громади в 70–80-ті роки 19 ст.?

- А видання «Історичних пісень малоросійського народу» з примітками В. Антоновича та М. Драгоманова
- Б створення Я. Стефановичем у Чигиринському повіті Київської губернії селянської організації «Таємна дружина»
- В заснування Новоросійського університету в Одесі
- Г створення М. Кропивницьким у Єлисаветграді першого українського професійного театру

А	Б	В	Г
<input type="checkbox"/>	<input type="checkbox"/>	<input type="checkbox"/>	<input type="checkbox"/>


13. Доповніть твердження

Про видання, сторінку якого зображено, відомо, що...

- 1 це перший український літературно-науковий щомісячник, який виходив у Петербурзі
- 2 це друкований періодичний орган Головної руської ради
- 3 у його першому номері було надруковано «Самостійну Україну» М. Міхновського
- 4 його видавцями та редакторами були Є. Чикаленко та брати Шемети
- 5 це перша українськомовна газета в Галичині та Україні

- A 1, 3 B 2, 5
B 2, 4 Г 3, 4

A	B	Г



14. Які з перелічених фактів (подій) можуть бути використані для характеристики діяльності Русько-української радикальної партії в суспільно-політичному житті Галичини?

- A відкриття у Львівському університеті кафедри історії України
- B вихід брошури Ю. Вачинського «Україна irredenta»
- B перетворення Літературного товариства ім. Т. Шевченка на Наукове
- Г заснування культурно-освітнього товариства «Просвіта»

A	B	Г

15. Завершіть речення

Мистецький напрям кінця 19 — першої половини 20 ст., що об'єднує різні за ідейними шуканнями школи, течії в мистецтві і літературі в один напрямок, — це...

- A класицизм B реалізм
- B романтизм Г модернізм

A	B	Г

16. З яким програмним документом вийшла на політичну арену перша українська політична партія у складі Російської імперії?

- A «Книга буття українського народу» М. Костомарова
- B «Україна irredenta» Ю. Вачинського
- B «Самостійна Україна» М. Міхновського
- Г «10 заповідей члена УНП» М. Міхновського

A	B	Г

У завданнях 17–18 до кожного із чотирьох рядків інформації, позначених цифрами, доберіть один правильний варіант, позначений буквою. Поставте позначки в таблиці на перетині відповідних рядків (цифри) і колонок (букви).

17. Установіть відповідність між фрагментами історичних джерел, що характеризують князів, та їхніми іменами

- A «...Став розмножати число латинників і їх віру... принаджував з різних країв католицьких священників і богословів»
- B «Він бо любив дружину, і золота не збирав, майна не жалів, а давав дружині; був же він князь доблесний і всякими чеснотами був сповнений. За ним же Україна багато потужила»
- B «...Був князем добрим, хоробрим, мудрим, який спорудив городи многі і церкви поставив, та братолюбством він світився був із братом своїм Васильком...»
- Г «Високо сидиш ти на своїм золотокованім престолі, підперши гори угорські своїми залізними полками, заступивши королю дорогу, зачинивши ворота на Дунаї...»

- A переяславський князь Володимир Глібович
- B галицький князь Ярослав Осмомисл
- B новгород-сіверський князь Ігор Святославович
- Г галицько-волинський князь Данило Романович
- Д галицько-волинський князь Юрій II Болеслаг

	A	B	Г	Д
1				
2				
3				
4				

18. Установіть відповідність між іменами письменників та їхніми характеристиками

- 1 В. Стефаник
- 2 М. Коцюбинський
- 3 В. Винниченко
- 4 І. Франко

- А** письменник, який першим в українській прозі розповів про життя української інтелігенції («Причепа», «Хмари», «Над Чорним морем»), торкаючись болючої проблеми її зросійщення
- Б** блискучий майстер поетичної творчості, автор соціально-психологічних та історичних повістей, письменник-драматург і учений-літературознавець, праці якого стали етапними в розвитку української критики
- В** західноукраїнський письменник, неперевершений майстер соціально-психологічної новели. Однією з тем творчості була вимушена еміграція галицьких українців до Канади і США
- Г** письменник, майстер соціально-психологічної новели. У повісті «Фата Моргана» відтворив широку панораму суспільно-політичних подій 1905–1907 рр. в українському селі
- Д** один з найпопулярніших письменників і драматургів. Першим в українській літературі створив галерею образів революціонерів, які діяли у складних психологічних ситуаціях

	А	Б	В	Г	Д
1					
2					
3					
4					

У завданнях 19–20 розташуйте події у хронологічній послідовності. Поставте позначки в таблиці відповідей на перетині відповідних рядків (цифри) і колонок (букви).

19. Установіть хронологічну послідовність подій першої половини 17 ст.

- А підписання Куруківської угоди поляків із козаками
- Б Хотинська битва
- В козацьке повстання під проводом П. Павлюка, Я. Острянина, Д. Гуни
- Г ухвалення польським урядом «Пунктів для заспокоєння руського народу»

	А	Б	В	Г
1				
2				
3				
4				

20. Установіть хронологічну послідовність подій

- А відкриття «Південно-Західного відділу Російського географічного товариства»
- Б ухвалення Бмського указу
- В Друге польське повстання
- Г Кримська війна

	А	Б	В	Г
1				
2				
3				
4				

У завданнях 21–22 які мають сім варіантів відповідей, оберіть три правильні відповіді й запишіть їх номери у клітинки.

21. Які з перелічених тверджень використаєте для розповіді про господарство та спосіб життя давніх слов'ян?

- 1 за житла правили напівземлянки чи землянки зі складеними зі зрубаних стовбурів стінами
- 2 жили з виноградарства та розведення олів, вирощуючи сільськогосподарську продукцію на продаж
- 3 посуд розмальовували складними візерунками чорною, коричневою, червоною та білою фарбами
- 4 розводили велику й дрібну рогату худобу, овець, свиней; використовували як тяглову силу волів
- 5 живучи поміж лісів та біля річок, не нехтували мисливським і рибальським досвідом
- 6 їхнє життя минало в мандрівці степом верхи на конях або в кибитках, запряжених волами
- 7 своїх померлих вождів-царів ховали в спеціально споруджених похованнях – курганах

--	--	--	--	--	--

22. У яких твердженнях ідеться про князя Василя-Костянтина Острозького?

- 1 український князь, «некоронований король» Русі-України
- 2 очолював військо Великого князівства Литовського в битві під Оршею 1514 р. проти Московії
- 3 вів таємні переговори з польським королем про унію церков, разом зі своїми послідовниками скликав церковний собор у Бересті, що проголосив унію
- 4 засновник академії, ініціатор друку повної Біблії церковнослов'янською мовою
- 5 один з ініціаторів Берестейської унії, після смерті митрополита М. Рогози став греко-католицьким митрополитом
- 6 від 1559 р. був київським воєводою, наприкінці 16 ст. – найбільший після короля землевласник Речі Посполитої
- 7 перший ректор Острозької академії, автор першої друкованої пам'ятки української полемічної літератури «Ключ царства небесного...»



erudyt.net

Варіант 8

Завдання 1–16 мають чотири варіанти відповідей, серед яких лише один правильний. Виберіть правильний варіант відповіді.

1. Що з переліченого стосується Володимира Святославовича?

- А за пропозицією візантійського імператора розпочав військові дії в Болгарії
- Б розгорнув у Києві будівництво, унаслідок якого дитинець зріс у кілька разів
- В розгромив Хозарський каганат і зруйнував його столицю Ітіль
- Г приєднав до Русі землі полян, деревлян та сіверян

А Б В Г

2. Доповніть речення

Київське князівство за доби роздробленості характеризувалося...

- А розгортанням подій, увічнених у «Слові о полку Ігоревім»
- Б піднесенням князівства за правління династії Ольговичів
- В найгострішими міжкнязівськими суперечками за право володіти столом
- Г успішною боротьбою київських князів з печенігами та половцями

А Б В Г

3. Яка з подій передувала наведеній у джерелі?

«...Татари пішли проти Русі і вчинили жорстокі вбивства в землі Русі, зруйнували міста та фортеці і повбивали людей, обложили Київ, який був столицею Русі, і після довгої облоги взяли його і вбили жителів цього міста; це місто було великим і дуже багатолюдним, а тепер воно зведене майже нанівець і ледве чи є тепер там двісті будинків, а людей тих вони тримають у найтяжчому рабстві».

- А битва на р. Калці війська русичів та половців проти монголів
- Б похід польського короля Казимира III на Львів
- В битва війська Данила Романовича під Ярославом на р. Сян
- Г поїздка Данила Романовича в столицю Золотої Орди

А Б В Г

4. Укажіть ім'я історичного діяча, яке пропущено в уривку із джерела

«Тієї ж весни пішов князь Вітовт на Поділля, а князь _____ тоді був у Києві і не хотів покоритися князеві Вітовту. І великий князь Вітовт, пішовши, взяв Житомир, і прийшов до нього князь _____, і князь Вітовт відняв у нього Київ і дав йому Копил, а в Київ посадив Скиргайла. А сам Вітовт пішов на Подільську землю, а Скиргайлові велів піти на Черкаси і на Звенигород. І князь Скиргайло, з Божою поміччю і за повелінням князя Вітовта, Черкаси взяв і Звенигород і повернувся в Київ»

- А Любарт Гедимінович
- Б Семен Олелькович
- В Федір Коріятович
- Г Володимир Ольгердович

А Б В Г

5. Завершіть речення

Ставши реєстровцями, козаки були...

- А звільнені від усіх податків та повинностей, окрім військової
- Б позбавлені права на земельні володіння
- В підпорядковані місцевій адміністрації та її суду
- Г позбавлені права переходити до інших верств

А Б В Г

6. Про яке з повстань ідеться у твердженні?

Запорожці скористалися відсутністю коронного війська й частини реєстровців та легко оволоділи Кодаком, частково зруйнувавши фортецю

- А польсько-козацький збройний конфлікт 1625 р.
- Б повстання під проводом Тараса Федоровича (Трясила) 1630 р.
- В повстання запорожців на чолі з Іваном Сулимою 1635 р.
- Г козацьке повстання 1637–1638 рр.

А Б В Г

7. Який рядок містить інформацію, доречну в розповіді про події 1656–1657 рр. Національно-визвольної війни?

- А смерть Б. Хмельницького, Зборівське перемир'я, угода між Військом Запорізьким та Швецією
- Б другий молдавський похід Б. Хмельницького, Батозька битва, угода між Військом Запорізьким та Московією
- В українсько-московський договір, угода між Військом Запорізьким та Кримським ханством, Жванецька облога
- Г Віленське перемир'я, угода між Військом Запорізьким та Трансильванією, похід А. Ждановича

А	Б	В	Г
<input type="checkbox"/>	<input type="checkbox"/>	<input type="checkbox"/>	<input type="checkbox"/>

8. Доповніть твердження

У червні 1668 р. Петро Дорошенко домігся...

- А розірвання Андрусівського миру й об'єднання земель під владою Туреччини
- Б відновлення свого володарювання над територією Брацлавщини
- В возз'єднання Гетьманщини й обрання себе її гетьманом
- Г укладення нового українсько-московського договору

А	Б	В	Г
<input type="checkbox"/>	<input type="checkbox"/>	<input type="checkbox"/>	<input type="checkbox"/>

9. Якими цифрами на карті позначено землі Лівобережної Гетьманщини та Слобідської України?



- А 1, 3
- Б 2, 3
- В 3, 4
- Г 1, 2



А	Б	В	Г
<input type="checkbox"/>	<input type="checkbox"/>	<input type="checkbox"/>	<input type="checkbox"/>

10. Яку із церков збудовано в стилі українського козацького бароко?

А	Б	В	Г
<input type="checkbox"/>	<input type="checkbox"/>	<input type="checkbox"/>	<input type="checkbox"/>



11. Про кого з історичних діячів ідеться в уривку з таємного листа царської жандармерії?

«Причетні до справи про Українсько-Слов'янське товариство були, власне, українофілами. Всі вони у своїх листах, а художник _____, колишній вчитель _____ і _____ навіть у надрукованих ними творах, зображаючи неправильно справжнє становище України, яка ніби перебувала в тяжкому становищі, захоплено говорили про колишню Малоросію, надаючи їй надзвичайно великого значення; історію цього краю подавали мало не визначнішою за всі історії, наїзди гайдамаків описували як рицарства, наводили приклади колишньої вольниці, натякаючи, що дух свободи не охолов і досі таїться серед малоросіян»

- А І. Сошенко, І. Котляревський, П. Куліш
- Б Т. Шевченко, В. Каразин, І. Орлай
- В В. Тропінін, М. Костомаров, В. Капніст
- Г П. Куліш, М. Костомаров, Т. Шевченко

А Б В Г

12. Виберіть назву політичної партії, про яку йдеться у твердженні

Наймасовіша політична партія на західноукраїнських землях початку 20 ст. Кінцеву мету своєї діяльності вбачала в досягненні державної незалежності українців.

- А Революційна українська партія (РУП)
- Б Українська соціал-демократична робітничка партія (УСДРП)
- В Українська соціал-демократична партія (УСДП)
- Г Українська національно-демократична партія (УНДП)

А Б В Г

13. У якому з варіантів названо діячів культури другої половини 19 – початку 20 ст., що творили в царині живопису?

- А В. Городецький, В. Кричевський, І. Левинський
- Б М. Пимоненко, С. Васильківський, І. Труш, М. Самокиш
- В М. Кропивницький, М. Садовська-Барілотті, М. Старицький, Г. Затиркевич
- Г М. Леонтович, С. Людкевич, С. Крушельницька

А Б В Г

14. Яка партія підросійської України основну мету своєї діяльності вбачала в досягненні самостійності України?

- А Українська соціал-демократична організація («Спілка»)
- Б Українська соціал-демократична робітничка партія (УСДРП)
- В Українська народна партія (УНП)
- Г Українська демократична партія (УДП)

А Б В Г

15. Про причини якого соціально-економічного явища в західноукраїнських землях ідеться у фрагментах зі статті І. Франка?

«Галичина була "перемоднена", мала надто розвинений поділ селянської землі і дуже малі заробітки. Галичина – край браку засобів для існування – їжі, освіти, а також прав і свобод людини. Матеріальна скрута, немилосердний грабіж і зловживання владою поміщиками, тобто відсутність правової оліки, неспроможність себе захистити... Залишаючи свої оселі, речі, родичів, хай яку господарку, всі як один відповідають: "Нема чого тут триматися, не дочекаємось нічого доброго"».

- А скасування кріпацтва
- Б завершення промислового перевороту
- В розвиток кооперативного руху
- Г трудову еміграцію

А Б В Г

16. Що передбачав циркуляр Столипіна від 20 січня 1910 р.?

- А забороняв діяльність «Клубу русских националистов».
- Б упроваджував викладання української мови у школах
- В легалізував діяльність осередків української культурно-освітньої організації – «Просвіта»
- Г забороняв реєструвати будь-які «инородческие» товариства й видавництва




А Б В Г

У завданнях 17–18 до кожного із чотирьох рядків інформації, позначених цифрами, доберіть один правильний варіант, позначений буквою. Поставте позначки в таблиці на перетині відповідних рядків (цифри) і колонок (букви).

17. Установіть відповідність між стислими характеристиками пам'яток та їхніми зображеннями

- 1 найвидатніша пам'ятка національного стилю українського модерну, збудована в Полтаві в 1903–1908 рр.
- 2 хрестоматійний зразок архітектурного модерну в Україні. Рационально розпланований і технічно досконалий, збудований у 1902–1903 рр., він став перехідним типом між особняком та прибутковим будинком
- 3 у пам'ятці, збудованій у 1905–1906 рр., поєднано елементи модерну та народної архітектури західноукраїнських земель
- 4 символ буковинської столиці. Проект архітектурного ансамблю розробив чеський учений, архітектор Й. Главка. Він спроектував нетрадиційний комплекс споруд у дусі еклектики з переважанням елементів візантійського та романського стилів

	А	Б	В	Г	Д
1					
2					
3					
4					



18. Установіть відповідність між іменами історичних діячів та словосполученнями, які їх стосуються

- | | |
|---------------------|-------------------|
| 1 І. Боберський | 3 І. Шраг |
| 2 Андрей Шептицький | 4 К. Трильовський |
- А Український національний музей у Львові; греко-католицька церква
 Б фізкультурно-спортивне товариство «Сокіл»; перші підручники гімнастичних вправ і спортивних ігор
 В фізкультурно-спортивна організація – «Січ»; Українська бойова управа, Палата послів австрійської Державної ради
 Г українська парламентська громада в І Державній думі Росії; Товариство українських поступовців
 Д русько-українська радикальна партія; кілька тисяч наукових, літературних праць

	А	Б	В	Г	Д
1					
2					
3					
4					

У завданнях 19–20 розташуйте події у хронологічній послідовності. Поставте позначки в таблиці відповідей на перетині відповідних рядків (цифри) і колонок (букви).

19. Розташуйте події у хронологічній послідовності

- А початок князювання Ярослава Володимировича в Галицькій землі
 Б перша згадка в літописі назви «Україна»
 В утвердження принципу спадкового володіння уділами Любецьким з'їздом князів
 Г князювання в Києві Володимира Мономаха

	А	Б	В	Г
1				
2				
3				
4				

20. Установіть хронологічну послідовність подій другої половини 18 ст.

- А приєднання Правобережної України до складу Російської імперії
- Б остаточно ліквідація Запорізької Січі
- В початок Коліївщини, національно-визвольного руху проти Польщі
- Г ухвалення царського маніфесту про приєднання до Росії Кримського ханства

	А	Б	В	Г
1				
2				
3				
4				

У завданнях 21–22, які мають сім варіантів відповідей, оберіть три правильні відповіді й запишіть їх номери у клітинки.

21. Для неоліту характерно...

- 1 винахід лука і стріл, човнів та рибальських приладь
- 2 початок виготовлення керамічного посуду
- 3 розведення свиней, овець та корів
- 4 започаткування родоплемінного устрою
- 5 перехід від збиральництва до землеробства
- 6 поява релігійних вірувань
- 7 винахід звукового (фонетичного) письма

22. Доповніть твердження

Про гетьмана Дем'яна Многогрішного відомо, що він...

- 1 був проголошений гетьманом на Чорній раді в Ніжині
- 2 був наступником гетьмана І. Самойловича
- 3 підписав із царем Олексієм Михайловичем Глухівські статті
- 4 узяв участь у Чигиринських походах турецько-татарської армії
- 5 тримав гетьманську булаву на Лівобережжі 3 роки
- 6 перший з гетьманів після зміщення з посади засланий до Сибіру
- 7 очолював козацькі полки в Першому Кримському поході

Варіант 9

Завдання 1–16 мають чотири варіанти відповідей, серед яких лише один правильний. Виберіть правильний варіант відповіді.

1. У якому рядку всі слова стосуються трипільської археологічної культури?

- А віра в богів грому, сонця, вітру, дощу, полювання на мамонтів, В. Хвойка
- Б перелогове землеробство, протоміста, піч, вироби з міді, від Дністра до Дніпра
- В чотирикутні одно-, двоповерхові будинки, гончарство, залізні знаряддя праці
- Г мальована кераміка, моделі жител, культ богині родючості, кочовий спосіб життя

А	Б	В	Г

2. Доповніть твердження

Утвердившись у Києві, великий князь Володимир Святославович...

- А упорядкував збір данини, запровадивши уроки та погости
- Б відвідав Царгород, щоб ознайомитися з християнством
- В прийняв християнство перший з-поміж відомих нині київських князів
- Г замінив родоплемінний поділ Русі на територіальний

А	Б	В	Г

3. Про Чернігівське князівство в другій половині 12 ст. відомо, що

- А його терени лишалися спільною спадщиною роду Рюриків
- Б представники місцевої династії Ольговичів вели боротьбу за київський стіл
- В у 1178 р. стіл посів Ігор Святославович, увічнений у «Слові о полку Ігоревім»
- Г воно сягнуло свого розквіту за дуумірату Святослава Всеволодовича та Рюрика Ростиславовича

А	Б	В	Г

4. Завершіть речення

Місто Кафа, яке в 15 ст. мало один з найбільших портів світу й найбільший невільницький ринок у Криму, заснували в 60-ті роки 13 ст. ...

- А греки
- Б генуезці
- В венеціанці
- Г татари

А	Б	В	Г

5. У якому місті було засновано першу братську школу (1586 р.)?

- А Києві
- Б Луцьку
- В Львові
- Г Кам'янці

А	Б	В	Г

6. Коли відбулися описані в історичному джерелі події?

Коронний гетьман Миколай Потоцький зазначав: «Хто ж затримає народ, коли в нього так закрутилися колеса свавілля, що їх ніяким чином не можна стримати!.. Переконався я про це під Кумейками: зимою знищив Павлюка, на весну, незважаючи на такий великий розгром, ожив Острянин. Розгромив я Острянина – зразу ж було обрано керівником Гуню, і я двадцять тижнів вів з ним війну та ледве привів до послуху зброєю і немалим пролиттям крові!...».

- А у 90-х роках 16 ст.
- Б на початку 17 ст.
- В у 30-х роках 17 ст.
- Г у 50-х роках 17 ст.

А	Б	В	Г

7. Що зумовило зміну зовнішньополітичної орієнтації Б. Хмельницького в останні роки гетьманування (1656–1657 рр.)?

- А успішна воєнна операція українсько-московських військ на території Білорусі та Литви
- Б підписання Віленського московсько-польського перемир'я
- В перехід кримського хана Іслам-Герейя на бік Московського царства
- Г створення польсько-шведсько-трансільванської коаліції проти Війська Запорізького

А	Б	В	Г

8. Якою цифрою позначено українські землі, що за Андрусівським договором закріплювалися за Польщею?

- А 1
- Б 2
- В 3
- Г 4



А	Б	В	Г

9. Який рядок містить інформацію, яку доречно використати в розповіді про похід султана Мегмеда IV в Україну 1672 р.?

- А ніжинський полковник Григорій Гуляницький, с. Соснівка, облога Конотопа
- Б захоплення Кам'янця, облога Львова, коронний гетьман Ян Собеський
- В гетьман Д. Многогрішний, король М. Вишневецький, захоплення Брацлавщини
- Г облога Чигирини, візир Кара-Мустафа, боярин Г. Ромодановський

А	Б	В	Г

10. До яких військово-політичних акцій вдався Петро I, дізнавшись про перехід І. Мазепи на бік Карла XII?



- 1 закріпачення селян на Лівобережній Україні
- 2 зруйнування Чортомлицької Січі
- 3 ліквідація полково-сотенного устрою Гетьманщини
- 4 зруйнування гетьманської столиці Батурина
- 5 обрання гетьманом І. Скоропадського
- 6 перетворення козацьких полків на регулярні російські

- А 1, 3, 4
- Б 2, 3, 6
- В 2, 4, 5
- Г 3, 5, 6

А	Б	В	Г

11. На якому фото зображено церкву Св. Юра у Львові?

А Б В Г



12. Оберіть назву політичної партії, про яку йдеться у фрагменті спогадів С. Даниловича

«Довгий час велася широка дискусія про те, на якій ідейній основі має бути збудована програма нової партії. Всі були за тим, що діяльність нової партії має бути обмеженою лише на український народ, замешканий в австрійській державі... Суперечки точилися лише про те, яку позицію має обстоювати партія щодо суспільного питання. Я доводив, що наша програма мусить бути іншою, бо наш народ — це маса дрібних малоземельних рільників і мусить мати передовсім на увазі те, що треба для їх суспільного й культурного піднесення... Ту мою думку підтримали Франко і Павлик...»

- А Революційна українська партія (РУП)
- Б Українська національно-демократична партія (УНДП)
- В Українська соціал-демократична партія (УСДП)
- Г Русько-українська радикальна партія (РУРП)

А Б В Г

13. Що з переліченого стосується М. Лисенка?


- А перша опера — «Запорожець за Дунаєм»
- Б перший український мистецтвознавчий журнал «Артистичний вісник»
- В опери «Наталка Полтавка», «Енеїда», «Тарас Бульба», «Утоплена»
- Г перший український професійний театр «Руська бесіда»

А	Б	В	Г
<input type="checkbox"/>	<input type="checkbox"/>	<input type="checkbox"/>	<input type="checkbox"/>

14. Виберіть портрет історичного діяча, про якого йдеться у фрагменті із джерела

«...Він став ідеологом української національної думки в Харкові. Був він людиною енергійною, яскравих політичних поглядів, а українське питання ставив різко і ясно: "Україна для українців!". Це був один з перших самостійників, одвертий і безкомпромісовий. Своїх поглядів тримався непохитно аж до своєї трагічної смерті. Його вплив на українське громадянство в Харкові, а особливо на студентство, був колосальний. Саме він у значній мірі спричинився до цілковитого відірвання нашої харківської молоді від політичного українофільства та етнографізму й показав нам певні шляхи через радикальний демократизм до революційного українського націоналізму» (Юрій Коллард)

А	Б	В	Г
<input type="checkbox"/>	<input type="checkbox"/>	<input type="checkbox"/>	<input type="checkbox"/>



15. Що з переліченого стосується України в роки революції 1905–1907 рр.?

- 1 поява українських періодичних видань
- 2 масові арешти очільників політичних партій
- 3 звуження сфери вживання української мови
- 4 впровадження на території України стану посиленої охорони
- 5 створення в містах і містечках осередків «Просвіти»
- 6 вибори до I та II Державних дум Росії

- А 1, 2, 5
- Б 1, 5, 6
- В 2, 4, 5
- Г 3, 4, 6

А	Б	В	Г
<input type="checkbox"/>	<input type="checkbox"/>	<input type="checkbox"/>	<input type="checkbox"/>

16. Суть аграрної реформи П. Столипіна полягала в

- 1 поверненні селянам відрізків
- 2 конфіскації частини земель поміщиків для роздачі селянам
- 3 наданні селянам права на вихід з общини з наділом
- 4 поверненні селянам викупних платежів
- 5 проведенні переселенської політики

- А 1, 2
- Б 2, 3
- В 3, 4
- Г 3, 5

А	Б	В	Г
<input type="checkbox"/>	<input type="checkbox"/>	<input type="checkbox"/>	<input type="checkbox"/>

У завданнях 17–18 до кожного із чотирьох рядків інформації, позначених цифрами, доберіть один правильний варіант, позначений буквою. Поставте позначки в таблиці на перетині відповідних рядків (цифри) і колонок (букви).


17. Установіть відповідність між іменами історичних діячів та їхніми стислими характеристиками

- 1 С. Палій
- 2 П. Орлик
- 3 І. Скоропадський
- 4 Д. Апостол

- А** протягом гетьманування намагався послабити тиск царського уряду та обстоювати залишки автономії Гетьманщини, однак, позбавлений реальної влади, не міг впливати на становище в Україні. За його правління запроваджено Малоросійську колегію
- Б** фастівський полковник, під владою якого в останні десятиліття 17 ст. перебувала значна частина Правобережної України. Очолив національно-визвольне повстання початку 18 ст. на Правобережжі
- В** за правління Малоросійської колегії обстоював автономні права Гетьманщини. Улітку 1723 р. під час свого перебування у військовому таборі на р. Коломак організував подання цареві колективної чолобитної на захист козацьких прав і вольностей
- Г** під час свого гетьманування в еміграції вів переговори з найвпливовішими європейськими політиками з метою створити антимосковську коаліцію
- Д** гетьман, який, усвідомивши небезпеку перебування Гетьманщини у складі Московії, вдався до укладення союзу зі шведами під час Північної війни

	А	Б	В	Г	Д
1					
2					
3					
4					

18. Установіть відповідність між пам'ятками та їхніми творцями



- А О. Мурашко
- Б М. Пимоненко
- В І. Рєпін
- Г К. Трутовський
- Д І. Трун

	А	Б	В	Г	Д
1					
2					
3					
4					

У завданнях 19–20 розташуйте події у хронологічній послідовності. Поставте позначки в таблиці відповідей на перетині відповідних рядків (цифри) і колонок (букви).

19. Розташуйте події у хронологічній послідовності

- А коронація Данила Романовича
- Б правління Юрія II Болеслава
- В облога й розорення Києва ордами хана Батия
- Г поразка руських дружин у битві з монголами на р. Калці

	А	Б	В	Г
1				
2				
3				
4				

20. Установіть хронологічну послідовність подій Національно-визвольної війни

- А укладення Білоцерківського договору
- Б Батозька битва
- В Жванецька облога
- Г Зборівсько-Збаразька кампанія

	А	Б	В	Г
1				
2				
3				
4				

У завданнях 21–22, які мають сім варіантів відповідей, оберіть три правильні відповіді й запишіть їх номери у клітинки.

21. Які з тверджень стосуються князя Святослава Ігоровича?

- 1 боровся з братами за київський великокнязівський стіл
- 2 приєднав до Русі землі деревлян та сіверян
- 3 охрестився у Візантії сам, охрестив своїх дружинників
- 4 розгромив Хозарський каганат і зруйнував його столицю
- 5 захопив 80 міст під час Першого Балканського походу
- 6 відмовився від володінь на Дунаї та Криму за угодою з імператором
- 7 ініціював створення першого писаного збірника законів

--	--	--

22. Які явища й процеси характерні для культурного та церковного життя України в першій половині 18 ст.?

- 1 незалежність православної Київської митрополії
- 2 будівництво православних храмів у стилі козацького бароко
- 3 видання козацьких літописів коштом козацької старшини
- 4 провідним осередком освіти та науки була Києво-Могилянська академія
- 5 домінування церковного малярства в живописі
- 6 мова написання книжок – українська розмовна
- 7 поява світського портретного живопису

--	--	--

5. Завершіть речення

Запроваджуючи в життя потужну освітню програму на українських землях, єзуїти прагнули

- А створити мережу осередків протестантизму
- Б зміцнити престиж греко-католицької церкви
- В розширити коло прихильників католицизму
- Г поліпшити становище православної церкви

А	Б	В	Г

6. Укажіть провідника та найвідоміше місце битви першого етапу козацького повстання 1637–1638 рр.

- А Тарас Трясило, битва під м. Переяславом
- Б Яків Острянин, битва під м. Говтвом
- В Павло Бут (Павлюк), битва під с. Кумейками
- Г Дмитро Гуня, битва під м. Жовнином

А	Б	В	Г

7. У якому рядку назви битв розташовано в послідовності, у якій їх згадано в тексті?

Національно-визвольна війна українського народу тривала десять років. Унаслідок битви під 1) _____ було укладено договір, згідно з яким Українська держава обіймала землі колишніх: Брацлавського, Київського та Чернігівського воєводств. Проте після битви під 2) _____ гетьман змушений був підписати Білоцерківський договір, що суттєво обмежував права Війська Запорізького. Лише внаслідок перемоги під 3) _____ незалежність козацької України було поновлено.

- А 1) Корсунем, 2) Пилявцями, 3) Батогом
- Б 1) Зборовом, 2) Пилявцями, 3) Берестечком
- В 1) Пилявцями, 2) Зборовом, 3) Берестечком
- Г 1) Зборовом, 2) Берестечком, 3) Батогом

А	Б	В	Г

8. Якими були наслідки турецько-татарських походів в Україну 1677–1678 рр.?

- А зруйнування гетьманської столиці, спустошення краю
- Б поділ козацької України на Лівобережну та Правобережну Гетьманщини
- В прийняття турецького протекторату Правобережною Гетьманщиною
- Г П. Дорошенко зрікся гетьманської булави

А	Б	В	Г

9. У якому рядку всі слова стосуються правління І. Скоропадського?

- А Решетилівські статті, царський резидент, Малоросійська колегія
- Б П. Полуботок, російсько-турецька війна, уряд Петра II
- В Ізмайлов, Генеральне слідство про маєтності, реформа фінансів
- Г «правління гетьманського уряду», бригадир Вельямінов

А	Б	В	Г

10. Що спільного мають літописи «Самовидця», Г. Граб'янки, С. Величка?

- А написано наприкінці 17 ст. книжною староукраїнською мовою
- Б авторами були прості козаки-канцеляристи
- В подано перебіг подій Національно-визвольної війни середини 17 ст.
- Г незабаром після написання їх було надруковано

А	Б	В	Г

11. Доповніть твердження

Про Коліївщину відомо, що повстання...

- А розпочалося в Умані навесні 1768 р.
- Б від початку очолив Іван Гонта
- В розгорнулося на Лівобережній Україні
- Г придушено російськими військами

А	Б	В	Г

Варіант 10

Завдання 1–16 мають чотири варіанти відповідей, серед яких лише один правильний. Виберіть правильний варіант відповіді.

1. Назву якого народу пропущено в уривку з праці Геродота?

«Після здобуття Вавилона Дарій вирушив у похід на _____. Гробниці їхніх царів містяться в Геррах, до яких Борисфен ще судноплавний. У Геррах тіло ховали у просторій гробниці разом з дружиною, найближчими слугами, кінями... Над гробницями насипали величезні кургани, — що знатніший був цар, то вищий курган»

- А киммерійці
 В сармати
 Б скифи
 Г готи

А	Б	В	Г


2. Чим закінчилася битва на р. Альті в 1019 р.?

- А перемогою Святополка та його тестя, польського короля
 Б перемогою Ярослава й утвердженням його на київському столі
 В битва не виявила переможця, Ярослав повернувся в Новгород
 Г угодою Ярослава з братом Мстиславом про поділ Русі по Дніпру

А	Б	В	Г

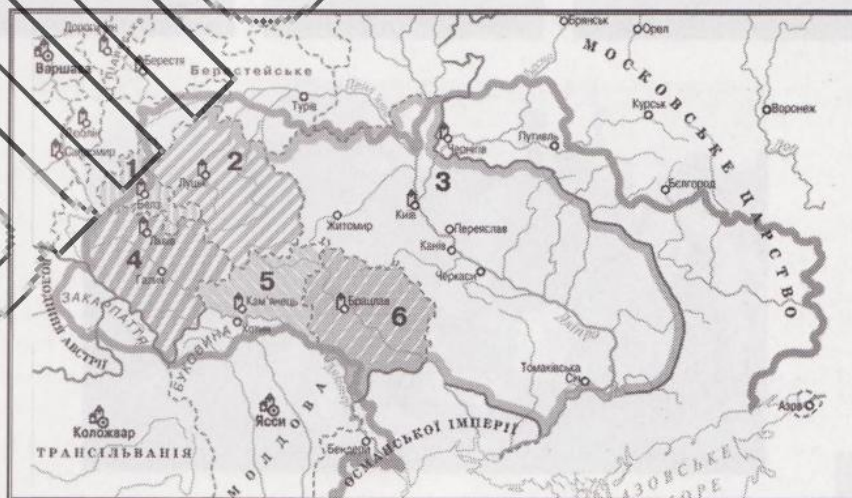
3. Де було збудовано фортецю, зображену на фотографії?

- А Кафі (Феодосія)
 Б Солдайї (Судак)
 В Чембало (Балаклава)
 Г Монкастро (Білгород-Дністровський)



А	Б	В	Г

4. Укажіть цифри, якими позначено українські воєводства, що перебували в складі Королівства Польського наприкінці XV ст.



- А 1, 3, 5
 Б 2, 3, 6
 В 2, 5, 6
 Г 1, 4, 5

А	Б	В	Г

5. Завершіть речення

Запроваджуючи в життя потужну освітню програму на українських землях, єзуїти прагнули

- А створити мережу осередків протестантизму
- Б зміцнити престиж греко-католицької церкви
- В розширити коло прихильників католицизму
- Г поліпшити становище православної церкви

А	Б	В	Г

6. Укажіть провідника та найвідоміше місце битви першого етапу козацького повстання 1637—1638 рр.

- А Тарас Трясило, битва під м. Переяславом
- Б Яків Острянин, битва під м. Говтвою
- В Павло Бут (Павлюк), битва під с. Кумейками
- Г Дмитро Гуня, битва під м. Жовнином

А	Б	В	Г

7. У якому рядку назви битв розташовано в послідовності, у якій їх згадано в тексті?

Національно-визвольна війна українського народу тривала десять років. Унаслідок битви під 1) — було укладено договір, згідно з яким Українська держава обіймала землі колишніх: Брацлавського, Київського та Чернігівського воєводств. Проте після битви під 2) — гетьман змушений був підписати Білоцерківський договір, що суттєво обмежував права Війська Запорізького. Лише внаслідок перемоги під 3) — незалежність козацької України було поновлено.

- А 1) Корсунем, 2) Пилявцями, 3) Батогом
- Б 1) Зборовом, 2) Пилявцями, 3) Берестечком
- В 1) Пилявцями, 2) Зборовом, 3) Берестечком
- Г 1) Зборовом, 2) Берестечком, 3) Батогом

А	Б	В	Г

8. Якими були наслідки турецько-татарських походів в Україну 1677—1678 рр.?

- А зруйнування гетьманської столиці, спустошення краю
- Б поділ козацької України на Лівобережжя та Правобережжя Гетьманщини
- В прийняття турецького протекторату Правобережжю Гетьманщиною
- Г П. Дорошенко зрікся гетьманської булави

А	Б	В	Г

9. У якому рядку всі слова стосуються правління І. Скоропадського?

- А Решетилівські статті, царський резидент, Малоросійська колегія
- Б П. Полуботок, російсько-турецька війна, уряд Петра II
- В Ізмайлов, Генеральне слідство про маєтності, реформа фінансів
- Г «правління гетьманського уряду», бригадир Вельямінов

А	Б	В	Г

10. Що спільного мають літописи «Самовидця», Г. Граб'янки, С. Величка?

- А написано наприкінці 17 ст. книжною староукраїнською мовою
- Б авторами були прості козаки-канцеляристи
- В подано перебіг подій Національно-визвольної війни середини 17 ст.
- Г незабаром після написання їх було надруковано

А	Б	В	Г

11. Доповніть твердження

Про Коліївщину відомо, що повстання...

- А розпочалося в Умані навесні 1768 р.
- Б від початку очолив Іван Гонта
- В розгорнулося на Лівобережній Україні
- Г придушено російськими військами

А	Б	В	Г

12. Які вимоги висувала Головна руська рада під час революції 1848–1849 рр. в Австрійській імперії?

- 1 поділ Галичини на дві провінції — польську та українську з окремими адміністраціями
- 2 підвищення заробітної плати, скорочення робочого дня, поліпшення умов праці й життя робітникам
- 3 проведення виборчої реформи: змінити систему представництва в галицькому сеймі та віденському парламенті на основі загального й рівного виборчого права
- 4 зрівняння в правах духовенства всіх віросповідань, дозвіл українцям обіймати державні посади, навчання в усіх навчальних закладах рідною мовою
- 5 створити кафедру української історії і другу кафедру української літератури у Львівському університеті

- А 1, 2 В 2, 3
Б 1, 4 Г 3, 5

А Б В Г

13. Що з переліченого стосується особливостей економічного життя південно-західної України в другій половині 19 ст.?

- А 75 % земельних площ засівалося цукровими буряками
- Б найрозвинутішою й технічно найбільш оснащеною галуззю було лісопильне виробництво
- В посилення соціального гніту, наростання антикріпосницьких виступів
- Г відсутність великого поміщицького землеволодіння та аграрного перенаселення

А Б В Г


14. Доповніть твердження

Про Юрія Федьковича відомо, що він...

- А буковинський будитель, засновник нової української літератури на Буковині
- Б завідувач кафедри української мови і літератури у Чернівецькому університеті
- В засновник та перший редактор найавторитетнішої в Галичині газети «Діло»
- Г голова НТШ, за керування якого установа набула найбільшого піднесення

А Б В Г

15. У яких містах розташовано наведені пам'ятки архітектури?



- А Київ, Полтава
Б Київ, Львів
В Одеса, Київ
Г Львів, Чернівці

А Б В Г

16. Хто був видавцем зображеної на ілюстрації єдиної щоденної україномовної громадсько-політичної газети в підросійській Україні (1906–1914)?

- А Б. Грінченко
- Б С. Чикаленко
- В В. Винниченко
- Г С. Петлюра



А	Б	В	Г

У завданнях 17–18 до кожного із чотирьох рядків інформації, позначених цифрами, доберіть один правильний варіант, позначений буквою. Поставте позначки в таблиці на перетині відповідних рядків (цифри) і колонок (букви).



17. Установіть відповідність між іменами історичних діячів та їхніми стислими характеристиками

- 1 І. Котляревський
- 2 В. Каразин
- 3 М. Максимович
- 4 П. Куліш

- А автор першого національного історичного роману «Чорна рада». Зажив слави першого професійного українського літературного критика й творця українського правопису, чимало правил якого діють і нині
- Б учений-енциклопедист, визнаний фахівець у царині історії, філології, етнографії, ботаніки. Упорядкував і видав три збірки народних пісень. Перший ректор Київського університету
- В один із засновників та ідейний провідник Кирило-Мефодіївського товариства, автор його найголовніших програмних документів, зокрема «Книги буття українського народу»
- Г учений, винахідник, просвітник, громадський діяч, з ініціативи якого було засновано Харківський університет. Мав відкриття й винаходи у харчовій промисловості, метеорології та хімії
- Д автор першого твору нової української літератури, яким започатковано розвиток нової української літературної мови, а також перших драматичних творів – п'єс «Наталка Полтавка» та «Москаль-чарівник»

	А	Б	В	Г	Д
1					
2					
3					
4					

18. Установіть відповідність між пам'ятками та їхніми творцями



- А І. Мартос
- Б І. Сошенко
- В В. Тропінін
- Г В. Шернберг
- Д Т. Шевченко

	А	Б	В	Г	Д
1					
2					
3					
4					

У завданнях 19/20 розташуйте події у хронологічній послідовності. Поставте позначки в таблиці відповідей на перетині відповідних рядків (цифри) і колонок (букви).

19. Розставте події у хронологічній послідовності

- А Русько-візантійська війна. Облога Доростола
- Б запровадження християнства як державної релігії
- В призначення київським митрополитом Іларіона
- Г подорож княгині Ольги до Царгорода

	А	Б	В	Г
1				
2				
3				
4				

20. Установіть хронологічну послідовність подій

- А укладення Кревської унії
- Б перша згадка про українських козаків у писемних джерелах
- В битва на Синіх Водах
- Г створення Кримського ханства

	А	Б	В	Г
1				
2				
3				
4				

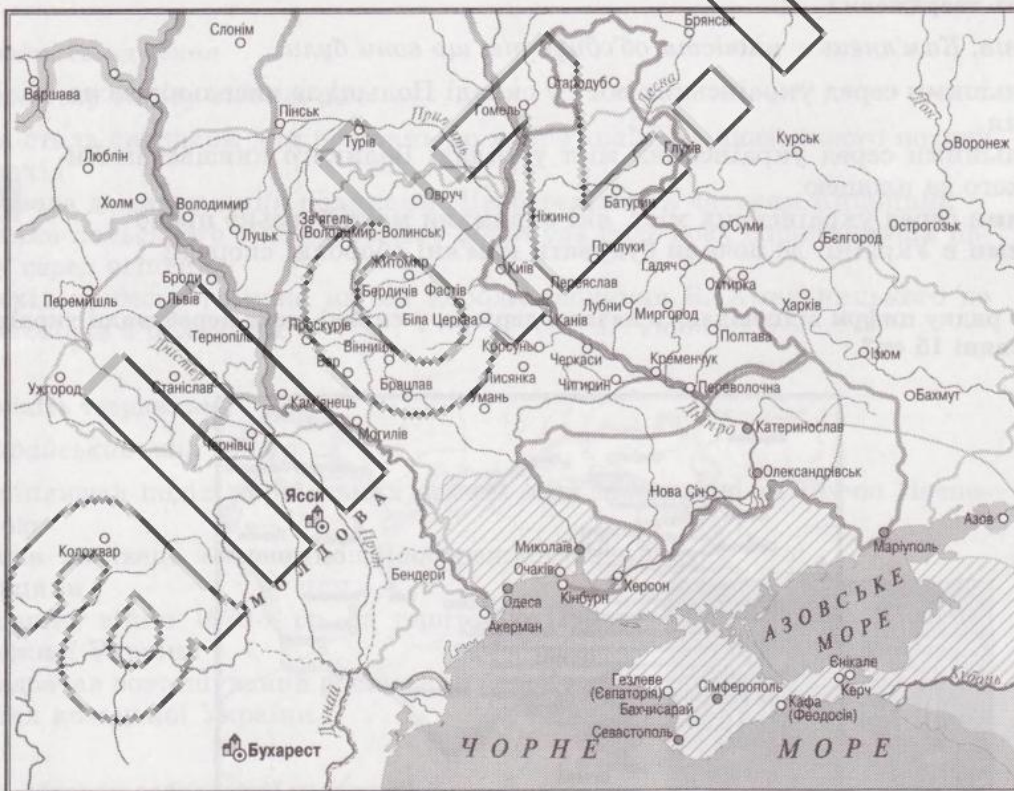
У завданнях 21–22, які мають сім варіантів відповідей, оберіть три правильні відповіді й запишіть їх номери у клітинки.

21. Укажіть твердження, які стосуються князя Данила Романовича

- 1 брав участь у поході новгород-сіверського князя Ігоря Святославовича проти половців
- 2 здійснив поїздку до столиці Золотої Орди, де зустрівся з ханом Батием
- 3 приєднав Люблінську землю, частину Закарпаття, переніс столицю до Львова
- 4 коронувався як король Русі вінцем, який надіслав Папа Римський
- 5 визнав своїм спадкоємцем Любарта, литовського князя з династії Гедиміновичів
- 6 посадив намісником у Києві воеводу Дмитра, який керував залогою під час облоги міста монголами
- 7 стабілізував внутрішнє становище князівства та домогся утворення Галицької митрополії

--	--	--

22. Виберіть події, унаслідок яких заштриховані на карті землі опинилися в складі Російської імперії



- 1 Кючук-Кайнарджійський мирний договір 1774 р.
- 2 Константинопольська австро-турецька угода 1775 р.
- 3 Ліквідація Кримського ханату 1783 р.
- 4 Яський російсько-турецький мирний договір 1791 р.
- 5 Другий поділ Речі Посполитої 1793 р.
- 6 Третій поділ Речі Посполитої 1795 р.
- 7 Бухарестський російсько-турецький мирний договір 1812 р.

--	--	--

6. Про повстання Криштофа Косинського відомо, що...

- А воно поширилося на більшу частину України, а також на Білорусь
- Б перше місто, яке захопили козаки, були Черкаси
- В воно тривало в 1595–1596 роках
- Г вирішальною стала битва під П'яткою на Житомирщині

А	Б	В	Г
<input type="checkbox"/>	<input type="checkbox"/>	<input type="checkbox"/>	<input type="checkbox"/>

7. У якому з тверджень схарактеризовано засади, на яких виникла греко-католицька церква?

- А підпорядковувалася константинопольському патріархові; мова богослужінь – церковнослов'янська
- Б ґсновувалася на православному віровченні, проте для богослужінь використовували латину
- В зберігала православний обряд, визнавала деякі важливі догмати католицького віровчення
- Г ґсновувалася на засадах православного віровчення, проте підпорядковувалася Папі Римському

А	Б	В	Г
<input type="checkbox"/>	<input type="checkbox"/>	<input type="checkbox"/>	<input type="checkbox"/>

8. Які події спричинили появу документа, уривок з якого наведено?

«Протягом цих шести тижнів козаки мусять скласти правильні реєстри, які не перевищують 6 тисяч із зазначенням, скільки їх живе в кожному старостві. Із числа 6000 козаків 1000 або більше, на розсуд коронного гетьмана і з відомо їхнього старшого, залежно від умов часу, мусять перебувати на Низу за порогами і там виконувати свою службу».

- А Похід королеви́ча Владислава із Сагайдачним на Москву 1618 р.
- Б Польсько-козацький збройний конфлікт 1625 р.
- В Смоленська (московсько-польська) війна 1634 р.
- Г Зруйнування запорожцями Кодака 1635 р.

А	Б	В	Г
<input type="checkbox"/>	<input type="checkbox"/>	<input type="checkbox"/>	<input type="checkbox"/>

9. Доповніть твердження

Про Зборівську битву відомо, що...

- А вона стала сигналом для повстань по всій Україні та визвольного походу на захід
- Б призвела до захоплення поляками Лівобережжя та частини Київщини
- В частина польського війська таємно покинула поле бою, спричинивши паніку серед решти
- Г перехід кримського хана на бік короля спонукав Б. Хмельницького до переговорів з поляками

А	Б	В	Г
<input type="checkbox"/>	<input type="checkbox"/>	<input type="checkbox"/>	<input type="checkbox"/>

10. Доповніть твердження


Бахчисарайський мир 1681 р. ...

- А закріплював поділ українських земель між Московією та Річчю Посполитою
- Б зводив нанівець автономію Лівобережної Гетьманщини
- В завершив війни 1670-х рр. за територію Правобережної України
- Г передбачав розташування російських залог в усіх містах козацької України

А	Б	В	Г
<input type="checkbox"/>	<input type="checkbox"/>	<input type="checkbox"/>	<input type="checkbox"/>

11. Хто є автором зображеної гравюри?

- А О. Тарасевич
- Б Л. Тарасевич
- В І. Щирський
- Г І. Мігура



А	Б	В	Г
<input type="checkbox"/>	<input type="checkbox"/>	<input type="checkbox"/>	<input type="checkbox"/>

12. Якою цифрою позначено українські терени, приєднані до Російської імперії внаслідок російсько-турецької війни 1787–1791 рр.?

- А 1
- Б 2
- В 3
- Г 4



А	Б	В	Г

13. У якому місті збудовано зображену пам'ятку класицизму в архітектурі?

- А Харкові
- Б Києві
- В Львові
- Г Одесі



А	Б	В	Г

14. Які напрями діяльності переважали в громадському русі в 60-х роках 19 ст.?

- 1 пропаганда соціалістичних ідей та повстання проти самодержавства
- 2 видання підручників та популярних книжок українською мовою
- 3 створення мережі таємних антиурядових революційних гуртків
- 4 організація недільних шкіл для дорослого населення
- 5 підготовка до терористичних актів проти царських посадовців

- А 1, 4
- Б 2, 3
- В 2, 4
- Г 3, 5

А	Б	В	Г

15. Яку назву мав перший український споживчий кооператив, що створив у 1883 р. В. Нагірний та інші ініціатори кооперативного руху в Галичині?

- А «Народна торгівля»
- Б «Сільський господар»
- В «Дністер»
- Г «Товариство для розвою руської штуки»

А	Б	В	Г

16. Завершіть речення

Першим масовим виступом у збройних силах Російської імперії, першим випадком переходу військової частини на бік революції 1905 р. було повстання...

- А матросів та солдатів Кронштадтського гарнізону
- Б матросів на панцернику «Потьомкін»
- В саперів київського гарнізону
- Г матросів на крейсері «Очаків» у Севастополі

А	Б	В	Г

У завданнях 17–18 до кожного із чотирьох рядків інформації, позначених цифрами, доберіть один правильний варіант, позначений буквою. Поставте позначки в таблиці на перетині відповідних рядків (цифри) і колонок (букви).

17. Установіть відповідність між стислими характеристиками та іменами історичних діячів

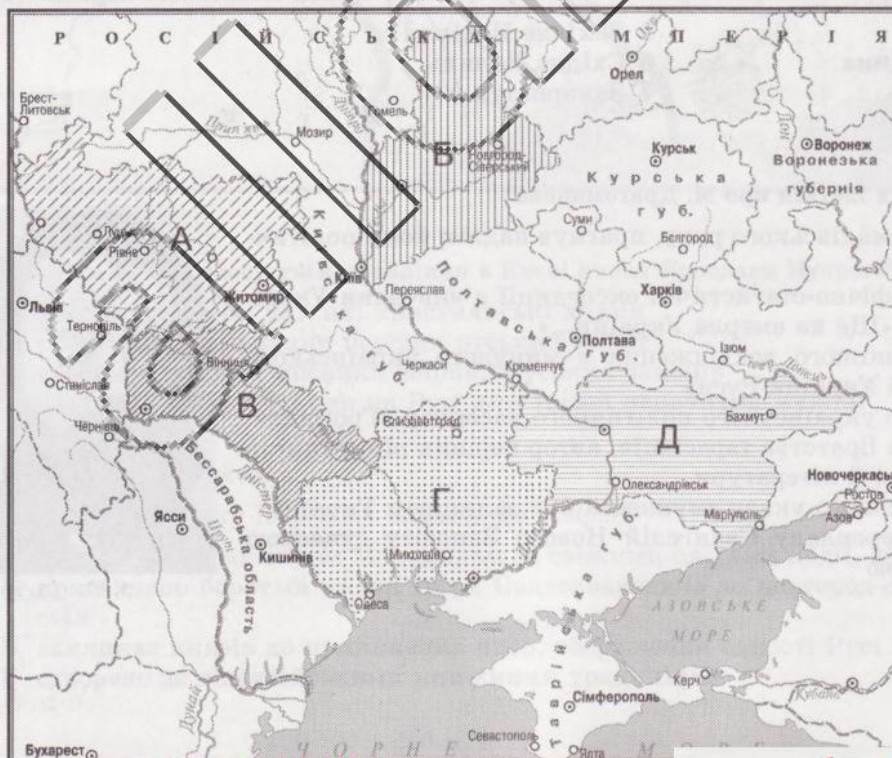
- 1 здобув гетьманську булаву після зречення гетьманства Ю. Хмельницького. Спирився на підтримку Польщі
- 2 найвидатніший запорізький кошовий отаман, який зажив слави невтомного борця проти турецьких військ і татарських орд
- 3 обіймаючи гетьманську посаду в еміграції, наполегливо відвідував провідні європейські країни з метою залучити їх до боротьби за відновлення самостійності Української держави
- 4 обраний гетьманом після відновлення гетьманства, скасованого Петром I. У своїй діяльності керувався «Рішительними пунктами», прагнув впорядкувати державне життя Гетьманщини

- А Д. Апостол
- Б І. Сірко
- В І. Скоропадський
- Г П. Тетеря
- Д П. Орлик

	А	Б	В	Г	Д
1					
2					
3					
4					

18. Установіть відповідність між назвами українських губерній у складі Російської імперії в середині 19 ст. та їх місцем розташування, позначеним буквами на карті

- 1 Чернігівська
- 2 Волинська
- 3 Подільська
- 4 Катеринославська



	А	Б	В	Г	Д
1					
2					
3					
4					

Варіант 12

Завдання 1–16 мають чотири варіанти відповідей, серед яких лише один правильний. Виберіть правильний варіант відповіді.

1. У якому рядку всі слова стосуються історії киммерійців?

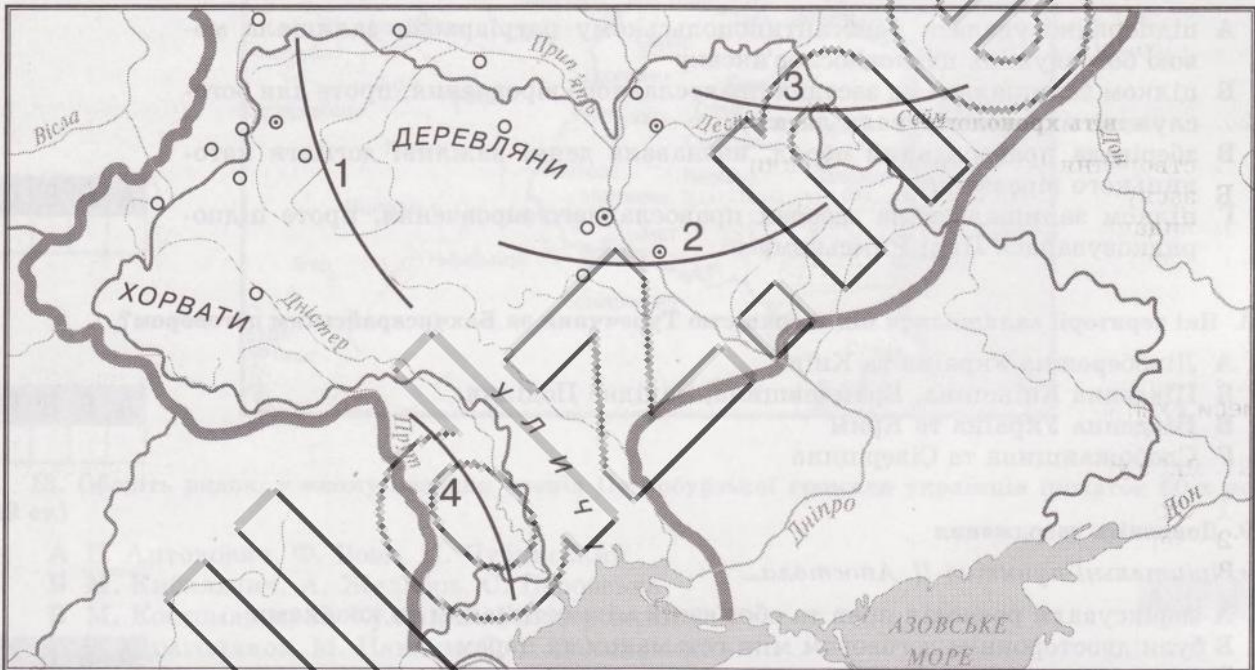
- А сорочка-панцир, «звіриний стиль», міста-держави, пектораль
- Б курган Товста Могила, асирійські лучники, землеробство
- В «воїни-молокоїди», кочовики, далекобійний лук, конярство
- Г «безсмертні» вояки, бойові колісниці, перський цар Дарій I

А	Б	В	Г
<input type="checkbox"/>	<input type="checkbox"/>	<input type="checkbox"/>	<input type="checkbox"/>

2. Скориставшись картою, укажіть цифри, якими позначено землі східнослов'янських племінних союзів сіверян і волинян за доби їх розселення

- А 1, 2
- Б 3, 4
- В 2, 3
- Г 1, 3

А	Б	В	Г
<input type="checkbox"/>	<input type="checkbox"/>	<input type="checkbox"/>	<input type="checkbox"/>



3. Який з фактів стосується правління в Києві князя Ярослава Мудрого?

- А збудовано перші кам'яні християнські храми
- Б розпочато карбування перших руських монет
- В створено перший писаний збірник руських законів
- Г заснувано перші школи на Русі для «дітей нарочитих мужів»

А	Б	В	Г
<input type="checkbox"/>	<input type="checkbox"/>	<input type="checkbox"/>	<input type="checkbox"/>

4. Доповніть твердження

Про «Слово о полку Ігоревім» відомо, що твір...

- А створено Володимиром Мономахом за свіжими слідами події, деє 1187 р.
- Б присвячено боротьбі князя Ігоря Святославовича за новгород-сіверський стіл
- В закликає князів до припинення чвар, збереження єдності Русі
- Г створено за візантійськими книжними традиціями

А	Б	В	Г
<input type="checkbox"/>	<input type="checkbox"/>	<input type="checkbox"/>	<input type="checkbox"/>

5. Ім'я якого князя пропущено в джерелі?

«...По смерті ж великого князя _____, вікопомного самодержця всієї Русі, який одолів усі поганські народи, мудрістю ума додержуючи заповідей Божих... велика смута постала в землі Руській. Зосталися ж два сини його, один, Данило, чотирьох літ, а другий, Василько, двох літ».

- А Романа Мстиславовича
- Б Лева Даниловича
- В Юрія I Львовича
- Г Юрія II Болеслава

А	Б	В	Г

6. Завершіть речення

Середньовічний цех створювали задля

- А боротьби за права на самоврядування міст
- Б виробництва та збуту ремісничих виробів
- В захисту інтересів купців та безпеки торгівлі
- Г закупівлі та продажу продуктів харчування

А	Б	В	Г

7. У якому з тверджень схарактеризовано засади, на яких виникла греко-католицька церква?

- А підпорядковувалася константинопольському патріархові; залишала мовою богослужінь церковнослов'янську
- Б цілком залишалася на засадах православного віровчення, проте для богослужінь використовували латину
- В зберігала православний обряд, визнавала деякі важливі догмати католицького віровчення
- Г цілком залишалася на засадах православного віровчення, проте підпорядковувалася Папі Римському

А	Б	В	Г

8. Які території залишалися під зверхністю Туреччини за Бахчисарайським договором?

- А Лівобережна Україна та Київ
- Б Південна Київщина, Брацлавщина, Західне Поділля
- В Південна Україна та Крим
- Г Слобожанщина та Сіверщина

А	Б	В	Г

9. Доповніть твердження

«Рішительні пункти» Д. Апостола...

- А зафіксували розподіл прав та обов'язків між гетьманом та козаками
- Б були двостороннім договором між гетьманом та царем
- В мали форму «указу» царського уряду гетьманові
- Г доповнювали «явні й таємні статті» резиденту Ізмайлову

А	Б	В	Г

10. Якої події стосується фрагмент з історичного джерела?

«...Почали вони... надто далеко поширювати своє зухвальство, привласнюючи й вимагаючи врешті для себе, начебто як надбання їхньої власності, не тільки всі ті землі, які ми придбали в останній війні від Порти Оттоманської, але навіть і ті, які зайняті поселеннями в Новоросійській губернії, мотивуючи, начебто їм і ті, й інші здавна належали... Запроваджуючи власне хліборобство, ліквідовували вони цим саму підвалину залежності їх від престолу нашого і задумували, створити із себе посеред вітчизни область повністю не залежну під власним своїм несамовитим управлінням...».

- А остаточна ліквідація царським урядом Запорізької Січі
- Б ліквідація полково-сотенного устрою на Лівобережній Україні
- В приєднання до Російської імперії Кримського ханства
- Г ліквідація полкового устрою на Слобожанщині

А	Б	В	Г

11. У якому рядку всі слова використаєте для характеристики реформ Марії-Терезії та Йосипа II у 70–80 роках 18 ст.?

- А народні школи, самоврядування міст, «Головна руська рада»
- Б зростання панщини, Чернівецький університет, «Руська трійця»
- В свобода віросповідання, Руський інститут, Львівський університет
- Г греко-католицька семінарія, єзуїтська академія, закріпачення селян

А	Б	В	Г
<input type="checkbox"/>	<input type="checkbox"/>	<input type="checkbox"/>	<input type="checkbox"/>

12. Укажіть назву заштрихованого українського регіону, що перебував у складі Австрійської монархії

- А Північна Буковина
- Б Східна Галичина
- В Західна Галичина
- Г Закарпаття

А	Б	В	Г
<input type="checkbox"/>	<input type="checkbox"/>	<input type="checkbox"/>	<input type="checkbox"/>



13. Оберіть рядок, у якому названо членів Петербурзької громади українців (початок 60-х років 19 ст.)

- А В. Антонович, Ф. Фовк, П. Чубинський
- Б М. Кибальнич, А. Желябов, С. Перовська
- В М. Костомаров, П. Куліш, В. Білозерський
- Г М. Драгоманов, М. Павлик, С. Подолинський

А	Б	В	Г
<input type="checkbox"/>	<input type="checkbox"/>	<input type="checkbox"/>	<input type="checkbox"/>

14. Що характеризує промисловий розвиток західноукраїнських земель у другій половині 19 ст.?

- А швидкі темпи розвитку машинобудівної, металургійної, залізорудної промисловості
- Б регіон був ринком збуту для товарів, вироблених сусідніми, більш розвченими промисловими регіонами
- В промисловий переворот завершився в 70-ті роки 19 ст.
- Г створення, за підтримки уряду, першого в Україні цукрового синдикату

А	Б	В	Г
<input type="checkbox"/>	<input type="checkbox"/>	<input type="checkbox"/>	<input type="checkbox"/>

15. Доповніть твердження

У грудні 1905 р. РУП перестала існувати офіційно. Група рупівців, яка обстоювала організаційно-політичну самостійність і до керівного складу якої належали В. Винниченко, С. Петлюра, М. Порш, створила

- А Українську соціал-демократичну робітничу партію (УСДРП)
- Б Українську соціал-демократичну організацію («Спілка»)
- В Українську демократично-радикальну партію (УДРП)
- Г Українську національно-демократичну партію (УНДП)

А	Б	В	Г
<input type="checkbox"/>	<input type="checkbox"/>	<input type="checkbox"/>	<input type="checkbox"/>

Усі ДПА лише на erudyt.net

16. Які терміни використасте для характеристики явища, яке ілюструє карикатура?

- 1 фемінізм
- 2 космополітизм
- 3 шовінізм
- 4 асиміляція
- 5 емансипація

- А 1, 3
- Б 1, 5
- В 2, 4
- Г 4, 5



А	Б	В	Г

«Дозвольте, пане, провести вас»

У завданнях 17–18 до кожного із чотирьох рядків інформації, позначених цифрами, доберіть один правильний варіант, позначений буквою. Поставте позначки в таблиці на перетині відповідних рядків (цифри) і колонок (букви).




17. Установіть відповідність між характеристиками груп населення Київської Русі та їхніми назвами

- 1 залежні, але особисто вільні люди, які мали власне господарство, землю, мешкали в князівських селах і платили князеві данину
- 2 залежні люди, здебільшого полонені, яких можна було продавати, дарувати, передавати в спадщину
- 3 люди, які з різних причин випадали зі свого звичного середовища, втрачали з ним зв'язок
- 4 селяни, які працювали «за купу» в господарстві землевласника

- А закупи
- Б ізгої
- В бояри
- Г челядь
- Д смерди

	А	Б	В	Г	Д
1					
2					
3					
4					

18. Установіть відповідність між зображенням храмів та їхніми назвами



- А Іллінська церква в Суботіві
- Б Георгіївська церква Видубицького монастиря в Києві
- В Покровський собор у Харкові
- Г Троїцький собор Троїцько-Іллінського монастиря в Чернігові
- Д Спасо-Преображенська церква у Великих Сорочинцях

	А	Б	В	Г	Д
1					
2					
3					

У завданнях 19–20 розташуйте події у хронологічній послідовності. Поставте позначки в таблиці відповідей на перетині відповідних рядків (цифри) і колонок (букви).

19. Установіть хронологічну послідовність подій

- А обрання київським митрополитом Петра Могили
- Б заснування Київського братства та школи при ньому
- В обрання київським митрополитом Йова Борецького
- Г заснування у Львові Успенського братства та братської школи

	А	Б	В	Г
1				
2				
3				
4				

20. Установіть хронологічну послідовність подій

- А укладення московсько-польського Віленського перемир'я
- Б Зборівсько-Збараська кампанія. Укладення Зборівського договору
- В облога українським військом табору польської армії під Жванцем
- Г похід війська Дьордя II Ракоці та полків на чолі з А. Ждановичем проти Польщі

	А	Б	В	Г
1				
2				
3				
4				

У завданнях 21–22, які мають сім варіантів відповідей, оберіть три правильні відповіді й запишіть їх номери у клітинки.

21. Що передбачав перший договір між Військом Запорізьким та Московією?

- 1 Гетьманщина втрачала незалежність й мала увійти до складу Московського царства
- 2 чисельність козацького війська встановлювалася в кількості 60 тис.
- 3 козацька держава погоджувалася виплачувати царю грошовий податок
- 4 Гетьманщина мала право на дипломатичні зносини, зокрема з Річчю Посполитою та Туреччиною
- 5 Київський митрополит мав перейти в підпорядкування московському патріархові
- 6 непорушно зберігалися державна територія, форми державного устрою та правління
- 7 гетьман отримував право увійти до складу Боярської думи – дорадчого органу при царі

--	--	--

22. Укажіть права, що здобули поміщицькі селяни за реформою 1861 р.


- 1 особиста свобода, звільнення від залежності поміщиків
- 2 право отримувати без викупу у власність землі, якими володіли до реформи
- 3 право обирати та бути обраними на найвищі державні посади
- 4 перехід в інші верстви суспільства (міщан, купців та ін.)
- 5 право купувати рухоме й нерухоме майно, вільно ним розпоряджатися та одержувати його за законами у спадок
- 6 право виїжджати за кордон з метою реалізувати свої національно-культурні права
- 7 право вільно виходити із сільської общини і ставати власниками землі

--	--	--

Варіант 13

Завдання 1–16 мають чотири варіанти відповідей, серед яких лише один правильний. Виберіть правильний варіант відповіді.

1. Руїни якого грецького міста-колонії зображено на ілюстраціях?



- А Ольвія
- Б Пантікапей
- В Тіра
- Г Херсонес

А	Б	В	Г

2. Доповніть твердження

У найдавніших писемних свідченнях (1–2 ст.) грецькі та римські автори називали давніх слов'ян...

- А скіфами
- Б сарматами
- В венетами
- Г русичами

А	Б	В	Г

3. Для оздоблення якого храму було створено зображені мозаїки?



- А Десятинної церкви в Києві
- Б Софійського собору в Києві
- В Спасо-Преображенського собору в Чернігові
- Г Михайлівського Золотоверхого собору в Києві

А	Б	В	Г

4. Доповніть твердження

Про галицьких бояр відомо, що вони здебільшого...

- А були провідниками політики князів, прагнучи посилити їхню владу
- Б втрачали свої села й маєтки, коли князь втрачав князівство
- В за першої-ліпшої нагоди ставали князями, узурповуючи владу в князівстві
- Г володіли власними спадковими землями й мало чим були зобов'язані князеві

А	Б	В	Г

5. Які повноваження передбачала посада військового писаря Запорізької Січі?

- А чинив суд на Січі, був охоронцем закону і права
- Б очолював січову канцелярію, вів усю документацію та дипломатичне листування
- В помічник кошового у військових та адміністративних справах
- Г затверджував обраних на посади, розподіляв землі між куренями

А	Б	В	Г

6. Що визначало становище греко-католицької церкви на початку 17 ст.?

- А відсутність підтримки польського короля та католицьких першопіархів
- Б зрівняння в правах з католицьким кліром: єпископи отримали місце в сенаті тощо
- В загострення суперечок з православними через майно, храми та маєтки
- Г цілковита підтримка греко-католицької церкви всіма верствами українського суспільства

А	Б	В	Г

7. Який рядок містить інформацію, що характеризує гетьманування Ю. Хмельницького 1659–1663 рр.?

- А Чорна рада в Ніжині, військовий союз із Кримським ханством, «Березневі статті»
- Б Чуднівська кампанія, Переяславські статті з Росією, Слободищенська угода
- В похід на західноукраїнські землі, Московські статті, військовий союз із Швецією
- Г Жванецька облога, «Березневі статті», військовий союз із Трансильванією

А	Б	В	Г

8. Доповніть твердження

За гетьманування Данила Апостола...

- 1 відновлено козацький полковий устрій на Правобережній Україні
- 2 встановлено точний бюджет державних видатків, визначено джерела наповнення державної скарбниці
- 3 козацькі полки перетворено на регулярні кінні (карабінерні) полки російської армії
- 4 засновано навчальний заклад вищого типу – Чернігівський колегіум
- 5 розпочато роботу зі зведення законів, що використовувалися в судочинстві, до одного кодексу

- А 1, 2
- Б 2, 5
- В 3, 4
- Г 4, 5

А	Б	В	Г

9. До яких губерній підросійської України 19 – початку 20 ст. належать заштриховані землі?



- А Катеринославської, Волинської, Харківської
- Б Чернігівської, Волинської, Харківської
- В Харківської, Подільської, Херсонської
- Г Волинської, Харківської, Херсонської

А	Б	В	Г
<input type="checkbox"/>	<input type="checkbox"/>	<input type="checkbox"/>	<input type="checkbox"/>

10. Якої організації першої половини 19 ст. стосуються наведені уривки з програмових документів?

«Україна повинна була стати "непідлеглою Річчю Посполитою в союзі слов'янським", а сам цей союз міг бути створений лише за умов знесення кріпацтва, "повної свободи і автономії народностей". Очолувати федерацію, осередком якої мав стати Київ, повинен був сейм і президент. Для усіх народів передбачалися загальне виборче право, свобода совісті, освіта рідною мовою».

- А Головна руська рада
- Б Товариство об'єднаних слов'ян
- В Кирило-Методіївське товариство
- Г «Південне товариство» декабристів

А	Б	В	Г
<input type="checkbox"/>	<input type="checkbox"/>	<input type="checkbox"/>	<input type="checkbox"/>

11. Про яку книжку йдеться у джерелі?

«М. Марк'ян Шашкевич хотів видати книжку, у якій були б вірші, казки, наукові розвідки... Шашкевич з товаришами вирішили видати книжку в Угорщині, де була вільніша цензура. Організатором цього заходу став Яків Головацький».

- А «Вінок русинам на обжинки»
- Б «Відомість о руськім язиці»
- В «Русалка Дністровая»
- Г «Становище русинів у Галичині»

А	Б	В	Г
<input type="checkbox"/>	<input type="checkbox"/>	<input type="checkbox"/>	<input type="checkbox"/>

12. У якому з варіантів названо діячів культури першої половини 19 ст., що творили в царині живопису?

- А А. Лянґе, І. Мартос, Т. Осиповський
- Б Д. Левицький, М. Остроградський, І. Сошенко
- В В. Боровиковський, М. Маркевич, Є. Гребінка
- Г Т. Шевченко, В. Тропінін, В. Штернберг

А	Б	В	Г
<input type="checkbox"/>	<input type="checkbox"/>	<input type="checkbox"/>	<input type="checkbox"/>

13. Яке твердження стосується Братства тарасівців?

- А перша українська політична організація Наддніпрянщини, діяльність якої ґрунтувалася на засадах самостійності України
- Б перша українська легальна громадсько-політична організація, яка прагнула автономії України у складі Російської імперії
- В народницький гурток бунтарського напрямку в Україні в 70-х роках 19 ст.
- Г самостійне наукове товариство, створене в Києві 1873 р. з метою вивчення географії, етнографії, економіки України

А	Б	В	Г

14. Які міста поєднала перша залізниця на західноукраїнських землях?

- А Одесу та Балту
- Б Київ та Одесу
- В Львів та Броди
- Г Львів та Перемишль


А	Б	В	Г

15. Яку назву мала перша україномовна газета в підросійській Україні, що видавалася у Лубнах на Полтавщині наприкінці 1905 р.?

- А «Хлібороб»
- Б «Рада»
- В «Громадська думка»
- Г «Український вісник»

А	Б	В	Г

16. Яка зі споруд є хрестоматійним зразком архітектурного модерну в Україні?



А	Б	В	Г

У завданнях 17–18 до кожного із чотирьох рядків інформації, позначених цифрами, доберіть один правильний варіант, позначений буквою. Поставте позначки в таблиці на перетині відповідних рядків (цифри) і колонок (букви).

17. Установіть відповідність між іменами історичних діячів та їхніми стислими характеристиками

- 1 І. Котляревський
- 2 В. Каразин
- 3 М. Максимович
- 4 П. Куліш

- А автор першого українського історичного роману «Чорна рада». Зажив слави першого професійного українського літературного критика й творця українського правопису, чимало правил якого діють і нині
- Б учений-енциклопедист, визнаний фахівець у царині історії, філології, етнографії, ботаніки. Упорядкував і видав три збірки народних пісень. Перший ректор Київського університету
- В один із засновників та ідейний провідник Кирило-Мефодіївського товариства, автор його найголовніших програмних документів, зокрема «Книги буття українського народу»
- Г учений, винахідник, просвітник, громадський діяч, з ініціативи якого було засновано Харківський університет
- Д автор першого твору нової української літератури, а також перших драматичних творів – п'єс «Наталка Полтавка» та «Москаль-чарівник»

	А	Б	В	Г	Д
1					
2					
3					
4					

18. Установіть відповідність між стислими характеристиками та назвами перших політичних партій в Україні

- 1 партія Наддніпрянської України, яка основну мету своєї діяльності вбачала в досягненні самостійності України. Створена за ініціативи М. Міхновського
 - 2 партія, створена на основі Загальної української безпартійної організації (ЗУБО). Досягнення автономії України пов'язувала з установленням у Росії конституційної монархії
 - 3 перша легальна українська політична партія. У своїй діяльності прагнула обстоювати соціальні інтереси селян Галичини й водночас захищати національні права українців
 - 4 перша політична партія в Наддніпрянській Україні, створена в Харкові групою студентської молоді
- А Русько-українська радикальна партія (РУРП)
 - Б Українська національно-демократична партія (УНДП)
 - В Українська демократична партія (УДП)
 - Г Революційна українська партія (РУП)
 - Д Українська народна партія (УНП)

	А	Б	В	Г	Д
1					
2					
3					
4					

У завданнях 19–20 розташуйте події у хронологічній послідовності. Поставте позначки в таблиці відповідно на перетині відповідних рядків (цифри) і колонок (букви).

19. Розташуйте події у хронологічній послідовності

- А початок карбування монет Володимиром Великим
- Б правління першого князя з династії Рюриковичів
- В укладення першого збірника законів «Руська правда»
- Г перша згадка назви «Україна» в писемних джерелах

	А	Б	В	Г
1				
2				
3				
4				

20. Установіть хронологічну послідовність подій другої половини 18 ст.

- А приєднання Правобережної України до складу Російської імперії
- Б остаточна ліквідація Запорізької Січі
- В початок Коліївщини, національно-визвольного руху проти Польщі
- Г ухвалення царського маніфесту про приєднання до Росії Кримського ханства

	А	Б	В	Г
1				
2				
3				
4				

У завданнях 21–22, які мають сім варіантів відповідей, оберіть три правильні відповіді й запишіть їх номери у клітинки.

21. Укажіть поняття й терміни, які стосуються освіти та культури Київської Русі й Галицько-Волинської держави

- 1 літописання та книгодрукарство
- 2 школи при церквах та монастирях
- 3 портретний та пейзажний живопис
- 4 осередки іконописного малярства
- 5 мозаїки та фрески
- 6 шкільна драма та інтермедія
- 7 полемічна література

--	--	--

22. Які з подій відбулися за доби Руїни?

- 1 Б. Хмельницький уклав союзну угоду з кримським ханом про надання військової допомоги
- 2 подання Петрові I Коломацьких чолобитних. Ув'язнення наказного гетьмана П. Полуботка в Петропавлівській фортеці
- 3 козацька (Чорна) рада в Ніжині. Обрання гетьманом І. Брюховецького
- 4 походи турецько-татарського війська на Чигирин. Зруйнування Чигирини
- 5 П. Дорошенко та козацька рада в Корсуні визнала протекторат Османської імперії
- 6 національно-визвольне повстання на Правобережній Україні на чолі із Семеном Палієм
- 7 зруйнувано Чортомлицьку Січ російськими військами

--	--	--

Варіант 14

Завдання 1–16 мають чотири варіанти відповідей, серед яких лише один правильний. Виберіть правильний варіант відповіді.

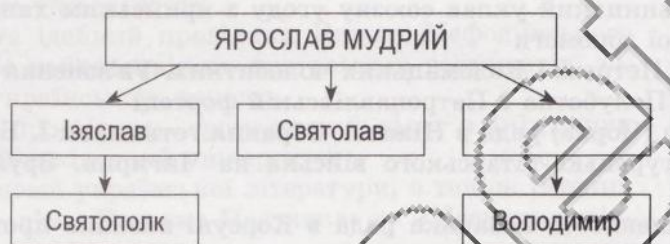
1. У якому рядку всі слова стосуються історії давніх слов'ян?

- А від Вісли до Дніпра, ліпна кераміка, бояри, дружинники
- Б союзи племен, анти, склавини, готська держава, гуни
- В укріплені городища, язичники, народні трибуни, ідол
- Г землянки, венеди, волхви, міста, цар Атей, Перун

А	Б	В	Г

2. Ім'я якого князя пропущено в схемі родоводу Ярославичів?

- А Всеволод
- Б Ігор
- В В'ячеслав
- Г Роман



А	Б	В	Г

3. Що з переліченого характеризує політичне життя Русі першої половини 11 ст.?

- А врегулювання міжкнязівських відносин у тогочасних законах
- Б зростання впливу місцевої родоплемінної знаті
- В усталення принципу успадкування великокнязівського столу
- Г зміцнення монархічної влади династії Рюриковичів

А	Б	В	Г

4. Яку рукописну книжку прикрашає зображена книжкова мініатюра?

- А Реймське євангеліє
- Б Остромирове євангеліє
- В «Ізборник Святослава»
- Г Мстиславове євангеліє



А	Б	В	Г

5. Чим визначалося золотоординське панування на українських землях?

- А хани з правлячої монгольської династії управляли князівствами
- Б сплатою данини ординцям, яка супроводжувалася переписом населення
- В присутністю в Галицько-Волинському князівстві намісників-баскаків
- Г приєднанням Київського, Переяславського та Чернігівського князівств до Золотої Орди як її улусів

А	Б	В	Г

6. Від якої держави визнав васальну залежність у 1478 р. правитель держави, територію якої заштриховано на фрагменті карти?



- А Великого князівства Московського
- Б Польського королівства
- В Османської імперії
- Г Великого князівства Литовського

А Б В Г

7. Доповніть твердження

Про Пересопницьке євангеліє відомо, що ця книга...

- А є перекладом літературною староукраїнською мовою
- Б переписана в Києві з константинопольського рукопису 11 ст.
- В надрукована в друкарні Василя-Костянтина Острозького
- Г започаткувала нове мистецьке явище — книжкову гравюру

А Б В Г

8. Унаслідок якої події було підписано Куруківську угоду?



- А походу королевича Владислава разом із Сагайдачним на Москву 1618 р.
- Б польсько-козацького збройного конфлікту 1625 р.
- В повстання Тараса Федоровича (Трясила) 1630 р.
- Г Смоленської (московсько-польської) війни 1634 р.

А Б В Г

9. На якому з портретів зображено історичного діяча, якому належить висловлювання?

«Коли Божою волею був я змушений узяти цей печальний уряд і держав його близько десяти років, ні в чому іншому був мій намір, а тільки в тому, щоб примножити вольності Запорізького Війська та вберегти безпеку й цілість Отчизни... Тому не тільки з християнами, але й з бусурманськими народами намагався поводитися прихильно та гідно, щоб Україну бачити в бажаному мирі»

А Б В Г



10. Назву якої установи пропущено в уривкові з історичного джерела?

«Після всемілостивішого від нас звільнення графа Розумовського, за його проханням, з чину гетьманського наказуємо нашому Сенатові для належного управління в Малій Росії створити там _____, у якій бути головним нашому генералу графу Рум'янцеву і з ним чотирьом великоросійським членам»

- А «Правління гетьманського уряду»
- Б Колегію закордонних справ
- В Малоросійську колегію
- Г Генеральну військову канцелярію

А	Б	В	Г

11. Доповніть твердження

Про Тараса Шевченка відомо, що він...

- А творець української національної ідеї, що через свої поетичні твори зробив її надбанням усього українського загалу
- Б ідейний провідник Кирило-Мефодіївського товариства, автор його основних програмових документів
- В упорядник і видавець трьох збірок народних пісень, які не втрачають наукової цінності й нині
- Г автор, чиї прозові твори склали дві збірки «Малоросійських повістей», до яких увійшли повісті «Конотопська відьма», «Маруся»



А	Б	В	Г

12. З діяльністю Перемишльського культурно-освітнього осередку священиків пов'язують...

- А появу української преси в Галичині
- Б розвиток нової української літератури на західноукраїнських землях
- В появу в новій українській літературі жанрів байок та романтичних балад
- Г першу хвилю українського національного відродження в Галичині

А	Б	В	Г

13. Яка з пам'яток свідчить про появу в Україні нового жанру образотворчого мистецтва в першій половині 19 ст.?



А	Б	В	Г

14. Які причини спонукали російський царат скасувати кріпацтво?

- 1 масштабне зростання селянського руху за звільнення від кріпосницької залежності та наділення селян землею
- 2 прагнення юридично врівняти всі стани в імперії
- 3 невміння більшості поміщиків раціонально організувати сільськогосподарське виробництво
- 4 поразка в Кримській війні, яка яскраво засвідчила відсталість держави в економічному та військовому плані
- 5 потреба розвитку селянського підприємництва, збільшення кількості робітників у промисловості

- А 1, 2
- Б 2, 4
- В 3, 5
- Г 4, 5

А Б В Г

--	--	--	--

15. Вставте пропущене слово

У 60-х роках 19 ст. у _____ розпочалася промислова розробка нафтового родовища, яка досягла апогею на початку 20 ст.

- А Львові
- Б Бориславі
- В Перемишлі
- Г Чернівцях

А Б В Г

--	--	--	--

16. Про брошуру, обкладинку якої зображено, відомо, що

- А надруковано 1905 р. в Києві
- Б автором був Дмитро Донцов
- В перший програмовий документ РУП
- Г йшлося про устрій самостійної України

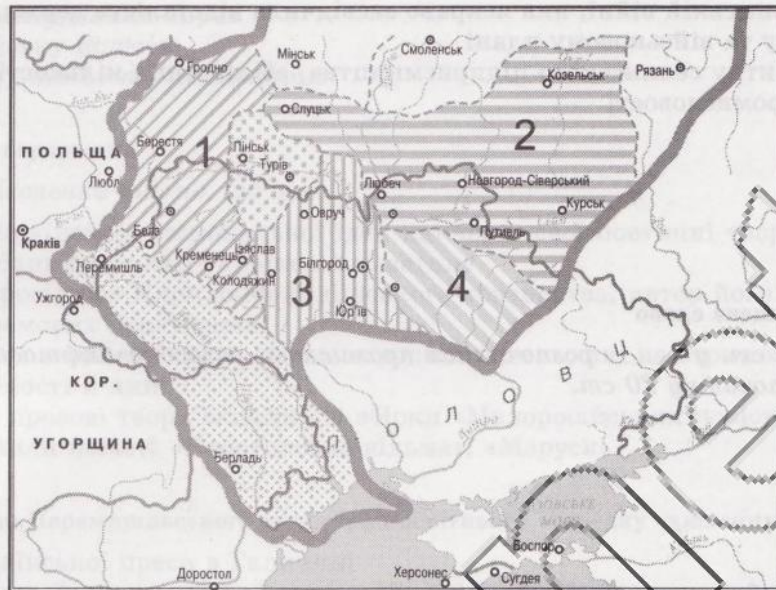
А Б В Г

--	--	--	--



У завданнях 17–18 до кожного із чотирьох рядків інформації, позначених цифрами, доберіть один правильний варіант, позначений буквою. Поставте позначки в таблиці на перетині відповідних рядків (цифри) і колонок (букви).

17. Установіть відповідність між місцем розташування руських князівств за доби роздробленості та їхніми назвами



- А Київське
- Б Волинське
- В Чернігівське

- Г Переяславське
- Д Галицьке

	А	Б	В	Г	Д
1					
2					
3					
4					

18. Установіть відповідність між іменами історичних діячів та їхніми стислими характеристиками

- 1 М. Грушевський
- 2 І. Франко
- 3 М. Драгоманов
- 4 В. Антонович

А один із засновників і головних ідеологів Русько-української радикальної партії, автор приблизно 6000 праць різних жанрів, зокрема соціально-психологічних та історичних повістей

Б автор найґрунтовнішого дослідження з минулого українського народу – «Історії України-Руси». Завідував кафедрою історії у Львівському університеті

В лідер та ідейний натхненник Київської громади протягом усього її існування. Один з ініціаторів «нової ери»

Г дослідник української етнографії та фольклористики, у 1869–1870 рр. очолював етнографічно-статистичні експедиції з вивчення України. Автор вірша «Ще не вмерла України...».

Д один з лідерів громадського руху, прагнув надати йому політичного характеру, видавець першого українського політичного часопису «Громада»

	А	Б	В	Г	Д
1					
2					
3					
4					

У завданнях 19–20 розташуйте події у хронологічній послідовності. Поставте позначки в таблиці відповідей на перетині відповідних рядків (цифри) і колонок (букви).

19. Розташуйте події у хронологічній послідовності

- А князь Дмитро Вишневецький заснував першу Січ-фортецю
- Б перше велике козацьке повстання
- В утворення реєстрового козацтва
- Г люблінський унійний сейм. Утворення Речі І

	А	Б	В	Г
1				
2				
3				
4				

20. Установіть хронологічну послідовність подій

- А створення у Львові культурно-освітнього товариства «Просвіта»
- Б заснування Чернівецького університету
- В створення Літературного товариства ім. Шевченка у Львові
- Г заснування у Львові першого професійного українського театру

	А	Б	В	Г
1				
2				
3				
4				

У завданнях 21–22, які мають сім варіантів відповідей, оберіть три правильні відповіді й запишіть їх номери у клітинки.

21. У яких твердженнях ідеться про Б. Хмельницького?

- 1 зваживши на зовнішньо- і внутрішньополітичну ситуацію кінця 1653 р., уклав українсько-московський договір
- 2 керував розбудовою козацької держави — Війська Запорізького, згодом зосередив у своїх руках законодавчу, виконавчу й судову владу
- 3 мав неабиякі династичні проекти, зокрема взяв шлюб із дочкою молдавського господаря Василе Лупу Розандою
- 4 прагнучи зміцнити міжнародне становище козацької України, уклав союз із Кримським ханством, установив дружні взаємини з Валахією, Трансільванією, Венецією
- 5 уклавши українсько-російський договір, перший з українських гетьманів здійснив візит до Москви
- 6 виконуючи союзницькі зобов'язання, разом із трансільванським князем Дьордем II Ракоці командував військом у поході проти Польщі 1656–1657 рр.
- 7 брав участь у підготовці українсько-польського Гадяцького договору

--	--	--

22. Укажіть назви політичних партій на землях півдавстрійської України наприкінці 19 ст.

- 1 Українська народна партія (УНП)
- 2 Революційна українська партія (РУП)
- 3 Українська соціал-демократична робітнича партія (УСДРП)
- 4 Українська національно-демократична партія (УНДП)
- 5 Русько-українська радикальна партія (РУРП)
- 6 Українська соціал-демократична партія (УСДП)
- 7 Українська демократично-радикальна партія (УДРП)

--	--	--

Варіант 15

Завдання 1–16 мають чотири варіанти відповідей, серед яких лише один правильний. Виберіть правильний варіант відповіді.

1. За якого періоду давньої історії людства *вперше* утвердився спосіб життя, відтворений на картині-реконструкції?

- А палеоліт
- Б мезоліт
- В неоліт
- Г ранній залізний вік



А	Б	В	Г

2. Завершіть твердження

Велике розселення слов'ян започаткувало...

- А переселення та масові вторгнення варварських племен на терени Західної Римської імперії
- Б колонізацію остготськими племенами Північного Причорномор'я та створення держави Германаріха
- В створення варварських королівств на теренах Західної Римської імперії
- Г поділ слов'ян на етнічні групи, з яких згодом постали сучасні слов'янські народи

А	Б	В	Г




3. Що з переліченого стосується доби правління Ярославовичів?

- А зміцнення центральної влади
- Б припинення половецьких нападів
- В загострення князівських міжусобиць
- Г утвердження вотчинного землеволодіння

А	Б	В	Г

4. На якому фото зображено церкву Св. Пантелеймона (кінець 12 ст.) поблизу сучасного Галича?

А	Б	В	Г



5. Доповніть твердження

Одним з напрямків діяльності міських церковних братств на початку 17 ст. було...

- А висвячення православних священників та єпископів
- Б призначення голови міського самоврядування – віта
- В захист православних і контроль за діяльністю духівництва
- Г контроль за діяльністю ремісничих цехів та збуту виробів

А	Б	В	Г
<input type="checkbox"/>	<input type="checkbox"/>	<input type="checkbox"/>	<input type="checkbox"/>

6. Назву якого географічного об'єкта пропущено у фрагменті джерела?

«Султан турецький Осман підійшов до з незліченним кінним і пішим військом, що перевищувало християнські сили в десятки разів, і зупинився на відстані однієї милі від польків... У суботу, 18 серпня, турецьке військо напало на польський табір, на ту частину, де були козаки. І почали палити з гармат і рушниць, і так до вечора, але нікому не завдавали шкоди... Козаки, перехрестившись, почали бити чужинців, поки ті не витримали, й почали тікати...»

- А Кодак
- Б Кафа
- В Кумейки
- Г Хотин

А	Б	В	Г
<input type="checkbox"/>	<input type="checkbox"/>	<input type="checkbox"/>	<input type="checkbox"/>

7. Що з переліченого ініціював Петро Могила як один із заходів, спрямованих на піднесення культурно-церковного життя?

- А підготовка до друку та видання Острозької біблії
- Б написання першого підручника з вітчизняної історії
- В створення Київського колегіуму (згодом академії)
- Г переклад Пересопницького євангелія

А	Б	В	Г
<input type="checkbox"/>	<input type="checkbox"/>	<input type="checkbox"/>	<input type="checkbox"/>

8. Унаслідок Національно-визвольної війни проти польського панування

- А усі українські терени було звільнено з-під польської влади
- Б селяни й міщани здобули право вільно вступати до козацького стану
- В влада та основні багатства сконцентровано в руках козацьких низів
- Г зросла кількість господарств із застосуванням примусової праці залежних селян

А	Б	В	Г
<input type="checkbox"/>	<input type="checkbox"/>	<input type="checkbox"/>	<input type="checkbox"/>

9. Доповніть твердження

Умови Андрусівського перемир'я 1667 р. ...

- А передбачали розміщення російських залог в усіх містах козацької України
- Б забороняли українському гетьманові зносити з іноземними державами
- В закріплювали поділ українських земель між Польщею та Московією
- Г клали край походам запорожців проти Османської імперії та Кримського ханства

А	Б	В	Г
<input type="checkbox"/>	<input type="checkbox"/>	<input type="checkbox"/>	<input type="checkbox"/>

10. Чим закінчилося національно-визвольне повстання 1702—1704 рр.?

- А придушенням повстання польською владою
- Б захопленням Правобережної України армією шведського короля
- В І. Мазепа приєднав Правобережну Україну до Гетьманщини
- Г відродженням Правобережної Гетьманщини на чолі із С. Палієм

А	Б	В	Г
<input type="checkbox"/>	<input type="checkbox"/>	<input type="checkbox"/>	<input type="checkbox"/>

11. На які адміністративно-територіальні округи поділялися Вольності Війська Запорізького в період Нової Січі?

- А полки
- Б повіти
- В губернії
- Г паланки

А	Б	В	Г
<input type="checkbox"/>	<input type="checkbox"/>	<input type="checkbox"/>	<input type="checkbox"/>

12. Виберіть портрет історичного діяча, про якого йдеться у фрагменті із джерела

«Перший письменник отого нового письменства, той живий мотор, що прилучив закордонну Україну до всеукраїнського національного руху. Його ідеї, то пригашаючи, то новим полум'ям розгораючи, зробились підвалиною всього громадського життя для наших земляків закордонних... (тобто галичан)» (Сергій Єфремов).


А



Б



В



Г



А Б В Г

--	--	--	--

13. Доповніть твердження

У результаті схвалення таємного розпорядження міністра внутрішніх справ Валуєва (1863)...

- 1 істотно зменшилося видання книжок українською мовою
- 2 занепавав громадський рух, українофіли зазнали переслідувань
- 3 закрито Південно-Західний відділ Російського географічного товариства
- 4 припинено видання «Киевского телеграфа» — друкованого органа Київської громади
- 5 припинено діяльність осередків «Просвіти» у Києві, Миколаєві, Катеринославі

А 1, 2

Б 1, 4

В 2, 5

Г 3, 4

А Б В Г

--	--	--	--

14. Завершіть речення

На кінець 19 ст. 75 % населення Східної Галичини та Буковини були зайняті у...

- А видобутку та переробці нафти
- Б сільському та лісовому господарствах
- В кооперативному русі
- Г промислового виробництва

А Б В Г

--	--	--	--

15. Про наслідки якої події/явища/процесу свідчать наведені факти?

• створення нових можливостей для капіталізації сільського господарства; • переселення частини українських селян у малоосвоєні райони азійської частини імперії; • зростання продуктивності сільського господарства; • формування потужної верстви середнього та заможного селянства; • прискорення обезземелення селянства; • посилення майнового розшарування селян; • зростання соціальної напруги в суспільстві

А економічної кризи 1900–1903 рр.

Б аграрної реформи П. Столипіна

В ухвалення циркуляра Столипіна від 20 січня 1910 р.

Г концентрації промислового виробництва

А Б В Г

--	--	--	--

16. Який київський храм зображено?

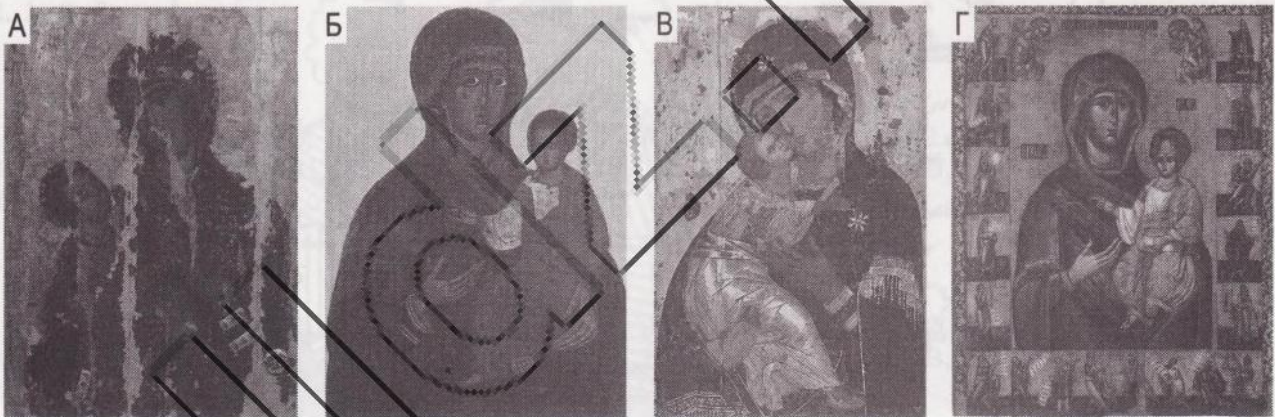
- А Софійський собор
- Б Володимирський собор
- В Успенська соборна церква Печерського монастиря
- Г Андріївська церква



А	Б	В	Г

У завданнях 17–18 до кожного із чотирьох рядків інформації, позначених цифрами, доберіть один правильний варіант, позначений буквою. Поставте позначки в таблиці на перетині відповідних рядків (цифри) і колонок (букви).

17. Установіть відповідність між зображенням ікон та їхніми назвами



- А Вишгородська ікона Богородиці
- Б Дорогобузька ікона Богородиці
- В Ікона Богородиці із церкви в Підгородцях
- Г Холмська ікона Богородиці
- Д Свенська ікона Богородиці зі святыми Антонієм та Феодосієм Печерськими

	А	Б	В	Г	Д
1					
2					
3					
4					

18. Установіть відповідність між іменами історичних діячів та поняттями, які їх стосуються

- 1 Д. Заболотний
- 2 І. Мечников
- 3 І. Пулюй
- 4 А. Кримський

- А клітинна теорія імунітету
- Б історія запорізького козацтва
- В українська грамати́ка та сходознавство
- Г електротехніка, рентген
- Д методи боротьби із чумою

	А	Б	В	Г	Д
1					
2					
3					
4					

У завданнях 19–20 розташуйте події у хронологічній послідовності. Поставте позначки в таблиці відповідей на перетині відповідних рядків (цифри) і колонок (букви).

19. Установіть хронологічну послідовність подій

- А Любецький з'їзд (снем) князів
- Б створення Остромирового євангелія
- В створення «Слова о полку Ігоревім»
- Г укладення першої редакції «Повісті минулих літ»

	А	Б	В	Г
1				
2				
3				
4				

20. Установіть хронологічну послідовність подій

- А царський указ про закріпачення селян Лівобережної та Слобідської України
- Б остаточна ліквідація гетьманства
- В остаточна ліквідація царським урядом Запорізької Січі
- Г Коліївщина

	А	Б	В	Г
1				
2				
3				
4				

У завданнях 21–22, які мають сім варіантів відповідей, оберіть три правильні відповіді й запишіть їх номери у клітинки.

21. Якими цифрами позначено українські губернії, що входили до складу Новоросійського і Бессарабського генерал-губернаторства в середині 19 ст.?



22. Продовжте твердження

Для економічного розвитку західноукраїнських земель у другій половині 19 ст. були характерні...

- 1 відсутність великих поміщицьких землеволодінь
- 2 домінування залізорудної та машинобудівної промисловості
- 3 завершення промислового перевороту в 70-х роках 19 ст.
- 4 виробництво й первинна обробка сировини
- 5 зростання видобутку нафти й озокериту
- 6 володіння промисловими підприємствами українськими капіталістами
- 7 масова трудова еміграція селян до США, Канади, Бразилії

Відповіді

Варіант 1

1. А; 2. Г; 3. Б; 4. Б; 5. Б; 6. Б; 7. А; 8. А; 9. Г; 10. Б; 11. В; 12. Б; 13. Б; 14. А; 15. А; 16. В; 17. 1Д, 2Б, 3В, 4А; 18. 1В, 2А, 3Г, 4Б; 19. 1В, 2Б, 3Г, 4А; 20. 1В, 2Г, 3А, 4Б; 21. 4, 5, 6; 22. 1, 4, 6.

Варіант 2

1. Б; 2. А; 3. Б; 4. В; 5. А; 6. Г; 7. В; 8. Б; 9. Б; 10. А; 11. А; 12. Б; 13. Б; 14. В; 15. В; 16. В; 17. 1Г, 2В, 3Б, 4Д; 18. 1Д, 2Г, 3Б, 4В; 19. 1Б, 2Г, 3В, 4А; 20. 1Г, 2А, 3Б, 4Б; 21. 1, 5, 6; 22. 1, 5, 6.

Варіант 3

1. В; 2. В; 3. А; 4. В; 5. Б; 6. В; 7. В; 8. Г; 9. Б; 10. Г; 11. Б; 12. А; 13. Б; 14. Б; 15. Г; 16. А; 17. 1Д, 2А, 3Г, 4Б; 18. 1Г, 2Д, 3А, 4Б; 19. 1В, 2Г, 3Б, 4А; 20. 1Б, 2В, 3Г, 4А; 21. 3, 4, 5; 22. 1, 4, 6.

Варіант 4

1. В; 2. А; 3. В; 4. В; 5. В; 6. А; 7. В; 8. Б; 9. Г; 10. Б; 11. Б; 12. А; 13. А; 14. В; 15. А; 16. Б; 17. 1Б, 2А, 3Д, 4Г; 18. 1Г, 2В, 3Б, 4А; 19. 1Г, 2А, 3В, 4Б; 20. 1Г, 2В, 3А, 4Б; 21. 3, 5, 6; 22. 1, 2, 6.

Варіант 5

1. В; 2. Б; 3. В; 4. В; 5. Б; 6. Б; 7. Б; 8. Б; 9. Б; 10. Г; 11. Б; 12. Г; 13. В; 14. Б; 15. В; 16. А; 17. 1В, 2Б, 3Г, 4А; 18. 1Б, 2Г, 3Д, 4В; 19. 1Г, 2А, 3В, 4Б; 20. 1В, 2Б, 3Г, 4А; 21. 2, 4, 5; 22. 3, 4, 6.

Варіант 6

1. Б; 2. Б; 3. В; 4. В; 5. Б; 6. А; 7. Г; 8. Б; 9. В; 10. А; 11. В; 12. Б; 13. Г; 14. В; 15. Б; 16. Г; 17. 1Б, 2А, 3Г, 4Д; 18. 1Г, 2А, 3В, 4Б; 19. 1В, 2А, 3Г, 4Б; 20. 1В, 2Б, 3Г, 4А; 21. 4, 5, 6; 22. 2, 3, 6.

Варіант 7

1. В; 2. Б; 3. Б; 4. Г; 5. Б; 6. В; 7. В; 8. Г; 9. В; 10. Б; 11. Г; 12. А; 13. В; 14. Б; 15. Г; 16. В; 17. 1Д, 2А, 3Г, 4Б; 18. 1В, 2Г, 3Д, 4Б; 19. 1Б, 2А, 3Г, 4Б; 20. 1Г, 2В, 3А, 4Б; 21. 1, 4, 5; 22. 1, 4, 6.

Варіант 8

1. Б; 2. В; 3. А; 4. Г; 5. А; 6. В; 7. Г; 8. В; 9. Б; 10. Б; 11. Г; 12. Г; 13. Б; 14. В; 15. Г; 16. Г; 17. 1А, 2Г, 3Д; 4Б; 18. 1Б, 2А, 3Г, 4В; 19. 1В, 2Г, 3А, 4Б; 20. 1В, 2Б, 3Г, 4А; 21. 2, 3, 5; 22. 3, 5, 6.

Варіант 9

1. Б; 2. Г; 3. Б; 4. Б; 5. В; 6. В; 7. В; 8. Г; 9. Б; 10. В; 11. А; 12. Г; 13. В; 14. А; 15. Б; 16. Г; 17. 1Б, 2Г, 3А, 4Б; 18. 1Б, 2Д, 3А, 4В; 19. 1Г, 2В, 3А, 4Б; 20. 1Г, 2А, 3Б, 4Б; 21. 4, 5, 6; 22. 2, 4, 5.

Варіант 10

1. Б; 2. Б; 3. Б; 4. Г; 5. В; 6. В; 7. Г; 8. А; 9. А; 10. В; 11. Г; 12. Б; 13. Б; 14. А; 15. Б; 16. Б; 17. 1Д, 2Г, 3Б, 4А; 18. 1В, 2Д, 3Г, 4А; 19. 1Г, 2А, 3Б, 4В; 20. 1В, 2А, 3Г, 4Б; 21. 2, 4, 6; 22. 1, 3, 4.

Варіант 11

1. А; 2. Б; 3. Г; 4. В; 5. Б; 6. Г; 7. В; 8. Б; 9. Г; 10. В; 11. Г; 12. Г; 13. Б; 14. В; 15. А; 16. Б; 17. 1Г, 2Б; 3Д, 4А; 18. 1В, 2А, 3В, 4Д; 19. 1Г, 2Б, 3А, 4В; 20. 1Б, 2Г, 3В, 4А; 21. 3, 4, 5; 22. 1, 4, 6.

Варіант 12

1. В; 2. Г; 3. В; 4. В; 5. А; 6. Б; 7. В; 8. Б; 9. В; 10. А; 11. В; 12. А; 13. В; 14. Б; 15. А; 16. Б; 17. 1Д, 2Г, 3Б, 4А; 18. 1Д, 2Б, 3В, 4Г; 19. 1Г, 2Б, 3В, 4А; 20. 1Б, 2В, 3А, 4Г; 21. 2, 3, 6; 22. 1, 4, 5.

Варіант 13

1. Г; 2. В; 3. Б; 4. Г; 5. Б; 6. В; 7. Б; 8. Б; 9. Г; 10. В; 11. В; 12. Г; 13. А; 14. Г; 15. А; 16. А; 17. 1Д, 2Г, 3Б, 4А; 18. 1Д, 2В, 3А, 4Г; 19. 1В, 2А, 3В, 4Г; 20. 1В, 2Б, 3Г, 4А; 21. 2, 4, 5; 22. 3, 4, 5.

Варіант 14

1. Б; 2. А; 3. Г; 4. Б; 5. Б; 6. В; 7. А; 8. Б; 9. Г; 10. В; 11. А; 12. Г; 13. А; 14. Г; 15. Б; 16. В; 17. 1Б, 2В, 3А, 4Г; 18. 1В, 2А, 3Д, 4В; 19. 1А, 2Г, 3В, 4Б; 20. 1Г, 2А, 3В, 4Б; 21. 1, 2, 4; 22. 4, 5, 6.

Варіант 15

1. В; 2. Г; 3. В; 4. Г; 5. В; 6. Г; 7. В; 8. Б; 9. В; 10. В; 11. Г; 12. Б; 13. А; 14. Б; 15. Б; 16. Б; 17. 1Г, 2Б, 3А, 4В; 18. 1Д, 2А, 3Г, 4В; 19. 1В, 2А, 3Г, 4В; 20. 1Б, 2Г, 3В, 4А; 21. 2, 4, 5; 22. 4, 5, 7.

