

С. Л. Капіруліна

2018


ВИДАВНИЧИЙ ДІМ
ОСВІТА



ЗБІРНИК ЗАВДАНЬ З ГЕОГРАФІЇ

- 6 контрольних робіт у двох варіантах
- зручний бланк для відповідей

З урахуванням змін у програмі 2017 року



ДПА

9

Усі ДПА лише на erudyt.net

Для проведення
Підсумкової
Атестації

ГЕОГРАФІЯ
ЗБІРНИК ЗАВДАНЬ

9 клас

Київ
Видавничий дім «Освіта»
2017

Усі ДПА лише на erudyt.net

ПОЯСНЮВАЛЬНА ЗАПИСКА

Збірник контрольних робіт для проведення державної підсумкової атестації (ДПА) учнів 9-х класів загальноосвітніх навчальних закладів складено відповідно до чинної програми з географії, а саме «Україна у світі: природа, населення» (8 клас) та «Україна і світове господарство» (9 клас).

Основною метою даного посібника є проведення об'єктивного оцінювання навчальних досягнень дев'ятикласників. Окрім того, цей посібник може бути використаним для підготовки учнів до зовнішнього незалежного оцінювання за повний курс середньої загальноосвітньої школи.

Збірник містить шість уніфікованих контрольних робіт у двох варіантах. Кожна контрольна робота складається з 22 однотипних завдань закритої та відкритої форми. На їх виконання відведено 90 хвилин.

Під час проведення контрольної роботи учням не дозволяється користуватися атласами та іншими джерелами картографічних знань.

Для учнів, які навчалися за програмою поглибленого вивчення предмета, у кожному варіанті завдань пропонується ще 2 завдання, позначених *, кожне з яких оцінюється в 6 балів.

Програма	Приблизна кількість	
	%	завдань
«Україна у світі: природа, населення», 8 клас (70 год)	57	12 (13)
«Україна і світове господарство», 9 клас (52 год)	43	10 (11)

Номер завдання	Тип завдання та спосіб його оцінювання	Кількість балів
Завдання I–II рівня складності (разом на 36 балів)		
№ 1–10	Завдання з вибором однієї правильної відповіді. Якщо у бланку відповідей позначено тільки одну правильну відповідь — завдання оцінюється в 1 бал, якщо два або більше варіантів відповідей, навіть якщо серед них є правильний або не позначено відповіді взагалі — завдання оцінюється в 0 балів	1 завдання — 1 бал. Разом за 10 завдань — 10 балів
№ 11 і 12	Завдання на встановлення відповідності. Якщо у бланку відповідей записано всі правильні комбінації цифр і літер, завдання оцінюється в 4 бали. Відповідно кожна правильно визначена відповідність оцінюється в 1 бал	1 завдання — максимум 4 бали. Разом за 2 завдання — 8 балів
№ 13 і 14	Завдання на визначення множинної відповіді (3 правильні відповіді із 7 запропонованих варіантів). Якщо у бланк відповідей вписано 3 правильні відповіді — завдання оцінюється в 3 бали, 1 бал за кожен правильно вказану відповідь (цифру)	1 завдання — максимум 3 бали. Разом за 2 завдання — 6 балів
№ 15 і 16	Практичні завдання. Максимальна кількість балів за кожне правильно, послідовно та виконане в повному обсязі практичне завдання — 6 балів	За 1 завдання — 6 балів. Разом за 2 завдання — 12 балів
Завдання III–IV рівня складності (разом на 36 балів)		
№ 17–19	Завдання відкритого типу. За змістовно правильну, логічно послідовну відповідь на завдання — 6 балів	За 1 завдання — 6 балів. Разом за 3 завдання — 18 балів

Усі ДПА лише на erudyt.net

Номер завдання	Тип завдання та спосіб його оцінювання	Кількість балів
№ 18*–19*	Завдання відкритого типу, які демонструють творче мислення, застосування географічних знань у нових нестандартних ситуаціях, виконують лише ті учні, які навчалися в класах з поглибленим вивченням географії	За 1 завдання — 6 балів. Разом за 2 завдання — 12 балів
№ 20–21	Завдання географічного змісту з використанням математичних розрахунків. За правильно розраховані та логічно записані результати роботи та відповідь на завдання — 3 бали	За 1 завдання — 3 бали. Разом за 2 завдання — 6 балів
№ 22	Завдання на контурній карті. Передбачає нанесення інформації відповідно до завдання та розробку легенди карти, яка виконується ручкою. Правильно та в повному обсязі виконане завдання на контурній карті оцінюється 12-ма балами	12 балів

Пропоновані завдання кожного варіанта орієнтовані на перевірку рівня досягнень учнів за 12-бальною шкалою оцінювання навчальних досягнень. Будь який бал, що набрав учень, є позитивним, тобто оцінювання ґрунтується на принципі позитивізму. Максимально можливий бал за правильно виконаний варіант атестаційної роботи становить 72 бали (84 бали для поглибленого вивчення). Оцінка учня залежить від кількості правильних відповідей на тестові завдання та якості виконання теоретичних завдань і завдання на контурній карті.

Пропонуємо набрані бали переводити в оцінки, користуючись такою таблицею:

Бали	1–6	7–12	13–18	19–24	25–30	31–36	37–42	43–48	49–54	55–60	61–66	67–72
Оцінка	1	2	3	4	5	6	7	8	9	10	11	12

Для проведення державної підсумкової атестації вчитель готує для кожного учня окремий варіант завдань цього збірника та контурну карту. Для відповіді на відкриті завдання учням видаються чисті аркуші паперу зі штампом навчального закладу (чернетка). Наприкінці посібника міститься уніфікований бланк для відповідей на тестові завдання та контурна карта, які вчитель може роздрукувати в необхідній кількості.

Учні можуть використовувати матеріали збірника під час підготовки до уроків, до ДПА у 9 класі та зовнішнього незалежного оцінювання.

Усі ДПА лише на erudyt.net

КОНТРОЛЬНА РОБОТА № 1

Варіант 1

I. Завдання з вибором однієї правильної відповіді

1. Назвіть чинник, що визначає рівнинний характер течії більшості річок України.

- А переважаючий тип клімату
- Б особливості геологічної будови території
- В характер рельєфу
- Г особливості рослинного покриву території країни

2. Укажіть найбільший залізорудний басейн в Україні.

- А Білозерський
- Б Керченський
- В Кременчуцький
- Г Криворізький

3. У яких країнах утворилася найбільш чисельна українська діаспора?

- А Аргентина, Канада, США
- Б Польща, Іспанія, Португалія
- В Росія, Китай, Монголія
- Г Німеччина, Франція, Італія

4. Укажіть корисну копалину, що належить до рудних.



5. Назвіть головний в Україні район осушувальної меліорації.

- А Закарпаття
- Б Поліська низовина
- В Волинь
- Г Прикарпаття

6. Назвіть форми мікрорельєфу, що є найбільш поширеними на території Подільської височини.

- А карстові печери
- Б терикони
- В яри та балки
- Г дюни та бархани

7. Оберіть міста України, у яких є найбільші річкові порти.

- А Ясинувата, Лозова, Ковель
- Б Одеса, Іллічівськ, Миколаїв
- В Київ, Дніпро, Херсон
- Г Київ, Одеса, Сімферополь

8. Назвіть країни, які входять до складу Європейського Союзу, але не входять до НАТО.

- А Франція, Німеччина, Велика Британія
- Б Швеція, Швейцарія, Норвегія
- В Греція, Італія, Іспанія
- Г Фінляндія, Австрія, Ірландія

9. Оберіть області України з найбільшою щільністю сільського населення.

- А Донецька і Луганська
- Б Херсонська і Миколаївська
- В Чернівецька і Івано-Франківська
- Г Тернопільська і Чернігівська

10. Назвіть вид економічної діяльності промисловості будівельних матеріалів, яка орієнтується на розміщення родовищ мергелю, вапняків, крейди, доломітів.





- А виробництво цементу
- Б цегельне виробництво
- В виробництво лінолеуму
- Г залізобетонних конструкцій

II. Завдання на встановлення відповідності

11. Установіть відповідність між річками та формами рельєфу, у межах яких вони протікають.

- | | |
|------------|----------------------------|
| А Ворскла | 1 Подільська височина |
| Б Збруч | 2 Причорноморська низовина |
| В Інгулець | 3 Закарпатська низовина |
| Г Прип'ять | 4 Полтавська низовина |
| | 5 Поліська низовина |

12. Установіть відповідність між умовними знаками топографічної карти та об'єктами на місцевості, які їм відповідають.

- | | |
|---|--------------------|
| А  | 1 горб |
| Б  | 2 поодиноке дерево |
| В  | 3 луки |
| Г  | 4 поодинокий кущ |
| | 5 колодязь |

III. Завдання з вибором трьох правильних варіантів відповідей із семи

13. Оберіть сфери людської діяльності, які належать до первинного сектору економіки.

- | | |
|---------------------------------|-------------------------|
| 1 фінансова діяльність | 5 добувна промисловість |
| 2 сільське господарство | 6 лісове господарство |
| 3 виробництво деревини і паперу | 7 хімічні виробництва |
| 4 комп'ютерне програмування | |

14. Назвіть види економічної діяльності господарства України, які мають достатню кількість вітчизняної сировини для власного розвитку.

- 1 виробництво алюмінію
- 2 виробництво сталі
- 3 виробництво цукру
- 4 виробництво льняних тканин
- 5 виробництво паливно-змащувальних речовин
- 6 виплавка чавуну
- 7 виробництво бавовняних тканин

IV. Практичні завдання

15. Підпишіть країни, з якими межує Україна.



Усі ДПА лише на erudyt.net

16. За допомогою масштабу контурної карти, яку вам видав учитель, визначте відстань між столицею України та столицею однієї з країн Європи (за вибором учителя). Поясніть, що таке масштаб. Опишіть, як ви ним скористалися.

V. Завдання відкритого типу

17. Накресліть схему структури рослинництва світу, позначте на ній 2 галузі спеціалізації країн помірною та 2 галузі спеціалізації країн тропічного клімату.
18. Коротко опишіть події, які відбувалися в межах сучасної території України в період материкового зледеніння.
- 18*. Поясніть, чому корисні копалини належать до вичерпних невідновлюваних видів ресурсів. Укажіть, чому родовища корисних копалин сильно виснажені в Європі. Яким чином європейські країни вирішили питання нестачі корисних копалин?
19. Поясніть, що таке синоптична карта. З якою метою її використовують?
- 19*. Пригадайте, що таке вісь Воейкова. Поясніть, як і де вона впливає на клімат України.

VI. Завдання географічного змісту з використанням математичних розрахунків

20. Скориставшись статистичними даними таблиці (на 1 січня 2017 р.), розрахуйте густоту населення Вінницької області. Поясніть, що таке густота населення.

Область	Сукупна кількість населення	Міське населення	Сільське населення	Площа, км ²
Вінницька	1 590 857	810 124	780 233	26,5

21. На плані місцевості відстань від села Лісне до села Прибережне становить 10 см. Дійсна відстань між цими населеними пунктами — 500 м. Визначте масштаб плану місцевості. Поясніть, що таке план місцевості.





VII. Завдання на контурній карті

22. Позначте та підпишіть на контурній карті країни «Великої сімки» (G-7). Укажіть назви їхніх столиць.

КОНТРОЛЬНА РОБОТА № 1

Варіант 2

I. Завдання з вибором однієї правильної відповіді

1. Укажіть територію України, де можна помилуватися водоспадами Шипот та Учансу.
А Карпати
Б Кримські гори
В пороги Дніпра
Г пороги Дністра
2. Оберіть перелік річок, які впадають безпосередньо в Чорне море.
А Інгулець, Ворскла
Б Прут, Тиса
В Південний Буг, Дністер
Г Західний Буг, Сейм
3. Виберіть твердження, у змісті якого проявляється сутність широтної зональності в межах України.
А зміна рівнин і гір у межах території держави із заходу на схід
Б зміна природних зон рівнинної частини України з півночі на південь
В зміна природних комплексів у Карпатах і Кримських горах від підніжжя до вершини
Г поширення континентальності клімату із заходу на схід
4. Укажіть назву геологічної ери, яку описано в тексті: «Потужні процеси горотворення та формування сучасного рельєфу, руйнування гірських систем мезозойської ери, формування сучасного рослинного та тваринного світу з переважанням ссавців».
А архейська
Б кайнозойська
В палеозойська
Г протерозойська
5. Укажіть країни, які, як і Україна, найбільшу долю електроенергії виробляють на теплових електростанціях.
А Канада, Норвегія, Бразилія
Б США, Китай, Франція
В Китай, Росія, Польща
Г Ісландія, Швеція, Фінляндія
6. Укажіть корисну копалину, що належить до паливних.
А  Б  В  Г 

Усі ДПА лише, на erudyt.net

7. Назвіть країни, з якими Україна межує на південному заході.

- А Молдова і Румунія
Б Росія і Білорусь
В Білорусь і Польща
Г Польща і Словаччина

8. Назвіть подальший перспективний шлях розвитку електроенергетики України.

- А збільшення видобутку палива
Б збільшення імпорту палива
В збільшення імпорту електроенергії
Г використання нетрадиційних видів енергоносіїв

9. Оберіть область України, яка не має виходу до державного кордону України.

- А Кіровоградська і Полтавська
Б Львівська і Одеська
В Закарпатська і Вінницька
Г Івано-Франківська і Тернопільська

10. Оберіть міста України, у яких працюють найбільші морські порти.

- А Ясинувата, Лозова, Ковель
Б Одеса, Іллічівськ, Миколаїв
В Київ, Дніпро, Херсон
Г Київ, Одеса, Сімферополь

II. Завдання на встановлення відповідності

11. Установіть відповідність між тектонічними структурами та формами рельєфу в межах України.

- | | |
|-----------------------------------|-------------------------------------|
| А Східноєвропейська платформа | 1 Придніпровська височина |
| Б Український щит | 2 Донецький кряж |
| В Воронежський кристалічний масив | 3 Східноєвропейська рівнина |
| Г Донецька складчаста область | 4 Українські Карпати |
| | 5 схили Середньоросійської височини |

12. Установіть відповідність між умовними знаками топографічної карти та об'єктами на місцевості, які їм відповідають.

- | | |
|---|----------------------|
| А  | 1 колодязь |
| Б  | 2 водяний млин |
| В  | 3 дерев'яний міст |
| Г  | 4 рідколісся |
| | 5 залізнична станція |

III. Завдання з вибором трьох правильних варіантів відповідей із семи

13. Назвіть підприємства різних видів економічної діяльності господарства України, які працюють переважно на імпортній сировині.

- | | |
|-------------------------|------------------------|
| 1 бавовняний комбінат | 5 алюмінієвий комбінат |
| 2 сталепрокатний завод | 6 крохмальний завод |
| 3 цукрова фабрика | 7 меблева фабрика |
| 4 нафтопереробний завод | |

14. Назвіть види сільськогосподарської діяльності, найбільше розвинені в приміських зонах.

- | | |
|------------------------|------------------------|
| 1 овочівництво | 5 виноградарство |
| 2 зернове господарство | 6 кролівництво |
| 3 садівництво | 7 молочне господарство |
| 4 птахівництво | |

IV. Практичні завдання

15. Позначте на контурній карті відповідними умовними знаками та підпишіть назви основних залізрудних (5) та марганцеворудних (1) басейнів України.



16. За допомогою масштабу контурної карти, яку вам видав учитель, визначте відстань між двома обласними центрами України (за вибором учителя). Поясніть, що таке масштаб. Опишіть, як ви ним скористалися.

V. Завдання відкритого типу

17. Накресліть схему структури тваринництва світу, позначте на ній 4 основні напрямки. Вкажіть країни, які є лідерами з розведення цих основних видів тварин.

Усі ДПА лише на erudyt.net

18. Поясніть значення терміна «кліматичний чинник». Коротко розкажіть про його вплив на розвиток сільського господарства на прикладі України та Австралійського Союзу.

18*. Схарактеризуйте проблеми та назвіть 2–3 перспективи розвитку країн з розвинутою економікою.

19. Назвіть найбільш родючі ґрунти України. Під дією яких чинників вони утворилися? Назвіть країни світу, які мають на своїй території такі самі родючі ґрунти.

19*. Схарактеризуйте зміни природи, які відбулися в зоні степів України під впливом господарської діяльності людини.

VI. Завдання географічного змісту з використанням математичних розрахунків

20. Поясніть, що таке місцевий час. Визначте місцевий час у Миколаєві (Львівська область), якщо у Миколаєві (Миколаївська область) в цей час 14 год 35 хв.



21. Довжина річки Дніпро становить 2201 км, похил Дніпра — 11 см/км. Визначте, на якій висоті над рівнем моря бере свій початок Дніпро. Пригадайте назву цього географічного об'єкта.

VII. Завдання на контурній карті





22. Позначте відповідними умовними знаками та підпишіть басейни та регіони України, багаті на родовища паливних корисних копалин: нафти та газу (3), кам'яного (2) та бурого (1) вугілля.

Усі ДПА лише на erudyt.net

КОНТРОЛЬНА РОБОТА № 2

Варіант 1

I. Завдання з вибором однієї правильної відповіді

1. Назвіть найбільші озера, що розташовані у басейні річки Дунай поблизу Чорного моря.
А Світязь і Синевир
Б Синевир і Бребенескул
В Бребенескул і Ялпуг
Г Кагул і Ялпуг
2. Назвіть тектонічну структуру України, у межах якої розташовані значні родовища залізних та марганцевих руд.
А Волино-Подільська плита
Б Український кристалічний щит
В Дніпровсько-Донецька западина
Г Причорноморська западина
3. Оберіть перелік приладів, які використовують для спостереження за погодою.
А батискаф, батисфера, ехолот
Б планшет, глобус, сейсмограф
В барометр, флюгер, гігрометр
Г компас, курвіметр, нівелір
4. Укажіть корисну копалину, що належить до рудних.
А  Б  В  Г 
5. Назвіть ефективний спосіб, який допоможе запобігти водній і вітровій ерозії у степовій і лісовій зонах України.
А створення полезахисних смуг
Б застосування осушувальної меліорації
В створення антропогенних форм рельєфу
Г застосування біологічних методів боротьби зі шкідниками
6. До якої людської раси належать араби?
А європеїдної
Б монголоїдної
В негроїдної
Г перехідної

7. Яка основна причина зумовила переважання в експорті України напівфабрикатів та сировини?

- А високий попит на готову продукцію на внутрішньому ринку
- Б значні запаси природних ресурсів
- В відсутність споживачів на внутрішньому ринку
- Г низька конкурентоспроможність вітчизняної готової продукції

8. Назвіть промислові вузли, які входять до складу Придніпровського металургійного району.

- А Алчевський і Маріупольський
- Б Кременчуцький і Криворізький
- В Маріупольський і Запорізький
- Г Костянтинівський і Запорізький

9. Оберіть правильне твердження, що стосується повітряного транспорту світу.





- А забезпечує найбільший пасажирообіг
- Б не залежить від погодних умов
- В забезпечує найбільший вантажообіг
- Г найдорожчий вид транспорту

10. Оберіть із запропонованих видів економічної діяльності ті, що належать до інфраструктури.

- А сільське і лісове господарство
- Б легка і харчова промисловість
- В транспорт і зв'язок
- Г лісова і деревообробна промисловість

II. Завдання на встановлення відповідності

11. Установіть відповідність між умовними знаками топографічної карти та об'єктами на місцевості, які їм відповідають.

- А 
- Б 
- В 
- Г 

- 1 яр
- 2 школа
- 3 поодиноке дерево
- 4 електростанція
- 5 вітряк

12. Установіть відповідність між видами економічної діяльності промисловості та основними центрами, у яких вони розміщені.

- А Армянськ, Красноперекопськ, Калуш, Стебник
- Б Харків, Запоріжжя, Дніпро, Лубни
- В Київ, Житомир, Львів, Івано-Франківськ
- Г Амвросіївка, Балаклія, Кривий Ріг, Здолбунів
- 1 машинобудування
- 2 меблева промисловість
- 3 хімічна промисловість
- 4 кольорова металургія

Усі ДПА лише на erudyt.net

III. Завдання з вибором трьох правильних варіантів відповідей із семи

13. Виберіть три правильних твердження.

1. Існує чимало країн, що досягли високого рівня соціально-економічного розвитку за майже повної відсутності природних ресурсів.
2. Природні умови не впливають на спеціалізацію господарства різних країн світу.
3. Оскільки природні ресурси розміщені на планеті дуже нерівномірно, ресурсозабезпеченість країн неоднакова.
4. За сферою використання ресурси поділяються на вичерпні та невичерпні.
5. Природно-ресурсний потенціал не впливає на розміщення продуктивних сил.
6. Ресурсозабезпеченість країн повністю залежить від кількості наявних ресурсів.
7. Природні ресурси класифікують переважно за походженням, характером їх відновлення та способом використання в господарстві.

14. Укажіть характеристики, спільні для двох природних зон України – лісостепової та степової.

- 1 територія виходить до морського узбережжя країни
- 2 абсолютні висоти поверхні не перевищують 200 м
- 3 для річок характерна весняна повінь
- 4 у ґрунтовому покриві переважають різні типи чорноземів
- 5 поширені ділянки буково-грабових і дубових лісів
- 6 у межах кожної зони виокремлюють кілька підзон
- 7 збереглася незначна частка природних ландшафтів

IV. Практичні завдання

15. Намалюйте на картосхемі маршрут і підпишіть країни Європи (4, вказавши назви їхніх столиць), яким можливо доставляти продукцію «Славутського солодового заводу» Хмельницької області у столицю Бельгії.



16. За допомогою масштабу контурної карти, яку вам видав учитель, визначте відстань між столицею України та столицею однієї з країн Європи (за вибором учителя). Поясніть, що таке масштаб. Опишіть, як ви н

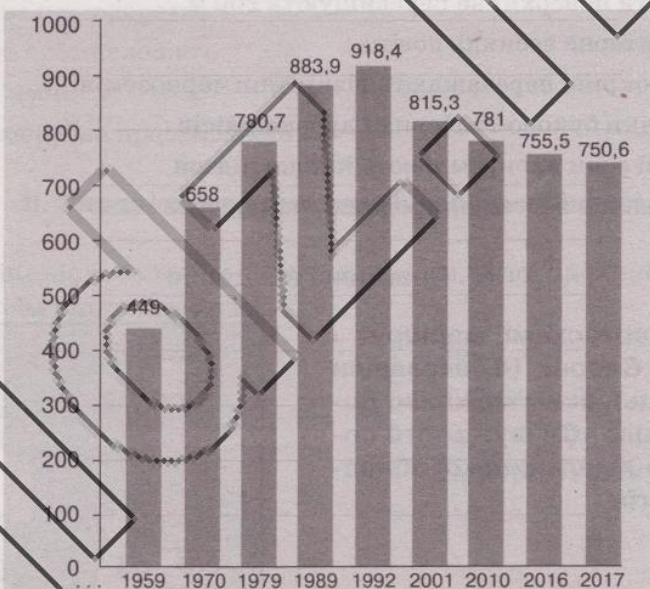
Усі ДПА лише на erudyt.net

V. Завдання відкритого типу

17. Накресліть схему структури паливного комплексу України. Вкажіть назви основних районів видобутку паливних ресурсів.
18. Що таке «Червона книга України»? Поясніть її значення.
- 18*. Поясніть, що таке «Зелена книга України». Для чого її створено?
19. Поясніть сутність фізико-географічного районування. Які великі природні райони (зони) виділяються в межах України?
- 19*. Коротко схарактеризуйте географічне положення однієї з європейських країн «Великої сімки». Поясніть його вплив на розвиток господарства цієї країни.

VI. Завдання географічного змісту з використанням математичних розрахунків

20. Використовуючи наведену діаграму, розрахуйте середні показники збільшення (1970–1992 рр.) і зменшення (1992–2017 рр.) чисельності населення Запоріжжя. Зробіть висновки.



Чисельність населення Запоріжжя за роками

21. Визначте атмосферний тиск на вершині г. Роман-Кош (1545 м), якщо біля підніжжя (абсолютна висота — 75 м) він складає 740 мм рт. ст. Поясніть, що таке абсолютна висота.





VII. Завдання на контурній карті

22. Підпишіть на карті Європи країни, які є лідерами з розвитку альтернативної енергетики, що використовує енергію Сонця (2), вітру (2), морських припливів (1), внутрішню енергію Землі (1). Вкажіть назви стс

КОНТРОЛЬНА РОБОТА № 2

Варіант 2

I. Завдання з вибором однієї правильної відповіді

1. Назвіть природну зону України, яка має найбільшу площу боліт.
А мішані та широколистяні ліси
Б лісостеп
В Українські Карпати
Г степ
2. Укажіть наукову назву зміни природних комплексів з висотою, що спостерігається в гірських районах України.
А широтна зональність
Б циркуляція атмосфери
В залежність від абсолютної висоти
Г висотна поясність
3. Яка тенденція щодо тривалості життя населення існує в більшості країн світу?
А тривалість життя чоловіків більша за тривалість життя жінок
Б середня тривалість життя населення збільшується тільки в країнах, що розвиваються
В тривалість життя жінок більша за тривалість життя чоловіків
Г середня тривалість життя населення збільшується тільки в розвинених країнах
4. Укажіть корисну копалину, що належить до хімічної сировини.
А  Б  В  Г 
5. Оберіть перелік річок, які є притоками Дніпра.
А Інгулець, Десна, Ворскла
Б Прут, Прип'ять, Тиса
В Південний Буг, Інгул, Дністер
Г Західний Буг, Сіверський Донець, Сейм
6. Назвіть закономірність, яка спостерігається у зміні ґрунтів, рослинного покриву та тваринного світу на рівнинній частині України.
А цілісність
Б широтна зональність
В азональність
Г висотна поясність

7. Оберіть міста України, які є найбільшими залізничними вузлами.

- А Ясинувата, Лозова, Ковель
- Б Одеса, Іллічівськ, Миколаїв
- В Київ, Дніпро, Херсон
- Г Київ, Одеса, Сімферополь

8. Назвіть країну, з якою Україна не має спільних кордонів.

- А Росія
- Б Польща
- В Німеччина
- Г Білорусь

9. Оберіть рису, яка найвигідніше характеризує економіко-географічне положення України.

- А відсутність сильних морозів і вітрів узимку
- Б розташована в тій частині Європи, де найбільш сприятливі для господарювання ґрунтово-кліматичні умови
- В жодна з країн-сусідів не належить до економічно високорозвинених
- Г має безпосередній вихід до морів Атлантичного та Північного Льодовитого океанів

10. Території яких країн світу мають значні площі аридних земель, що не сприяє розвитку в них сільського господарства?

- А Єгипет, Бразилія, Перу
- Б Китай, Нова Зеландія, Чилі
- В Саудівська Аравія, Австралія, Монголія
- Г Туркменистан, Грузія, Вірменія

II. Завдання на встановлення відповідності

11. Установіть відповідність між умовними знаками топографічної карти та об'єктами на місцевості, які їм відповідають.



- 1 річка, напрям течії
- 2 джерело і струмок
- 3 шосе і лінія зв'язку
- 4 будинок лісника
- 5 металевий міст

12. Установіть відповідність між електростанціями та джерелом енергії, яке вони використовують.

- А Рівненська
- Б Бурштинська
- В Кременчуцька
- Г Новоозерна

- 1 енергія води
- 2 вугілля, мазут, газ
- 3 енергія вітру
- 4 сонячна енергія
- 5 енергія атома

III. Завдання з вибором трьох правильних варіантів відповідей із семи

13. Укажіть твердження, що характерні для населення України та переважної більшості країн Європи.

- 1 вікова структура населення свідчить про процес старіння нації
- 2 проблема зайнятості населення характерна лише для великих і середніх міст
- 3 існує значний потік внутрішніх мігрантів через екологічні проблеми
- 4 частка чоловіків переважає у всіх вікових категоріях
- 5 у країні високий рівень народжуваності та тривалості життя населення
- 6 депопуляція відбувається через від'ємний природний приріст
- 7 більшість працездатного населення задіяна у сфері послуг

14. Укажіть риси, що характерні для степової зони України.

- 1 територія виходить до морського узбережжя країни
- 2 абсолютні висоти поверхні не перевищують 200 м
- 3 збереглася незначна частка природних ландшафтів
- 4 у ґрунтовому покриві переважають різні типи чорноземів
- 5 поширені ділянки буково-грабових і дубових лісів
- 6 практично немає природоохоронних територій
- 7 створено штучні лісополоси з хвойних порід дерев

IV. Практичні завдання

15. Позначте та підпишіть на контурній карті найбільші центри машинобудування України: енергетичного (1), сільськогосподарського машинобудування (2), суднобудування та судноремонтну (3) та адміністративні області, у межах яких вони розташовуються.



16. За допомогою масштабу контурної карти, яку вам видав учитель, визначте відстань між столицею України та столицею однієї з країн Європи (за вибором учителя). Поясніть, що таке масштаб. Опишіть, як ви ним скористалися.

V. Завдання відкритого типу

17. Накресліть схему структури енергетичного комплексу України. Наведіть приклади найбільших електростанцій.
18. Поясніть, що таке картографічна проекція, з якою метою використовують картографічні проекції.
- 18*. Назвіть країни-лідери (3) з виробництва окремих видів (3) продукції машинобудування. Вкажіть чинники, що сприяли розвитку цих галузей у країнах.
19. Поясніть, що таке геохронологічна таблиця. Як і для чого її використовують?
- 19*. Схарактеризуйте демографічні проблеми, які впливають на розвиток економіки України.

VI. Завдання географічного змісту з використанням математичних розрахунків.

20. Скориставшись статистичними даними таблиці (на 1 січня 2017 р.), розрахуйте густоту міського населення Київської області. Поясніть, що таке міське населення.

Область	Сукупне населення	Міське населення	Сільське населення	Площа, км ²
Київська	1 734 471	1 077 880	656 591	26,5

21. Поясніть, що таке сонячна радіація. Визначте альбедо земної поверхні (у відсотках) за місяць, якщо відомі такі показники: пряма сонячна радіація — 500 кал/см², розсіяна — 200 кал/см², відбита — 350 кал/см².





VII. Завдання на контурній карті

22. Вам відомо, що Україна — приморська країна. Позначте та підпишіть на контурній карті Європи країни світу, які є також приморськими (3), та ті, які є ізольованими (3). Вкажіть назви їхніх столиць.

КОНТРОЛЬНА РОБОТА № 3

Варіант 1

I. Завдання з вибором однієї правильної відповіді

- 1. В Україні, як і в більшості країн світу, на розміщення підприємств металургійної та хімічної промисловості найбільше впливають чинники**
 - А сировинний і екологічний
 - Б енергетичний і транспортний
 - В споживчий і паливний
 - Г наявність трудових і водних ресурсів
- 2. Назвіть регіони України, яким характерні такі несприятливі природні процеси як селі, зсуви, землетруси.**
 - А Донбас, Придніпров'я
 - Б Карпати, Кримські гори
 - В Полісся, Поділля
 - Г Сумщина, Полтавщина
- 3. Визначте чинник, який сприяє надмірному зволоженню зони мішаних лісів України.**
 - А значне випаровування за невеликої кількості опадів
 - Б велика кількість опадів і незначне випаровування
 - В близькість до Атлантичного океану
 - Г танення навесні значного снігового покриву
- 4. Укажіть корисну копалину, що належить до хімічної сировини.**
 - А 
 - Б 
 - В 
 - Г 
- 5. Назвіть причину нерівномірного розподілу опадів і температури на території України.**
 - А значна протяжність території
 - Б особливості рельєфу
 - В переважаючий рослинний покрив
 - Г особливості тектонічної будови
- 6. Визначте форми рельєфу, які утворюються під дією вітрів.**
 - А карстові
 - Б еолові
 - В акумулятивні
 - Г денудаційні

7. **Оберіть правильне твердження, що стосується залізничного транспорту України.**
- А найдорожчий вид транспорту
 - Б має найбільший вантажообіг в Україні
 - В залежить від погодних умов
 - Г забезпечує найбільший пасажирообіг в Україні
8. **За адміністративно-територіальним устроєм Україна, як і більшість країн світу, належить до**
- А президентсько-парламентських республік
 - Б унітарних держав
 - В конституційних монархій
 - Г федеративних республік
9. **Укажіть термін, що відповідає визначенню: «зосередження основної діяльності підприємства на виробництві вузького кола продукції, товарів і послуг».**
- А спеціалізація
 - Б кооперування
 - В комбінування
 - Г концентрація
10. **Назвіть головну причину розміщення підприємств з виробництва залізобетонних конструкцій у великих містах.**
- А значні родовища сировини
 - Б велика кількість споживачів готової продукції
 - В велика кількість металургійних підприємств, відходи яких використовує ця галузь
 - Г необхідність залучення великої кількості висококваліфікованих працівників

II. Завдання на встановлення відповідності

11. **Установіть відповідність між умовними знаками топографічної карти та об'єктами на місцевості, які їм відповідають.**



- 1 залізниця
- 2 будинок лісника
- 3 болото з очеретом
- 4 горб
- 5 фруктовий сад

12. **Установіть відповідність між водосховищами та областями, на території яких вони розташовані.**

- А Печенізьке
- Б Дністровське
- В Канівське
- Г Дніпродзержинське

- 1 Хмельницька
- 2 Полтавська
- 3 Запорізька
- 4 Харківська

III. Завдання з вибором трьох правильних варіантів відповідей із семи

13. У яких частинах Світового океану знайдено найбільш значні шельфові родовища нафти та природного газу?

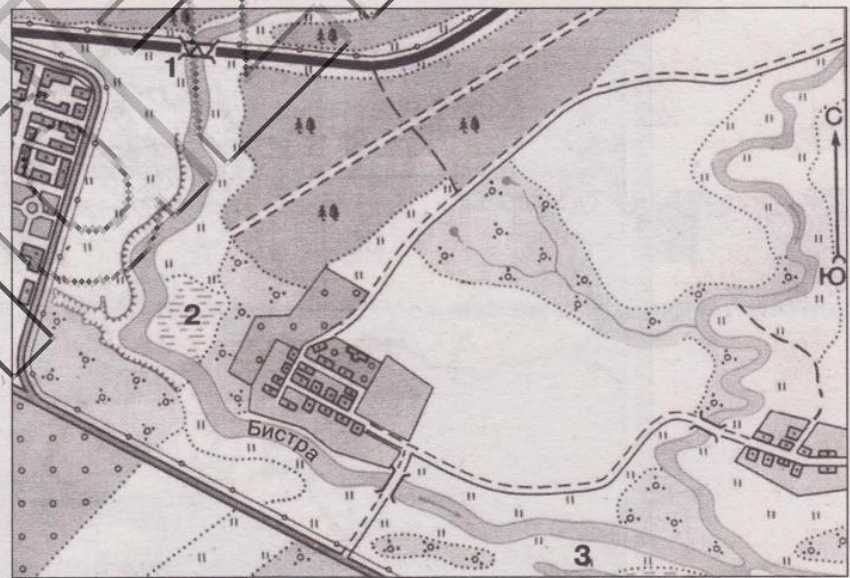
- 1 Балтійське море
- 2 Північне море
- 3 Перська затока
- 4 Жовте море
- 5 Мексиканська затока
- 6 Чорне море

14. Назвіть природоохоронні території, які розташовані в природній зоні степів.

- 1 Єланецький степ
- 2 Шацький природний заповідник
- 3 біосферний заповідник Асканія Нова
- 4 природний заповідник Медобори
- 5 національний природний парк «Подільські Товтри»
- 6 Древлянський природний заповідник
- 7 Дунайський біосферний заповідник

IV. Практичні завдання

15. Укажіть, що таке азимут. Визначте азимут, якими треба рухатися туристу, який подорожує на човні річкою Бистра від залізничного моста (1) спочатку до болота (2), а потім до озера Довге (3).



16. За масштабом контурної карти, яку вам видав учитель, визначте відстань між столицею України та столицею однієї з країн Азії (за вибором учителя). Поясніть, що таке масштаб. Опишіть, як ви ним скористалися.

V. Завдання відкритого типу

17. Накресліть схему структури транспортного комплексу України. Поясніть, чому і який з видів транспорту є найбільш метеозалежним.
18. Коротко схарактеризуйте якісний склад рудних корисних копалин України.
- 18*. Поясніть, що таке конфліконебезпечний регіон. Назвіть основні конфліконебезпечні регіони світу (3–4).
19. Поясніть, яких змін зазнала природна зона степів під впливом господарської діяльності людини.
- 19*. Схарактеризуйте природні особливості нашої країни, які сформувалися під впливом її географічного положення.

VI. Завдання географічного змісту з використанням математичних розрахунків

20. На кінець 2016 р. населення Китаю складало 1 382 494 824 осіб. За допомогою даних таблиці розрахуйте чисельність населення країни на кінець 2015 року.

Народжених	Померлих	Міграційний приріст населення
17 175 472	9 859 738	41 254

21. Визначте місцевий час у місті Мукачеве (Закарпатська область), якщо у Гадячі (Полтавська область) в цей час 10 год 45 хв.



VII. Завдання на контурній карті





22. Позначте та підпишіть на контурній карті світу країни Азії (7), які входять до складу «Великої двадцятки» (G-20). Вкажіть назви

Усі ДПА лише на erudyt.net

КОНТРОЛЬНА РОБОТА № 3

Варіант 2

I. Завдання з вибором однієї правильної відповіді

- 1. Укажіть чинник, від якого залежить наявність льодовиків на вершинах Карпат і Кримських гір.**
 - А географічне положення
 - Б крутизна схилів
 - В висота гір
 - Г особливості клімату території
- 2. Оберіть найбільшу затоку Чорного моря.**
 - А Каркінітська
 - Б Каламітська
 - В Джарилгацька
 - Г Тендрівська
- 3. Оберіть із зазначених фізико-географічних процесів лісостепової зони України той, що зумовлений височинним рельєфом, переважанням лесових гірських порід та відносно великою кількістю опадів.**
 - А засолення ґрунтів
 - Б водна ерозія (яроутворення)
 - В заболочування
 - Г абразія берегів
- 4. Укажіть корисну копалину, що належить до будівельної сировини.**
 - А 
 - Б 
 - В 
 - Г 
- 5. Оберіть прилади, які використовують для спостережень за погодою на метеостанціях.**
 - А курвіметр, геліограф, компас
 - Б нівелір, теодоліт, флюгер
 - В гігрометр, барометр, термометр
 - Г вольтметр, амперметр, мультиметр
- 6. Укажіть твердження, яке не стосується Азовського моря.**
 - А в море впадає річка Салгир
 - Б максимальна глибина — 2245 м
 - В найбільша солоність спостерігається в затоці Сиваш
 - Г відрізняється високою біологічною продуктивністю

7. Які столиці світу мають найбільші у світі аеропорти?

- А Берлін — Німеччина, Нью-Йорк — США, Оттава — Канада, Київ — Україна
- Б Нью-Делі — Індія, Амстердам — Нідерланди, Токіо — Японія, Москва — Росія
- В Рим — Італія, Москва — Росія, Пекін — Китай, Берлін — Німеччина
- Г Пекін — Китай, Токіо — Японія, Лондон — Велика Британія, Париж — Франція

8. Назвіть галузь харчової промисловості України, яка належить до галузей міжнародної спеціалізації.

- А чорна металургія
- Б текстильна
- В олійно-жирова
- Г кольорова металургія

9. Яку групу сільськогосподарських культур доцільно вирощувати в межах однієї сільськогосподарської зони в Європі та в Україні?

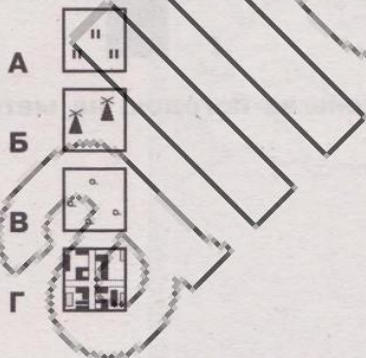
- А соняшник, льон-довгунець, рис, виноград
- Б цукровий буряк, тютюн, хміль, бавовник
- В кукурудза, озиме жито, просо, баштанні
- Г льон-довгунець, картопля, озиме жито, овес

10. Виберіть негативну рису економіко-географічного положення України.

- А розміщення на перехресті важливих транспортних шляхів
- Б вихід до Чорного і Азовського морів
- В значна витратність транзитних перевезень
- Г вихід через річку Дунай до держав Центральної Європи

II. Завдання на встановлення відповідності

11. Установіть відповідність між умовними знаками топографічної карти та об'єктами на місцевості, які їм відповідають.



- 1 населений пункт
- 2 луки
- 3 вітряк
- 4 поодиноке дерево
- 5 рідколісся

12. Установіть відповідність між галузями промисловості та основними центрами, у яких вони розміщені.

- А Одеса, Черкаси, Северодонецьк, Рівне
- Б Львів, Запоріжжя, Кременчук
- В Шпола, Сміла, Городище, Андрушівка
- Г Жидачів, Обухів, Корюківка
- 1 целюлозно-паперова
- 2 виробництво азотних добрив
- 3 автомобільна
- 4 бобошномельна

Усі ДПА лише на erudyt.net

III. Завдання з вибором трьох правильних варіантів відповідей із семи

13. Оберіть правильні твердження

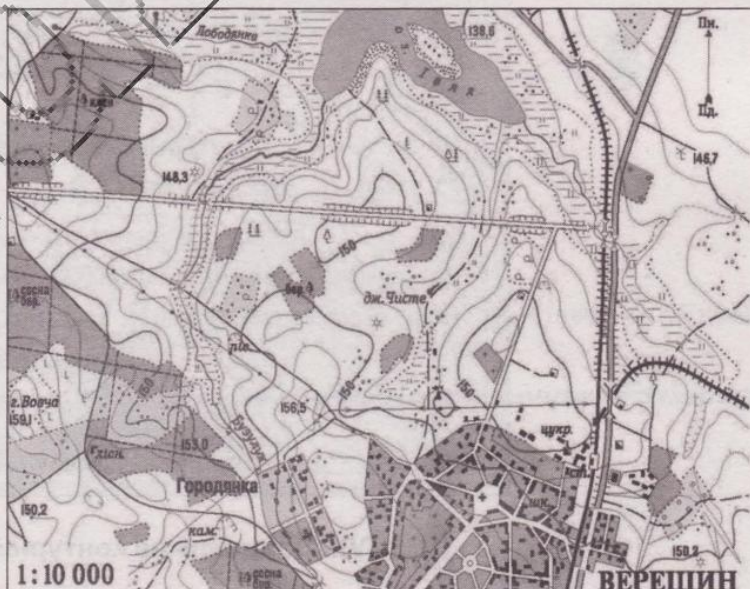
- 1 за запасами енергоресурсів Велика Британія посідає перше місце в Європі
- 2 традиційна особливість французької внутрішньої економічної політики — відсутність державної форми власності
- 3 основою економіки Великої Британії вже є не промисловість, а сфера послуг, насамперед фінансових
- 4 Франція — полінаціональна держава, але кожен уродженець країни вважається французом
- 5 понад 75 % енергії у Франції виробляють на ТЕС
- 6 більше половини продукції сільського господарства Німеччини дає рослинництво
- 7 Німеччина — енергетично незалежна держава

14. Які з перелічених національних природних парків розташовані на Правобережній Україні?

- 1 Верхнє Побужжя
- 2 Голосіївський
- 3 Вижницький
- 4 Святі гори
- 5 Тузловські лимани
- 6 Гомільшанські ліси
- 7 Слобожанський

IV. Практичні завдання

15. Пригадайте, що таке бергштрих. На плані місцевості за допомогою горизонталей та бергштрихів знайдіть і позначте западини (1) та підняття (2).



16. За допомогою масштабу контурної карти, яку вам видав учитель, визначте відстань між двома обласними центрами України (за вибором учителя). Поясніть, що таке масштаб. Опишіть, як ви ним скористалися.

V. Завдання відкритого типу

17. Накресліть схему структури міського транспорту України. Які з них є більш екологічно чистими?
18. Коротко схарактеризуйте якісний склад нерудних корисних копалин України.
- 18*. Схарактеризуйте вплив транспорту на довкілля. Запропонуйте шляхи зменшення цих негативних наслідків.
19. Поясніть, яких змін зазнала природна зона лісостепів під впливом господарської діяльності людини.
- 19*. Поясніть, як фізико-географічне положення впливає на розвиток рекреаційного господарства на прикладі однієї з країн Європи у порівнянні з Україною.

VI. Завдання географічного змісту з використанням математичних розрахунків

20. Скориставшись статистичними даними таблиці (на січень 2016 р.), визначте частку (у %) міських жителів від загальної кількості населення України. Поясніть, що таке маятникові міграції.

Загальна кількість	Міське населення	Сільське населення
42 929 298	29 673 113	13 256 184

21. Визначте місцевий час у Добропіллі (Донецька область), якщо у Дунаївцях (Хмельницька область) в цей час 10 год 15 хв.



VII. Завдання на контурній карті

22. Позначте та підпишіть на контурній карті України напрямки та країни (6), куди експортується українська промислова і сільськогосподарська продукція. Вкажіть для кожного напрямку один конкретний вид

Усі ДПА лише на erudyt.net

КОНТРОЛЬНА РОБОТА № 4

Варіант 1

I. Завдання з вибором однієї правильної відповіді

1. Оберіть найвищу точку із запропонованих.

- А Могила Гончариха
- Б Могила Мечетна
- В Савур-могила
- Г Берда

2. Назвіть чинник, який зумовив формування середземноморського типу клімату на південному березі Криму.

- А географічне положення якнайпівденнішої частини країни
- Б приморське положення території
- В захищеність території горами від холодних північних вітрів
- Г особливості циркуляції атмосфери у прибережній смузі

3. Назвіть річки, які є лівими притоками Дніпра.

- А Сіверський Донець і Десна
- Б Прип'ять і Прут
- В Сула і Ворскла
- Г Сейм і Горинь

4. Укажіть корисну копалину, що належить до паливних.

- А  Б  В  Г 

5. Укажіть приклади антропогенних ландшафтів.

- А Йосемітський парк у США, дельта Амазонки в Бразилії
- Б Суецький канал у Єгипті, долина річки Дунай
- В терикони Фландрії (Бельгія — Франція), дамби (Нідерланди)
- Г залізорудний кар'єр Південного гірничозбагачувального комбінату в Україні, Кільський канал у Німеччині

6. Час у межах певного часового поясу, що дорівнює часу його середнього меридіана, називається...

- А поясний
- Б декретний
- В літній
- Г місцевий

7. **Оберіть із перелічених найбільші порти світу.**

- А Гонконг, Хьюстон, Антверпен, Дубай
- Б Гамбург, Ванкувер, Йокогама, Новоросійськ
- В Шанхай, Сінгапур, Роттердам, Нагоя
- Г Трієст, Констанца, Генуя, Лондон

8. **Укажіть головну причину створення підприємств легкої промисловості майже у всіх великих містах України.**

- А значна кількість споживачів готової продукції
- Б великі міста є транспортними вузлами, що забезпечують швидке вивезення готової продукції
- В великі міста добре забезпечені електроенергією, на яку орієнтована ця галузь
- Г ці підприємства орієнтуються насамперед на кваліфікованих робітників, кількість яких у великих містах значно переважає

9. **Укажіть чинник, що є визначальним для розташування основних центрів чорної металургії України.**

- А наявність водних ресурсів
- Б наявність кваліфікованих трудових ресурсів
- В наявність дешевої електроенергії
- Г наявність запасів залізної та марганцевої руд

10. **Оберіть правильний варіант ланцюга «вид економічної діяльності — підприємство — головний чинник його розміщення»**

- А гірничовидобувна промисловість — вугільна шахта — паливні ресурси
- Б сільське господарство — виробництво зерна — наука
- В харчова промисловість — виробництво цукру — автомагістралі
- Г лісова промисловість — виробництво меблів — кваліфіковані кадри

II. Завдання на встановлення відповідності

11. **Установіть відповідність між умовними знаками топографічної карти та об'єктами на місцевості, яким відповідають.**

- А 
- Б 
- В 
- Г 

- 1 поодиноке дерево
- 2 залізниця
- 3 болото
- 4 залізний міст
- 5 фруктовий сад

12. Установіть відповідність між промисловим підприємством та основним принципом його розміщення.

- | | |
|---------------------------------|---|
| А меблева фабрика | 1 у місцях наявності сировини |
| Б алюмінієвий завод | 2 у місцях, де розвинена металургія |
| В цукровий завод | 3 ближче до джерел дешевої енергії |
| Г верстатобудівний завод | 4 у містах, де наявні кваліфіковані кадри |
| | 5 у містах, де є споживачі готової продукції |

III. Завдання з вибором трьох правильних варіантів відповідей із семи

13. Назвіть причини, що стримують надходження іноземних інвестицій в Україну.

- 1 висока частка тіньового сектору економіки
- 2 надійна та досконала чинна законодавча база
- 3 прозорість процесів приватизації
- 4 високий рівень корумпованості влади
- 5 висока купівельна спроможність населення
- 6 неможливість прогнозування змін у законодавстві
- 7 наявність значної кількості кваліфікованих кадрів

14. Укажіть чинники формування типових чорноземів на території України.

- 1 злаково-різнотравна рослинність
- 2 близьке залягання ґрунтових вод
- 3 промерзання ґрунту взимку й висушування влітку
- 4 теплий і вологий клімат протягом року
- 5 інтенсивне промивання ґрунту атмосферними опадами
- 6 материнська порода — леси
- 7 карстові процеси

IV. Практичні завдання

15. Накресліть маршрут і підпишіть обласні центри України (4), якими з Харківського заводу енергетичного машинобудування доставлятимуть в Одеський морський порт частини турбіни електростанції, аби відправити їх до Бразилії.



16. За допомогою градусної сітки контурної карти світу, яку вам видав учитель, визначте, на скільки кілометрів північніше розташована столиця України по відношенню до столиці Єгипту.

Усі ДПА лише на erudyt.net

V. Завдання відкритого типу

17. Накресліть схему галузевої структури машинобудування України. Укажіть найбільші машинобудівні центри України (2) та світу (4).
18. Поясніть, яких змін зазнала природна зона мішаних і широколистяних лісів під впливом господарської діяльності людини.
- 18*. Створення каскаду ГЕС на Дніпрі призвело до затоплення значної кількості земель. Оцініть наслідки цього будівництва.
19. Дайте визначення поняття «екологічна ситуація». Поясніть екологічну ситуацію, яка склалася в Чорному морі.
- 19*. Порівняйте розвиток залізничного транспорту на прикладі Росії та США. Зробіть відповідні висновки.

VI. Завдання географічного змісту з використанням математичних розрахунків

20. Назвіть необхідні дані, аби розрахувати відстань у кілометрах між двома географічними об'єктами, що розташовані на одній паралелі. За допомогою градусної сітки обчисліть у градусах і кілометрах відстань від міста Арциз (46° пн. ш., розташоване в Одеській області) до міста Попільня (50° пн. ш., розташоване у Житомирській області). Обидва міста мають однакову географічну довготу.
21. Визначте місцевий час у Дніпрі (Дніпропетровська область), якщо у Хмельницькому (Хмельницька область) в цей час 12 год 35 хв.







VII. Завдання на контурній карті

22. Позначте та підпишіть на контурній карті світу країни, які є світовими лідерами з вирощування зернових культур: пшениц

КОНТРОЛЬНА РОБОТА № 4

Варіант 2

I. Завдання з вибором однієї правильної відповіді

- 1. Укажіть форму рельєфу, частина якої розташована за межами території України.**
 - А Кременецькі гори
 - Б Мізоцький кряж
 - В Придністровська височина
 - Г Хотинська височина
- 2. Зазначте проекцію, у якій передаються без спотворень площі географічних об'єктів.**
 - А рівновелика
 - Б рівнопроміжна
 - В рівнокутна
 - Г довільна
- 3. Укажіть найдавніші відклади в геологічній будові України.**
 - А докембрійські
 - Б мезозойські
 - В кайнозойські
 - Г палеозойські
- 4. Укажіть корисну копалину, що належить до рудних.**
 - А 
 - Б 
 - В 
 - Г 
- 5. Укажіть, яка риса є спільною для Чехії, Монголії, Словаччини, Польщі.**
 - А постіндустріальні країни
 - Б постсоціалістичні країни
 - В країни Центральної Європи
 - Г країни нової індустріалізації
- 6. Зазначте основний чинник відсутності в Кримських горах і Карпатах льодовиків.**
 - А це молоді гори альпійської складчастості
 - Б теплий і посушливий клімат
 - В найвища точка гір лежить нижче висоти снігової лінії
 - Г в області розташування гір переважає антициклонна діяльність

7. Оберіть перелік міст України, що стали відомими курортами завдяки їхнім рекреаційним ресурсам.

- А Миргород, Солотвино, Хмільник
- Б Київ, Харків, Одеса
- В Суми, Чернігів, Тернопіль
- Г Донецьк, Львів, Запоріжжя

8. Укажіть назву міжнародної організації, однією із засновниць якої була Україна.

- А НАТО
- Б СОТ
- В ЄС
- Г ООН

9. Визначте правильний варіант ланцюга «вид економічної діяльності — підприємство — головний чинник його розміщення».

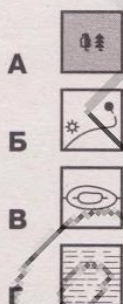
- А гірничодобувна промисловість — вугільна шахта — паливні ресурси
- Б лісова промисловість — виробництво меблів — кваліфіковані кадри
- В сільське господарство — виробництво зерна — наука
- Г харчова промисловість — виробництво цукру — автомагістралі

10. Назвіть варіант відповіді, який відповідає визначенню «зміна кількості та складу населення в результаті народжуваності і смертності без урахування його переміщення».

- А природний рух населення
- Б густина населення
- В урбанізація
- Г депопуляція

II. Завдання на встановлення відповідності

11. Установіть відповідність між умовними знаками топографічної карти та об'єктами на місцевості, які їм відповідають.



- 1 горб
- 2 болото
- 3 мішаний ліс
- 4 млин
- 5 лінія електропередачі

12. Установіть відповідність між видами економічної діяльності та сировиною, яку вони використовують.

- А кольорова металургія
- Б чорна металургія
- В основна хімія
- Г атомна енергетика
- 1 уранові руди
- 2 марганцеві руди
- 3 калійні солі
- 4 олов'яні руди
- 5 граніти

III. Завдання з вибором трьох правильних варіантів відповідей із семи

13. Укажіть позитивні наслідки розвитку вуглевидобування у Львівсько-Волинському вугільному басейні через виведення з ладу значної частини шахт на сході України.

- 1 розвиток рекреаційного комплексу в регіоні
- 2 забезпечення паливом Бурштинської та Добротвірської ТЕС
- 3 розвиток альтернативних способів виробництва енергії в регіоні
- 4 забезпечення вугіллям металургійних комбінатів Львова, Луцька та Рівного
- 5 збільшення обсягу імпорту вугілля у прикордонні області України
- 6 збереження робочих місць у Нововолинську й Червонограді
- 7 поліпшення паливно-енергетичного балансу Західного регіону й України

14. Для яких країн запропоновані напрями розвитку будуть найбільш доцільними?

- 1 Китай — розвідка та видобуток корисних копалин на сході країни
- 2 Німеччина — будівництво нових підприємств чорної металургії у Рурському басейні
- 3 Австралія — розвиток продуктивного вівчарства на сході країни
- 4 Бразилія — промислове освоєння приатлантичної території країни
- 5 Україна — переорієнтація експорту із сировини на готову продукцію
- 6 Єгипет — розвиток сонячної енергетики
- 7 Індія — розвиток сфери послуг та аутсорсингу

IV. Практичні завдання

15. Накресліть маршрут і підпишіть області України (4), якими з Миколаївського морського порту в торговельну мережу міста Києва доставлятимуть мандарини, які закупили в Туреччині.



16. За допомогою градусної сітки контурної карти світу, яку вам видав учитель, визначте, на скільки кілометрів південніше розташована столиця України по відношенню до столиці Фінляндії.

V. Завдання відкритого типу

17. Схарактеризуйте особливості живлення та режиму річок рівнинної частини України.
18. Накресліть секторальну модель економіки України та вкажіть ті її складові, які отримали найбільший розвиток.
- 18*. Проаналізуйте значення річок України для розвитку господарства.
19. Порівняйте позитивні риси економіко-географічного положення України та Польщі. Зробіть відповідні висновки.
- 19*. Укажіть, які риси політико-географічного положення України негативно впливають на розвиток країни на даному етапі.

VI. Завдання географічного змісту з використанням математичних розрахунків

20. Чисельність населення країни X на 1 січня 2016 р. становила 100 млн осіб. Якою стала чисельність населення на 1 січня 2017 р., якщо в країні були такі показники руху населення за 2016 р.: коефіцієнт народжуваності – 14 осіб на 1000 мешканців, коефіцієнт смертності – 7 осіб на 1000 мешканців, сальдо міграції – 300 тис. осіб.
21. Поясніть, що таке похил річки. Протяжність річки Південний Буг становить 806 км. Витік річки розташовано на висоті 321 м над рівнем моря. Розрахуйте похил річки Південний Буг.





VII. Завдання на контурній карті

22. Позначте та підпишіть на контурній карті світу країни, які є світовими лідерами з розведення та поголів'я свійських тварин: великої рогатої худоби (4), свиней (2), свійської птиці (2), овець (2), коней (2).

КОНТРОЛЬНА РОБОТА № 5

Варіант 1

I. Завдання з вибором однієї правильної відповіді

- 1. Укажіть регіон України, у якому сформувалася найгустіша річкова сітка.**
 - А Причорноморська низовина
 - Б Українські Карпати
 - В Полісся
 - Г Донбас
- 2. Зазначте проекцію, яка зберігає без спотворень кути і форми малих об'єктів.**
 - А довільна
 - Б рівновелика
 - В рівнопроміжна
 - Г рівнокутна
- 3. У чому полягає основна причина економічної відсталості країн Африки, з якої витікає решта економічних і соціальних причин?**
 - А велика народжуваність населення
 - Б тривала колоніальна залежність
 - В відсутність необхідних природних ресурсів
 - Г складні природно-кліматичні умови
- 4. Укажіть корисну копалину, що належить до технічної сировини.**
 - А 
 - Б 
 - В 
 - Г 
- 5. Оберіть з переліку заповідний об'єкт, створений природою.**
 - А ботанічний сад Київського національного університету ім. Тараса Шевченка
 - Б дендрологічний парк «Олександрія»
 - В парк-пам'ятка садово-паркового мистецтва «Софіївка»
 - Г заповідне урочище Радомська дача на Чернігівщині
- 6. Оберіть групу стихійних метеорологічних явищ, що спостерігають у Карпатах і Кримських горах.**
 - А пилові бурі, суховії, смерчі, ожеледі
 - Б снігові лавини, селеві потоки, зливи, паводки
 - В град, суховії, паводки, урагани
 - Г посухи, селеві потоки, паводки, шквальні вітри

7. Зазначте країни далекого зарубіжжя, у яких утворилася найчисленніша українська діаспора.

А Казахстан і Аргентина

В США і Австралія

Б Канада і США

Г Росія і Польща

8. Укажіть групу міст України, які завдяки лікувальним властивостям мінеральних джерел стали відомими курортами.

А Трускавець, Миргород, Моршин

В Житомир, Свалява, Суми

Б Бердичів, Хмельник, Рівне

Г Донецьк, Сімферополь, Умань

9. Оберіть правильний варіант ланцюга «вид економічної діяльності — продукція — основний чинник розміщення».

А будівельна промисловість — житлові будинки — наука

Б харчова промисловість — кулінарний маргарин — кваліфіковані кадри

В сільське господарство — вирощування рису — кваліфіковані кадри

Г хімічна промисловість — фосфатні добрива — споживач

10. Укажіть тип земель, які мають найбільшу частку в структурі земельного фонду України.

А землі житлової та промислової забудови

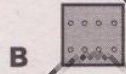

Б землі сільськогосподарського призначення

В землі природно-заповідного фонду та рекреаційного призначення

Г землі лісового і водного фондів

II. Завдання на встановлення відповідності

11. Установіть відповідність між умовними знаками топографічної карти та об'єктами на місцевості, які їм відповідають.



1 колодязь

2 вирубаний ліс

3 фруктовий сад

4 чагарники

5 річка, напрям руху

12. Установіть відповідність між факторами, що впливають на розміщення галузей господарства, і виробництвом певної продукції.

А сировинний

1 виробництво металевого алюмінію

Б енергетичний

2 виробництво електроніки

В споживчий

3 виробництво чорної міді

Г транспортний

4 виробництво кондитерських виробів

III. Завдання з вибором трьох правильних варіантів відповідей із семи

13. Визначте шляхи оптимізації видової і територіальної структур комплексу машинобудування в Україні.

- 1 забезпечувати пріоритетний розвиток важкого машинобудування
- 2 рівномірно розміщувати підприємства в усіх обласних центрах
- 3 спрямовувати нові виробництва в малі й середні міста
- 4 концентрувати основні виробництва в Столичному економічному районі
- 5 поглиблювати спеціалізацію та кооперування підприємств
- 6 створювати технопарки для прискорення розвитку наукомістких галузей
- 7 одночасно розвивати всі види машинобудування

14. Укажіть правильні твердження щодо внутрішніх вод України.

- 1 найбільш густа річкова мережа на Причорноморській низовині
- 2 озеро Синевир вулканічного походження
- 3 Шацькі озера мають карстове походження
- 4 басейн Дунаю займає найбільшу площу в Україні
- 5 Північнокримський канал — найдовший в Україні
- 6 річка Південний Буг належить до басейну Балтійського моря
- 7 річки України належать до басейнів Чорного, Азовського та Балтійського морів

IV. Практичні завдання

15. Накресліть маршрут і підпишіть області України (4), якими із Закарпатського міста Чоп доставлятимуть на житомирську меблеву фабрику деревообробні верстати, які закупили в Італії.



16. За допомогою градусної сітки контурної карти світу, яку вам видав учитель, визначте, на скільки кілометрів північніше розташована столиця України по відношенню до столиці Іспанії.

V. Завдання відкритого типу

17. Накресліть схему секторальної структури національної економіки України. Вкажіть сектори, які потребують найбільшого розвитку.
18. Назвіть чинники розміщення підприємств харчової промисловості України. На конкретних прикладах поясніть їх вплив на розміщення підприємств кондитерської промисловості.
- 18*. Назвіть інтеграційні галузеві та регіональні міжнародні економічні організації. Вкажіть ті, до складу яких входить Україна. Коротко схарактеризуйте діяльність однієї з указаних вами організацій.
19. На конкретних прикладах покажіть зв'язок між геологічною будовою та рельєфом місцевості.
- 19*. Поясніть, як зміниться природа Олешківських пісків, якщо почати на їх території експеримент з лісорозведення, подібний до того, як створювали Великоанадольський ліс на Донбасі.

VI. Завдання географічного змісту з використанням математичних розрахунків

20. За даними таблиці визначте роки з найбільшим позитивним та від'ємним сальдо зовнішньої торгівлі України.

Роки	2010	2011	2012	2013	2014	2015	2016
Експорт товарів та послуг	128,0	130,2	100,3	93,3	85,7	7,0	96,4
Імпорт товарів та послуг	180,8	134,2	103,0	92,6	72,9	70,7	103,7

21. Обчисліть ресурсозабезпеченість країни X кам'яним вугіллям, якщо відомі його запаси складають 2 млрд тонн, а річний видобуток дорівнює 50 млн тонн.

VII. Завдання на контурній карті

22. Позначте та підпишіть країни, у яких основні світові релігії — християнство (2), іслам (2), буддизм (2) — отримали найбільше поширення. Вкажіть назви їхніх столиць.

КОНТРОЛЬНА РОБОТА № 5

Варіант 2

I. Завдання з вибором однієї правильної відповіді

1. Назвіть найбільшу за протяжністю річку в межах України.

- А Дніпро
- Б Дністер
- В Південний Буг
- Г Дунай

2. Назвіть форми рельєфу, які утворюються в місцях залягання крейдових, вапнякових і гіпсових тріщинуватих порід.

- А денудаційні
- Б акумулятивні
- В еолові
- Г карстові

3. Оберіть чинник, який сприяє розвитку «парникового ефекту».

- А зменшення кількості кисню в атмосфері
- Б збільшення кількості азоту в атмосфері
- В збільшення кількості вуглекислого газу в атмосфері
- Г зменшення озонового шару в стратосфері

4. Укажіть корисну копалину, що належить до паливних.

- А  Б  В  Г 

5. Укажіть тектонічну структуру, у межах якої розташовані основні родовища залізної та марганцевої руди в Україні.

- А Причорноморська западина
- Б Дніпровсько-Донецька западина
- В Український щит
- Г Волинсько-Подільська плита

6. Зазначте, до якого типу рельєфу належать кари, лійки, шахти, печери.

- А льодовиковий
- Б карстовий
- В еоловий
- Г тектонічний

7. Позначте правильне твердження.

- А** рівень безробіття в Україні найвищий серед країн Європи
- Б** в Україні порівняно мало зареєстрованих безробітних, проте для країни є характерним приховане безробіття
- В** усі безробітні зареєстровані в центрах зайнятості
- Г** в Україні існує дефіцит трудових ресурсів, безробіття відсутнє

8. Назвіть систему заходів, які вживає держава з метою регуляції кількості населення.

- А** демографічна ситуація
- Б** демографічний вибух
- В** демографічна криза
- Г** демографічна політика

9. Країна бере участь у міжнародній спеціалізації, якщо

- А** є переваги перед іншими країнами у виробництві певної продукції
- Б** транспортні витрати задовольняють виробників і споживачів
- В** це вигідно світовому співтовариству
- Г** ніхто більше не виготовляє дану продукцію

10. Прикладом якої форми суспільної організації виробництва є поєднання випуску на одному хімічному підприємстві аміаку, капролактаму, мінеральних добрив, іонообмінної смоли, каталізаторів і хімікатів для виробництва гуми?

- А** комбінування
- Б** спеціалізації
- В** кооперування
- Г** концентрації

II. Завдання на встановлення відповідності

11. Установіть відповідність між умовними знаками топографічної карти та об'єктами на місцевості, які їм відповідають.

- А**  1 мішаний ліс
- Б**  2 яр
- В**  3 рідколісся
- Г**  4 фруктовий сад
- 5 болото

12. Установіть відповідність між видами економічної діяльності та сировиною, яку вони використовують.

- А** паливна промисловість 1 нафта
- Б** хімія органічного синтезу 2 фосфорити
- В** основна хімія 3 кухонна сіль
- Г** харчова промисловість 4 кам'яне вугілля
- 5 марганцева руда

III. Завдання з вибором трьох правильних варіантів відповідей із семи

13. Який вплив матиме на природу схилів Українських Карпат будівництво гірськолижних трас і канатних доріг, що супроводжуватиметься вирубуванням лісу?

- 1 зменшиться інтенсивність паводків
- 2 розпочнеться активна вулканічна діяльність
- 3 зросте загроза снігових лавин і селів
- 4 збільшиться кількість заболочених територій
- 5 прискориться розвиток ерозії та змив ґрунтів
- 6 збільшиться кількість опадів
- 7 активізуються зсуви, обвали

14. Оберіть твердження, які характеризують мінерально-сировинні ресурси України.

- 1 Карпатський нафтогазоносний регіон належить до найдавніших за освоєнням
- 2 руди кольорових металів зосереджені у Білозерському і Нікопольському басейнах
- 3 єдиний в Україні басейн з видобутку калійної солі розташований у затоці Сиваш
- 4 значні поклади торфу розташовані на Поліссі
- 5 перспективним щодо видобутку нафти й газу є шельф Чорного моря
- 6 значні запаси уранових руд є на Кіровоградщині
- 7 Львівсько-Волинський басейн найбільший за запасами кам'яного вугілля

IV. Практичні завдання

15. Накресліть маршрут і підпишіть області України (4), якими з волинського міста Ковель група учнів поїде на екскурсію до міста Канева в День пам'яті Тараса Шевченка.



16. За допомогою градусної сітки контурної карти світу, яку вам видав учитель, визначте, на скільки кілометрів південніше розташована столиця України по відношенню до столиці Норвегії.

V. Завдання відкритого типу

17. Накресліть схему кооперування на прикладі виготовлення автомобіля.
18. Поясніть, що таке картографічна проекція. Для чого використовують картографічні проекції?
- 18*. Схарактеризуйте особливості трудових ресурсів України. Поясніть відмінності між працездатним і непрацездатним населенням.
19. Назвіть чинники розміщення підприємств хімічної промисловості України. На конкретних прикладах поясніть їх вплив на розміщення підприємств, що виробляють мінеральні добрива.
- 19.* Перелічіть та схарактеризуйте альтернативні джерела отримання енергії. Оцініть перспективи їх використання в Україні.

VI. Завдання географічного змісту з використанням математичних розрахунків

20. За даними таблиці розрахуйте роки з найбільшим і найменшим показниками природного приросту (скорочення) населення України.

Роки	2010	2011	2012	2013	2014	2015	2016
Кількість народжених	497,7	502,6	520,7	503,7	465,9	411,8	397,0
Кількість померлих	698,2	664,6	663,1	662,4	632,3	594,8	583,6

21. Розрахуйте ресурсозабезпеченість країни нафтою, якщо відомі її запаси складають 30 млрд тонн, а за рік видобувають 450 млн тонн.





VII. Завдання на контурній карті

22. Позначте та підпишіть країни, у яких найбільше поширення отримали національні релігії: юдаїзм, конфуціанство, синтоїзм, індуїзм. Позначте та підпишіть дві великі країни світу, де отримали поширення місцеві вірування. Вкажіть назви столиць цих країн.

КОНТРОЛЬНА РОБОТА № 6

Варіант 1

I. Завдання з вибором однієї правильної відповіді

1. Укажіть чинник, під впливом якого течії в Азовському морі рухаються проти годинникової стрілки.
А рельєф морського дна
Б конфігурація морських берегів
В переважаючі напрямки вітру
Г особливості клімату
2. Укажіть назву водного об'єкта, який складає єдине ціле з річкою Дніпро.
А Дністровський лиман
Б річка Інгул
В Кременчуцьке водосховище
Г Печенізьке водосховище
3. Який ланцюг — «сільськогосподарська культура — кліматичний пояс — країна» — правильний?
А цукрові буряки — субтропічний — Канада
Б каучуконосна гевея — екваторіальний — Бразилія
В тютюн — помірний (континентальний) — Росія
Г цукрова тростина — мусонний — Іспанія
4. Укажіть корисну копалину, що належить до паливних.
А  Б  В  Г 
5. Укажіть тип клімату, що характерний для більшої частини України.
А різкоконтинентальний
Б морський
В помірно континентальний
Г помірно морський
6. Укажіть тектонічну структуру, у межах якої розташовані основні родовища нафти й газу в Україні.
А Український щит
Б Причорноморська западина
В Волино-Подільська плита
Г Дніпровсько-Донецька западина

7. **Оберіть правильне твердження щодо зовнішньоекономічних зв'язків України.**

- А у наданні туристичних послуг основну роль відіграють природно-кліматичні ресурси
- Б у структурі імпорту найбільша частка припадає на природний газ
- В найбільше товарів експортується до країн Євросоюзу
- Г основним видом міжнародних послуг України є фінансові

8. **Які чинники зумовили будівництво заводів з виплавки алюмінію в нафтовидобувних країнах Об'єднаних Арабських Еміратів, Бахреїні та Кувейті?**

- А розвиток літакобудування в цих країнах та дешева гідроелектроенергія
- Б водні ресурси та залучення значних іноземних інвестицій
- В промислове географічне положення та дешеві енергоресурси
- Г великі родовища бокситів у надрах країн та дешева робоча сила

9. **Укажіть, який із районів України за агрокліматичними умовами найпридатніший для вирощування цукрових буряків.**

- А Полісся
- Б степи Приазов'я
- В Поділля
- Г Закарпаття

10. **Виберіть правильне тлумачення терміна «спеціалізація».**

- А об'єднання технологічно пов'язаних між собою підприємств, продукція одного з яких є сировиною для іншого
- Б встановлення виробничих зв'язків між підприємствами, кожне з яких спеціалізується на виробництві окремих частин одного виробу
- В група подібних за технологією виробництва і призначенням готової продукції підприємств, що не пов'язані між собою територіальним чинником
- Г зосередження основної діяльності підприємства на виробництві вузького кола продукції, товарів або послуг

II. Завдання на встановлення відповідності

11. **Установіть відповідність між умовними знаками топографічної карти та об'єктами на місцевості, які їм відповідають.**



- 1 болото з очеретом
- 2 урвище
- 3 школа
- 4 рідколісся
- 5 яр

12. **Установіть відповідність між галузями господарства та сферою їхньої діяльності.**

- А металургія
- Б легка промисловість
- В хімічна промисловість
- Г паливна промисловість
- 1 виробництво одягу
- 2 виробництво коксу
- 3 видобування нафти
- 4 виробництво лікувальних препаратів

III. Завдання з вибором трьох правильних варіантів відповідей із семи

13. Поясніть економічну доцільність розташування нафтопереробного комбінату в місті Кременчук.

- 1 потреби підприємства в електроенергії задовольняє розташована біля міста АЕС
- 2 трубопроводами на комбінат надходить для переробки імпортна нафта
- 3 географічне положення дозволяє постачати на комбінат вітчизняну нафту
- 4 транспортні магістралі дозволяють постачати нафтопродукти по всій країні
- 5 морський порт міста розширює експортні можливості комбінату
- 6 комбінат кооперується з машинобудівними підприємствами міста
- 7 місто має прикордонне розташування

14. Виберіть правильні твердження, які характеризують клімат України.

- 1 континентальність клімату зростає в напрямку зі сходу на захід
- 2 найбільшу кількість сонячної радіації отримує південь країни
- 3 максимальна річна кількість опадів припадає на південний схід
- 4 південний берег Криму має субтропічний середземноморський тип клімату
- 5 опади в Україну надходять здебільшого з Центральної Азії
- 6 основна кількість опадів в Україні випадає у вигляді дощу
- 7 над територією країни взимку панують арктичні повітряні маси

IV. Практичні завдання

15. Накресліть маршрут і підпишіть області України (4), якими до Сорочинського ярмарку в Полтавській області їхатимуть майстри-вишивальниці з Чернівецької області.



16. За допомогою масштабу контурної карти, яку вам видав учитель, визначте відстань між двома обласними центрами України (за вибором учителя). Поясніть, що таке масштаб. Опишіть, як ви ним скористалися.

Усі ДПА лише на erudyt.net

V. Завдання відкритого типу

17. Обґрунтуйте залежність обсягів і товарної структури торгівлі між країнами від рівня їхнього економічного розвитку.
18. Назвіть та схарактеризуйте чинники, які зумовили напрямок течії більшої частини річок України.
- 18*. Схарактеризуйте соціально-економічні чинники, які впливають на народжуваність в Україні та в різних за рівнем розвитку країнах світу.
19. Назвіть негативні риси географічного положення України.
- 19*. Спрогнозуйте зміни агрокліматичних ресурсів України, якби її територія була розташована на одній широті з Іспанією.

VI. Завдання географічного змісту з використанням математичних розрахунків

20. Для виготовлення 1 т паперу потрібно $5,6 \text{ м}^3$ деревини. Середній об'єм одного дерева — $0,33 \text{ м}^3$. 100 кг макулатури рятують 1 ялину. Розрахуйте кількість дерев, що необхідна для виробництва 1 т паперу. Яка кількість макулатури необхідна, аби врятувати кількість дерев, з яких виробляють 1 т паперу?
21. Визначте альбедо земної поверхні (у відсотках) за місяць, якщо відомі такі показники: пряма сонячна радіація — 200 кал/см^2 , розсіяна — 100 кал/см^2 , відбита — 150 кал/см^2 .





VII. Завдання на контурній карті

22. Нанесіть на контурну карту дві основні металургійні бази України. Вкажіть та позначте сировину, на базі якої вони сформувалися. Покажіть основні вантажопотоки привізної сировини, яку вони використовують.

КОНТРОЛЬНА РОБОТА № 6

Варіант 2

I. Завдання з вибором однієї правильної відповіді.

- 1. Визначте загальногеографічну залежність, яка пояснює розміщення основних форм рельєфу на території України.**
 - А між географічною широтою і температурою повітря
 - Б між тектонічною будовою і рельєфом
 - В між геологічною будовою і утворенням корисних копалин
 - Г між поясами атмосферного тиску і кількістю опадів
- 2. Укажіть чинник, що визначає тип живлення річок України.**
 - А тип клімату
 - Б рельєф
 - В особливості геологічної будови
 - Г значна тривалість зимового періоду на більшій території країни
- 3. Оберіть твердження, яке характеризує Українські Карпати.**
 - А через малу кількість опадів гори мають незначну річкову мережу
 - Б у Карпатах сформувалися родючі ґрунти
 - В належать до області альпійської складчастості
 - Г найбільше опадів випадає влітку та восени
- 4. Укажіть корисну копалину, що належить до рудних.**
 - А 
 - Б 
 - В 
 - Г 
- 5. Оберіть правильне тлумачення поняття «падіння річки».**
 - А відношення похилу річки до довжини
 - Б кількість води, що проходить через переріз річки за одиницю часу
 - В різниця між абсолютними висотами витoku і гирла річки
 - Г різниця між абсолютними висотами вододілу і русла річки
- 6. Назвіть основну причину обміління малих річок України.**
 - А забруднення води
 - Б тектонічні рухи
 - В потепління клімату
 - Г вирубка лісів

7. Нафтопереробні заводи в гирлах великих річок Європи побудовані тому, що там
- А розташовані великі морські порти
 - Б зручні транспортні шляхи та розв'язки
 - В є дешева електроенергія
 - Г розташовані місцеві родовища нафти
8. Визначте вид економічної діяльності, яка належить до хімії органічного синтезу.
- А виробництво мінеральних добрив
 - Б виробництво соди
 - В виробництво лаків і фарб
 - Г видобуток хімічної сировини
9. Визначте, який з указаних районів України за агрокліматичними умовами найпридатніший для вирощування картоплі.
- А Одещина
 - Б Полісся
 - В Поділля
 - Г Приазов'я
10. Виберіть твердження, що стосується населення України.
- А в Україні спостерігається явище демографічного вибуху
 - Б найбільша українська діаспора проживає в Польщі
 - В другим за чисельністю населення містом України є Одеса
 - Г корінним населенням України є українці та кримські татари

II. Завдання на встановлення відповідності

11. Установіть відповідність між умовними знаками топографічної карти та об'єктами на місцевості, які їм відповідають.



- 1 електростанція
- 2 будинок лісника
- 3 поодиноке дерево
- 4 луки
- 5 колодязь

12. Установіть відповідність між видами хімічної продукції та видами економічної діяльності, які є її споживачами.

- А мінеральні добрива
- Б хімічні волокна
- В гума, пластмаси
- Г лінолеум

- 1 текстильна
- 2 сільське господарство
- 3 автомобілебудування
- 4 металургія
- 5 будівництво

III. Завдання з вибором трьох правильних варіантів відповідей із семи

13. Виберіть твердження, які характеризують лісопромисловий комплекс.

- 1 в Україні немає власного виробництва сірників
- 2 підприємства комплексу по всій території України розміщено рівномірно
- 3 основним споживачем деревини є лісохімічна промисловість
- 4 обсяги виробництва продукції залежать від насиченості внутрішнього ринку імпортованими товарами
- 5 найбільш лісистими районами України є Полісся та Українські Карпати
- 6 найпотужніша група лісохімічних підприємств сформувалася в Закарпатті
- 7 Україна має значні запаси деревини

14. Виберіть правильні твердження щодо внутрішніх вод України.

- 1 найдовшим в Україні каналом є Північнокримський
- 2 льодовикові озера розташовані на схилах Чорногорського масиву в Карпатах
- 3 річка Дніпро бере початок у Росії на Валдайській височині
- 4 Причорноморська низовина має найменшу густоту річкової мережі
- 5 Прип'ять — ліва притока Дніпра
- 6 найбільша кількість озер сформувалася на сході країни
- 7 більшість річок України належить до басейну Азовського моря

IV. Практичні завдання

15. Накресліть маршрут і підпишіть області України (4), якими до житомирських фермерів повезуть сільськогосподарські машини із заводу «Ельворті» (місто Кропивницький).



16. За допомогою масштабу контурної карти, яку вам видав учитель, визначте відстань між двома обласними центрами України (за вибором учителя). Поясніть, що таке масштаб. Опишіть, як ви ним скористалися.

V. Завдання відкритого типу

17. Складіть схему національної структури населення України. Вкажіть райони найбільшого поширення двох національних меншин.
18. Оцініть сучасну екологічну ситуацію, що склалася в Азовському морі.
- 18*. Запропонуйте шляхи вирішення екологічних проблем Азовського моря.
19. Поясніть тлумачення основних показників, які характеризують поняття «економічний розвиток»: валовий внутрішній продукт (ВВП) та індекс людського розвитку (ІЛР). Від чого вони залежать?
- 19*. Назвіть суттєві ознаки країн, що розвиваються. Поясніть коротко їхню географічну специфіку.

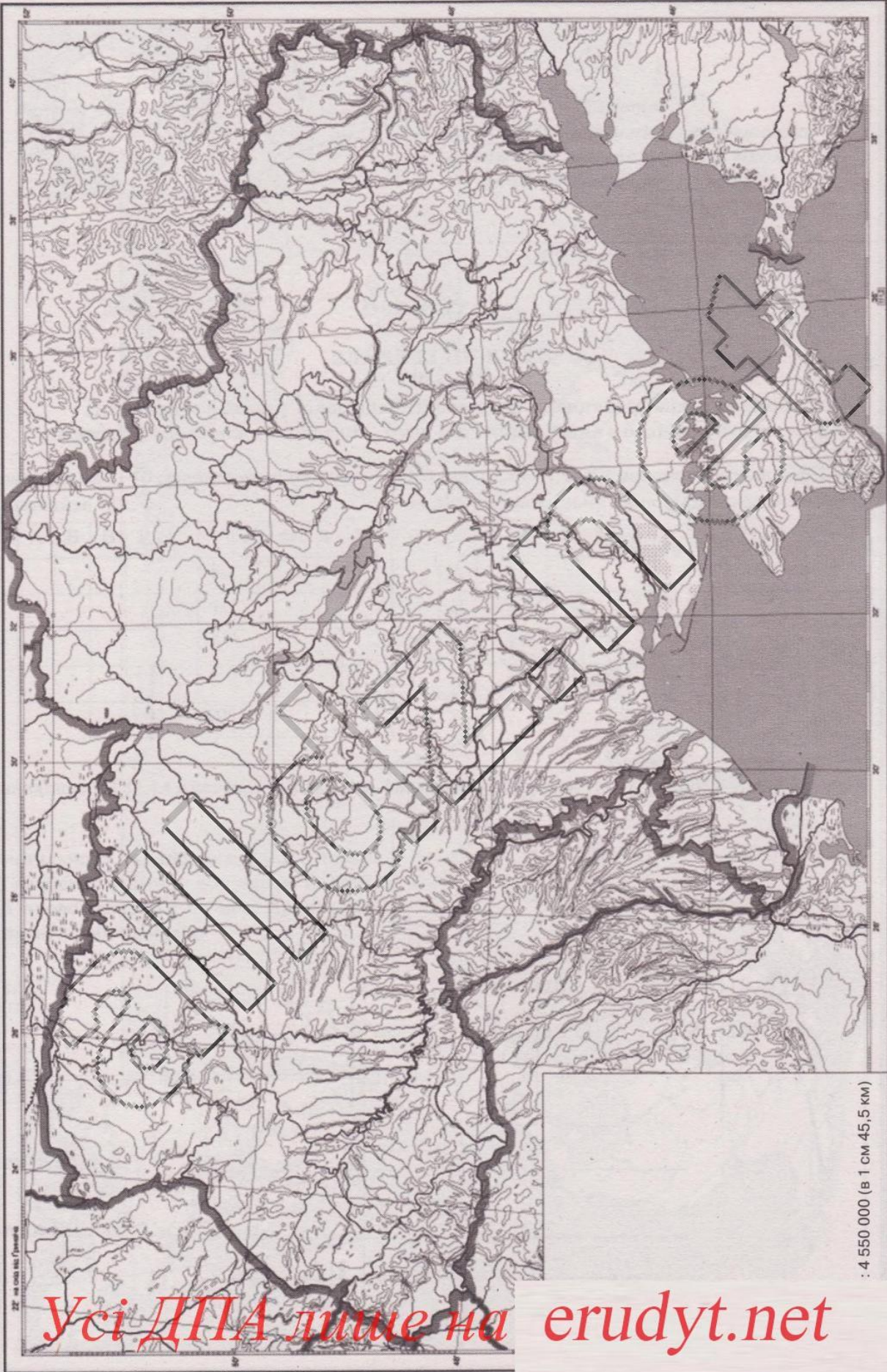
VI. Завдання географічного змісту з використанням математичних розрахунків

20. Пригадайте, яку продукцію випускає целюлозно-паперовий комбінат. На виробництво однієї тонни відбіленої целюлози витрачається 200–300 м³ води. Денна потужність целюлозно-паперового комбінату становить 20 тонн целюлози. Розрахуйте обсяг води, необхідний для роботи комбінату на тиждень у цистернах (1 цистерна — 120 м³ води).
21. Визначте місцевий час у Львові, якщо у Скадовську (Херсонська область) в цей час 16 год 15 хв.



VII. Завдання на контурній карті

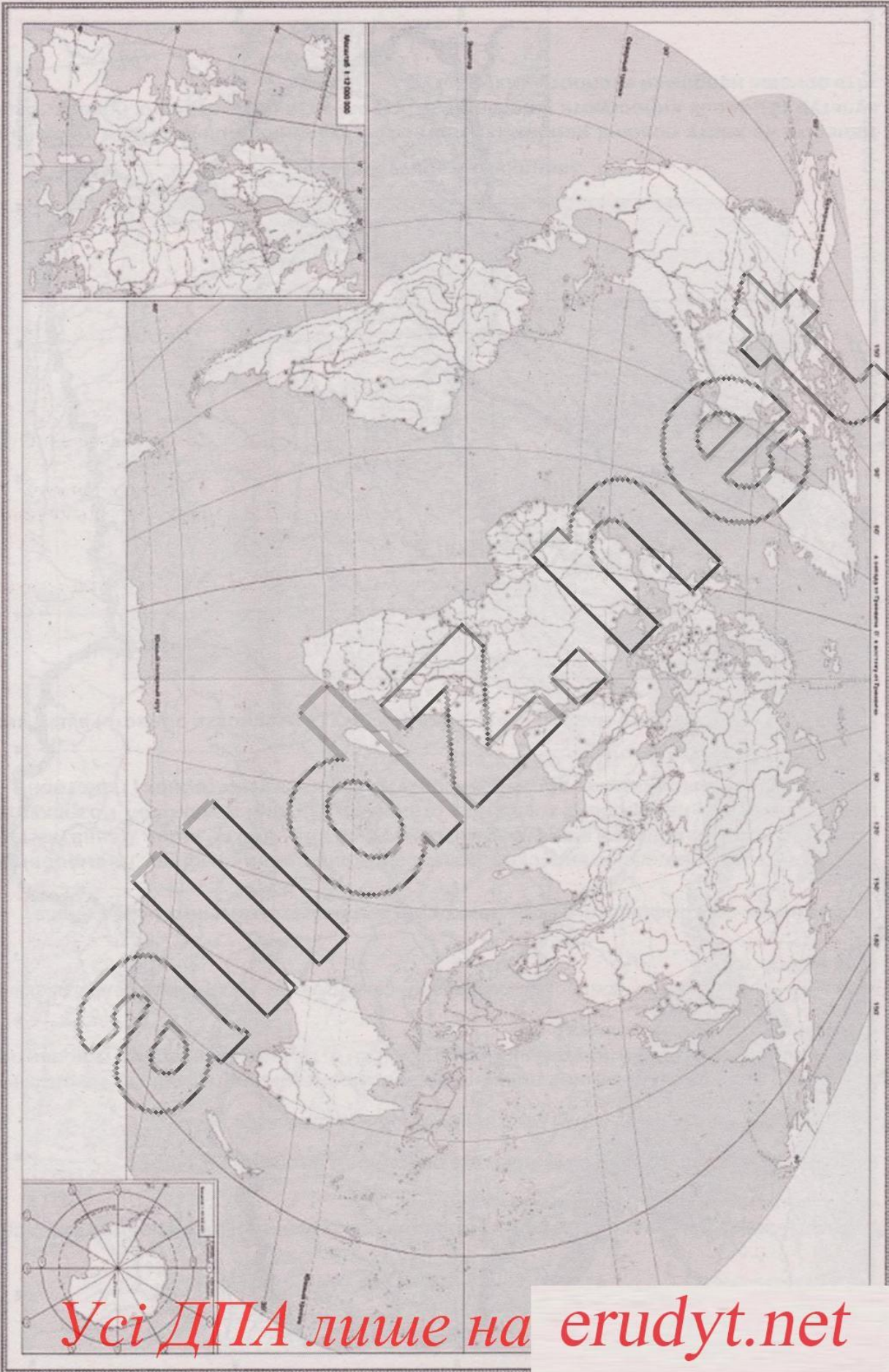
22. Нанесіть на карту основні райони (країни) вирощування зернових (3) і технічних культур (3), що їх вирощують у помірному й тропічному кліматичних поясах. Вкажіть основні напрямки експорту цих культур.



ДП на основі Генштабу

: 4 550 000 (в 1 см 45,5 км)

Усі ДПА лише на erudyt.net



Усі ДПА лише на erudyt.net

Робота
на державну підсумкову атестацію
з географії за курс основної школи
учня (учениці) 9 ___ класу

(прізвище, ім'я, по батькові)

Штамп ЗНЗ

Варіант ___

БЛАНК ВІДПОВІДЕЙ

Увага!

Позначаєте в бланку відповідей тільки один варіант відповіді в таблиці, відведеної до кожного завдання. Будь-які виправлення в бланку недопустимі.

У завданнях 1–10 правильну відповідь позначаєте так:

	А	Б	В	Г
1				
2				
3				
4				
5				

	А	Б	В	Г
6				
7				
8				
9				
10				

У завданнях 11 та 12 навпроти правильної цифри та літери правильну відповідь позначаєте так:

	1	2	3	4	5
А					
Б					
В					
Г					

	1	2	3	4	5
А					
Б					
В					
Г					

У завданнях 13 і 14 правильну відповідь запишіть цифрами так: **1 2 3 4 5 6 7 8 9**

13.

14.

Починаючи з 15 завдання, бали в комірці заносить учитель або члени комісії, які проводять ДПА та перевіряють результати роботи учнів.

15.

16.

17.

18.

19.

18*.

19*.

20.

21.

22.

Голова комісії:

_____ (підпис) _____ (ПІВ)

Члени комісії:

