

ВИДАВНИЧИЙ ДІМ
ОСВІТА



Для проведення ДП підсумкової Атестації

2017

9

КЛАС

С. Л. КАПІРУЛІНА

ГЕОГРАФІЯ

ЗБІРНИК ЗАВДАНЬ

- ✓ 6 контрольних робіт у двох варіантах
- ✓ зручний бланк для відповідей

Для проведення
Підсумкової
Атестації

ГЕОГРАФІЯ
ЗБІРНИК ЗАВДАНЬ

9 клас

Київ
Видавничий дім «Освіта»
2017

Скачано з www.erudyt.net

УДК 911(079.1)
ББК 26.82я721-4
К20

Капіруліна С. Л.

К20 Збірник завдань для проведення підсумкової атестації з географії. 9 клас / С. Л. Капіруліна. — К. : Видавничий дім «Освіта», 2017. — 56 с.

ISBN 978-617-656-695-3.

Запропонований увазі широкого кола зацікавлених — учнів та їх батьків, учителів географії та студентів-географів і педагогів, посібник містить складені у двох варіантах, уніфіковані контрольні роботи для підготовки, організації та проведення Державної підсумкової атестації у 9 класі. Змістом посібника передбачено перевірку рівня навчальних досягнень (теоретичних і практичних) учнів основної школи.

Для учнів загальноосвітньої школи, вчителів.

УДК 911(079.1)
ББК 26.82я721-4

ISBN 978-617-656-695-3

© С. Л. Капіруліна, 2017
© Видавничий дім «Освіта», 2017

Скачано з www.erudyt.net

ПОЯСНЮВАЛЬНА ЗАПИСКА

Збірник контрольних робіт для проведення державної підсумкової атестації (ДПА) учнів 9-х класів загальноосвітніх навчальних закладів складено відповідно до чинної програми з географії, а саме «Фізична географія України» (8 клас) та «Соціальна та економічна географія України» (9 клас).

Основною метою даного посібника є проведення об'єктивного оцінювання навчальних досягнень дев'ятикласників. Окрім того, цей посібник може бути використаним для підготовки учнів до зовнішнього незалежного оцінювання за повний курс середньої загальноосвітньої школи.

Збірник містить шість уніфікованих контрольних робіт у двох варіантах. Кожна контрольна робота складається із 22 однотипних завдань закритої та відкритої форми. На їх виконання відведено 90 хвилин.

Під час проведення контрольної роботи учням не дозволяється користуватися атласами та іншими джерелами картографічних знань.

Для учнів, які навчалися за програмою поглибленого вивчення предмета, в кожному варіанті завдань пропонується ще 2 завдання, позначені *, кожне з яких оцінюється в 6 балів.

Програма	Приблизна кількість	
	%	завдань
«Фізична географія України», 8 клас (70 год)	57	12 (13)
«Соціальна та економічна географія України», 9 клас (52 год)	43	10 (11)

Номер завдання	Тип завдання та спосіб його оцінювання	Кількість балів
Завдання I—II рівня складності (разом на 36 балів)		
№ 1—10	Завдання з вибором однієї правильної відповіді. Якщо у бланку відповідей позначено тільки одну правильну відповідь — завдання оцінюється в 1 бал, якщо два або більше варіанти відповідей, навіть якщо серед них є правильний, або не позначено відповіді взагалі — завдання оцінюється в 0 балів	1 завдання — 1 бал. Разом за 10 завдань — 10 балів
№ 11 та 12	Завдання на встановлення відповідності. Якщо у бланку відповідей записано всі правильні комбінації цифр і літер, завдання оцінюється в 4 бали. Відповідно кожна правильно визначена відповідність оцінюється в 1 бал	1 завдання — максимум 4 бали. Разом за 2 завдання — 8 балів
№ 13 та 14	Завдання на визначення множинної відповіді (3 правильні відповіді з 7 запропонованих варіантів). Якщо у бланк відповідей вписано 3 правильні відповіді — завдання оцінюється в 3 бали, 1 бал за кожен правильно вказану відповідь (цифру)	1 завдання — максимум 3 бали. Разом за 2 завдання — 6 балів
№ 15 та 16	Практичні завдання. Максимальна кількість балів за кожне правильно, послідовно та повністю виконане практичне завдання — 6 балів	За 1 завдання — 6 балів. Разом за 2 завдання — 12 балів
Завдання III—IV рівня складності (разом на 36 балів)		
№ 17—19	Завдання відкритого типу. За послідовно, логічно та повністю розкрити відповідь на завдання — 6 балів	За 1 завдання — 6 балів. Разом за 3 завдання — 18 балів

Номер завдання	Тип завдання та спосіб його оцінювання	Кількість балів
№ 18*—19*	Завдання відкритого типу, які демонструють творче мислення, застосування географічних знань в нових нестандартних ситуаціях, виконують лише ті учні, які навчалися в класах з поглибленим вивченням географії	За 1 завдання — 6 балів. Разом за 2 завдання — 12 балів
№ 20—21	Завдання географічного змісту з використанням математичних розрахунків. За правильно розраховані та логічно записані результати роботи та відповідь на завдання — 3 бали	За 1 завдання 3 бали. Разом за 2 завдання — 6 балів
№ 22	Завдання на контурній карті. Передбачає нанесення інформації відповідно до завдання та розробку легенди карти, яка виконується ручкою. Правильно та в повному обсязі виконане завдання на контурній карті оцінюється 12 балами	12 балів

Пропоновані завдання кожного варіанта орієнтовані на перевірку рівня досягнень учнів за 12-бальною шкалою оцінювання навчальних досягнень. Будь-який бал, що набрав учень, є позитивним, тобто оцінювання ґрунтується на принципі позитивізму. Максимально можливий бал за правильно виконаний варіант атестаційної роботи становить 72 бали (84 бали для поглибленого вивчення). Оцінка учня залежить від кількості правильних відповідей на тестові завдання та якості виконання теоретичних завдань і завдання на контурній карті.

Пропонуємо набрані бали переводити в оцінки, користуючись такою таблицею:

Бали	1–6	7–12	13–18	19–24	25–30	31–36	37–42	43–48	49–54	55–60	61–66	67–72
Оцінка	1	2	3	4	5	6	7	8	9	10	11	12

Для проведення державної підсумкової атестації вчитель готує для кожного учня окремий варіант завдань цього збірника та контурну карту. Для відповіді на відкриті завдання учням видаються чисті аркуші паперу із штампом навчального закладу (чернетка). Наприкінці посібника міститься уніфікований бланк для відповідей на тестові завдання та контурна карта, які вчитель може роздрукувати в необхідній кількості.

Учні можуть використовувати матеріали збірника під час підготовки до уроків, до ДПА у 9 класі та зовнішнього незалежного оцінювання.

КОНТРОЛЬНА РОБОТА № 1

Варіант 1

I. Завдання з вибором однієї правильної відповіді.

1. Назвіть чинник, що визначає рівнинний характер течії більшості річок України.

- А переважаючий тип клімату
- Б особливості геологічної будови території
- В характер рельєфу
- Г особливості рослинного покриву території країни

2. Укажіть найбільший залізорудний басейн в Україні.

- А Білозерський
- Б Керченський
- В Кременчуцький
- Г Криворізький

3. Укажіть правильне твердження.

- А в Україні існує приватна власність на землю
- Б природна продуктивність ґрунтів України низька
- В Україна має високопродуктивні ґрунти тільки в західній частині держави
- Г природна продуктивність ґрунтів України висока

4. Укажіть корисну копалину, що належить до рудних.

- А  Б  В  Г 

5. Назвіть головний в Україні район осушувальної меліорації.

- А Закарпаття
- Б Поліська низовина
- В Волинь
- Г Передкарпаття

6. Назвіть форми мікрорельєфу, що є найбільш поширеними на території Подільської височини.

- А карстові печери
- Б терикони
- В яри та балки
- Г дюни та бархани

7. Оберіть міста України, в яких є найбільші річкові порти.

- А Ясинувата, Лозова, Ковель
- Б Одеса, Іллічівськ, Миколаїв
- В Київ, Дніпро, Херсон
- Г Київ, Одеса, Сімферополь

8. Назвіть країни, з якими Україна межує на заході.

- А** Молдова, Росія
- Б** Росія, Угорщина
- В** Білорусь, Румунія
- Г** Польща, Словаччина

9. Оберіть області України з найбільшою щільністю сільського населення.

- А** Донецька і Луганська
- Б** Херсонська і Миколаївська
- В** Чернівецька і Івано-Франківська
- Г** Тернопільська і Чернігівська

10. Назвіть галузь промисловості будівельних матеріалів, яка орієнтується на розміщення родовищ мергелю, вапняків, крейди, доломітів

- А** виробництво цементу
- Б** цегельне виробництво
- В** виробництво лінолеуму
- Г** залізобетонних конструкцій

II. Завдання на встановлення відповідності.

11. Установіть відповідність між річками та формами рельєфу, в межах яких вони протікають.

- | | |
|-------------------|-----------------------------------|
| А Ворскла | 1 Подільська височина |
| Б Збруч | 2 Причорноморська низовина |
| В Інгулець | 3 Закарпатська низовина |
| Г Прип'ять | 4 Полтавська низовина |
| | 5 Поліська низовина |

12. Установіть відповідність між умовними знаками топографічної карти та об'єктами на місцевості, які їм відповідають.

- | | |
|----------------------------------------------------------------------------------------------|---------------------------|
| А  | 1 горб |
| Б  | 2 поодиноке дерево |
| В  | 3 луки |
| Г  | 4 поодинокий кущ |
| | 5 колодязь |

III. Завдання з вибором трьох правильних варіантів відповідей із семи.

13. Оберіть галузі тваринництва, які отримали найбільший розвиток в Україні.

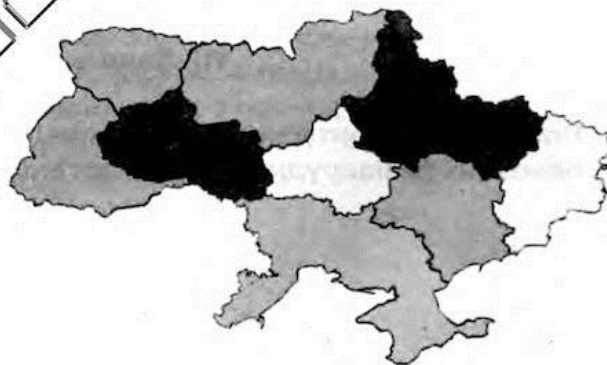
- 1 скотарство
- 2 вівчарство
- 3 конярство
- 4 птахівництво
- 5 оленярство
- 6 свинарство
- 7 кролівництво

14. Назвіть галузі господарства України, які мають достатню кількість вітчизняної сировини для власного розвитку.

- 1 виробництво алюмінію
- 2 виробництво сталі
- 3 виробництво цукру
- 4 виробництво лляних тканин
- 5 виробництво паливно-змащувальних речовин
- 6 виплавка чавуну
- 7 виробництво бавовняних тканин

IV. Практичні завдання.

15. Позначте на карті цифрами територію Карпатського та Північно-Східного економічних районів. Укажіть кількість та назву областей України, що входять до їх складу.



16. За допомогою масштабу контурної карти, яку вам видав учитель, визначте відстань між двома обласними центрами України (за вибором учителя). Поясніть, що таке масштаб. Опишіть, як ви ним скористалися.

V. Завдання відкритого типу.

- 17.** Намалюйте схему структури рослинництва України, позначте на ній 2 галузі спеціалізації.
- 18.** Коротко опишіть події, які відбувалися в межах сучасної території України в період материкового зледеніння.
- 18*.** Поясніть, чому корисні копалини належать до вичерпних не відновлюваних видів ресурсів. Запропонуйте один із способів їх заощадження.
- 19.** Поясніть, що таке синоптична карта. З якою метою її використовують?
- 19*.** Пригадайте, що таке вісь Воєйкова. Поясніть, як і де вона впливає на клімат України.

VI. Завдання географічного змісту з використанням математичних розрахунків.

- 20.** Skorиставшись статистичними даними таблиці (на січень 2016 р.), розрахуйте густоту населення Вінницької області. Поясніть, що таке густота населення.

Область	Сукупна кількість населення	Міське населення	Сільське населення	Площа, км ²
Вінницька	1 602 163	813 387	788 776	26,5

- 21.** На плані місцевості відстань від села Лісне до села Прибережне становить 10 см. Дійсна відстань між цими населеними пунктами — 500 м. Визначте масштаб плану місцевості. Поясніть, що таке план місцевості.

VII. Завдання на контурній карті.

- 22.** Позначте на контурній карті відповідними умовними знаками та підпишіть назви основних залізорудних (5) та марганцеворудних (1) басейнів України.

КОНТРОЛЬНА РОБОТА № 1

Варіант 2

I. Завдання з вибором однієї правильної відповіді.

1. Укажіть територію України, де можна помилуватися водоспадами Шипот та Учансу.

- А Карпати
- Б Кримські гори
- В пороги Дніпра
- Г пороги Дністра

2. Оберіть перелік річок, які впадають безпосередньо в Чорне море.

- А Інгулець, Ворскла
- Б Прут, Тиса
- В Південний Буг, Дністер
- Г Західний Буг, Сейм

3. Виберіть твердження, в змісті якого проявляється сутність широтної зональності в межах України.

- А зміна рівнин та гір в межах території держави із заходу на схід
- Б зміна природних зон рівнинної частини України з півночі на південь
- В зміна природних зон у Карпатах та Кримських горах від підніжжя до вершини
- Г поширення континентальності клімату із заходу на схід


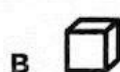
4. Укажіть назву геологічної ери, яку описано в тексті: «Потужні процеси горотворення та формування сучасного рельєфу, руйнування гірських систем мезозойської ери, формування сучасного рослинного та тваринного світу з переважанням ссавців».

- А Архейська
- Б Кайнозойська
- В Палеозойська
- Г Протерозойська

5. Укажіть ресурси, які належать до складу вичерпних.

- А енергія Сонця
- Б корисні копалини
- В внутрішня енергія Землі
- Г енергія річок

6. Укажіть корисну копалину, що належить до паливних.



7. Назвіть країни, з якими Україна межує на південному заході.

А Молдова і Румунія

В Білорусь і Польща

Б Росія і Білорусь

Г Польща і Словаччина

8. Назвіть подальший перспективний шлях розвитку електроенергетики України.

А збільшення видобутку палива

Б збільшення імпорту палива

В збільшення імпорту електроенергії

Г використання нетрадиційних видів енергоносіїв

9. Оберіть область України, яка не має виходу до державного кордону України.

А Кіровоградська і Полтавська

Б Львівська і Одеська

В Закарпатська і Вінницька

Г Івано-Франківська і Тернопільська

10. Оберіть міста України, в яких працюють найбільші морські порти.

А Ясинувата, Лозова, Ковель

Б Одеса, Іллічівськ, Миколаїв

В Київ, Дніпропетровськ, Херсон

Г Київ, Одеса, Сімферополь

II. Завдання на встановлення відповідності.

11. Установіть відповідність між тектонічними структурами та формами рельєфу в межах України.

А Східноєвропейська платформа

1 Придніпровська височина

Б Український щит

2 Донецький кряж

В Воронезький кристалічний масив

3 Східноєвропейська рівнина

Г Донецька складчаста область

4 Українські Карпати

5 схили Середньоросійської височини

12. Установіть відповідність між умовними знаками топографічної карти та об'єктами на місцевості, які їм відповідають.



1 колодязь



2 млин



3 дерев'яний міст



4 рідколісся

5 залізнична станція

III. Завдання з вибором трьох правильних варіантів відповідей із семи.

13. Назвіть підприємства різних галузей господарства України, які працюють переважно на імпортній сировині.

- 1 бавовняний комбінат
- 2 сталепрокатний завод
- 3 цукрова фабрика
- 4 нафтопереробний завод
- 5 алюмінієвий комбінат
- 6 крохмальний завод
- 7 меблева фабрика

14. Назвіть галузі сільського господарства, найбільше розвинені в приміських зонах.

- 1 овочівництво
- 2 зернове господарство
- 3 садівництво
- 4 птахівництво
- 5 виноградарство
- 6 кролівництво
- 7 молочне господарство

IV. Практичні завдання

15. Позначте на карті цифрами територію Карпатського та Центрального економічних районів. Укажіть кількість та назву областей України, що входять до їх складу.



16. За допомогою масштабу контурної карти, яку вам видав учитель, визначте відстань між двома обласними центрами України (за вибором учителя). Поясніть, що таке масштаб. Опишіть, як ви ним скористалися.

V. Завдання відкритого типу.

17. Намалюйте схему структури тваринництва України та позначте на ній 2 галузі спеціалізації.
18. Поясніть значення терміну «кліматичний чинник». Розкажіть про вплив одного з них на клімат України.
- 18*. Що таке циклон та антициклон, поясніть їх вплив на формування клімату України.
19. Назвіть найбільш родючі ґрунти України. Під дією яких чинників вони утворилися?
- 19*. Схарактеризуйте зміни природи, які відбулися в зоні степів України під впливом господарської діяльності людини.

VI. Завдання географічного змісту з використанням математичних розрахунків.

20. Поясніть, що таке місцевий час. Визначте місцевий час у Миколаєві (Львівської області), якщо у Миколаєві (Миколаївської області) в цей час 14 год 35 хв.



21. Довжина річки Дніпро становить 2201 км, похил Дніпра становить 11 см/км, визначте, на якій висоті над рівнем моря Дніпро бере свій початок. Пригадайте назву цього географічного об'єкта.





VII. Завдання на контурній карті.

22. Позначте відповідними умовними знаками та підпишіть території України, багаті на родовища паливних корисних копалин: нафти та газу (3), кам'яного (2) та бурого (1) вугілля.

КОНТРОЛЬНА РОБОТА № 2

Варіант 1


I. Завдання з вибором однієї правильної відповіді.

- 1. Назвіть найбільші озера, що розташовані у басейні річки Дунай поблизу Чорного моря.**
 - А Світязь і Синевир
 - Б Синевир і Бребенескул
 - В Бребенескул і Ялпуг
 - Г Кагул і Ялпуг
- 2. Назвіть тектонічну структуру України, в межах якої розташовані значні родовища залізних та марганцевих руд.**
 - А Волино-Подільська плита
 - Б Український кристалічний щит
 - В Дніпровсько-Донецька западина
 - Г Причорноморська западина
- 3. Оберіть перелік приладів, які використовують для спостереження за погодою.**
 - А батискаф, батисфера, ехолот
 - Б планшет, глобус, сейсмограф
 - В барометр, флюгер, гігрометр
 - Г компас, курвіметр, нівелір
- 4. Укажіть корисну копалину, що належить до рудних.**
 - А 
 - Б 
 - В 
 - Г 
- 5. Назвіть ефективний спосіб, який допоможе запобігти водній та вітровій ерозії у степовій та лісовій зонах України.**
 - А створення полезахисних смуг
 - Б застосування меліорації
 - В створення антропогенних форм рельєфу
 - Г застосування біологічних методів боротьби зі шкідниками
- 6. Назвіть територію України, на якій спостерігаються найбільші посухи.**
 - А Причорномор'я
 - Б Закарпаття
 - В Північний Крим
 - Г Донбас

- 7. Яка основна причина зумовила переважання в експорті України напівфабрикатів та сировини?**
- А високий попит на готову продукцію на внутрішньому ринку
 - Б значні запаси природних ресурсів
 - В відсутність споживача на внутрішньому ринку
 - Г низька конкурентоспроможність вітчизняної готової продукції
- 8. Назвіть промислові вузли, які входять до складу Придніпровського металургійного району.**
- А Алчевський і Маріупольський
 - Б Кременчуцький і Криворізький
 - В Маріупольський і Запорізький
 - Г Костянтинівський і Запорізький
- 9. Оберіть правильне твердження, що стосується повітряного транспорту України.**
- А забезпечує найбільший пасажирообіг
 - Б не залежить від погодних умов
 - В забезпечує найбільший вантажообіг
 - Г найдорожчий вид транспорту
- 10. Оберіть із запропонованих галузей ті, що належать до інфраструктури.**
- А сільське і лісове господарство
 - Б легка і харчова промисловість
 - В транспорт і зв'язок
 - Г лісова і деревообробна промисловість

II. Завдання на встановлення відповідності.

- 11. Установіть відповідність між умовними знаками топографічної карти та об'єктами на місцевості, які їм відповідають.**



- 1 яр
- 2 школа
- 3 поодиноке дерево
- 4 електростанція
- 5 вітряк

- 12. Установіть відповідність між галузями промисловості та основними центрами, в яких вони розміщені.**

- А Армянськ, Красноперекопськ, Калуш, Стебник
 - Б Харків, Запоріжжя, Дніпропетровськ, Лубни
 - В Київ, Житомир, Львів, Івано-Франківськ
 - Г Амвросіївка, Балаклія, Кривий Ріг, Здолбунів
- 1 машинобудування
 - 2 меблева промисловість
 - 3 хімічна промисловість
 - 4 кольорова металургія
 - 5 цементна промисловість

III. Завдання з вибором трьох правильних варіантів відповідей із семи.

13. Оберіть проблеми, які стосуються кожного економічного району України.

- 1 високий рівень урбанізації
- 2 проблеми забруднення навколишнього середовища
- 3 несприятливі демографічні процеси
- 4 проблема забезпеченості водними ресурсами
- 5 обмежений природно-ресурсний потенціал
- 6 утилізації побутових та промислових відходів
- 7 проблема забезпеченості родючими ґрунтами

14. Укажіть характеристики, спільні для двох природних зон України — лісостепової та степової.

- 1 територія виходить до морського узбережжя країни
- 2 абсолютні висоти поверхні не перевищують 200 м
- 3 для річок характерна весняна повінь
- 4 у ґрунтовому покриві переважають різні типи чорноземів
- 5 поширені ділянки буково-грабових і дубових лісів
- 6 у межах кожної зони виокремлюють кілька підзон
- 7 збереглася незначна частка природних ландшафтів

IV. Практичні завдання.

15. Позначте на карті цифрами територію Північно-Східного та Північно-Західного економічних районів. Укажіть кількість та назви областей України, що входять до їх складу.



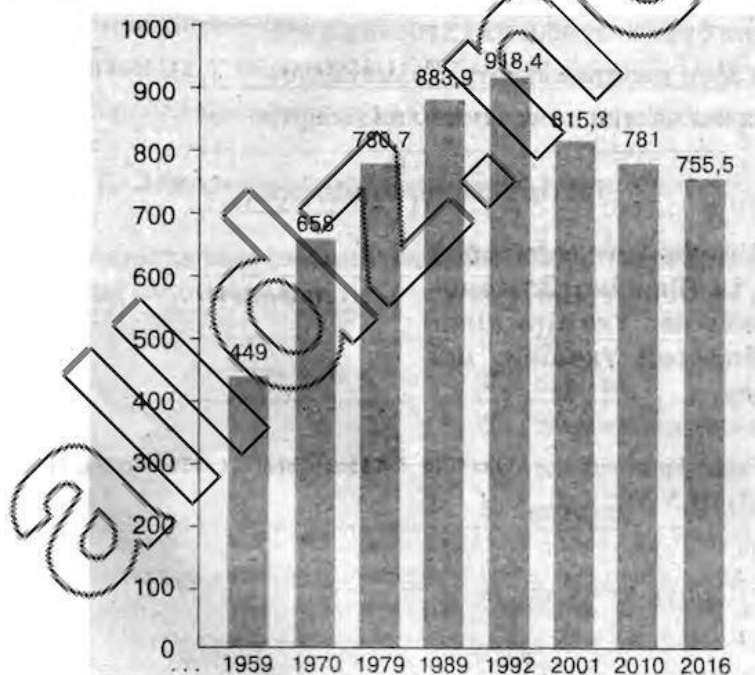
16. За допомогою масштабу контурної карти, яку вам видав учитель, визначте відстань між двома обласними центрами України (за вибором учителя). Поясніть, що таке масштаб. Опишіть, як ви ним скористалися.

V. Завдання відкритого типу.

17. Намалюйте схему структури паливного комплексу України. Вкажіть назви основних районів видобутку паливних ресурсів.
18. Що таке «Червона книга»? Поясніть її значення.
- 18*. Поясніть, що таке «Зелена книга України». Для чого її створено?
19. Поясніть сутність фізико-географічного районування. Які великі природні райони (зони) виділяються в межах України?
- 19*. Схарактеризуйте зміни природи, які відбулися в зоні лісостепів України під впливом господарської діяльності.

VI. Завдання географічного змісту з використанням математичних розрахунків.

20. Використовуючи наведену діаграму, розрахуйте середні показники збільшення (1970—1992 рр.) та зменшення (1992—2016 рр.) чисельності населення Запоріжжя. Зробіть висновки.



Діаграма: Чисельність населення Запоріжжя за роками

21. Визначте атмосферний тиск на вершині г. Роман-Кош (1 545 м), якщо біля підніжжя (абсолютна висота 75 м) він складає 740 мм рт. ст. Поясніть, що таке абсолютна висота.





VII. Завдання на контурній карті.

22. Позначте та підпишіть на контурній карті найбільші центри машинобудування України: енергетичного (1), сільгосптехніки (2), суднобудування та судноремонту (3).

КОНТРОЛЬНА РОБОТА № 2

Варіант 2

I. Завдання з вибором однієї правильної відповіді.

- 1. Назвіть природну зону України, яка має найбільшу площу боліт.**
 - А мішані та широколистяні ліси
 - Б лісостеп
 - В Українські Карпати
 - Г степ
- 2. Укажіть наукову назву зміни природних зон з висотою, що спостерігається в гірських районах України.**
 - А широтна зональність
 - Б циркуляція атмосфери
 - В залежність від абсолютної висоти
 - Г висотна поясність
- 3. Назвіть кліматичний пояс у якому розміщена крайня південна точка України.**
 - А субекваторіальний
 - Б помірний
 - В тропічний
 - Г субтропічний
- 4. Укажіть корисну копалину, що належить до хімічної сировини.**
 - А 
 - Б 
 - В 
 - Г 
- 5. Оберіть перелік річок, які є притоками Дніпра.**
 - А Інгулець, Десна, Ворскла
 - Б Прут, Прип'ять, Тиса
 - В Південний Буг, Інгул, Дністер
 - Г Західний Буг, Сіверський Донець, Сейм
- 6. Назвіть закономірність, яка спостерігається у зміні ґрунтів, рослинного покриву та тваринного світу на рівнинній частині України.**
 - А строкатість
 - Б широтна зональність
 - В азональність
 - Г висотна поясність

7. Оберіть міста України, які є найбільшими залізничними вузлами.

- А Ясинувата, Лозова, Ковель
- Б Одеса, Іллічівськ, Миколаїв
- В Київ, Дніпропетровськ, Херсон
- Г Київ, Одеса, Сімферополь

8. Назвіть країну, з якою Україна не має спільних кордонів.

- А Росія
- Б Польща
- В Німеччина
- Г Білорусь

9. Оберіть рису, яка найвигідніше характеризує економіко-географічне положення України.

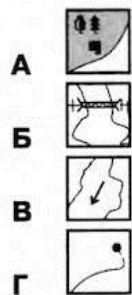
- А територія не має сильних морозів та вітрів узимку
- Б розташована в тій частині Європи, де найбільш сприятливі для господарювання ґрунтово-кліматичні умови
- В жодна з країн-сусідів не належить до економічно високо розвинутих
- Г має безпосередній вихід до морів Атлантичного та Північного Льодовитого океанів

10. Оберіть варіант, у якому правильно поєднано назву економічного району з його спеціалізацією.

- А Подільський — сільське господарство
- Б Столичний — гірничодобувна галузь
- В Причорноморський — лісове господарство
- Г Північно-Східний — чорна металургія

II. Завдання на встановлення відповідності.

11. Установіть відповідність між умовними знаками топографічної карти та об'єктами на місцевості, які їм відповідають.



- 1 річка, напрям течії
- 2 джерело і струмок
- 3 шосе і лінія зв'язку
- 4 будинок лісника
- 5 металевий міст

12. Установіть відповідність між електростанціями та джерелом енергії, яке вони використовують.

- А Рівненська
 - Б Бурштинська
 - В Кременчуцька
 - Г Новоозерна
- 1 енергія води
 - 2 вугілля, мазут, газ
 - 3 енергія вітру
 - 4 сонячна енергія
 - 5 енергія атома

III. Завдання з вибором трьох правильних варіантів відповідей із семи.

13. Укажіть твердження, які характеризують населення України.

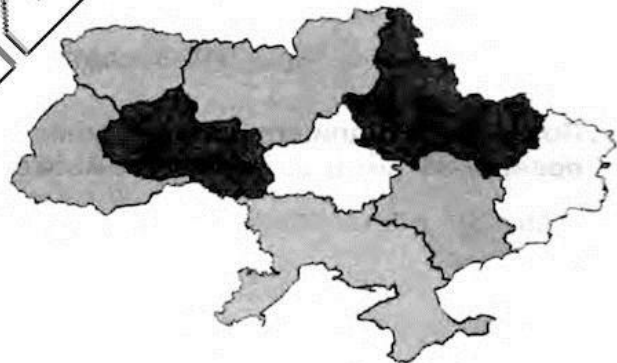
- 1 вікова структура населення свідчить про процес старіння нації
- 2 проблема зайнятості населення характерна лише для великих і середніх міст
- 3 у західних прикордонних районах існує найбільш чисельна трудова міграція
- 4 частка чоловіків переважає у всіх вікових категоріях
- 5 в країні високий рівень народжуваності та тривалості життя населення
- 6 депопуляція відбувається через від'ємний природний приріст
- 7 найчисленніша українська діаспора зосереджена в країнах Західної Європи

14. Укажіть риси, що характерні для степової зони України.

- 1 територія виходить до морського узбережжя країни
- 2 абсолютні висоти поверхні не перевищують 200 м
- 3 збереглася незначна частка природних ландшафтів
- 4 у ґрунтовому покриві переважають різні типи чорноземів
- 5 поширені ділянки буково-грабових і дубових лісів
- 6 практично немає природоохоронних територій
- 7 створено штучні лісополоси з хвойних порід дерев

IV. Практичні завдання.

15. Позначте на карті цифрами територію Столичного та Подільського економічних районів. Укажіть кількість та назву областей України, що входять до їх складу.



16. За допомогою масштабу контурної карти, яку вам видав учитель, визначте відстань між двома обласними центрами України (за вибором учителя). Поясніть, що таке масштаб. Опишіть, як ви ним скористалися.

V. Завдання відкритого типу.

17. Намалюйте схему структури енергетичного комплексу України. Наведіть приклади найбільших електростанцій.
18. Поясніть, що таке картографічна проекція, з якою метою використовують картографічні проекції.
- 18*. Коротко схарактеризуйте якісний склад паливних корисних копалин України. Запропонуйте способи їх раціонального використання.
19. Поясніть, що таке геохронологічна таблиця. Як і для чого її використовують?
- 19*. Схарактеризуйте демографічні проблеми, які впливають на розвиток економіки України.

VI. Завдання географічного змісту з використанням математичних розрахунків.

20. Скориставшись статистичними даними таблиці (на січень 2016 р.), розрахуйте густоту міського населення Київської області. Поясніть, що таке міське населення.

Область	Сукупне населення	Міське населення	Сільське населення	Площа, км ²
Київська	1 732 235	1 078 011	654 224	28,1

21. Поясніть, що таке сонячна радіація. Визначте альbedo земної поверхні (у відсотках) за місяць, якщо відомі такі показники: пряма сонячна радіація — 500 кал/см², розсіяна — 200 кал/см², відбита — 350 кал/см².

VII. Завдання на контурній карті.

22. Позначте та підпишіть назви адміністративних одиниць (6) України, які мають безпосередній вихід до Чорного та Азовського морів.

КОНТРОЛЬНА РОБОТА № 3

Варіант 1

I. Завдання з вибором однієї правильної відповіді.

1. Укажіть найбільший серед українських лиманів.

- А Дністровський
- Б Утлюцький
- В Хаджибейський
- Г Куяльницький

2. Назвіть регіони України, яким характерні такі несприятливі природні процеси як селі, зсуви, землетруси.

- А Донбас, Придніпров'я
- Б Карпати, Кримські гори
- В Полісся, Поділля
- Г Сумщина, Полтавщина

3. Визначте чинник, який сприяє надмірному зволоженню зони мішаних лісів України.

- А значне випаровування при невеликій кількості опадів
- Б велика кількість опадів та незначне випаровування
- В близькість до Атлантичного океану
- Г танення навесні значного снігового покриву

4. Укажіть корисну копалину, що належить до хімічної сировини.

- А 
- Б 
- В 
- Г 

5. Назвіть причину нерівномірного розподілу опадів і температури на території України.

- А значна протяжність території
- Б особливості рельєфу
- В переважаючий рослинний покрив
- Г особливості тектонічної будови

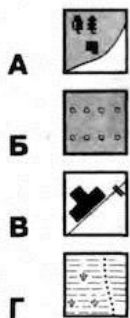
6. Визначте форми рельєфу, які утворюються під дією вітрів.

- А карстові
- Б еолові
- В акумулятивні
- Г денудаційні

- 7. Оберіть правильне твердження, що стосується залізничного транспорту України.**
- А** найдорожчий вид транспорту
 - Б** має найбільший вантажообіг в Україні
 - В** залежить від погодних умов
 - Г** забезпечує найбільший пасажирообіг в Україні
- 8. Назвіть найменшу з наведених адміністративно-територіальних одиниць, які входять до складу України.**
- А** область
 - Б** провінція
 - В** район
 - Г** губернія
- 9. Укажіть термін, що відповідає визначенню: «зосередження основної діяльності підприємства на виробництві вузького кола продукції, товарів і послуг».**
- А** спеціалізація
 - Б** кооперування
 - В** комбінування
 - Г** концентрація
- 10. Назвіть головну причину розміщення підприємств з виробництва залізобетонних конструкцій у великих містах.**
- А** значні родовища сировини
 - Б** велика кількість споживачів готової продукції
 - В** велика кількість металургійних підприємств, відходів яких використовує ця галузь
 - Г** необхідність залучення великої кількості висококваліфікованих працівників

II. Завдання на встановлення відповідності.

- 11. Установіть відповідність між умовними знаками топографічної карти та об'єктами на місцевості, які їм відповідають.**



- 1** залізниця
- 2** будинок лісника
- 3** болото з очеретом
- 4** горб
- 5** фруктовий сад

- 12. Установіть відповідність між водосховищами та областями, на території яких вони розташовані.**

- А** Печенізьке
- Б** Дністровське
- В** Канівське
- Г** Дніпродзержинське

- 1** Хмельницька
- 2** Полтавська
- 3** Запорізька
- 4** Харківська
- 5** Київська

III. Завдання з вибором трьох правильних варіантів відповідей із семи.

13. Виберіть із переліку назви атомних електростанцій.

- 1 Бурштинська і Дніпровська
- 2 Хмельницька і Рівненська
- 3 Канівська і Запорізька
- 4 Рівненська і Південноукраїнська
- 5 Новоазовська і Київська
- 6 Трипільська і Вуглегірська
- 7 Південноукраїнська і Запорізька

14. Назвіть природоохоронні території, які розташовані в природній зоні степів.

- 1 Єланецький степ
- 2 Шацький природний заповідник
- 3 біосферний заповідник Асканія Нова
- 4 природний заповідник Медобори
- 5 національний природний парк Подільські Товтри
- 6 Древянський природний заповідник
- 7 Дунайський біосферний заповідник

IV. Практичні завдання.

- 15. Укажіть, що таке азимут. Визначте азимут, якими треба рухатися туристу, який подорожує на човні річкою Бистра від залізничного моста (1) спочатку до болота (2), а потім до озера Довге (3).**



- 16. За допомогою масштабу контурної карти, яку вам видав учитель, визначте відстань між двома обласними центрами України (за вибором учителя). Поясніть, що таке масштаб. Опишіть, як ви ним скористалися.**

V. Завдання відкритого типу.

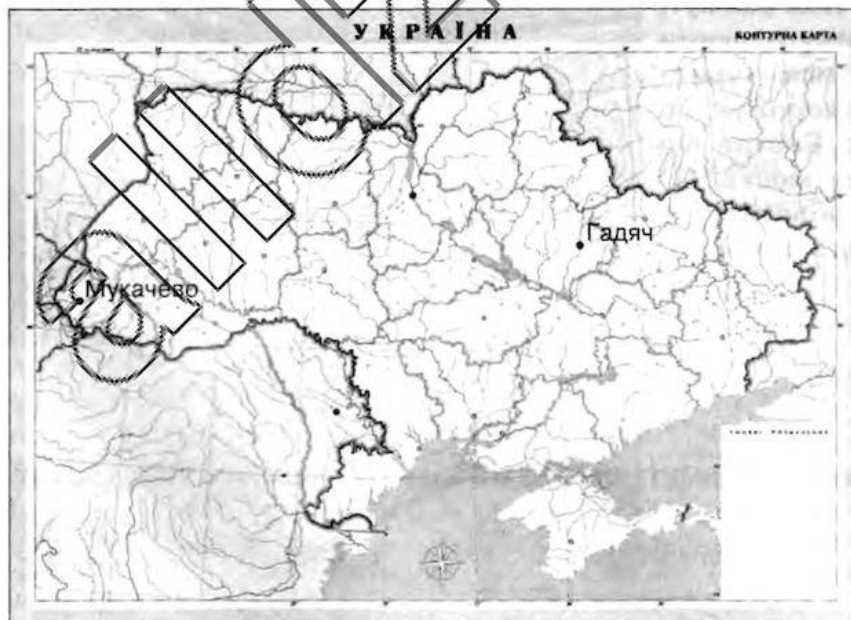
17. Намалюйте схему структури транспортного комплексу України. Поясніть, чому і який із видів транспорту є найбільш метеозалежним.
18. Коротко схарактеризуйте якісний склад рудних корисних копалин України.
- 18*. Запропонуйте та опишіть способи відновлення водних та лісових природних ресурсів.
19. Поясніть, яких змін зазнала природна зона степів під впливом господарської діяльності людини.
- 19*. Схарактеризуйте природні особливості нашої країни, які сформувалися під впливом її географічного положення.

VI. Завдання географічного змісту з використанням математичних розрахунків.

20. Скориставшись статистичними даними таблиці (на січень 2016 р.), розрахуйте густоту міського населення Запорізької області. Поясніть, що таке міське населення.

Область	Сукупне населення	Міське населення	Сільське населення	Площа, км ²
Запорізька	1 753 642	1 353 773	399 869	27,2

21. Визначте місцевий час у Мукачево (Закарпатської області), якщо у Гадячі (Полтавської області) в цей час 10 год. 45 хв.







VII. Завдання на контурній карті.

22. Позначте та підпишіть на контурній карті найбільші центри машинобудування України: автомобілебудування (4), авіабудування (2).

КОНТРОЛЬНА РОБОТА № 3

Варіант 2

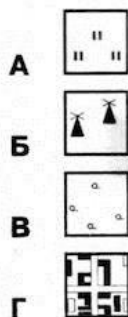
I. Завдання з вибором однієї правильної відповіді.

1. Укажіть чинник, від якого залежить наявність льодовиків на вершинах Карпат та Кримських гір.
А географічне положення
Б крутизна схилів
В висота гір
Г особливості клімату території
2. Оберіть найбільшу затоку Чорного моря.
А Каркінітська
Б Каламітська
В Джарилгацька
Г Тендрівська
3. Оберіть із зазначених фізико-географічних процесів лісостепової зони України той, що зумовлений височинним рельєфом, переважанням лесових гірських порід та відносно великою кількістю опадів.
А засолення ґрунтів
Б водна ерозія (яроутворення)
В заболочування
Г абразія берегів
4. Укажіть корисну копалину, що належить до будівельної сировини.
А  Б  В  Г 
5. Оберіть прилади, які використовують для спостережень за погодою на метеостанціях.
А курвіметр, батискаф, компас
Б нівелір, теодоліт, флюгер
В гігрометр, барометр, термометр
Г вольтметр, амперметр, мультиметр
6. Укажіть твердження, яке не стосується Азовського моря.
А в море впадає річка Салгир
Б максимальна глибина — 2245 м
В найбільша солоність спостерігається в затоці Сиваш
Г відрізняється високою біологічною продуктивністю

- 7. Оберіть правильне твердження, що стосується автомобільного транспорту України.**
- А найдорожчий вид транспорту
 - Б найдешевший вид транспорту
 - В має найбільший вантажооборот в Україні
 - Г другий за пасажирообігом
- 8. Назвіть галузь харчової промисловості України, яка належить до галузей міжнародної спеціалізації.**
- А чорна металургія
 - Б текстильна
 - В олійно-жирова
 - Г кольорова металургія
- 9. Укажіть назву гідроелектростанцій.**
- А Південноукраїнська, Запорізька
 - Б Луганська, Бурштинська
 - В Рівненська, Хмельницька
 - Г Канівська, Дністровська
- 10. Виберіть негативну рису економіко-географічного положення України.**
- А розміщення на перехресті важливих транспортних шляхів
 - Б вихід до Чорного і Азовського морів
 - В значна витратність транзитних перевезень
 - Г вихід через річку Дунай до держав Центральної Європи

II. Завдання на встановлення відповідності.

- 11. Установіть відповідність між умовними знаками топографічної карти та об'єктами на місцевості, які їм відповідають.**



- 1 населений пункт
- 2 луки
- 3 вітряк
- 4 поодиноке дерево
- 5 рідколісся

- 12. Установіть відповідність між галузями промисловості та основними центрами, в яких вони розміщені.**

- А Одеса, Черкаси, Северодонецьк, Рівне
 - Б Львів, Запоріжжя, Кременчук
 - В Шпола, Сміла, Городище, Андрушівка
 - Г Жидачів, Обухів, Корюківка
- 1 целюлозно-паперова
 - 2 виробництво азотних добрив
 - 3 автомобільна
 - 4 борошномельна
 - 5 цукрова промисловість

III. Завдання з вибором трьох правильних варіантів відповідей із семи.

13. Назвіть спеціалізацію, яку мають сільськогосподарські підприємства в Україні, що розміщені навколо великих міст і міських агломерацій.

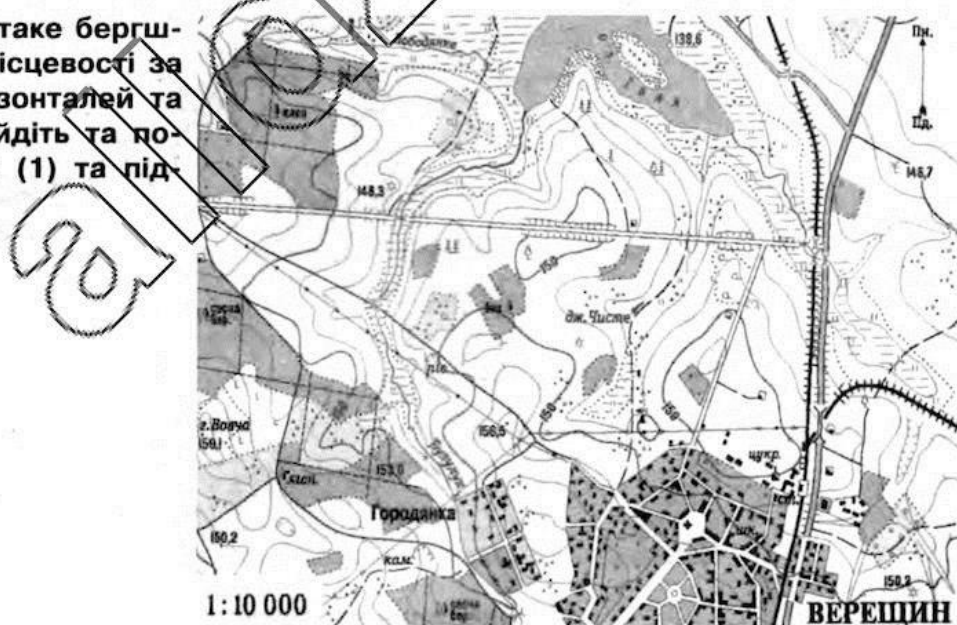
- 1 птахівництво м'ясного напрямку
- 2 молочне скотарство
- 3 виробництво зерна
- 4 овочівництво
- 5 вирощування цукрового буряку
- 6 вирощування олійних культур
- 7 вівчарство

14. Які з перелічених національних природних парків розташовані на Правобережній Україні?

- 1 Верхнє Побужжя
- 2 Голосіївський
- 3 Вижницький
- 4 Святі гори
- 5 Тузловські лимани
- 6 Гомільшанські ліси
- 7 Слобожанський

IV. Практичні завдання.

15. Пригадайте, що таке бергштрих. На плані місцевості за допомогою горизонталей та бергштрихів знайдіть та позначте западини (1) та підняття (2).



16. За допомогою масштабу контурної карти, яку вам видав учитель, визначте відстань між двома обласними центрами України (за вибором учителя). Поясніть, що таке масштаб. Опишіть, як ви ним скористалися.

V. Завдання відкритого типу.

17. Намалюйте схему структури міського транспорту України. Які з них є більш екологічно чистими?
18. Коротко схарактеризуйте якісний склад нерудних корисних копалин України.
- 18*. Схарактеризуйте вплив транспорту на довкілля. Запропонуйте шляхи зменшення цих негативних наслідків.
19. Поясніть, яких змін зазнала природна зона лісостепів під впливом господарської діяльності людини.
- 19*. Поясніть, як фізико-географічне положення України впливає на розвиток її рекреаційного господарства.

VI. Завдання географічного змісту з використанням математичних розрахунків.

20. Skorиставшись статистичними даними таблиці (на січень 2016 р.), визначте частку (у %) міських жителів від загальної кількості населення України. Поясніть, що таке маятникові міграції.

Загальна кількість	Міське населення	Сільське населення
42 929 298	29 673 113	13 256 184

21. Визначте місцевий час у Добропіллі (Донецької області), якщо у Дунаївцях (Хмельницької області) в цей час 10 год 15 хв.







VII. Завдання на контурній карті.

22. Позначте та підпишіть в контурній карті назви морів (2), що омивають територію України та вкажіть місця, де в них впадають найбільші річки (4 річки).

КОНТРОЛЬНА РОБОТА № 4

Варіант 1

I. Завдання з вибором однієї правильної відповіді.

- 1. Оберіть найвищу точку із запропонованих.**
 - А Могила Гончариха
 - Б Могила Мечетна
 - В Савур-могила
 - Г Берда
- 2. Назвіть чинник, який зумовив формування середземноморського типу клімату на південному березі Криму.**
 - А географічне положення якнайпівденнішої частини країни
 - Б приморське положення території
 - В захищеність території горами від холодних північних вітрів
 - Г особливості циркуляції атмосфери у прибережній смузі
- 3. Назвіть річки, які є лівими притоками Дніпра.**
 - А Сіверський Донець і Десна
 - Б Прип'ять і Прут
 - В Сула і Ворскла
 - Г Сейм і Горинь
- 4. Укажіть корисну копалину, що належить до паливних.**
 - А 
 - Б 
 - В 
 - Г 
- 5. Укажіть перелік антропогенних ландшафтів.**
 - А заповідник, польське низинне болото, сіножать
 - Б кар'єр, штучне водосховище, зрошувальний канал
 - В залізорудний кар'єр, заплава річки, зоране поле
 - Г селище міського типу, асфальтована дорога, низинне болото
- 6. Час у межах певного часового поясу, що дорівнює часу його середнього меридіана, називається...**
 - А поясний
 - Б декретний
 - В літній
 - Г місцевий

7. **Оберіть із перелічених порти Азовського моря.**

- Б Іллічівськ і Одеса
В Феодосія і Керч
Б Ізмаїл і Рені
Г Бердянськ і Маріуполь

8. **Укажіть головну причину створення підприємств легкої промисловості майже у всіх великих містах України.**

- А перевага кількості споживачів готової продукції
Б великі міста є транспортними вузлами, що забезпечує швидке вивезення готової продукції
В великі міста добре забезпечені електроенергією, на яку орієнтована ця галузь
Г ці підприємства орієнтуються насамперед на кваліфікованих робітників, кількість яких у великих містах значно переважає

9. **Укажіть чинник, що є визначальним для розташування основних центрів чорної металургії України.**





- А наявність водних ресурсів
Б наявність кваліфікованих трудових ресурсів
В наявність дешевої електроенергії
Г наявність запасів залізної та марганцевої руди

10. **Назвіть країни, з якими Україна має спільні кордони.**

- А Болгарія і Румунія
В Білорусь і Словенія
Б Румунія і Чехія
Г Словаччина і Молдова

II. Завдання на встановлення відповідності.

11. **Установіть відповідність між умовними знаками топографічної карти та об'єктами на місцевості, які їм відповідають.**

- А 
Б 
В 
Г 

- 1 поодиноке дерево
2 залізниця
3 болото
4 залізний міст
5 фруктовий сад

12. **Установіть відповідність між промисловим підприємством та основним принципом його розміщення.**

- А меблева фабрика
Б алюмінієвий завод
В цукровий завод
Г верстатобудівний завод
- 1 у місцях наявності сировини
2 у місцях, де розвинена металургія
3 ближче до джерел дешевої енергії
4 у містах, де наявні кваліфіковані кадри
5 у містах, де є споживач готової продукції

III. Завдання з вибором трьох правильних варіантів відповідей із семи.

13. Назвіть причини, що стримують надходження іноземних інвестицій в Україну.

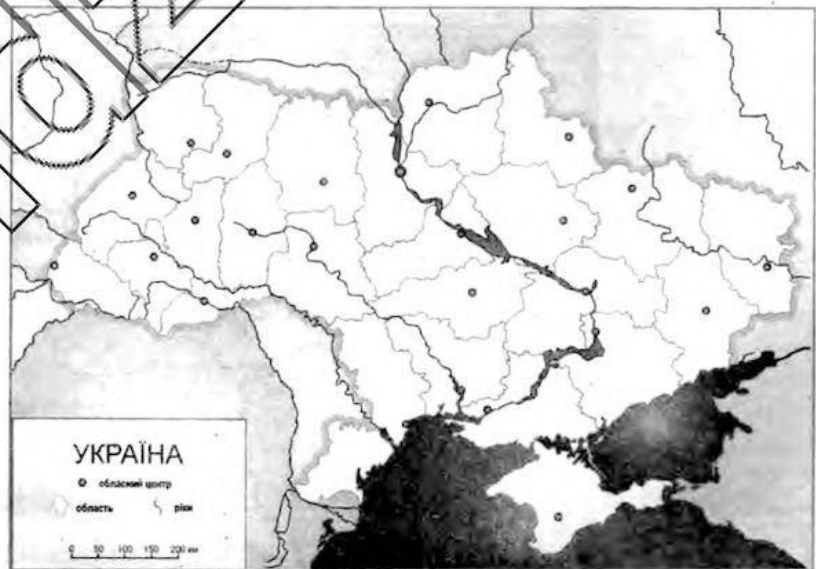
- 1 висока частка тіньового сектору економіки
- 2 надійна та досконала чинна законодавча база
- 3 прозорість процесів приватизації
- 4 високий рівень корумпованості влади
- 5 висока купівельна спроможність населення
- 6 неможливість прогнозування змін у законодавстві
- 7 наявність значної кількості кваліфікованих кадрів

14. Укажіть чинники формування типових чорноземів на території України.

- 1 злаково-різнотравна рослинність
- 2 близьке залягання ґрунтових вод
- 3 промерзання ґрунту взимку й висушування влітку
- 4 теплий і вологий клімат протягом року
- 5 інтенсивне промивання ґрунту атмосферними опадами
- 6 материнська порода — леси
- 7 карстові процеси

IV. Практичні завдання.

15. Намалюйте маршрут та підпишіть обласні центри України (4), якими з Харківського заводу енергетичного машинобудування доставлятимуть в Одеський морський порт частини турбіни електростанції, аби відправити їх до Бразилії.



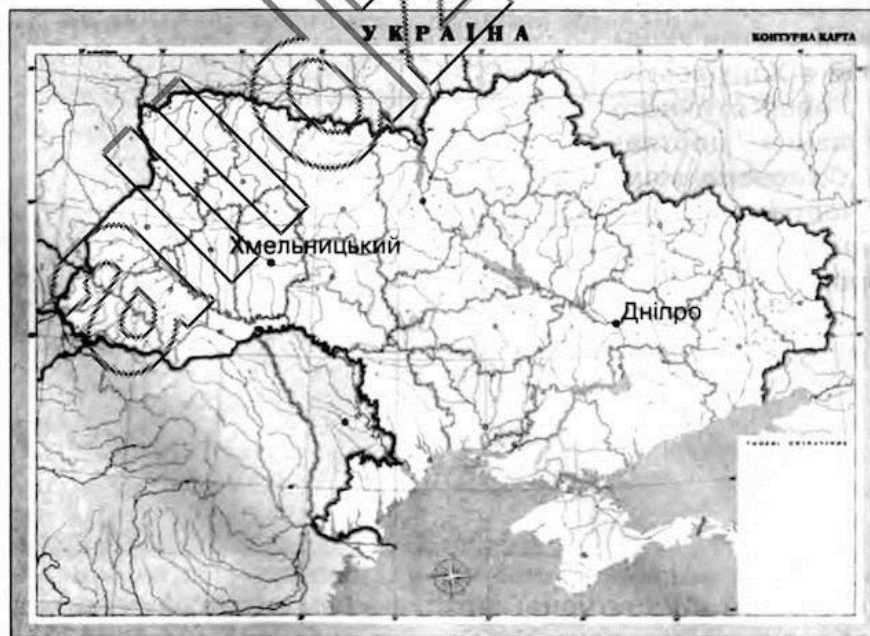
16. За допомогою масштабу контурної карти, яку вам видав учитель, визначте відстань між двома обласними центрами України (за вибором учителя). Поясніть, що таке масштаб. Опишіть, як ви ним скористалися.

V. Завдання відкритого типу.

17. Намалюйте схему галузевої структури машинобудування України. Вкажіть 2 найбільші машинобудівні центри України.
18. Поясніть, яких змін зазнала природна зона мішаних і широколистяних лісів під впливом господарської діяльності людини.
- 18*. Створення каскаду ГЕС на Дніпрі призвело до затоплення значної кількості земель. Оцініть наслідки цього будівництва.
19. Дайте визначення поняття «екологічна ситуація». Поясніть екологічну ситуацію, яка склалася в Чорному морі.
- 19*. Поясніть екологічні проблеми Карпат, які пов'язані тут із вирубкою лісу.

VI. Завдання географічного змісту з використанням математичних розрахунків.

20. Назвіть дані, необхідні аби розрахувати відстань в кілометрах між двома географічними об'єктами, що розташовано на одній паралелі. За допомогою градусної сітки обчисліть у градусах та кілометрах відстань від міста Арциз (46° пн. ш., розташоване в Одеській області) до міста Попільня (50° пн. ш., розташоване у Житомирській області). Обидва міста мають однакову географічну довготу.
21. Визначте місцевий час у Дніпрі (Дніпропетровської області), якщо у Хмельницькому (Хмельницької області) в цей час 12 год 35 хв.







VII. Завдання на контурній карті.

22. Позначте та підпишіть на контурній карті області України, сільське господарство яких спеціалізується на вирощуванні: соняшника (3 області) і картоплі (3 області).

КОНТРОЛЬНА РОБОТА № 4

Варіант II

I. Завдання з вибором однієї правильної відповіді.

- 1. Укажіть форму рельєфу, частина якої розташована за межами території України.**
 - А Кременецькі гори
 - Б Мізоцький кряж
 - В Придністровська височина
 - Г Хотинська височина
- 2. Зазначте проекцію, в якій передаються без спотворень площі географічних об'єктів.**
 - А рівновелика
 - Б рівнопроміжна
 - В рівнокутна
 - Г довільна
- 3. Укажіть найдавніші відклади в геологічній будові України.**
 - А докембрійські
 - Б мезозойські
 - В кайнозойські
 - Г палеозойські
- 4. Укажіть корисну копалину, що належить до рудних.**
 - А 
 - Б 
 - В 
 - Г 
- 5. Укажіть, які представники тваринного світу характерні для степової природної зони України.**
 - А рись, глухар, бобер, лось
 - Б кабан, олень, сайрак, лисиця
 - В лось, борсук, лелека чорний, ведмідь
 - Г гадюка, байбак, куріпка, сокіл
- 6. Зазначте основний чинник відсутності в Кримських горах та Карпатах льодовиків.**
 - А це молоді гори альпійської складчастості
 - Б теплий та посушливий клімат
 - В найвища точка гір лежить нижче висоти снігової лінії
 - Г в області розташування гір переважає антициклональна діяльність

7. Оберіть перелік міст України, що стали відомими курортами завдяки їхнім рекреаційним ресурсам.

- А Миргород, Солотвино, Хмільник
- Б Київ, Харків, Одеса
- В Суми, Чернігів, Тернопіль
- Г Донецьк, Львів, Запоріжжя

8. Укажіть назву міжнародної організації, однією із засновниць якої була Україна.

- А НАТО
- Б СОТ
- В ЄС
- Г ООН

9. Визначте правильний варіант ланцюга «галузь — підприємство — головний чинник його розміщення».





- А гірничодобувна промисловість — вугільна шахта — паливні ресурси
- Б лісова промисловість — виробництво меблів — кваліфіковані кадри
- В сільське господарство — виробництво зерна — наука
- Г харчова промисловість — виробництво цукру — автомагістралі

10. Назвіть варіант відповіді, який відповідає визначенню «зміна кількості та складу населення у результаті народжуваності і смертності без урахування його переміщення».

- А природний рух населення
- Б густина населення
- В урбанізація
- Г депопуляція

II. Завдання на встановлення відповідності.

11. Установіть відповідність між умовними знаками топографічної карти та об'єктами на місцевості, які їм відповідають.

- А 
- Б 
- В 
- Г 

- 1 горб
- 2 болото
- 3 мішаний ліс
- 4 млин
- 5 лінія електропередачі

12. Установіть відповідність між галузями промисловості та сировиною, яку вони використовують.

- А кольорова металургія
- Б чорна металургія
- В основна хімія
- Г атомна енергетика
- 1 уранові руди
- 2 марганцеві руди
- 3 калійні солі
- 4 олов'яні руди
- 5 граніти

III. Завдання з вибором трьох правильних варіантів відповідей із семи.

13. Укажіть позитивні наслідки розвитку вуглевидобування у Львівсько-Волинському вугільному басейні через виведення з ладу значної частини шахт на сході України.

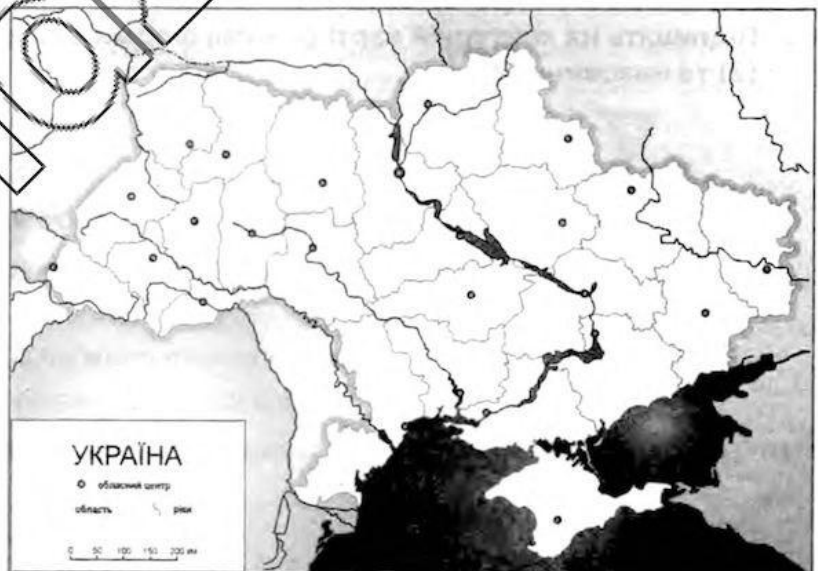
- 1 розвиток рекреаційного комплексу в регіоні
- 2 забезпечення паливом Бурштинської та Добротвірської ТЕС
- 3 розвиток альтернативних способів виробництва енергії в регіоні
- 4 забезпечення вугіллям металургійних комбінатів Львова, Луцька та Рівного
- 5 збільшення обсягу імпорту вугілля в прикордонні області України
- 6 збереження робочих місць у Нововолинську й Червонограді
- 7 поліпшення паливно-енергетичного балансу Західного регіону й України

14. Назвіть річки України, що належать до басейну Азовського моря.

- 1 Салгир
- 2 Південний Буг
- 3 Молочна
- 4 Західний Буг
- 5 Кальміус
- 6 Інгулець
- 7 Інгул

IV. Практичні завдання.

15. Намалюйте маршрут та підпишіть області України (4) якими з Миколаївського морського порту у торговельну мережу міста Києва доставлятимуть мандарини, що було закуплено в Туреччині.



16. За допомогою масштабу контурної карти, яку вам видав учитель, визначте відстань між двома обласними центрами України (за вибором учителя). Поясніть, що таке масштаб. Опишіть, як ви ним скористалися.

V. Завдання відкритого типу.

17. Намалюйте схему «Зв'язок економічної географії України з іншими науками». Поясніть коротко один із них.
18. Схарактеризуйте особливості живлення та режиму річок рівнинної частини України.
- 18*. Покажіть значення річок України для розвитку господарства.
19. Укажіть позитивні риси економіко-географічного положення України.
- 19*. Укажіть, які риси політико-географічного положення України негативно впливають на розвиток країни на даному етапі.

VI. Завдання географічного змісту з використанням математичних розрахунків.

20. Поясніть, що таке природний приріст населення. У 2015 році в Україні (без урахування Криму та Севастополя) народилося 411,8 тис. дітей, померло — 594,8 тис. осіб. Розрахуйте коефіцієнт природного приросту населення країни.
21. Поясніть, що таке похил річки. Протяжність річки Південний Буг становить 806 км. Витік річки розташовано на висоті 321 м над рівнем моря. Розрахуйте похил річки Південний Буг.





VII. Завдання на контурній карті.

22. Підпишіть на контурній карті основні форми рельєфу України — гори (2), височини (2) та низовини (2).

КОНТРОЛЬНА РОБОТА № 5

Варіант 1

I. Завдання з вибором однієї правильної відповіді.

- 1. Укажіть регіон України, у якому сформувалася найгустіша річкова сітка.**
 - А Причорноморська низовина
 - Б Українські Карпати
 - В Полісся
 - Г Донбас
- 2. Зазначте проекцію, яка зберігає без спотворень кути і форми малих об'єктів.**
 - А довільна
 - Б рівновелика
 - В рівнопроміжна
 - Г рівнокутна
- 3. Оберіть представників тваринного світу, характерних для степової природної зони України.**
 - А куниця, лисиця, кабан
 - Б сліпак, дрохва, заєць
 - В байбак, куріпка, сокіл
 - Г борсук, лелека чорний, ведмідь
- 4. Укажіть корисну копалину, що належить до технічної сировини.**
 - А 
 - Б 
 - В 
 - Г 
- 5. Оберіть із переліку заповідний об'єкт, створений природою.**
 - А ботанічний сад Київського національного університету імені Тараса Шевченка
 - Б дендрологічний парк «Олександрія»
 - В парк-пам'ятка садово-паркового мистецтва «Софіївка»
 - Г заповідне урочище Радомська дача на Чернігівщині
- 6. Оберіть групу стихійних метеорологічних явищ, що спостерігають в Карпатах і Кримських горах.**
 - А пилові бурі, суховії, смерчі, ожеледі
 - Б снігові лавини, селеві потоки, зливи, паводки
 - В град, суховії, паводки, урагани
 - Г посухи, селеві потоки, паводки, шквальні вітри

7. Зазначте країни далекого зарубіжжя, у яких утворилася найчисленніша українська діаспора.

- А** Казахстан і Аргентина. **В** США і Австралія
Б Канада і США **Г** Росія і Польща

8. Укажіть групу міст України, які завдяки лікувальним властивостям мінеральних джерел стали відомими курортами.

- А** Трускавець, Миргород, Моршин **В** Житомир, Свалява, Суми
Б Бердичів, Хмільник, Рівне **Г** Донецьк, Сімферополь, Умань

9. Оберіть правильний варіант ланцюга «галузь — продукція — основний чинник розміщення».

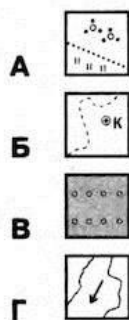
- А** будівельна промисловість — житлові будинки — наука
Б харчова промисловість — кулінарний маргарин — кваліфіковані кадри
В сільське господарство — вирощування рису — кваліфіковані кадри
Г хімічна промисловість — фосфатні добрива — споживач

10. Укажіть тип земель, які мають найбільшу частку в структурі земельного фонду України.

- А** землі житлової та промислової забудови
Б землі сільськогосподарського призначення
В землі природно-заповідного фонду та рекреаційного призначення
Г землі лісового і водного фондів

II. Завдання на встановлення відповідності.

11. Установіть відповідність між умовними знаками топографічної карти та об'єктами на місцевості, які їм відповідають.



- 1 колодязь
- 2 вирубане ліс
- 3 фруктовий сад
- 4 чагарники
- 5 річка, напрям руху

12. Установіть відповідність між факторами, що впливають на розміщення галузей господарства і виробництвом певної продукції.

- | | |
|-----------------------|--------------------------------------------|
| А сировинний | 1 виробництво металевого алюмінію |
| Б енергетичний | 2 виробництво електроніки |
| В споживчий | 3 виробництво чорної міді |
| Г транспортний | 4 виробництво кондитерських виробів |
| | 5 видобуток нафти |

III. Завдання з вибором трьох правильних варіантів відповідей із семи.

13. Визначте шляхи оптимізації галузевої і територіальної структури комплексу машинобудування в Україні.

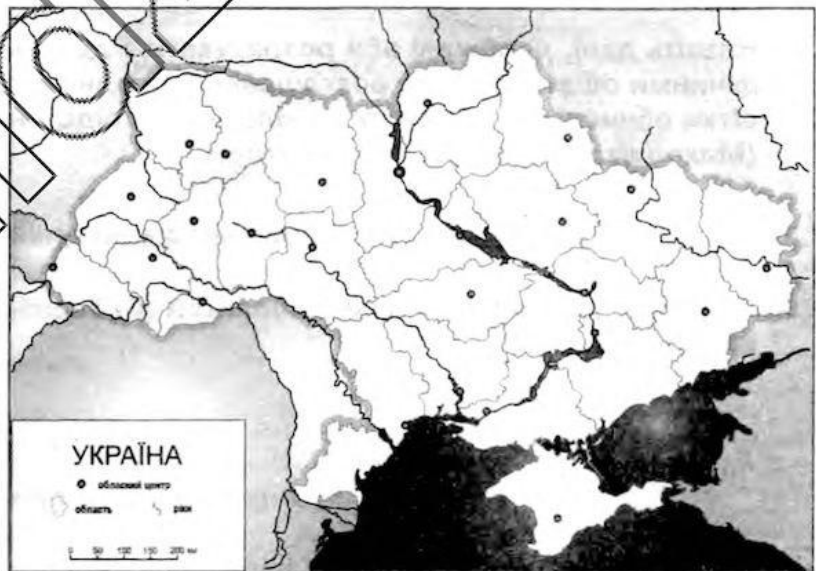
- 1 забезпечувати пріоритетний розвиток важкого машинобудування
- 2 рівномірно розміщувати підприємства в усіх обласних центрах
- 3 спрямовувати нові виробництва в малі й середні міста
- 4 концентрувати основні виробництва в Столичному економічному районі
- 5 поглиблювати спеціалізацію та кооперування підприємств
- 6 створювати технопарки для прискорення розвитку наукомістких галузей
- 7 одночасно розвивати всі галузі машинобудівного комплексу

14. Укажіть правильні твердження щодо внутрішніх вод України.

- 1 найбільш густа річкова мережа на Причорноморській низовині
- 2 озеро Синевир вулканічного походження
- 3 Шацькі озера мають карстове походження
- 4 басейн Дунаю займає найбільшу площу в Україні
- 5 Північнокримський канал — найдовший в Україні
- 6 річка Південний Буг належить до басейну Балтійського моря
- 7 річки України належать до басейнів Чорного, Азовського та Балтійського морів

IV. Практичні завдання.

15. Намалюйте маршрут та підпишіть області України (4), якими із Закарпатського міста Чоп доставлятимуть на меблеву фабрику у Житомир деревообробні верстати, які було закуплено в Італії.



16. За допомогою масштабу контурної карти, яку вам видав учитель, визначте відстань між двома обласними центрами України (за вибором учителя). Поясніть, що таке масштаб. Опишіть, як ви ним скористалися.

V. Завдання відкритого типу.

17. Намалюйте схему зв'язків і вкажіть сировину, яку рослинництво України постачає конкретним галузям харчової промисловості.
18. Назвіть чинники розміщення підприємств харчової промисловості України. На конкретних прикладах поясніть їх вплив на розміщення підприємств кондитерської промисловості.
- 18*. Зазначте, що таке природні та антропогенні ландшафти. Наведіть конкретні приклади перетворення антропогенних ландшафтів на природні, поясніть, чому і як це відбувається.
19. На конкретних прикладах покажіть зв'язок між геологічною будовою та рельєфом місцевості.
- 19*. Поясніть, як зміниться природа Олешківських пісків, якщо почати на їх території експеримент з лісорозведення подібний до того, як створювали Великоанадольський ліс на Донбасі.

VI. Завдання географічного змісту з використанням математичних розрахунків.

20. Скориставшись статистичними даними таблиці (на січень 2016 р.), розрахуйте чисельність населення Київської області. Поясніть чинники, що впливають на зміни чисельності населення.

Область	Площа, км ²	Міське населення	Густота населення, чел./км ²
Київська	28,1	1 078 011	61,6

21. Назвіть дані, необхідні аби розрахувати відстань в кілометрах між двома географічними об'єктами, що розташовано на одній паралелі. За допомогою градусної сітки обчисліть у градусах та кілометрах відстань від міста Миколаїв (47° пн. ш.) (Миколаївської області) до екватора.

VII. Завдання на контурній карті.

22. Позначте та підпишіть назви областей (6) України, які мають вихід до державних кордонів.

КОНТРОЛЬНА РОБОТА № 5

Варіант 2

I. Завдання з вибором однієї правильної відповіді.

1. Назвіть найбільшу за протяжністю річку в межах України.

- А Дніпро
- Б Дністер
- В Південний Буг
- Г Дунай

2. Назвіть форми рельєфу, які утворюються в місцях залягання крейдових, вапнякових і гіпсових тріщинуватих порід.

- А денудаційні
- Б акумулятивні
- В еолові
- Г карстові

3. Оберіть чинник, який сприяє розвитку «парникового ефекту».

- А зменшення кількості кисню в атмосфері
- Б збільшення кількості азоту в атмосфері
- В збільшення кількості вуглекислого газу в атмосфері
- Г зменшення озонового шару в стратосфері

4. Укажіть корисну копалину, що належить до паливних.



5. Укажіть тектонічну структуру, у межах якої розташовані основні родовища залізної та марганцевої руди в Україні.

- А Причорноморська западина
- Б Дніпровсько-Донецька западина
- В Український щит
- Г Волино-Подільська плита

6. Зазначте, до якого типу рельєфу належать кари, лійки, шахти, печери.

- А льодовиковий
- Б карстовий
- В еоловий
- Г тектонічний

7. Позначте правильне твердження.

- А** рівень безробіття в Україні найвищий серед країн Європи
- Б** в Україні порівняно мало зареєстрованих безробітних, проте для країни є характерним приховане безробіття
- В** усі безробітні зареєстровані в центрах зайнятості
- Г** в Україні існує дефіцит трудових ресурсів, безробіття відсутнє

8. Назвіть систему заходів, які вживає держава з метою регуляції кількості населення.

- А** демографічна ситуація
- Б** демографічний вибух
- В** демографічна криза
- Г** демографічна політика

9. Назвіть історико-географічний край, якому відповідає більша частина території Хмельницької та Вінницької областей.


- А** Покуття
- Б** Бессарабія
- В** Поділля
- Г** Полісся

10. Позначте правильне продовження твердження: «У господарстві України переважна більшість підприємств працює в напрямі...».

- А** надання рекреаційних послуг
- Б** промислового виробництва
- В** надання транспортних послуг
- Г** сільськогосподарського виробництва

II. Завдання на встановлення відповідності.

11. Установіть відповідність між умовними знаками топографічної карти та об'єктами на місцевості, які їм відповідають.



- 1** мішаний ліс
- 2** яр
- 3** рідколісся
- 4** фруктовий сад
- 5** болото

12. Установіть відповідність між галузями промисловості та сировиною, яку вони використовують.

- А** паливна промисловість
- Б** хімія органічного синтезу
- В** основна хімія
- Г** харчова промисловість
- 1** нафта
- 2** фосфорити
- 3** кухонна сіль
- 4** кам'яне вугілля
- 5** марганцева руда

III. Завдання з вибором трьох правильних варіантів відповідей із семи.

13. Який вплив матиме на природу схилів Українських Карпат будівництво гірськолижних трас і канатних доріг, що супроводжуватиметься вирубуванням лісу?

- 1 зменшиться інтенсивність паводків
- 2 розпочнеться активна вулканічна діяльність
- 3 зросте загроза снігових лавин і селів
- 4 збільшиться кількість заболочених територій
- 5 прискориться розвиток ерозії та змив ґрунтів
- 6 збільшиться кількість опадів
- 7 активізуються зсуви, обвали

14. Оберіть твердження, які характеризують мінерально-сировинні ресурси України.

- 1 Карпатський нафтогазоносний регіон належить до найдавніших за освоєнням
- 2 руди кольорових металів зосереджені у Білозерському і Нікопольському басейнах
- 3 єдиний в Україні басейн видобутку калійної солі розташований у затоці Сиваш
- 4 значні поклади торфу розташовані на Поліссі
- 5 перспективним щодо видобутку нафти й газу є шельф Чорного моря
- 6 значні запаси уранових руд є на Кіровоградщині
- 7 Львівсько-Волинський басейн найбільший за запасами кам'яного вугілля

IV. Практичні завдання.

15. Намалюйте маршрут та підпишіть області України (4), якими з Волинського міста Ковель група учнів поїде на екскурсію до міста Канева у День пам'яті Тараса Шевченка.



16. За допомогою масштабу контурної карти, яку вам видав учитель, визначте відстань між двома обласними центрами України (за вибором учителя). Поясніть, що таке масштаб. Опишіть, як ви ним скористалися.

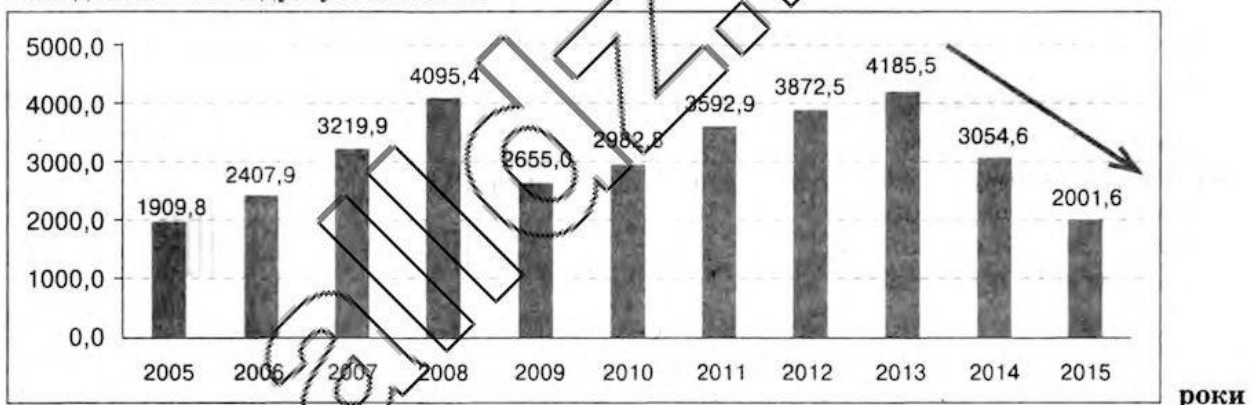
V. Завдання відкритого типу.

- 17.** Намалюйте схему міжгалузевих зв'язків і вкажіть сировину, яку тваринництво України постачає конкретним галузями легкої промисловості.
- 18.** Поясніть, що таке картографічна проекція. Для чого використовують картографічні проекції?
- 18*.** Схарактеризуйте особливості трудових ресурсів України. Поясніть відмінності між працездатним та непрацездатним населенням.
- 19.** Назвіть чинники розміщення підприємств хімічної промисловості України. На конкретних прикладах поясніть їх вплив на розміщення підприємств, що виробляють мінеральні добрива.
- 19.** Перелічіть та охарактеризуйте альтернативні джерела отримання енергії. Оцініть перспективи їх використання в Україні.

VI. Завдання географічного змісту з використанням математичних розрахунків.

- 20.** Поясніть, що таке валовий внутрішній продукт (ВВП). Розрахуйте за даними таблиці загальний ВВП України на 2015 (чисельність населення України – 42,9 млн. осіб) та 2012 (чисельність населення України – 45,6 млн. осіб) роки. Зробіть висновки.

Тис. дол. США на душу населення



- 21.** Поясніть, що таке план місцевості. На плані місцевості відстань від річкового порту до залізничної станції становить 10 см. Дійсна відстань між цими об'єктами на місцевості – 400 м. Визначте масштаб плану місцевості.





VII. Завдання на контурній карті.

- 22.** Підпишіть на карті три найбільші річки України. Вкажіть форми рельєфу (3), які є природними кордонами для басейнів цих річок.

КОНТРОЛЬНА РОБОТА № 6

Варіант 1

I. Завдання з вибором однієї правильної відповіді.

- 1. Укажіть чинник під впливом якого течії в Азовському морі рухаються проти годинникової стрілки.**
 - А рельєф морського дна
 - Б конфігурація морських берегів
 - В переважаючі напрями вітру
 - Г особливості клімату
- 2. Укажіть назву водного об'єкта, який складає єдине ціле з річкою Дніпро.**
 - А Дністровський лиман
 - Б річка Інгул
 - В Кременчуцьке водосховище
 - Г Печенізьке водосховище
- 3. Назвіть картографічний спосіб, який використовують для відображення зони поширення якогось об'єкта чи явища на поверхні землі.**
 - А спосіб ізоліній
 - Б спосіб значків
 - В спосіб картограм
 - Г спосіб ареалів
- 4. Укажіть корисну копалину, що належить до паливних.**
 - А 
 - Б 
 - В 
 - Г 
- 5. Укажіть тип клімату, який характерний для більшої частини України.**
 - А різкоконтинентальний
 - Б морський
 - В помірно континентальний
 - Г помірно морський
- 6. Укажіть тектонічну структуру, у межах якої розташовані основні родовища нафти й газу в Україні.**
 - А Український щит
 - Б Причорноморська западина
 - В Волино-Подільська плита
 - Г Дніпровсько-Донецька западина

7. Оберіть правильне твердження щодо зовнішньоекономічних зв'язків України.

- А** у наданні туристичних послуг основну роль відіграють природно-кліматичні ресурси
- Б** у структурі імпорту найбільша частка припадає на природний газ
- В** найбільше товарів експортується до країн Євросоюзу
- Г** основним видом міжнародних послуг України є фінансові

8. Укажіть історико-географічний регіон, якому відповідає територія сучасних Львівської та Івано-Франківської областей.

- А** Галичина
- Б** Слобожанщина
- В** Покуття
- Г** Волинь

9. Укажіть, який із районів України за агрокліматичними умовами найпридатніший для вирощування цукрових буряків.

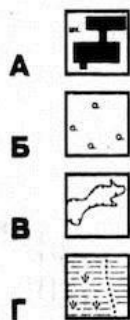
- А** Полісся
- Б** степи Приазов'я
- В** Поділля
- Г** Закарпаття

10. Виберіть правильне тлумачення терміна «спеціалізація».

- А** об'єднання технологічно пов'язаних між собою підприємств, продукція одного з яких є сировиною для іншого
- Б** встановлення виробничих зв'язків між підприємствами, кожне з яких спеціалізується на виробництві окремих частин одного виробу
- В** група подібних за технологією виробництва і призначенням готової продукції підприємств, які не пов'язані між собою територіальним чинником
- Г** зосередження основної діяльності підприємства на виробництві вузького кола продукції, товарів або послуг

II. Завдання на встановлення відповідності.

11. Установіть відповідність між умовними знаками топографічної карти та об'єктами на місцевості, які їм відповідають.



- 1** болото з очеретом
- 2** урвище
- 3** школа
- 4** рідколісся
- 5** яр

12. Установіть відповідність між галузями господарства та сферою їхньої діяльності.

- А** металургія
 - Б** легка промисловість
 - В** хімічна промисловість
 - Г** паливна промисловість
- 1** виробництво одягу
 - 2** виробництво коксу
 - 3** видобування нафти
 - 4** виробництво лікувальних препаратів
 - 5** заготівля силосу

III. Завдання з вибором трьох правильних варіантів відповідей із семи.

13. Поясніть економічну доцільність розташування нафтопереробного комбінату в місті Кременчук.

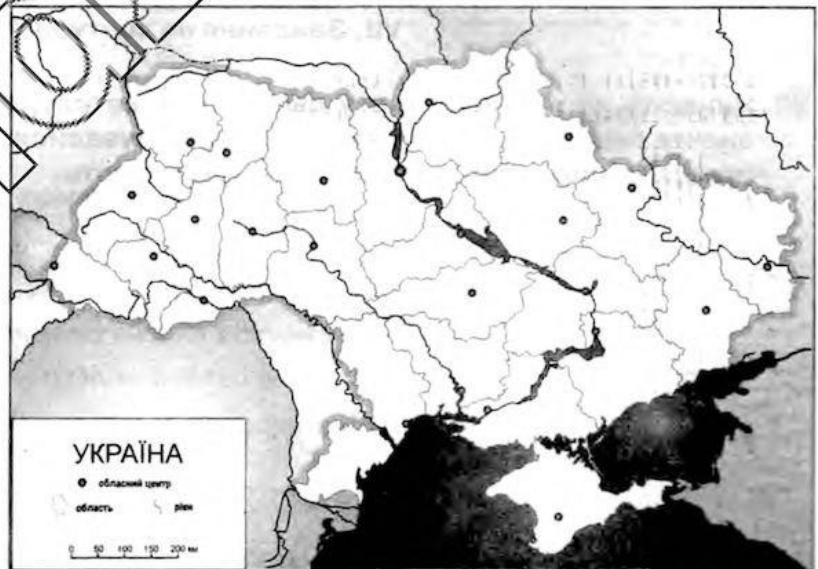
- 1 потреби підприємства в електроенергії задовольняє розташована біля міста АЕС
- 2 трубопроводами на комбінат надходить для переробки імпортована нафта
- 3 географічне положення дозволяє постачати на комбінат вітчизняну нафту
- 4 транспортні магістралі дозволяють постачати нафтопродукти по всій країні
- 5 морський порт міста розширює експортні можливості комбінату
- 6 комбінат кооперується з машинобудівними підприємствами міста
- 7 місто має прикордонне розташування

14. Виберіть правильні твердження, які характеризують клімат України.

- 1 континентальність клімату зростає в напрямку зі сходу на захід
- 2 найбільшу кількість сонячної радіації отримує південь країни
- 3 максимальна річна кількість опадів припадає на південний-схід
- 4 південний берег Криму має субтропічний середземноморський тип клімату
- 5 опади в Україну надходять здебільшого з Центральної Азії
- 6 основна кількість опадів в Україні випадає у вигляді дощу
- 7 над територією країни взимку панують арктичні повітряні маси

IV. Практичні завдання.

15. Намалюйте маршрут та підпишіть області України (4), якими до Сорочинського ярмарку у Полтавській області їхатимуть майстрині вишивальниці з Чернівецької області.



16. За допомогою масштабу контурної карти, яку вам видав учитель, визначте відстань між двома обласними центрами України (за вибором учителя). Поясніть, що таке масштаб. Опишіть, як ви ним скористалися.

V. Завдання відкритого типу.

17. Намалюйте схему зв'язків Донецької та Придніпровської металургійних баз, укажіть сировину, якою вони обмінюються.
18. Назвіть та схарактеризуйте чинники, які зумовили напрям течії більшої частини річок України.
- 18*. Схарактеризуйте соціально-економічні чинники, які впливають на народжуваність в Україні.
19. Назвіть негативні риси географічного положення України.
- 19*. Спрогнозуйте зміни агрокліматичних ресурсів України, якби її територія була розташована на одній широті із Фінляндією (в межах Північного полярного кола).

VI. Завдання географічного змісту з використанням математичних розрахунків.

20. Для виготовлення 1 т паперу потрібно $5,6 \text{ м}^3$ деревини. Середній об'єм одного дерева — $0,33 \text{ м}^3$. 100 кг макулатури рятують 1 ялину. Розрахуйте кількість дерев, яка необхідна для виробництва 1 т паперу. Яка кількість макулатури необхідна, аби врятувати кількість дерев, з яких виробляють 1 т паперу.
21. Визначте альbedo земної поверхні (у відсотках) за місяць, якщо відомі такі показники: пряма сонячна радіація — 200 кал/см^2 , розсіяна — 100 кал/см^2 , відбита — 150 кал/см^2 .





VII. Завдання на контурній карті.

22. Нанесіть на контурну карту дві основні металургійні бази України. Вкажіть та позначте сировину, на базі якої вони сформувалися. Покажіть основні вантажопотоки привізної сировини, яку вони використовують.

КОНТРОЛЬНА РОБОТА № 6

Варіант 2

I. Завдання з вибором однієї правильної відповіді.

1. **Визначте загально-географічну залежність, яка пояснює розміщення основних форм рельєфу на території України.**
- А між географічною широтою і температурою повітря
 - Б між тектонічною будовою і рельєфом
 - В між геологічною будовою і утворенням корисних копалин
 - Г між поясами атмосферного тиску і кількістю опадів
2. **Укажіть чинник, що визначає тип живлення річок України.**
- А тип клімату
 - Б рельєф
 - В особливості геологічної будови
 - Г значна тривалість зимового періоду на більшій території країни
3. **Оберіть твердження, яке характеризує Українські Карпати.**
- А через малу кількість опадів гори мають незначну річкову мережу
 - Б в Карпатах сформувалися родючі ґрунти
 - В належать до області альпійської складчастості
 - Г найбільше опадів випадає влітку та восени
4. **Укажіть корисну копалину, що належить до рудних.**
- А  Б  В  Г 
5. **Оберіть правильне тлумачення поняття «падіння річки».**
- А відношення похилу річки до довжини
 - Б кількість води, що проходить через переріз річки за одиницю часу
 - В різниця між абсолютними висотами витoku і гирла річки
 - Г різниця між абсолютними висотами вододілу і русла річки
6. **Назвіть основну причину обміління малих річок України.**
- А забруднення води
 - Б тектонічні рухи
 - В потепління клімату
 - Г вирубка лісів

7. Назвіть чинник, на який зорієнтоване виробництво чорних металів у Придніпров'ї.

- А наявність споживача
- Б наявність транспортних шляхів
- В дешева електроенергія
- Г наявність сировини

8. Визначте галузь, яка належить до хімії органічного синтезу.

- А виробництво мінеральних добрив
- Б виробництво соди
- В виробництво лаків і фарб
- Г видобуток хімічної сировини

9. Визначте, який із указаних районів України за агрокліматичними умовами най-придатніший для вирощування картоплі.





- А Одещина
- Б Полісся
- В Поділля
- Г Приазов'я

10. Виберіть твердження, що стосується населення України.

- А в Україні спостерігається явище демографічного вибуху
- Б найбільша українська діаспора проживає в Польщі
- В другим за чисельністю населення містом України є Одеса
- Г корінним населенням України є українці та кримські татари

II. Завдання на встановлення відповідності.

11. Установіть відповідність між умовними знаками топографічної карти та об'єктами на місцевості, які їм відповідають.

- А 
- Б 
- В 
- Г 

- 1 електростанція
- 2 будинок лісника
- 3 поодиноке дерево
- 4 луки
- 5 колодязь

12. Установіть відповідність між видами хімічної продукції та галузями, які є її споживачами.

- А мінеральні добрива
- Б хімічні волокна
- В гума, пластмаси
- Г лінолеум

- 1 текстильна
- 2 сільське господарство
- 3 автомобілебудування
- 4 металургія
- 5 будівництво

III. Завдання з вибором трьох правильних варіантів відповідей із семи.

13. Виберіть твердження, які характеризують лісопромисловий комплекс.

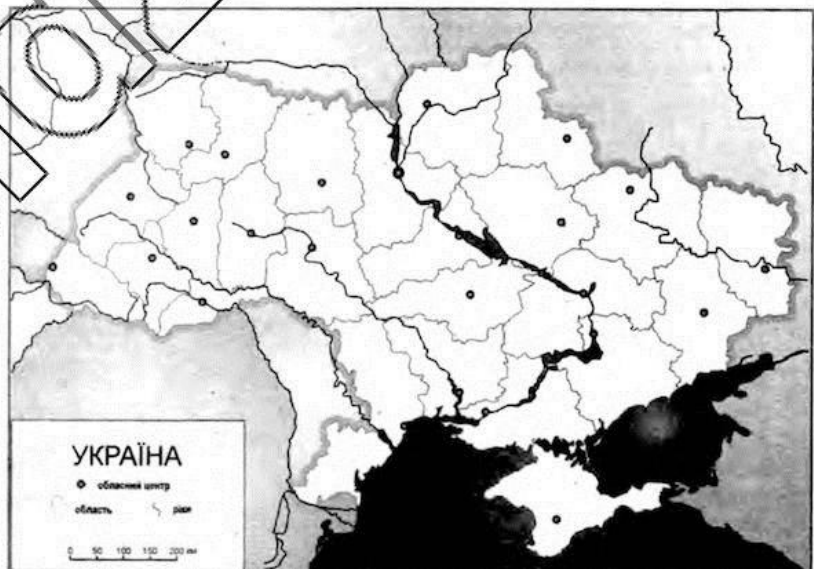
- 1 в Україні немає власного виробництва сірників
- 2 підприємства комплексу територією України розміщено рівномірно
- 3 основним споживачем деревини є лісохімічна промисловість
- 4 обсяги виробництва продукції залежать від насиченості внутрішнього ринку імпортованими товарами
- 5 найбільш лісистими районами України є Полісся та Українські Карпати
- 6 найпотужніша група лісохімічних підприємств сформувалася в Закарпатті
- 7 Україна має значні запаси деревини

14. Виберіть правильні твердження щодо внутрішніх вод України.

- 1 найдовшим в Україні каналом є Північнокримський
- 2 льодовикові озера розташовані на схилах Чорногорського масиву в Карпатах
- 3 річка Дніпро бере початок у Росії на Валдайській височині
- 4 Причорноморська низовина має найменшу густоту річкової мережі
- 5 Прип'ять — ліва притока Дніпра
- 6 найбільша кількість озер сформувалася на сході країни
- 7 більшість річок України належать до басейну Азовського моря

IV. Практичні завдання.

15. Намалюйте маршрут та підпишіть області України (4) якими до житомирських фермерів повезуть сільськогосподарські машини з заводу «Ельворті» (місто Кропивницький).



16. За допомогою масштабу контурної карти, яку вам видав учитель, визначте відстань між двома обласними центрами України (за вибором учителя). Поясніть, що таке масштаб. Опишіть, як ви ним скористалися.

V. Завдання відкритого типу.

17. Складіть схему національної структури населення України. Вкажіть райони найбільшого поширення двох національних меншин.
18. Оцініть сучасну екологічну ситуацію, що склалася в Азовському морі.
- 18*. Запропонуйте шляхи рішення екологічних проблем Азовського моря.
19. Поясніть, що таке «природоохоронна територія». З якою метою створюють такі території?
- 19*. Схарактеризуйте причини, за яких в зоні лісів та степів України утворився різний ґрунтовий покрив.

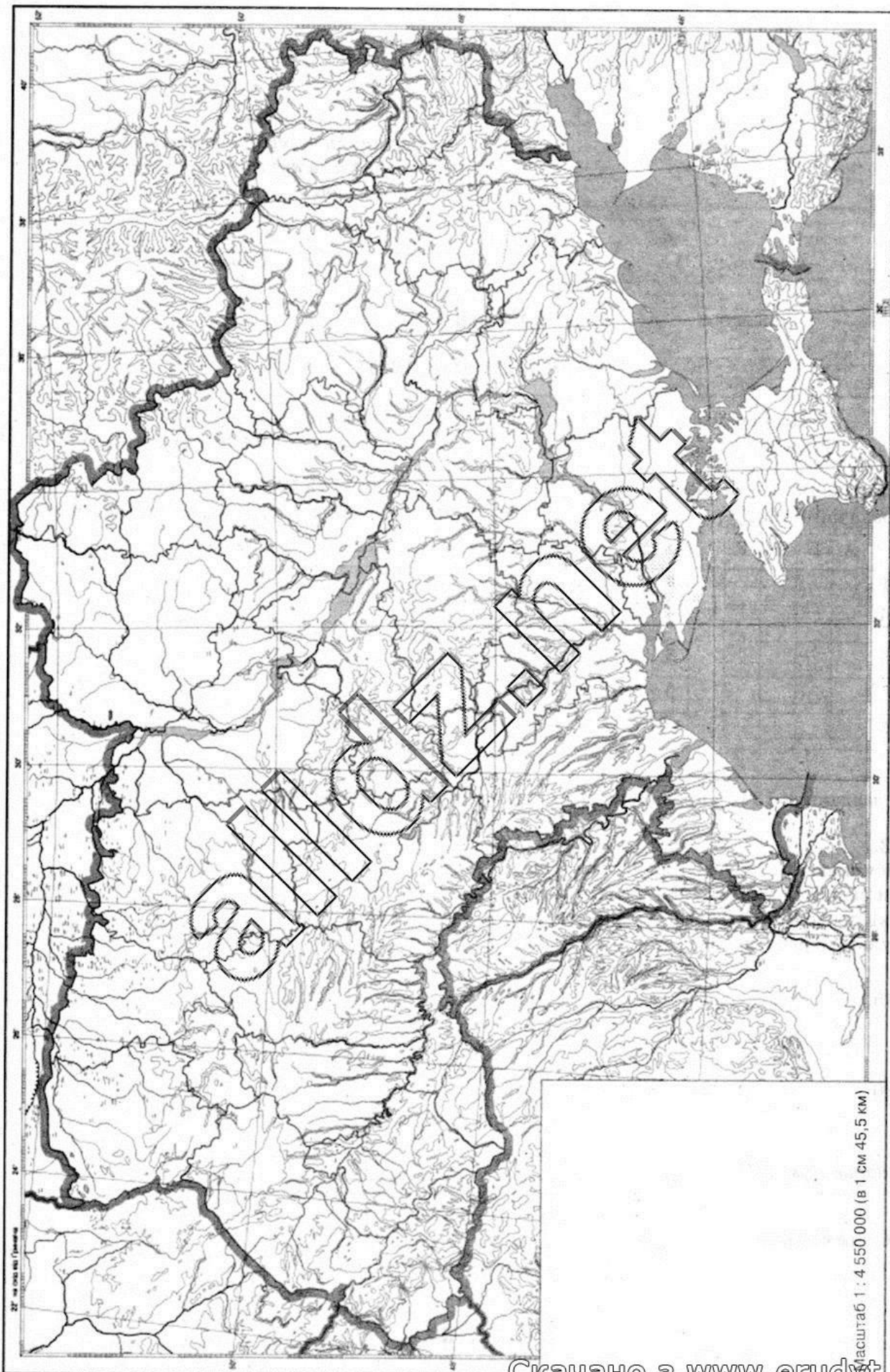
VI. Завдання географічного змісту з використанням математичних розрахунків.

20. Пригадайте, яку продукцію випускає целюлозно-паперовий комбінат. На виробництво однієї тонни відбіленої целюлози витрачається $200\text{--}300\text{ м}^3$ води. Денна потужність целюлозно-паперового комбінату становить 20 тонн целюлози. Розрахуйте обсяги води, необхідні для роботи комбінату на тиждень в цистернах (1 цистерна — 120 м^3 води).
21. Визначте місцевий час у Львові, якщо у Скадовську (Херсонської області) в цей час 16 год 15 хв.



VII. Завдання на контурній карті.

22. Позначте кордони України. Підпишіть країни (6), з якими вона межує.



Скачано з www.erudyt.net

Робота
на державну підсумкову атестацію
з географії за курс основної школи
учня (учениці) 9 _____ класу

(прізвище, ім'я, по батькові)

Штамп ЗНЗ

Варіант _____

БЛАНК ВІДПОВІДЕЙ

Увага!

Позначаєте в бланку відповідей тільки один варіант відповіді в таблиці, відведеній до кожного завдання. Будь-які виправлення в бланку недопустимі.

У завданнях 1—10 правильну відповідь позначаєте так:

	А	Б	В	Г
1				
2				
3				
4				
5				

	А	Б	В	Г
6				
7				
8				
9				
10				

У завданнях 11 та 12 навпроти правильної цифри та літери правильну відповідь позначаєте так:

	1	2	3	4	5
А					
Б					
В					
Г					

	1	2	3	4	5
А					
Б					
В					
Г					

У завданнях 13 і 14 правильну відповідь записуйте цифрами так: 1 2 3 4 5 6 7 8 9

13.

Починаючи з 15 завдання, бали в комірки заносять учитель або члени комісії, які проводять ДПА та перевіряють результати роботи учнів.

14.

15.

16.

17.

18.

19.

20.

21.

22.

18.*

19.*

Голова комісії:

_____ (підпис)

_____ (ПІВ)

Члени комісії:

Для нотаток

erudit.net

Навчальне видання

КАПІРУЛІНА Світлана Леонідівна

**ЗБІРНИК ЗАВДАНЬ ДЛЯ ПРОВЕДЕННЯ
ПІДСУМКОВОЇ АТЕСТАЦІЇ З ГЕОГРАФІЇ**

9 клас

Навчальний посібник

Редактор *О. В. Попович*
Технічний редактор *Л. І. Алеїна*
Коректор *Л. В. Греч*
Комп'ютерна верстка *Ю. П. Мироний*

Формат 84×108 1/16. Ум. друк. арк. 5,88.
Обл.-вид. арк. 5,17. Наклад 3030 пр.
Зам. № 7142.

ТОВ «ВИДАВНИЧИЙ ДІМ «ОСВІТА»

Свідоцтво «Про внесення суб'єкта видавничої справи до державного реєстру
видавців, виготівників і розповсюджувачів видавничої продукції»
Серія ДК № 5081 від 13.04.2016 р.

Адреса видавництва: 04053, м. Київ, вул. Обсерваторна, 25
www.osvita-dim.com.ua

Віддруковано ТОВ «Поліпрінт».

Свідоцтво «Про внесення суб'єкта видавничої справи до державного реєстру
видавців, виготівників і розповсюджувачів видавничої продукції»
Серія ДК № 1250 від 27.02.2003 р.
04074, м. Київ, вул. Лугова, 1А

