

1. В якому році була випущена зазначена пам'ятка (монета)?



A 1991 р.

B 2019 р.

Б 2005 р.

Г 2022 р.

2. В уривку йдеться про:

«Після раптового вторгнення запорожців у табір Османа турками оволоділа паніка: сам Осман, який ще недавно думав, що немає нікого у світі могутнішого за нього, тепер на власні очі побачив усю хиткість свого становища...»

A одну з подій Хотинської війни

B вторгнення в Молдавію козаків С. Наливайка

Б захоплення запорозькими козаками фортеці Кафа

Г захоплення запорозькими козаками фортеці Кодак

3. Якого періоду стосується зазначена монета?

A 16-17 ст.

Б 17-18 ст.

В 18-19 ст.

Г 19-20 ст.



#### 4. Якого договору стосується зазначена карта?

- А Люблінська унія
- Б Гадяцький договір
- В Березневі статті
- Г Корсунська угода



#### 5. Яка з указаних ознак є головною у визначенні поняття «кріпацтво»?

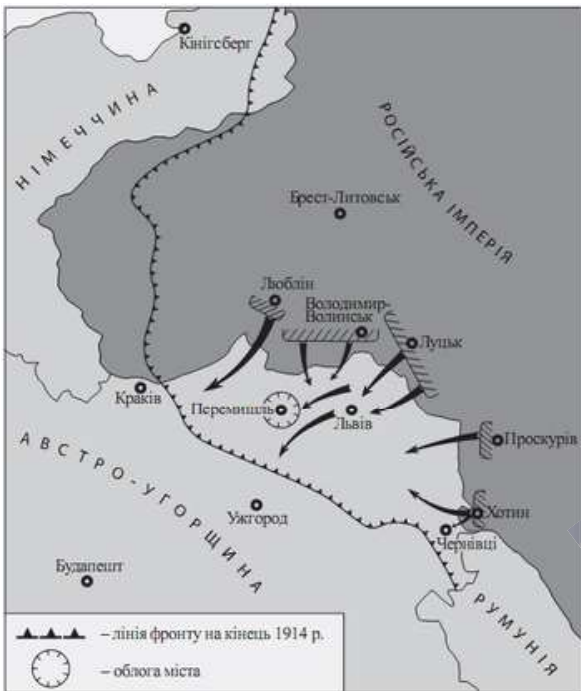
- А щоденний відробіток селянами панщини
- Б особиста залежність селянина від пана
- В сплата селянами натурального чи грошового оброку
- Г виконання певних повинностей у маєтку поміщика

#### 6. Карикатура на Селянську реформу 1861 р. акцентує увагу на її

- А причині
- Б результат
- В процесі
- Г меті



7. Що стало наслідком подій, перебіг яких відображено на карті?



**А** капітуляція Австро-Угорщини та проголошення ЗУНР

**Б** вступ у світову війну Німеччини на боці Австро-Угорщини

**В** демократична революція та повалення самодержавства в росії

**Г** створення Галицько-Буковинського генерал-губернаторства

8. Якого міста стосується зображений реверс монети?

**А** Одеса

**В** Київ

**Б** Харків

**Г** Дніпро



9. Якому твору відповідає дана марка?

**А** Енеїда

**Б** Гайдамаки

**В** Запорожець за Дунаєм

**Г** Кобзар



10. Яка з характеристик підійде для діяча, що зображений на марці?

А художник-авангардист, кубіст

Б художник-імпресіоніст

В художник-реаліст

Г художник в стилі соціалістичного реалізму



11. Яка подія спричинила вторгнення Червоної армії на територію Західної України?

А створення дистрикту «Галичина»

В агресія Угорщини проти Карпатської України

Б капітуляція Польщі

Г укладення пакту Молотова-Ріббентропа

12. У який період німецько-радянської (1941–1945 рр.) зроблено зображені фото?

А серпень–вересень 1941 р.


Б червень–липень 1942 р.

В вересень–листопад 1943 р.

Г січень–лютий 1944 р.



### 13. Що об'єднує подані нижче плакати?



**А** Всі ці злочини здійснила радянська влада

**В** Всі ці злочини відбувалися у роки Другої світової

**Б** Всі ці злочини здійснила німецька влада

**Г** Всі ці злочини визнані геноцидом


### 14. Яка з афіш стосується фільму зображеного режисера?



**А**



**Б**



**В**



**Г**

\*формулювання питання може відрізнятись



15. Яке явище радянської дійсності другої половини 1960-х - 1980-х рр. відображено на карикатурі?



А боротьба з нетрудовими доходами

В поглиблення технологічної відсталості легкої промисловості

Б розкрадання державного майна на робочих місцях

Г систематичні перевірки громадян співробітниками міліції

16. В якому році була випущена дана марка?

А 1990 р.

Б 2005 р.

В 2014 р.

Г 2022 р.



17. У відповідність рік прийняття документа із цитатою з нього.

1 1991 р.

А

«Підтверджуючи відданість України ідеалам та принципам, які є спільним надбанням європейських народів,...Верховна Рада України постановляє: Приєднатися від імені України до Статуту Ради Європи...»

2 1995 р.

3 1996 р.

Б

«...Верховна Рада України постановляє: 1. Ввести в дію Закон України "Про Збройні Сили України" з моменту його прийняття. 2. Доручити Кабінету Міністрів України розробити пропозиції щодо загальної структури Збройних Сил України...»

4 2014 р.

В

«1. Цим документом створюється асоціація між Україною та Союзом і його державами-членами... Цілями асоціації є: Сприяти поступовому зближенню Сторін..., поглиблюючи зв'язок України з політикою ЄС...»

Г

«Верховна Рада Української РСР проголошує державний суверенітет України як верховенство, самостійність і неподільність влади республіки в межах її території та незалежність і рівноправність у зовнішніх зносинах...»

Д

«...Верховна Рада України постановляє: ... Прийняти Конституцію України... Визнати такою, що втратила чинність, Конституцію України від 20 квітня 1978 року з наступними змінами й доповненнями...»



## 18. Увідповідніть діяча з характеристикою



1



2



3



4

А Президент ЗУНР

В Очільник ОУН

Б Голова ГУР

Г Голова СВУ

## 19. Установіть послідовність подій

А Д. Многогрішний

Б Д. Апостол

В І. Мазепа

Г К. Розумовський

## 20. Оберіть плакати, що харектеризують ідеологічні компанії часів повоєнних років

*\*також був плакат, який присвячений низькоклонству перед заходом*



History



## 21. Установіть послідовність подій

\*2 та 3 плакат були інші, але зміст той самий



## 22. Установіть послідовність подій

- A Створення Української робітничо-селянської спілки
- Б Початок видання самвидаву "Український вісник"
- В Акція протесту в кінотеатрі "Україна"
- Г Початок діяльності Української Гельсінської групи

## 23. Укажіть головні ідеї Кирило-Мефодіївського братства

- 1 Ліквідація самодержавства, скасування кріпацтва та станового поділу суспільства
- 2 Створення демократичної федерації слов'янських християнських республік
- 3 Об'єднання українського та польського рухів у єдиний національно-визвольний рух
- 4 Утвердження демократичних прав і свобод, рівності усіх громадян перед законом
- 5 Повалення царизму шляхом військового перевороту або визвольного повстання
- 6 Здобуття Україною автономії у складі демократичної Російської республіки

## 24. Укажіть характерні риси розвитку економічного розвитку Наддніпрянської України на початку ХХ ст.

- 1 Формування ринку вільнонайманої праці
- 2 Створення монополістичних об'єднань
- 3 Посилення концентрації виробництва
- 4 Посилення спеціалізації районів сільськогосподарського виробництва
- 5 Збільшення частки легкої промисловості порівняно з важкою
- 6 Незалежність економіки українських земель від імперського центру
- 7 Відставання України від загальноімперського розвитку

**TURBO** — твої помічники, які покажуть не тільки, як правильно навчатись, а й відпочивати!

- ✓ 2 дні інтенсивної підготовки з 4-ох предметів
- ✓ 15 годин розборів необхідних тем
- ✓ 2 рівні груп для твого бажаного результату
- ✓ вступні імітації з кожного предмету
- ✓ щоденник абітурієнта для твоїх нотаток
- ✓ підтримка від куратора

Пиши кодове «**ПОМІЧНИК**» мені в директ!

**TURBO** — твій комфортний інструмент для 200!



# ВІДПОВІДІ

- |    |   |    |                        |    |         |
|----|---|----|------------------------|----|---------|
| 1  | В | 11 | Г                      | 21 | ВГБА    |
| 2  | А | 12 | В                      | 22 | АВБГ    |
| 3  | Б | 13 | Г                      | 23 | 1, 2, 4 |
| 4  | Б | 14 | В                      | 24 | 2, 3, 4 |
| 5  | Б | 15 | Б                      |    |         |
| 6  | Б | 16 | Г                      |    |         |
| 7  | Г | 17 | 1-Б, 2-А, 3-В, 4-Г     |    |         |
| 8  | А | 18 | 1-Б, 2-Г, 3-А, 4-В     |    |         |
| 9  | А | 19 | АВБГ                   |    |         |
| 10 | А | 20 | відповіді<br>позначені |    |         |

*З Турботою*  
про твої бали!



History