

## 1. Яка подія відбулася в 1586 р. ?

- А** укладення Люблінської унії
- Б** утворення греко-католицької церкви
- В** утворення першої братської (слов'яно-греко-латинської) школи у Львові
- Г** заснування Д. Вишневецьким на о. Мала Хортиця першої відомої Січі

## 2. На марці зображено фортифікаційну споруду

- А** Хотинська фортеця
- Б** Кам'янець-Подільська фортеця
- В** Аккерманська фортеця
- Г** Меджибізька фортеця



3. «Через рік після [битви] під Берестечком повністю загинуло польське військо від козаків і татар. Ні гетьман, ні старшина, ні жодна душа пішого війська польського не врятувалася. Того ж року господарю Василю довелося влаштувати весілля своєї дочки Розанди з Тимошем, сином козацького гетьмана Хмеля...»

Про яку битву йдеться, в уривку документа?

- А** Зборівська
- Б** Батозька
- В** Жванецька
- Г** Корсунська



4. Укажіть гетьмана, якому присвячено такі рядки історичної пісні:

«Братовбивчі чвари, спори / Обертають край в руїну, / Ти зложив свої клейноди / І покинув Україну. / І на чужині московській / Світлий муж наш погибає, / Був він "Сонцем на Руїні" / І таке ім'я в нас має...».



**А**



**Б**



**В**



**Г**

5. Спільним наслідком російсько-турецьких воєн 1806–1812 рр. та 1828–1829 рр. для українських земель було

- А** заснування масонських лож, таємних організацій дворян-офіцерів.
- Б** ліквідація кріпацтва та поміщицького землеволодіння на приєднаних землях.
- В** відновлення Запорозької Січі за участі колишніх козаків-задунайців.
- Г** використання ресурсів регіонів, що були найближчим тилом російської армії.

6. На якій з марок зображена пам'ятка, що знаходиться у Жовкві?



**А**



**Б**



**В**



## 7. Хто зображений на фото?

- А** І. Вагилевич
- Б** М. Шашкевич
- В** І. Могильницький
- Г** Я. Головацький



## 8. Коли відбулася зазначена подія з цитати? “Це повстання названо січневим. Почалося 22 січня... повстали народи Польщі та Литви за Річ Посполиту”

- А** 1861-1862 рр.
- Б** 1863-1864 рр.
- В** 1858-1859 рр.
- Г** 1825-1826 рр.

\*приблизне формулювання завдання

## 9. «Самостійна, суверенна Україна, соборна, ціла й нероздільна, від Сяну й Кубані, від Карпат по Кавказ...», – таке гасло на початку ХХ ст. сформулював

- А** М. Міхновський
- Б** А. Шептицький.
- В** І. Боберський
- Г** В. Липківський.



**10. Напередодні Першої світової війни українські землі перебували у складі російської імперії та:**

- А** Румунії
- Б** Речі Посполитої
- В** Австро-Угорщини
- Г** Німеччині

**11. Внаслідок якої події УЦР поширила владу на 9 губерній**

- А** заколот Корнілова
- Б** більшовицький переворот в Петрограді
- В** скликання Національного конгресу
- Г** Лютнева революція

**12. Яка інституція легітимізувала владу Директорії в січні 1919 р.?**

- А** Світовий конгрес українців
- Б** Національний конгрес
- В** Хліборобський конгрес
- Г** Трудовий конгрес





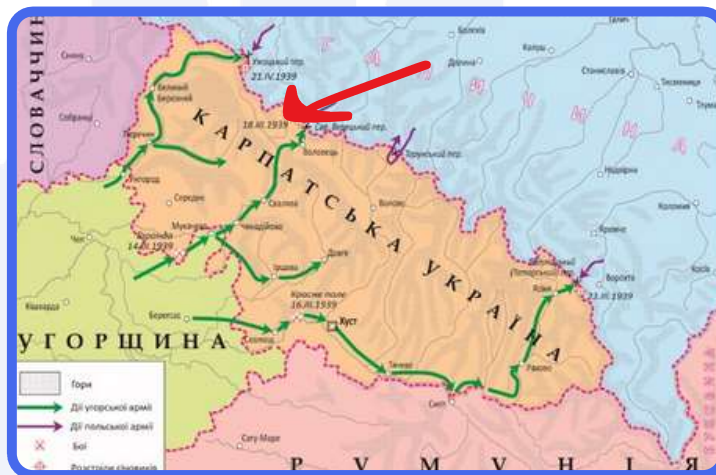
### 13. Який із зображених радянських плакатів відображає суть документа, уривок із якого процитовано:

«Це гасло [«техніка вирішує все»] допомогло нам створити найширшу технічну базу в усіх галузях діяльності... Це дуже добре. Але цього далеко і далеко недостатньо. Техніка без людей, які оволоділи технікою, мертва. Техніка на чолі з людьми, котрі оволоділи технікою, може й повинна творити чудеса. Ось чому тепер наголос має бути зроблений на працівниках, які оволоділи технікою...»?



### 14. Подій якого року стосується зазначена карта?

- А** 1938 р
- Б** 1939 р.
- В** 1941 р.
- Г** 1945 р



\*рік був зазначений

### 15. Про кого йде мова в цитаті?

Коли село звільнили, всіх чоловіків від 16 до 60 років — всіх, аби була нога-рука, а чи сліпий-глухий — не важливо — стали брати до війська. Нас «озброїли» — дали по півцеглини і — «йдіть, іскушайте вину кров'ю», бо ми на окупованій території були. Мовляв, ви жбурляйте цеглу, а німці нехай думають, що то гранати! Нас 500 душ вигнали на кригу водосховища, навпроти — якийсь комбінат, німці вибили в мурі бійниці. Сам мур — висотою метрів три. Попробуй через нього перелізти та по кризі до нього добігти. Німці нас підпустили і вдарили кинджальним вогнем.

- А** чорносвітники
- Б** гайдамаки
- В** опришки
- Г** чорносотники



## 16. Яка ідеологічна кампанія в післявоєнні роки мала антисемітський характер?

- А** лисенківщина
- Б** космополітизм
- В** український буржуазний націоналізм
- Г** ждановщина

## 17. Що свідчить про появу дисидентського руху в Україні?


- А** протест у кінотеатрі “Україна”
- Б** створення Української робітничо-селянської спілки
- В** вихід самвидава “Український вісник
- Г** діяльність Української Гельсінської групи

## 18. До якого періоду відноситься зображене фото

- А** Погоєнні роки
- Б** Україна в умовах десталінізації
- В** Україна в період загострення кризи радянської системи
- Г** Відновлення незалежності



## 19. Вкажіть пам'ятник, що присвячений 1500-річчю заснування Києва?



**А**



**В**



**Б**



**Г**

## 20. Що символізує зазначена марка?

- А** оборона Донецького аеропорту
- Б** бій під Дебальцево
- В** блокада Маріуполя
- Г** бої за Бахмут та Авдіївку



**ПРИЄДНУЙСЯ ДО TURBO WEEKEND ТА СТАВАЙ УЧАСНИКОМ РОЗІГРАШУ - ПОЇЗДКИ У КАРПАТИ**



Пиши кодове

**РЕЛАКС**

та дізнавайся усі деталі

2 дні інтенсивної підготовки з 4-ох предметів

щоденник абітурієнта для твоїх нотаток

вступні імітації з кожного предмету

2 рівні груп для твого бажаного результату

15 годин розборів необхідних тем

підтримка від куратора



History

## 21. Установіть відповідність між подіями XVII ст. та їхніми наслідками

- |   |                                     |
|---|-------------------------------------|
| 1 обрання П. Могили                           | А настання “Золотого спокою”        |
| 2 прийняття Ординації Війська Запорозького    | Б збільшення реєстру з 3 до 6 тисяч |
| 3 укладання Куруківської угоди                | В похід на Кафу                     |
| 4 обрання гетьманом П. Конашевич-Сагайдачного | Г реформування церкви               |

## 22. Установіть відповідність між організаціями та роками, що з ними пов'язані:

- |  |           |
|--|-----------|
| 1 заснування наукового товариства Шевченка | А 1833 р. |
| 2 утворення товариства “Просвіта” у Львові | Б 1892 р. |
| 3 початок видання “Зорі Галицької”         | В 1848 р. |
| 4 початок діяльності Руської трійці        | Г 1868 р. |

## 23. Встановіть відповідність між персоналіями та діяльністю

- |                                 |                  |
|---------------------------------|------------------|
| 1 Ідеолог консерватизму         | А В. Липинський  |
| 2 Голова проводу ОУН            | Б А. Мельник     |
| 3 Митрополит УГКЦ               | В Й. Сліпий      |
| 4 Президент Карпатської України | Г М. Міхновський |
|                                 | Д А. Волошин     |






## 24. У відповідність поняття та період до якого вони відносяться

- |  |   |
|--|---|
| <b>1</b> Україна в перші повоєнні роки (1945 – початок 1950-х рр.)             | <b>А</b> «самвидав», «номенклатура», «дефіцит», «правозахисник»   |
| <b>2</b> Україна в умовах десталінізації (1953–1964 рр.)                       | <b>Б</b> «новий порядок», «радянізація», «план “Ост”», «депортація»   |
| <b>3</b> Україна в період загострення кризи радянської системи (1965–1985 рр.) | <b>В</b> приватизація, «тимчасово окупована територія», «антитерористична операція (АТО)», «європейська інтеграція» |
| <b>4</b> Україна в умовах незалежності (1991 р. – початок XXI ст.)             | <b>Г</b> операція “Вісла”, «ждановщина», «космополітизм», «лисенківщина»  |
|  | <b>Д</b> «відлига», «політична реабілітація», «раднаргоспи», «шістдесятники»  |

## 25. Установіть послідовність подій

- А** Утворення Другої Малоросійської колегії
- Б** Заснування Задунайської Січі
- В** Третій поділ Речі Посполитої
- Г** Ліквідація особистої залежності селян в Австрійській імперії

## 26. Встановіть послідовність правління зображених діячів



## 27. Установіть послідовність ухвалення документів, уривки з яких процитовано.

- А** «Підтверджуючи відданість України ідеалам та принципам, які є спільним надбанням європейських народів... Верховна Рада України постановляє: Приєднатися від імені України до Статуту Ради Європи...»
- Б** «На виконання Закону України “Про військово-цивільні адміністрації” постановляю: 1. Утворити: ...Артемівську районну військово-цивільну адміністрацію., Костянтинівську районну військово-цивільну адміністрацію., Ясинуватську районну військово-цивільну адміністрацію Донецької області...»
- В** «Верховна Рада України постановляє: 1. Ввести в дію Закон України “Про Збройні Сили України” з моменту його прийняття. 2. Доручити Кабінету Міністрів України розробити пропозиції щодо загальної структури Збройних Сил України...»
- Г** «Верховна Рада України постановляє: ...Прийняти Конституцію України... Визнати такою, що втратила чинність, Конституцію (Основний закон) України від 20 квітня 1978 року з наступними змінами і доповненнями...»

## 28. Проаналізуйте зображену картосхему

- 1 визначити шлях наступу козацького війська в 1648 р
- 2 відслідкувати напрямок походу козаків у 1651 р.
- 3 окреслити територію Української козацької держави за Зборівським миром.
- 4 простежити напрямки молдавського походу Б. Хмельницького в 1650 р.
- 5 показати місце битви, у якій козацьке військо зазнало поразки.
- 6 зазначити місце укладення договору, за яким територію Гетьманщини було обмежено Київським воєводством.
- 7 указати місце підписання перемир'я між Московською державою та Річчю Посполитою в 1656 р.



## 29. Укажіть характерні риси нацистського окупаційного режиму в Україні в роки німецько-радянської війни (1941–1945 рр.).

- 1 ліквідація колгоспно-радгоспної системи, зрівняльний розподіл землі між селянами за трудовими нормами
- 2 проведення примусових мобілізацій до Української національної армії
- 3 жорстка експлуатація населення та економічне пограбування (вивіз сировини, продовольства, матеріальних цінностей)
- 4 відновлення та легалізація діяльності українських політичних партій
- 5 тотальний терор, масове знищення місцевого цивільного населення та військовополонених
- 6 денационалізація великої промисловості, створення спільних українсько-німецьких підприємств
- 7 примусове вивезення на господарські роботи до Німеччини місцевого працездатного населення

## 30. Які з плакатів стосуються надпрограм Хрущова?






## ВІДПОВІДІ

- |    |   |    |   |    |                    |
|----|---|----|---|----|--------------------|
| 1  | В | 11 | Б | 21 | 1-Г, 2-А, 3-Б, 4-В |
| 2  | А | 12 | Г | 22 | 1-Б, 2-Г, 3-В, 4-А |
| 3  | Б | 13 | Б | 23 | 1-А, 2-Б, 3-В, 4-Д |
| 4  | Г | 14 | Б | 24 | 1-Г, 2-Д, 3-А, 4-В |
| 5  | Г | 15 | А | 25 | АБГВ               |
| 6  | А | 16 | Б | 26 | БВАГ               |
| 7  | Б | 17 | Б | 27 | ВАГБ               |
| 8  | Б | 18 | Г | 28 | 2, 5, 6            |
| 9  | А | 19 | Б | 29 | 3, 5, 7            |
| 10 | В | 20 | А | 30 | 4, 5, 6            |

*З турботою*  
про твої бали!



History