




ДЕРЖАВНА ПІДСУМКОВА АТЕСТАЦІЯ

9

П. Г. ПАВЛЕНКО

РОЗВ'ЯЗНИК
ЗАВДАНЬ



2020

МАТЕМАТИКА

50 варіантів



1.1	1.2	1.3	1.4	1.5	1.6	1.7	1.8	1.9	1.10	1.11	1.12
Б	Г	Г	А	В	Г	Б	Г	В	Г	Г	В

2.1	2.2	2.3	2.4
-60	$y = -2x^2$	120	12

3.1. Нехай треба взяти x г 3-відсоткового розчину солі і y г 8-відсоткового. Тоді $x+y=260$. У x г 3-відсоткового розчину міститься $0,03x$ г солі, а в y г 8-відсоткового розчину — $0,08y$ г солі. Тоді $0,03x+0,08y=260 \cdot 0,05$.

$$\text{Маємо систему } \begin{cases} x+y=260, \\ 0,03x+0,08y=13. \end{cases}$$

Розв'яжемо її: $x=260-y$; $0,03(260-y)+0,08y=13$; $0,05y=5,2$; $y=104$ (г), тоді $x=156$ (г).

Отже, треба взяти 156 г 3-відсоткового розчину солі та 104 г 8-відсоткового.

Відповідь. 156 г і 104 г.

$$3.2. \frac{1}{2x^2+6} + \frac{1}{3x-12} = \frac{1}{12-3x+4x^2-x^3}.$$

Оскільки $12-3x+4x^2-x^3=3(4-x)+x^2(4-x)=(4-x)(3+x^2)$,

то маємо:

$$\frac{1}{2(x^2+3)} + \frac{1}{3(x-4)} + \frac{1}{(x-4)(3+x^2)} = 0;$$

$$\frac{3(x-4)+2(x^2+3)+6}{6(x-4)(3+x^2)} = 0.$$

Рівняння рівносильне системі

$$\begin{cases} 2x^2+3x=0, \\ x \neq 4; \end{cases} \begin{cases} x(2x+3)=0, \\ x \neq 4; \end{cases} \quad x_1=0; \quad x_2=-1,5.$$

Відповідь. -1,5; 0.

3.3. Нехай BC — спільна зовнішня дотична до кіл, що дотикаються зовні; B і C — точки дотику.

$O_1B=4$ см; $O_2C=9$ см.
 $O_1K+KO_2=4+9=13$ (см).

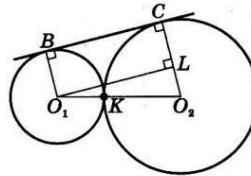
Проведемо $O_1L \perp BC$.

Тоді O_1BCL — прямокутник і $LO_2=CO_2-CL=CO_2-O_1B=9-4=5$ (см).

У $\triangle O_1LO_2$: $O_1L=\sqrt{O_1O_2^2-LO_2^2}=\sqrt{13^2-5^2}=12$ (см).

Оскільки O_1BCL — прямокутник, то $BC=O_1L=12$ см.

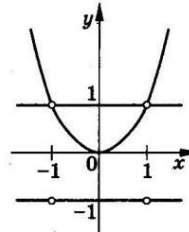
Відповідь. 12 см.



4.1*. Рівняння $\frac{(y-x^2)(|y|-1)}{1-x^2} = 0$ рівносильне системі

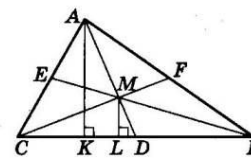
$$\begin{cases} y=x^2, \\ |y|=1, \\ x \neq 1, \\ x \neq -1. \end{cases}$$

Графік зображено на малюнку. Це сукупність параболи $y=x^2$ з «виколотими» точками $(1; 1)$ і $(-1; 1)$; прямої $y=1$ з тими самими «виколотими» точками і прямої $y=-1$ з «виколотими» точками $(-1; -1)$ і $(1; -1)$.



4.2*. Лема. Трикутники, на які розбивають даний трикутник медіани, мають рівні площі.

Доведення лєми. Нехай AD, BE, CF — медіани $\triangle ABC$. $S_{\triangle CMD} = S_{\triangle DMB}$ (у цих трикутниках рівні відповідні висоти й основи). Проведемо висоти AK — трикутника ABC і ML — трикутника CMD .



$\triangle AKD \sim \triangle MLD$ (за двома кутами). Тоді $\frac{AK}{ML} = \frac{AD}{MD} = \frac{3}{1}$ (оскільки M — точка перетину медіан).

Тоді $\frac{S_{\triangle ABC}}{S_{\triangle CMB}} = \frac{3}{1}$ (у трикутниках рівні основи, а тому їх площі відносяться так, як висоти).

$$\text{Отже, } S_{\triangle CMB} = \frac{1}{3} S_{\triangle ABC}, \text{ а тому } S_{\triangle CMD} = S_{\triangle DMB} = \frac{1}{6} S_{\triangle ABC}.$$

$$\text{Аналогічно } S_{\triangle CME} = S_{\triangle EMA} = S_{\triangle AMF} = S_{\triangle MFB} = \frac{1}{6} S_{\triangle ABC}.$$

Лему доведено.

Знайдемо площу $\triangle ABC$:

$$p = \frac{25+29+6}{2} = 30 \text{ (см)}; \quad S = \sqrt{p(p-a)(p-b)(p-c)} =$$

$$= \sqrt{30(30-25)(30-29)(30-6)} = 60 \text{ (см}^2\text{)}.$$

Тому площі всіх трикутників, на які медіани розбивають даний, по $\frac{60}{6} = 10$ (см²). Відповідь. Усі по 10 см².

Варіант 2

1.1	1.2	1.3	1.4	1.5	1.6	1.7	1.8	1.9	1.10	1.11	1.12
А	Б	В	Г	В	А	Б	А	Б	А	В	Г

2.1	2.2	2.3	2.4
1; -2	$y = 2x - 7$	38,75	60° або 120°

3.1. Нехай перший трактор для того, щоб зорати поле самостійно, витрачає x год; тоді другий трактор витрачає на це $(x + 10)$ год. За одну годину перший трактор оре $\frac{1}{x}$ частину поля, а другий трактор — $\frac{1}{x+10}$ частину поля. При спільній роботі вони орють $\frac{1}{x} + \frac{1}{x+10}$ частину поля. За умовою, $\frac{1}{x} + \frac{1}{x+10} = 12$.

Розв'яжемо отримане рівняння: $\frac{x+10+x}{x(x+10)} = \frac{1}{12}$;

$$12(2x+10) = x^2 + 10x; x^2 - 14x + 120 = 0; x_1 = 20; x_2 = -6.$$

Другий корінь не підходить за умовою задачі.

Отже, перший трактор, працюючи самостійно, може зорати поле за 20 год, а другий — за 30 год.

Відповідь. 20 год; 30 год.

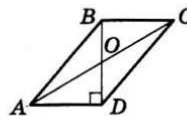
3.2. ОДЗ: $x > 0$. Маємо: $\frac{1}{\sqrt{x}} - \frac{1}{2} = 0$ або $x^4 - 4x^2 - 5 = 0$.

1) $\sqrt{x} = 2; x_1 = 4$.

2) Рівняння $x^4 - 4x^2 - 5 = 0$ розв'яжемо за допомогою заміни $x^2 = t$. Тоді $t^2 - 4t - 5 = 0; t_1 = -1; t_2 = 5$. Повертаємося до змінної x . Рівняння $x^2 = -1$ розв'язків не має. Розв'язками рівняння $x^2 = 5$ є числа $x = \sqrt{5}$ і $x = -\sqrt{5}$. Ураховуючи ОДЗ, отримаємо $x_2 = \sqrt{5}$. Отже, коренями початкового рівняння є числа $x_1 = 4; x_2 = \sqrt{5}$.

Відповідь. $x_1 = 4; x_2 = \sqrt{5}$.

3.3. Нехай $ABCD$ — даний паралелограм, точка O — точка перетину діагоналей; $BD \perp AD$. У $\triangle AOD$: $OD < AO$, а тому $BD < AC$.



Виходячи з умови, $BD = 8$ см, $AC = 10$ см.

$$OD = \frac{BD}{2} = \frac{8}{2} = 4 \text{ (см)}, AO = \frac{AC}{2} = \frac{10}{2} = 5 \text{ (см)}.$$

$$\text{У } \triangle AOD: AD = \sqrt{AO^2 - OD^2} = \sqrt{5^2 - 4^2} = 3 \text{ (см)}.$$

$$\text{Тому } S_{ABCD} = AD \cdot BD = 3 \cdot 8 = 24 \text{ (см}^2\text{)}.$$

Відповідь. 24 см².

4.1^м. Рівняння рівносильне системі $\begin{cases} x^2 - 4xa + 3a^2 - 2a - 1 = 0, \\ x \neq 4. \end{cases}$

Розв'язуючи рівняння, маємо:

$$D = (-4a)^2 - 4(3a^2 - 2a - 1) = 4a^2 + 8a + 4 = 4(a+1)^2;$$

$$x_1 = \frac{4a + 2(a+1)}{2} = 3a + 1; x_2 = \frac{4a - 2(a+1)}{2} = a - 1.$$

Рівняння, задане в умові, має єдиний корінь в одному з таких випадків:

1) $x_1 = x_2, x_1 \neq 4;$ 2) $x_1 = 4, x_2 \neq 4;$ 3) $x_2 = 4, x_1 \neq 4$.

Розглянемо ці випадки:

1) $3a + 1 = a - 1; a = -1$, тоді $x_1 = -2 \neq 4$.

2) $3a + 1 = 4; a = 1$, тоді $x_2 = 0 \neq 4$.

3) $a - 1 = 4; a = 5$, тоді $x_1 = 3 \cdot 5 + 1 = 16 \neq 4$.

Отже, $a = -1; a = 1; a = 5$.

Відповідь. -1; 1; 5.

4.2^м. AK — бісектриса $\angle CAB$, I — центр вписаного у $\triangle ABC$ кола. $\angleICK = \angleICB + \angleBCK$; $\angleICB = \frac{1}{2} \angleACB$; $\angleBCK = \angleKAB$ (як два кути, що спираються на одну й ту саму дугу KB), але $\angleKAB = \frac{1}{2} \angleCAB$. Остаточо маємо

$$\angleICK = \frac{1}{2} (\angleACB + \angleCAB).$$

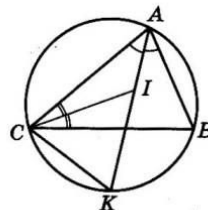
$\angleKIC = \angleICA + \angleIAC$ (зовнішній кут $\triangle CIA$ дорівнює сумі двох внутрішніх, не суміжних з ним). Тоді $\angleKIC = \frac{1}{2} \angleACB +$

$$+ \frac{1}{2} \angleCAB = \frac{1}{2} (\angleACB + \angleCAB).$$

Отже, $\angleICK = \angleKIC$, тому $CK = KI$.

Аналогічно можна довести, що $BK = KI$.

Задачу доведено.



Варіант 3

1.1	1.2	1.3	1.4	1.5	1.6	1.7	1.8	1.9	1.10	1.11	1.12
А	А	Б	Б	А	В	В	А	Г	А	Б	В

2.1	2.2	2.3	2.4
1	$q = -12;$ $x_0 = 2$	(3; -2)	36 см

3.1. Нехай друга бригада виготовляє за годину x деталей, тоді перша — $(x+5)$ деталей. Друга бригада для виготовлення 450 деталей затратила $\frac{450}{x}$ год, а перша $\frac{450}{x+5}$ год. За умовою $\frac{450}{x} - \frac{450}{x+5} = 1$.

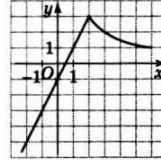
Розв'яжемо це рівняння:

$$\frac{450x + 2250 - 450x}{x(x+5)} = 1; \quad x^2 + 5x - 2250 = 0; \quad x_1 = 45; \quad x_2 = -50.$$

Другий корінь не задовольняє умову задачі. Отже, друга бригада виготовляє 45 деталей, а перша — 50 деталей щодня.

Відповідь. 50 деталей; 45 деталей.

3.2. Графіком функції $f(x) = 2x - 1$ є пряма, що проходить через точки $(-2; -5)$ і $(0; -1)$, а графіком функції $g(x) = \frac{6}{x}$ є гіпер-



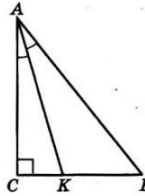
бола. Графік функції $y = \begin{cases} 2x - 1, & \text{якщо } x < 2, \\ \frac{6}{x}, & \text{якщо } x \geq 2, \end{cases}$

зображено на малюнку.

Область значень функції є множина $(-\infty; 3]$.

Відповідь. $(-\infty; 3]$.

3.3. Нехай ABC — прямокутний трикутник з прямим кутом C , AK — бісектриса трикутника. За властивістю бісектриси, $\frac{AC}{AB} = \frac{CK}{KB}$. Оскільки $AC < AB$, то й $CK < KB$. За умовою, $CK = 3$ см, $KB = 5$ см. Тоді $CB = 8$ (см).



Маємо $\frac{AC}{AB} = \frac{3}{5}$, тому можна позначити $AC = 3x$; $AB = 5x$.

За теоремою Піфагора, $AB^2 = AC^2 + CB^2$; $(5x)^2 = (3x)^2 + 8^2$; $16x^2 = 64$; $x^2 = 4$; $x = 2$. Отже, $AC = 3 \cdot 2 = 6$ (см). Тоді площа трикутника $S = \frac{1}{2} AC \cdot BC = \frac{1}{2} \cdot 6 \cdot 8 = 24$ (см²).

Відповідь. 24 см².

4.1*. Доведення. За теоремою Вієта:

$$a + b = -p; \quad ab = 1 \quad \text{і} \quad b + c = -q, \quad bc = 2.$$

$$\text{Тоді } (a + b)(b + c) = pq; \quad ab + b^2 + bc + ac = pq.$$

Віднімаючи від цього рівняння почленно $2ab = 2$ і $2bc = 4$, отримаємо: $ab + b^2 + bc + ac - 2ab - 2bc = pq - 2 - 4$;

$$b(b - a) - c(b - a) = pq - 6;$$

$$(b - a)(b - c) = pq - 6,$$

що й треба було довести.

4.2*. Нехай O — центр кола, вписаного у трапецію $ABCD$ ($\angle A = \angle D = 90^\circ$). $OB = 3$ см, $OC = 9$ см.

Оскільки точка O є точкою перетину бісектрис кутів трапеції, то

$$\angle OBC + \angle OCB = \frac{1}{2} \angle CBA + \frac{1}{2} \angle BCD =$$

$$= \frac{1}{2} (\angle CBA + \angle BCD) = \frac{1}{2} \cdot 180^\circ = 90^\circ.$$

Тому у $\triangle OBC$:

$$\angle BOC = 180^\circ - 90^\circ = 90^\circ.$$

$$\text{Тоді } BC = \sqrt{OB^2 + OC^2} = \sqrt{3^2 + 9^2} = \sqrt{90} = 3\sqrt{10} \text{ (см).}$$

Виразивши двічі площу $\triangle OBC$, знайдемо OK — висоту цього трикутника й одночасно радіус кола:

$$S_{\triangle OBC} = \frac{1}{2} OB \cdot OC = \frac{1}{2} BC \cdot OK;$$

$$OK = \frac{OB \cdot OC}{BC} = \frac{3 \cdot 9}{3\sqrt{10}} = \frac{9}{10} \sqrt{10} \text{ (см).}$$

Тоді $AD = 2r = 2 \cdot OK = \frac{9}{5} \sqrt{10}$ (см). Маємо:

$$LB = \sqrt{OB^2 - OL^2} = \sqrt{3^2 - \left(\frac{9}{10} \sqrt{10}\right)^2} = \sqrt{\frac{9}{10}} = \frac{3}{10} \sqrt{10} \text{ (см).}$$

$$\text{Тоді } AB = AL + LB = \frac{9}{10} \sqrt{10} + \frac{3}{10} \sqrt{10} = \frac{6}{5} \sqrt{10} \text{ (см).}$$

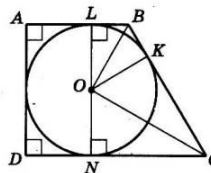
$$\text{Далі } NC = \sqrt{OC^2 - ON^2} = \sqrt{9^2 - \left(\frac{9}{10} \sqrt{10}\right)^2} = \sqrt{\frac{729}{10}} = \frac{27}{10} \sqrt{10} \text{ (см).}$$

$$\text{Тоді } DC = DN + NC = \frac{9}{10} \sqrt{10} + \frac{27}{10} \sqrt{10} = \frac{18}{5} \sqrt{10} \text{ (см).}$$

Периметр трапеції

$$P = \frac{9}{5} \sqrt{10} + \frac{6}{5} \sqrt{10} + 3\sqrt{10} + \frac{18}{5} \sqrt{10} = \frac{48}{5} \sqrt{10} \text{ (см).}$$

Відповідь. $\frac{48}{5} \sqrt{10}$ см.



Варіант 4

1.1	1.2	1.3	1.4	1.5	1.6	1.7	1.8	1.9	1.10	1.11	1.12
В	Б	В	А	Б	Г	Г	Б	Б	В	Г	Б
2.1		2.2		2.3		2.4					
0,4		-2		[3; +∞)		2; -2					

3.1. Нехай x км/год — швидкість течії. Тоді $(18+x)$ км/год — швидкість човна за течією річки і $(18-x)$ км/год — швидкість човна проти течії. 20 км за течією човен долає за $\frac{20}{18+x}$ год, а проти течії — за $\frac{20}{18-x}$ год. Ураховуючи те, що $15 \text{ хв} = \frac{15}{60} \text{ год} =$

$$= \frac{1}{4} \text{ год за умовою задачі, маємо рівняння } \frac{20}{18-x} - \frac{20}{18+x} = \frac{1}{4}.$$

Розв'яжемо його: $\frac{360+20x-360+20x}{(18-x)(18+x)} = \frac{1}{4}; 160x=324-x^2;$

$$x^2+160x-324=0; x_1=2; x_2=-162.$$

Другий корінь не задовольняє умову задачі. Отже, швидкість течії 2 км/год.

Відповідь. 2 км/год.

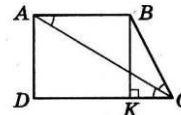
$$3.2. \frac{1}{\sqrt{1}+\sqrt{3}} + \frac{1}{\sqrt{3}+\sqrt{5}} + \frac{1}{\sqrt{5}+\sqrt{7}} + \dots + \frac{1}{\sqrt{119}+\sqrt{121}}.$$

Звільнимося від ірраціональності у знаменнику кожного з дробів:

$$\frac{\sqrt{3}-\sqrt{1}}{(\sqrt{3}+\sqrt{1})(\sqrt{3}-\sqrt{1})} + \frac{\sqrt{5}-\sqrt{3}}{(\sqrt{5}+\sqrt{3})(\sqrt{5}-\sqrt{3})} + \frac{\sqrt{7}-\sqrt{5}}{(\sqrt{7}+\sqrt{5})(\sqrt{7}-\sqrt{5})} + \dots + \frac{\sqrt{121}-\sqrt{119}}{(\sqrt{121}+\sqrt{119})(\sqrt{121}-\sqrt{119})} = \frac{1}{2}(\sqrt{3}-\sqrt{1}+\sqrt{5}-\sqrt{3} + \sqrt{7}-\sqrt{5} + \dots + \sqrt{121}-\sqrt{119}) = \frac{1}{2}(\sqrt{121}-\sqrt{1}) = \frac{1}{2}(11-1) = 5.$$

Відповідь. 5.

3.3. Нехай $ABCD$ — прямокутна трапеція, що задана в умові; $\angle A = \angle D = 90^\circ$; $\angle C$ — гострий; $\angle ACD = \angle BCA$; $DC = 9$ см; $AB = 5$ см.



Оскільки $\angle DCA = \angle BAC$ (внутрішні різносторонні кути при паралельних прямих AB і CD та січній AC), то $\angle BAC = \angle BCA$. Тому $\triangle ABC$ — рівнобедрений і $BC = AB = 5$ см.

Проведемо висоту BK . Чотирикутник $ABKD$ є прямокутним і $DK = AB = 5$ см. Тоді $KC = DC - DK = 9 - 5 = 4$ (см).

$$\text{У } \triangle BKC: BK = \sqrt{BC^2 - KC^2} = \sqrt{5^2 - 4^2} = 3 \text{ (см)}.$$

$$\text{Площа трапеції } S = \frac{AB+DC}{2} \cdot BK = \frac{5+9}{2} \cdot 3 = 21 \text{ (см}^2\text{)}.$$

Відповідь. 21 см².

$$4.1^m. x^2 + \frac{x^2}{(2x+1)^2} = 2.$$

$$\text{Виділимо квадрат різниці: } \left(x - \frac{x}{2x+1}\right)^2 + 2 \cdot x \cdot \frac{x}{2x+1} = 2;$$

$$\left(\frac{2x^2+x-x}{2x+1}\right)^2 + \frac{2x^2}{2x+1} = 2; \left(\frac{2x^2}{2x+1}\right)^2 + \frac{2x^2}{2x+1} - 2 = 0.$$

$$\text{Заміна } \frac{2x^2}{2x+1} = t. \text{ Тоді } t^2 + t - 2 = 0; t_1 = 1; t_2 = -2.$$

$$1) \frac{2x^2}{2x+1} = 1; \begin{cases} 2x^2 = 2x+1, \\ x \neq -\frac{1}{2}; \end{cases} \begin{cases} 2x^2 - 2x - 1 = 0, \\ x \neq -\frac{1}{2}; \end{cases} x_{1,2} = \frac{1 \pm \sqrt{3}}{2}.$$

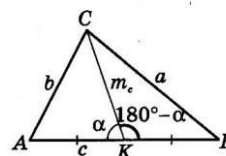
$$2) \frac{2x^2}{2x+1} = -2; \begin{cases} 2x^2 = -4x - 2, \\ x \neq -\frac{1}{2}; \end{cases} \begin{cases} x^2 + 2x + 1 = 0, \\ x \neq -\frac{1}{2}; \end{cases} x_3 = -1.$$

$$\text{Відповідь. } x_{1,2} = \frac{1 \pm \sqrt{3}}{2}; x_3 = -1.$$

4.2^m. Нехай ABC — даний трикутник; $BC = a, AC = b, AB = c$; CK — медіана, $CK = m_c$. Позначимо $\angle CKA = \alpha$, тоді $\angle CKB = 180^\circ - \alpha$.

$$\text{У } \triangle ACK: b^2 = \left(\frac{c}{2}\right)^2 + m_c^2 - 2 \cdot \frac{c}{2} \cdot m_c \cos \alpha;$$

$$\text{у } \triangle CKB: a^2 = \left(\frac{c}{2}\right)^2 + m_c^2 - 2 \cdot \frac{c}{2} \cdot m_c \cos(180^\circ - \alpha).$$



Складемо останні дві рівності почленно і врахуємо, що $\cos(180^\circ - \alpha) = -\cos \alpha$. Маємо $a^2 + b^2 = 2\left(\left(\frac{c}{2}\right)^2 + m_c^2\right)$, що й треба було довести.

Варіант 5

1.1	1.2	1.3	1.4	1.5	1.6	1.7	1.8	1.9	1.10	1.11	1.12
Б	Г	В	Б	В	Г	В	Б	Г	В	Б	В

2.1	2.2	2.3	2.4
$\frac{84}{125}$	$\frac{\sqrt{a}}{\sqrt{a}-5}$	1; 2	(-4; 0)

3.1. Нехай швидкість течії — x км/год. Тоді швидкість човна за течією дорівнює $(18+x)$ км/год, а проти течії — $(18-x)$ км/год. 30 км за течією човен пропливає за $\frac{30}{18+x}$ год, а 16 км проти течії — за $\frac{16}{18-x}$ год. За умовою $\frac{30}{18+x} + \frac{16}{18-x} = 2,5$.

Розв'яжемо отримане рівняння: $\frac{540-30x+288+16x}{(18+x)(18-x)} = 2,5$;
 $828-14x=2,5(324-x^2)$; $2,5x^2-14x+18=0$; $x_1=3,6$; $x_2=2$. Обидва корені задовольняють умову. Отже, швидкість течії 3,6 км/год або 2 км/год.

Відповідь. 3,6 км/год або 2 км/год.

$$3.2. \sqrt{\left(\frac{1+\sqrt{2}}{1-\sqrt{2}}\right)^2 + 2} + \left(\frac{1-\sqrt{2}}{1+\sqrt{2}}\right)^2 =$$

$$= \sqrt{\left(\frac{1+\sqrt{2}}{1-\sqrt{2}}\right)^2 + 2} \cdot \frac{1+\sqrt{2}}{1-\sqrt{2}} \cdot \frac{1-\sqrt{2}}{1+\sqrt{2}} + \left(\frac{1-\sqrt{2}}{1+\sqrt{2}}\right)^2 = \sqrt{\left(\frac{1+\sqrt{2}}{1-\sqrt{2}} + \frac{1-\sqrt{2}}{1+\sqrt{2}}\right)^2} =$$

$$= \left| \frac{1+\sqrt{2}}{1-\sqrt{2}} + \frac{1-\sqrt{2}}{1+\sqrt{2}} \right| = \left| \frac{1+2\sqrt{2}+2+1-2\sqrt{2}+2}{1^2-(\sqrt{2})^2} \right| = \left| \frac{6}{-1} \right| = 6.$$

Відповідь. 6.

3.3. Нехай коло із центром у точці O вписане в рівнобедрений трикутник ABC , у якого $AB=BC$. BK — висота трикутника.

Оскільки CO — бісектриса $\triangle BKC$, то $\frac{CK}{CB} = \frac{KO}{BO}$. Оскільки $CK < CB$, то й $KO < BO$. Тому, виходячи з умови, $KO=5$ см, $BO=13$ см, тоді $BK=5+13=18$ (см).

Також маємо $\frac{CK}{CB} = \frac{5}{13}$. Позначимо

$CK=5x$; $CB=13x$. Тоді периметр трикутника $P=2(5x+13x)=36x$.

У $\triangle BKC$: $BC^2=BK^2+KC^2$;
 $(13x)^2=18^2+(5x)^2$; $(12x)^2=18^2$; $12x=18$; $x=1,5$.
 Отже, $P=36 \cdot 1,5=54$ (см).

Відповідь. 54 см.

$$4.1^m. \begin{cases} (m+1)x+y=3, \\ 2x-(m-2)y=6. \end{cases}$$

Дана система не має розв'язків у тому випадку, коли $\frac{m+1}{2} = \frac{1}{-(m-2)}$ і $\frac{m+1}{2} \neq \frac{3}{6}$.

$$\text{Отже, маємо: } \begin{cases} -(m^2-2m+m-2)=2, \\ m+1 \neq 1; \end{cases} \begin{cases} m(m-1)=0, \\ m \neq 0; \end{cases} m=1.$$

Відповідь. $m=1$.

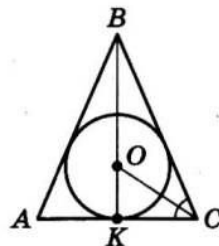
4.2^m. Позначимо $\alpha=120^\circ$ — кут між векторами \vec{a} і \vec{b} .

$$\text{Маємо } |4\vec{a}+3\vec{b}| = \sqrt{(4\vec{a}+3\vec{b})^2} = \sqrt{16\vec{a}^2+24\vec{a}\vec{b}+9\vec{b}^2} =$$

$$= \sqrt{16|\vec{a}|^2+24|\vec{a}||\vec{b}|\cos\alpha+9|\vec{b}|^2} = \sqrt{16 \cdot 3^2+24 \cdot 3 \cdot 2 \cdot \left(-\frac{1}{2}\right)+9 \cdot 2^2} =$$

$$= \sqrt{108} = 6\sqrt{3}.$$

Відповідь. $6\sqrt{3}$.



Варіант 6

3.1. Нехай перше з невідомих чисел дорівнює x , а друге — y . Тоді, за умовою, $\frac{1}{2}x - \frac{1}{3}y = 2$. Після зменшення першого числа на його четверту частину матимемо: $x - \frac{1}{4}x = \frac{3}{4}x$, а після збільшення другого на його шосту частину отримаємо: $y + \frac{1}{6}y = \frac{7}{6}y$. За умовою, $\frac{3}{4}x + \frac{7}{6}y = 53$.

$$\text{Отримали систему } \begin{cases} \frac{1}{2}x - \frac{1}{3}y = 2, \\ \frac{3}{4}x + \frac{7}{6}y = 53. \end{cases}$$

Розв'яжемо її. Після множення лівої і правої частин першого рівняння на 6, а другого — на 12 матимемо:

$$\begin{cases} 3x - 2y = 12, \\ 9x + 14y = 53 \cdot 12. \end{cases}$$

Домножимо перше рівняння системи на 7 і використаємо спосіб додавання:

$$\begin{cases} 3x - 2y = 12, \\ + \quad 9x + 14y = 53 \cdot 12. \\ \hline 30x = 60 \cdot 12. \end{cases}$$

Звідси $x = 24$, тоді $3 \cdot 24 - 2y = 12$; $2y = 60$; $y = 30$.

Отже, шукані числа — 24 і 30.
Відповідь. 24 і 30.

$$3.2. \frac{1}{x^2 - 2x - 3} + \frac{1}{x + 3} = \frac{12}{x^3 + x^2 - 9x - 9}$$

Оскільки $x^2 - 2x - 3 = (x+1)(x-3)$ і $x^3 + x^2 - 9x - 9 = x^2(x+1) - 9(x+1) = (x+1)(x^2 - 9) = (x+1)(x-3)(x+3)$, маємо:

$$\frac{1}{(x+1)(x-3)} + \frac{1}{x+3} = \frac{12}{(x+1)(x-3)(x+3)}$$

$$\frac{x+3+(x+1)(x-3)}{(x+1)(x-3)(x+3)} = \frac{12}{(x+1)(x-3)(x+3)}$$

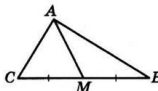
Рівняння рівносильне системі:

$$\begin{cases} x+3+x^2+x-3x-3=12, & \begin{cases} x^2-x-12=0, \\ x \neq -1, \\ x \neq 3, \\ x \neq -3; \end{cases} \\ \begin{cases} x \neq -1, \\ x \neq 3, \\ x \neq -3; \end{cases} & \begin{cases} x \neq -1, \\ x \neq 3, \\ x \neq -3. \end{cases} \end{cases}$$

Рівняння $x^2 - x - 12 = 0$ має корені $x_1 = -3$ і $x_2 = 4$, але лише другий задовольняє початкове рівняння.

Відповідь. $x = 4$.

3.3. Нехай ABC — заданий в умові трикутник, $AC = 7$ см; $AB = 11$ см. AM — медіана трикутника. Позначимо $AM = x$, тоді, за умовою, $BC = x + 8$.



За формулою медіани: $AM^2 = \frac{1}{4}(2AC^2 + 2AB^2 - BC^2)$ маємо:

$$x^2 = \frac{1}{4}(2 \cdot 7^2 + 2 \cdot 11^2 - (x+8)^2); 4x^2 = 340 - (x^2 + 16x + 64);$$

$$5x^2 + 16x - 276 = 0.$$

Ураховуючи, що $x > 0$, маємо: $x = 6$. Тоді $BC = 6 + 8 = 14$ (см).
Відповідь. 14 см.

4.1*. Доведення. За умовою, $\frac{a+b}{2} = m\sqrt{ab}$, тому $a+b = 2m\sqrt{ab}$. Поділимо обидві частини одержаної рівності на $b \neq 0$. Маємо: $\frac{a}{b} + 1 = 2m\sqrt{\frac{a}{b}}$. Позначимо $\sqrt{\frac{a}{b}} = t$. Оскільки $a > b$, то $t > 1$. Маємо рівняння для t : $t^2 - 2mt + 1 = 0$.

$$\text{Звідси } t_{1,2} = \frac{2m \pm 2\sqrt{m^2 - 1}}{2}; t_{1,2} = m \pm \sqrt{m^2 - 1}.$$

1) $t_1 = m - \sqrt{m^2 - 1}$. Порівняємо t_1 з одиницею. Припустимо, що $t_1 > 1$, тобто $m - \sqrt{m^2 - 1} > 1$; $m - 1 > \sqrt{m^2 - 1}$. Звідси матимемо: $m^2 - 2m + 1 > m^2 - 1$; $m < 1$. Проте з умови зрозуміло, що $m > 1$. Отже, t_1 не підходить.

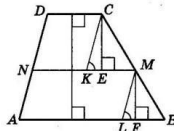
$$2) t_2 = m + \sqrt{m^2 - 1} \text{ (бо } m > 1). \text{ Тоді } \sqrt{\frac{a}{b}} = m + \sqrt{m^2 - 1}. \text{ Звідси}$$

$$\frac{a}{b} = (m + \sqrt{m^2 - 1})^2 = \frac{(m + \sqrt{m^2 - 1})(m + \sqrt{m^2 - 1})(m - \sqrt{m^2 - 1})}{m - \sqrt{m^2 - 1}} =$$

$$= \frac{(m + \sqrt{m^2 - 1})(m^2 - (\sqrt{m^2 - 1})^2)}{m - \sqrt{m^2 - 1}} = \frac{m + \sqrt{m^2 - 1}}{m - \sqrt{m^2 - 1}}, \text{ що й треба}$$

було довести.

4.2*. Нехай $ABCD$ — трапеція, що задана в умові; $AB = a$ і $DC = b$ — основи трапеції. Покладемо, для визначеності, $BC > AD$. MN — відрізок, що ділить трапецію на дві рівновеликі фігури. Проведемо $CK \parallel DN$ і $ML \parallel NA$. Позначимо шуканий відрізок $MN = x$. Маємо $S_{DNMC} = S_{NMB}$:



$\frac{b+x}{2} \cdot CE = \frac{a+x}{2} \cdot MF$, де CE і MF — висоти відповідних трапецій, а також відповідно $\triangle CKM$ і $\triangle MLB$. Звідси маємо:

$$\frac{CE}{MF} = \frac{x+a}{x+b} \quad (1)$$

$\triangle CKM \sim \triangle MLB$ (за двома кутами). Тому $\frac{CE}{MF} = \frac{KM}{LB}$. Проте $KM = NM - NK = x - b$; $LB = AB - AL = a - x$. Тоді

$$\frac{CE}{MF} = \frac{x-b}{a-x} \quad (2)$$

Порівнюючи праві частини (1) і (2), ліві частини яких рівні між собою, маємо:

$$\frac{x+a}{x+b} = \frac{x-b}{a-x}; a^2 - x^2 = x^2 - b^2; 2x^2 = a^2 + b^2;$$

$$x^2 = \frac{a^2 + b^2}{2}; x = \sqrt{\frac{a^2 + b^2}{2}}.$$

Відповідь. $\sqrt{\frac{a^2 + b^2}{2}}$.

1.1	1.2	1.3	1.4	1.5	1.6	1.7	1.8	1.9	1.10	1.11	1.12
Б	В	Г	Г	В	Б	В	Б	Б	Б	А	Б

2.1	2.2	2.3	2.4
x = 3	6,5	4 цукерки	78 см ²

Варіант 7

3.1. Нехай перший оператор, працюючи самостійно, може набрати рукопис за x год, тоді другий оператор може це зробити за $(x + 3)$ год. За одну годину перший оператор набере $\frac{1}{x}$ частину рукопису, а другий — $\frac{1}{x+3}$ частину рукопису. За 3 години роботи перший оператор набрав $\frac{3}{x}$ частину рукопису, а за 2 години роботи другий оператор набрав $\frac{2}{x+3}$ частину рукопису. За умовою, $\frac{3}{x} + \frac{2}{x+3} = \frac{1}{2}$.

Розв'яжемо отримане рівняння: $\frac{3(x+3) + 2x}{x(x+3)} = \frac{1}{2}$,

$2(5x + 9) = x(x + 3)$; $x^2 - 7x - 18 = 0$; $x_1 = 9$; $x_2 = -2$. Другий корінь не задовольняє умову задачі.

Отже, перший оператор, працюючи самостійно, може набрати рукопис за 9 год, а другий — за 12 год.

Відповідь. 9 год; 12 год.

3.2. Нехай у коробці x червоних ручок. Тоді ймовірність того, що навмання витягнуто червону ручку, дорівнює $\frac{x}{6+x}$.

За умовою $0,4 < \frac{x}{6+x} < 0,6$.

Оскільки $6+x > 0$, то маємо

$$\begin{cases} 0,4(6+x) < x, & 2,4+0,4x < x, & 0,6x > 2,4, & x > 4, \\ x < 0,6(6+x); & x < 3,6+0,6x; & 0,4x < 3,6; & x < 9. \end{cases}$$

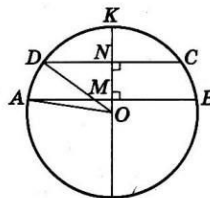
Ураховуючи, що $x \in \mathbb{N}$, маємо $= 5; 6; 7; 8$.

Відповідь. 5; 6; 7 або 8.

3.3. Нехай AB і DC — паралельні хорди кола із центром у точці O ; $AB=32$ см; $DC=24$ см.

Нехай радіус OK , перпендикулярний до даних хорд, перетинає хорду AB у точці M , а DC — у точці N .

Тоді $MN=4$ см (за умовою). За властивістю хорди, перпендикулярної до діаметра: $AM = MB = \frac{32}{2} = 16$ (см);



$DN = NC = \frac{24}{2} = 12$ (см).

Позначимо $OA=OD=r$ — радіус кола; $OM=x$.

У $\triangle AOM$: $AO^2 = AM^2 + OM^2$; $r^2 = 16^2 + x^2$;

у $\triangle DON$: $OD^2 = ON^2 + ND^2$; $r^2 = (x+4)^2 + 12^2$.

Тоді $16^2 + x^2 = (x+4)^2 + 12^2$; $256 + x^2 = x^2 + 8x + 16 + 144$; $8x = 96$; $x = 12$.

Отже, маємо $r = \sqrt{16^2 + 12^2} = 20$ (см).

Відповідь. 20 см.

4.1*. Маємо:
$$\begin{cases} \frac{(y+x)^2 - 2xy}{x+y} = \frac{10}{3}, & \begin{cases} x+y - \frac{2xy}{x+y} = \frac{10}{3}, \\ \frac{x+y}{xy} = \frac{3}{4}. \end{cases} \end{cases}$$

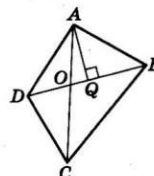
Заміна: $x+y = u$, $xy = v$.

Тоді
$$\begin{cases} u - \frac{2v}{u} = \frac{10}{3}, & \begin{cases} u - \frac{2}{u} = \frac{10}{3}, \\ \frac{u}{v} = \frac{3}{4}; \end{cases} & \begin{cases} u - \frac{2}{3} = \frac{10}{3}, \\ \frac{u}{v} = \frac{4}{3}u; \end{cases} & \begin{cases} u = 6, \\ v = 8. \end{cases} \end{cases}$$

Тоді $\begin{cases} x+y = 6, \\ xy = 8. \end{cases}$ Звідси пари (2; 4), (4; 2).

Відповідь. (2; 4), (4; 2).

4.2*. Нехай діагоналі чотирикутника $ABCD$ перетинаються в точці O . Нехай площа $\triangle COB$ — найбільша. Знайдемо її. Оскільки у $\triangle AOD$ і $\triangle AOB$ однакова висота AQ , то $\frac{S_{\triangle AOD}}{S_{\triangle AOB}} = \frac{OD}{OB}$. Аналогічно $\frac{S_{\triangle DOC}}{S_{\triangle COB}} = \frac{OD}{OB}$.



Тоді $\frac{S_{\triangle AOD}}{S_{\triangle AOB}} = \frac{S_{\triangle DOC}}{S_{\triangle COB}}$; $S_{\triangle AOD} \cdot S_{\triangle COB} = S_{\triangle DOC} \cdot S_{\triangle AOB}$.

Оскільки $S_{\triangle COB}$ — найбільша, то для виконання останньої рівності необхідно, щоб $S_{\triangle AOD}$ була найменша, тобто $S_{\triangle AOD} = 2$ дм². Тоді $2 \cdot S_{\triangle COB} = 4 \cdot 6$ і $S_{\triangle COB} = 12$ (дм²). Остаточо маємо $S_{ABCD} = 2 + 4 + 6 + 12 = 24$ (дм²).

Відповідь. 24 дм².

1.1	1.2	1.3	1.4	1.5	1.6	1.7	1.8	1.9	1.10	1.11	1.12
Б	В	Г	А	Б	Г	В	Г	А	Б	В	Г

2.1	2.2	2.3	2.4
$x = 2$	$y = -\frac{8}{x}$	180	60 см

Варіант 8

3.1. Нехай x км/год — власна швидкість човна, y км/год — швидкість течії. Тоді $(x+y)$ км/год — швидкість човна за течією і $(x-y)$ км/год — швидкість човна проти течії.

За умовою задачі $5(x+y)+2x=123$, тобто $7x+5y=123$ і $5(x+y)=3 \cdot 2 \cdot (x-y)$, тобто $5x+5y=6x-6y$; $x=11y$.

$$\text{Маємо систему } \begin{cases} 7x+5y=123, \\ x=11y. \end{cases}$$

Розв'яжемо її: $7 \cdot 11y+5y=123$; $82y=123$; $y=1,5$ (км/год), тоді $x=16,5$ (км/год).

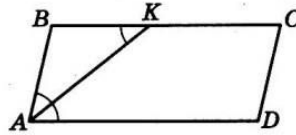
Отже, власна швидкість човна 16,5 км/год, швидкість течії — 1,5 км/год.

Відповідь. 16,5 км/год; 1,5 км/год.

3.2. Розглянемо різницю лівої і правої частин нерівності: $(a-2)^2-5-2(a-6)=a^2-4a+4-5-2a+12=a^2-6a+11=-a^2-6a+9+2=(a-3)^2+2$.

Оскільки $(a-3)^2 \geq 0$ для всіх a , то $(a-3)^2+2 > 0$ для всіх a , а тому $(a-2)^2-5 > 2(a-6)$ для всіх дійсних значень a , що й треба було довести.

3.3. Нехай $ABCD$ — даний в умові паралелограм. AK — бісектриса кута A , $K \in BC$. За умовою $BK:KC=3:4$. Позначимо $BK=3x$ см, $KC=4x$ см.



За умовою $\angle BAK = \angle KAD$. Крім того, $\angle BKA = \angle KAD$ (внутрішні різносторонні при паралельних прямих AD і BC та січній AK). Тому $\angle BAK = \angle BKA$, а отже, $\triangle ABK$ — рівнобедрений. $BA=BK=3x$ см.

Ураховуючи те, що периметр паралелограма дорівнює 80 см і $BC=BK+KC=3x+4x=7x$, маємо рівняння $2(3x+7x)=80$; $20x=80$; $x=4$ (см).

Тому $BA=3 \cdot 4=12$ (см), $BC=7 \cdot 4=28$ (см).

Відповідь. 12 см; 28 см.

4.1^м. $|x-y|+|x+y|=2$.

Зазначимо, що коли точка $A(x_0; y_0)$ належить графіку функції, то точки $B(-x_0; y_0)$ і $C(x_0; -y_0)$ також належать графіку цієї функції. Дійсно, якщо $|x_0-y_0|+|x_0+y_0|=2$, то

$$|-x_0-y_0|+|-x_0+y_0|=|-(x_0+y_0)|+|-(x_0-y_0)|=|x_0+y_0|+|x_0-y_0|=2;$$

$$|x_0-(-y_0)|+|x_0-y_0|=|x_0+y_0|+|x_0-y_0|=2.$$

Це означає, що шуканий графік симетричний відносно осей координат і для його побудови досить виконати побудову в I координатній чверті.

Розглянемо два випадки:

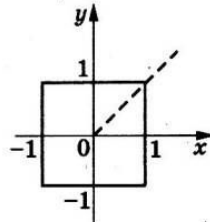
1) $x \geq 0$; $y \geq 0$; $x \geq y$. Тоді

$$|x-y|+|x+y|=2; \quad x-y+x+y=2; \quad x=1.$$

2) $x \geq 0$; $y \geq 0$; $x < y$. Тоді

$$-(x-y)+x+y=2; \quad y=1.$$

Графік зображено на малюнку.



4.2^м. Нехай задано $\triangle ABC$, у якого $AB=\sqrt{10}$ см; $AC=\sqrt{13}$ см; AK — висота; $AK=BC$.

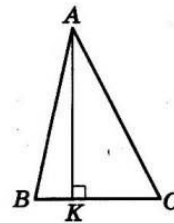
Оскільки $\triangle ABC$ — гострокутний, то точка K належить відрізку BC . Позначимо $AK=BC=x$; $BK=y$. Тоді $KC=BC-BK=x-y$.

$$\text{У } \triangle ABK: AB^2=BK^2+AK^2; \quad 10=x^2+y^2;$$

$$\text{у } \triangle AKC: AC^2=AK^2+KC^2; \quad 13=x^2+(y-x)^2.$$

$$\text{Маємо систему } \begin{cases} x^2+y^2=10, \\ 2x^2-2xy^2+y^2=13. \end{cases}$$

Заміна $y=tx$.



$$\text{Тоді } \begin{cases} x^2(1+t^2)=10, & \frac{1+t^2}{2-2t+t^2}=\frac{10}{13}; \\ x^2(2-2t+t^2)=13; & 3t^2+20t-7=0. \end{cases}$$

Ураховуючи, що $t > 0$, маємо $t=\frac{1}{3}$, тоді $x^2=\frac{10}{1+(\frac{1}{3})^2}$; $x^2=9$

і $x=3$ (см).

Відповідь. 3 см.

1.1	1.2	1.3	1.4	1.5	1.6	1.7	1.8	1.9	1.10	1.11	1.12
В	Г	А	Б	Б	А	Г	А	Б	Б	Г	Г
2.1	2.2	2.3	2.4								
4,25	-10	(0; 2), (-2; 0)	70°								

Варіант 9

3.1. Нехай швидкість течії річки x км/год. Тоді швидкість рибалки проти течії дорівнює $(2,7 - x)$ км/год. Щоб подолати 3 км проти течії, рибалка витратив $\frac{3}{2,7-x}$ год. Далі рибалка проплив 3 км зі швидкістю течії і витратив на це $\frac{3}{x}$ год. За умовою, $\frac{3}{2,7-x} + \frac{3}{x} = 4,5$, тобто $\frac{1}{2,7-x} + \frac{1}{x} = \frac{3}{2}$.

Розв'яжемо отримане рівняння:

$$\frac{x+2,7-x}{x(2,7-x)} = \frac{3}{2} \cdot 2,7 = 3x(2,7-x);$$

$$3x^2 - 8,1x + 5,4 = 0; x^2 - 2,7x + 1,8 = 0.$$

Звідси $x = 1,5$ або $x = 1,2$.

Отже, швидкість течії 1,5 км/год або 1,2 км/год.

Відповідь. 1,5 км/год або 1,2 км/год.

3.2. $(x^2 + x - 3)(x^2 + x - 1) = 3$. Уведемо заміну $x^2 + x = t$. Тоді $(t - 3)(t - 1) = 3$; $t^2 - 4t = 0$; $t(t - 4) = 0$. Отже, $t = 0$ або $t = 4$.

1) $t = 0$. Тоді $x^2 + x = 0$; $x(x + 1) = 0$; $x_1 = 0$, $x_2 = -1$.

2) $t = 4$. Тоді $x^2 + x = 4$; $x^2 + x - 4 = 0$; $x_{3,4} = \frac{-1 \pm \sqrt{17}}{2}$.

Відповідь. 0; -1; $\frac{-1 \pm \sqrt{17}}{2}$.

3.3. Знайдемо довжини сторін трикутника:

$$KL = \sqrt{(6 - (-4))^2 + (-4 - 16)^2} = \sqrt{10^2 + 20^2} = \sqrt{500};$$

$$LM = \sqrt{(3 - 6)^2 + (-5 - (-4))^2} = \sqrt{3^2 + 1^2} = \sqrt{10};$$

$$KM = \sqrt{(3 - (-4))^2 + (-5 - 16)^2} = \sqrt{7^2 + 21^2} = \sqrt{490}.$$

Оскільки $KL^2 = LM^2 + KM^2$ (бо $(\sqrt{500})^2 = (\sqrt{10})^2 + (\sqrt{490})^2$), то $\triangle KLM$ — прямокутний з гіпотенузою KL .

Центр кола, описаного навколо цього трикутника, — середина гіпотенузи, тобто точка $Q\left(\frac{-4+6}{2}; \frac{16-4}{2}\right)$, або $Q(1; 6)$.

Радіус кола $r = \frac{KL}{2} = \frac{\sqrt{500}}{2} = \frac{10\sqrt{5}}{2} = 5\sqrt{5}$. Рівняння описаного кола $(x - 1)^2 + (y - 6)^2 = (5\sqrt{5})^2$, тобто $(x - 1)^2 + (y - 6)^2 = 125$.

Відповідь. $(x - 1)^2 + (y - 6)^2 = 125$.

4.1^м. Доведення. Розглянемо різницю лівої і правої частин:

$$\frac{a^3 + b^3}{2} - \left(\frac{a+b}{2}\right)^3 = \frac{4(a^3 + b^3) - (a+b)^3}{8} =$$

$$= \frac{4(a+b)(a^2 - ab + b^2) - (a+b)^3}{8} =$$

$$= \frac{(a+b)(4a^2 - 4ab + 4b^2 - a^2 - 2ab - b^2)}{8} =$$

$$= \frac{(a+b)(3a^2 - 6ab + 3b^2)}{8} = \frac{3(a+b)(a-b)^2}{8}.$$

Оскільки $a > 0$, $b > 0$, то $a + b > 0$, $(a - b)^2 \geq 0$.

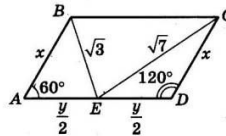
Тоді $\frac{a^3 + b^3}{2} - \left(\frac{a+b}{2}\right)^3 = \frac{3(a+b)(a-b)^2}{8} > 0$, а тому

$\frac{a^3 + b^3}{2} > \left(\frac{a+b}{2}\right)^3$, що й треба було довести.

4.2^м. Нехай $ABCD$ — паралелограм, про який іде мова в задачі. $\angle A = 60^\circ$, тоді $\angle D = 120^\circ$.

Позначимо $AB = CD = x$; $AD = y$.

Тоді $AE = ED = \frac{y}{2}$.



За теоремою косинусів:

$$\text{у } \triangle ABE: (\sqrt{3})^2 = x^2 + \left(\frac{y}{2}\right)^2 - 2 \cdot x \cdot \frac{y}{2} \cdot \cos 60^\circ;$$

$$12 = 4x^2 + y^2 - 2xy;$$

$$\text{у } \triangle CDE: (\sqrt{7})^2 = x^2 + \left(\frac{y}{2}\right)^2 - 2 \cdot x \cdot \frac{y}{2} \cdot \cos 120^\circ;$$

$$28 = 4x^2 + y^2 + 2xy.$$

$$\text{Маємо систему } \begin{cases} 4x^2 + y^2 - 2xy = 12, \\ 4x^2 + y^2 + 2xy = 28. \end{cases}$$

Додаючи ці рівняння, матимемо:

$$2(4x^2 + y^2) = 40; 4x^2 + y^2 = 20.$$

Якщо перше рівняння домножити на (-1) і додати до другого, то матимемо: $4xy = 16$; $xy = 4$. Звідси $y = \frac{4}{x}$.

$$\text{Маємо } 4x^2 + \frac{16}{x^2} = 20; \frac{4x^4 - 20x^2 + 16}{x^2} = 0; \frac{x^4 - 5x^2 + 4}{x^2} = 0.$$

Замінімо $x^2 = t$. Тоді $t^2 - 5t + 4 = 0$; $t_1 = 1$; $t_2 = 4$. Далі врахуємо, що $x > 0$ і $y > 0$.

1) $t = 1$; $x^2 = 1$; $x = 1$; $y = \frac{4}{1}$; $y = 4$.

2) $t = 4$; $x^2 = 4$; $x = 2$; $y = \frac{4}{2}$; $y = 2$.

Відповідь. 1 см і 4 см або 2 см і 2 см.

1.1	1.2	1.3	1.4	1.5	1.6	1.7	1.8	1.9	1.10	1.11	1.12	
В	В	В	В	А	В	А	В	В	Г	В	Г	
2.1	2.2	2.3	2.4									
$\frac{2}{y}$	2	$[-2; +\infty)$	60°									

Варіант 10

3.1. Нехай x км/год — швидкість потяга за розкладом. Перегон завдовжки 300 км він мав подолати за $\frac{300}{x}$ год. Після збільшення його швидкість стала дорівнювати $(x+10)$ км/год, а перегон він подолав за $\frac{300}{x+10}$ год. За умовою $\frac{300}{x} - \frac{300}{x+10} = 1$.

Розв'яжемо отримане рівняння:

$$\frac{300x + 3000 - 300x}{x(x+10)} = 1; \quad x^2 + 10x - 3000 = 0; \quad x_1 = 50; \quad x_2 = -60.$$

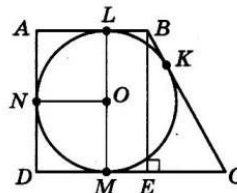
Другий корінь не задовольняє умову задачі. Отже, швидкість потяга за розкладом 50 км/год, а подолати перегон він мав за $\frac{300}{50} = 6$ (год).

Відповідь. 6 год.

3.2. Маємо $(a+b+c)(a-b+c) = a^2 + b^2 + c^2$; $((a+c)+b)((a+c)-b) = a^2 + b^2 + c^2$; $(a+c)^2 - b^2 = a^2 + b^2 + c^2$; $a^2 + 2ac + c^2 - b^2 = a^2 + b^2 + c^2$; $2ac = 2b^2$; $ac = b^2$.

Тому a, b, c — послідовні члени геометричної прогресії.

3.3. У прямокутну трапецію з основами AB і CD вписано коло. Точки K, L, N і M — точки дотику кола сторін BC, AB, AD і DC відповідно. За умовою $BK = 8$ см; $KC = 18$ см.



За властивістю дотичних, $BL = BK = 8$ см; $MC = CK = 18$ см.

Проведемо ML і висоту трапеції BE . $ALMD$ і $LMEB$ — прямокутники.

$ME = LB = 8$ см; $EC = MC - ME = 18 - 8 = 10$ (см); $BC = BK + KC = 8 + 18 = 26$ (см).

У $\triangle BEC$: $BE = \sqrt{BC^2 - EC^2} = \sqrt{26^2 - 10^2} = 24$ (см), а $AD = LM = BE = 24$ (см). Тоді радіус вписаного кола $r = \frac{24}{2} = 12$ (см).

$ONAL$ — квадрат; $NA = AL = r = 12$ см, аналогічно $DN = DM = 12$ см. Тоді $DC = 12 + 18 = 30$ (см), $AB = 12 + 8 = 20$ (см).

Отже, периметр трапеції $P = 20 + 30 + 24 + 26 = 100$ (см).

Відповідь. 100 см.

$$\begin{aligned} 4.1^* \frac{\sqrt{m-2}\sqrt{m-2}-1}{\sqrt{m-2}-1} + 1 &= \frac{\sqrt{m-2}-2\sqrt{m-2}+1}{\sqrt{m-2}-1} + 1 = \\ &= \frac{\sqrt{(\sqrt{m-2})^2-2\sqrt{m-2}\cdot 1+1^2}}{\sqrt{m-2}-1} + 1 = \frac{\sqrt{(\sqrt{m-2}-1)^2}}{\sqrt{m-2}-1} + 1 = \\ &= \frac{|\sqrt{m-2}-1|}{\sqrt{m-2}-1} + 1. \end{aligned}$$

Оскільки $m = 2,98$, то $0 < \sqrt{m-2} < 1$, тому $\sqrt{m-2}-1 < 0$ і $|\sqrt{m-2}-1| = -(\sqrt{m-2}-1)$. Маємо $\frac{-(\sqrt{m-2}-1)}{\sqrt{m-2}-1} + 1 = -1 + 1 = 0$.

Відповідь. 0.

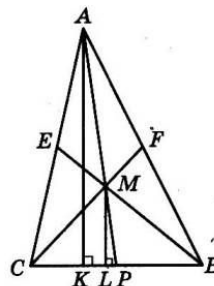
4.2*. BE і CF — медіани $\triangle ABC$, $BC = 10$ см; $BE = 9$ см; $CF = 12$ см. Знайдемо площу $\triangle CMB$, де M — точка перетину медіан. Маємо:

$$BM = \frac{2}{3}BE = \frac{2}{3} \cdot 9 = 6 \text{ (см);}$$

$$CM = \frac{2}{3}CF = \frac{2}{3} \cdot 12 = 8 \text{ (см).}$$

$\triangle CMB$ — прямокутний, оскільки $6^2 + 8^2 = 10^2$; $\angle CMB = 90^\circ$.

$$S_{\triangle CMB} = \frac{1}{2} \cdot 6 \cdot 8 = 24 \text{ (см}^2\text{)}.$$



Нехай AP — третя медіана $\triangle ABC$, AK — висота трикутника ABC , ML — висота трикутника CMB . Оскільки $MP:AP = 1:3$, то $ML:AK = 1:3$, а тому $\frac{S_{\triangle CMB}}{S_{\triangle ABC}} = \frac{1}{3}$. Тому $S_{\triangle ABC} = 3 \cdot 24 = 72$ (см²).

Відповідь. 72 см².

1.1	1.2	1.3	1.4	1.5	1.6	1.7	1.8	1.9	1.10	1.11	1.12
В	А	Г	В	А	В	Б	Г	А	Б	В	Б

2.1	2.2	2.3	2.4
$\frac{y-x}{xy}$	$-\sqrt{3}$	2; 3; 4	6 см; 4 см

Варіант 11

3.1. Нехай x км/год — швидкість другого автомобіля, годі $(x+10)$ км/год — швидкість першого. Другий автомобіль затратив на весь шлях $\frac{560}{x}$ год, а перший — $\frac{560}{x+10}$ год. За умовою, $\frac{560}{x} - \frac{560}{x+10} = 1$.

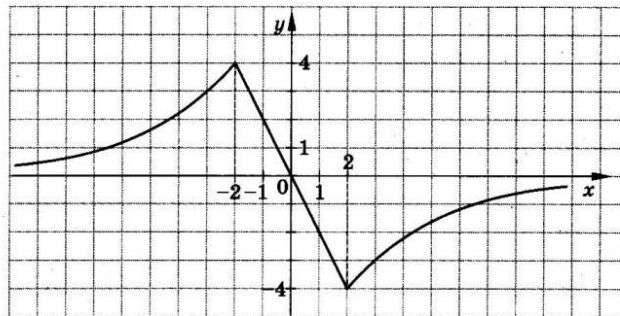
Розв'яжемо отримане рівняння:

$$\frac{560x + 5600 - 560x}{x(x+10)} = 1; \quad x^2 + 10x - 5600 = 0; \quad x_1 = 70; \quad x_2 = -80.$$

Другий корінь не задовольняє умову. Отже, 70 км/год — швидкість другого автомобіля і 80 км/год — першого.

Відповідь. 80 км/год; 70 км/год.

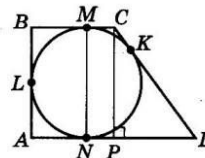
3.2. Графіком функції $y = -\frac{8}{x}$ є гіпербола, розташована у II та IV координатних чвертях, а графіком функції $y = -2x$, де $-2 < x < 2$, є пряма, що проходить через точки $(1; -2)$ і $(-1; 2)$.



Графік функції зображено на малюнку. Функція зростає на проміжках $(-\infty; -2]$ і $[2; +\infty)$, найбільше значення функції дорівнює 4.

Відповідь. Зростає на $(-\infty; -2]$ і $[2; +\infty)$, найбільше значення дорівнює 4.

3.3. Нехай коло вписане у прямокутну трапецію $ABCD$, у якій $\angle A = \angle B = 90^\circ$. Точки K, M, L і N — точки дотику кола відповідно до сторін CD, CB, BA і AD . $CK = 4$ см, $KD = 25$ см (за умовою). $DC = 4 + 25 = 29$ (см).



За властивістю дотичних $CM = CK = 4$ см, $DN = DK = 25$ см. Проведемо MN і висоту CP . Оскільки $MN \perp AD$, $MN \parallel CP$, то $MCPN$ — прямокутник. $NP = MC = 4$ см; $DP = DN - NP = 25 - 4 = 21$ (см).

$$\text{У } \triangle CPD: CP = \sqrt{CD^2 - DP^2} = \sqrt{29^2 - 21^2} = 20 \text{ (см)}.$$

Оскільки MN — діаметр кола і $MN = CP = 20$ см, то радіус кола $r = BL = LA = \frac{20}{2} = 10$ (см).

За властивістю дотичних, $BM = BL = 10$ см і $AN = AL = 10$ см. Тоді $AD = 10 + 25 = 35$ (см), $BC = 10 + 4 = 14$ (см) і площа трапеції $S = \frac{AD + BC}{2} \cdot CP = \frac{35 + 14}{2} \cdot 20 = 490$ (см²).

Відповідь. 490 см².

4.1^м. $(x+1)(x-1)(x-2)(x-4) = 7$. Згрупуємо:

$$((x+1)(x-4))((x-1)(x-2)) = 7; \quad (x^2 - 3x - 4)(x^2 - 3x + 2) = 7.$$

Позначимо $x^2 - 3x = t$. Тоді маємо: $(t-4)(t+2) = 7$; $t^2 - 2t - 15 = 0$; $t_1 = -3$; $t_2 = 5$.

1) $x^2 - 3x = -3$; $x^2 - 3x + 3 = 0$, рівняння не має розв'язків.

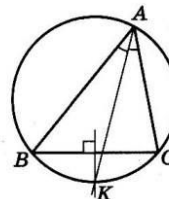
$$2) \quad x^2 - 3x = 5; \quad x^2 - 3x - 5 = 0; \quad x_{1,2} = \frac{3 \pm \sqrt{9 + 20}}{2} = \frac{3 \pm \sqrt{29}}{2}.$$

Відповідь. $x_{1,2} = \frac{3 \pm \sqrt{29}}{2}$.

4.2^м. Нехай серединний перпендикуляр до сторони BC перетинає описане коло в точці K . Тоді $\sphericalangle BKC = \sphericalangle KCS$.

Тому $\sphericalangle BAK = \sphericalangle KAC$, а отже, AK — бісектриса кута BAC .

Отже, точка K — точка перетину бісектриси кута A трикутника ABC і серединного перпендикуляра до сторони BC — належить колу, описаному навколо трикутника ABC . Доведено.



1.1	1.2	1.3	1.4	1.5	1.6	1.7	1.8	1.9	1.10	1.11	1.12
В	Г	Г	Б	В	В	Б	А	Б	Г	В	В

2.1	2.2	2.3	2.4
17	(1; -1), (-5; 5)	$\frac{1}{6}$	16π см

Варіант 12

3.1. Нехай початкова ціна футбольного м'яча x грн, а волейбольного — y грн. За умовою, $4x + 3y = 320$.

Після того як футбольний м'яч подешевшав на 20 %, він став коштувати $x - 0,2x = 0,8x$. Після того як волейбольний м'яч подорожчав на 5 %, він став коштувати $y + 0,05y = 1,05y$. За умовою, $2 \cdot 0,8x + 1,05y = 122$.

Маємо систему
$$\begin{cases} 4x + 3y = 320, \\ 1,6x + 1,05y = 122. \end{cases}$$

Розв'яжемо отриману систему. З першого рівняння маємо $4x = 320 - 3y$; $x = 80 - 0,75y$. Підставимо у друге рівняння $1,6(80 - 0,75y) + 1,05y = 122$; $128 - 1,2y + 1,05y = 122$; $0,15y = 6$. Звідси $y = 40$, $x = 80 - 0,75 \cdot 40$; $x = 50$.

Отже, початкова ціна футбольного м'яча була 50 грн, а волейбольного — 40 грн.

Відповідь. 50 грн; 40 грн.

3.2. Виконаємо спрощення виразу за діями:

$$1) \frac{1}{(x+2)^2} - \frac{2}{x^2-4} + \frac{1}{(x-2)^2} = \frac{1}{(x+2)^2} - \frac{2}{(x-2)(x+2)} + \frac{1}{(x-2)^2} = \frac{(x-2)^2 - 2(x-2)(x+2) + (x+2)^2}{(x-2)^2(x+2)^2} = \frac{(x-2 - (x+2))^2}{(x-2)^2(x+2)^2} = \frac{16}{(x-2)^2(x+2)^2}$$

$$2) \frac{(x+2)^4}{16} \cdot \frac{16}{(x-2)^2(x+2)^2} = \frac{(x+2)^2}{(x-2)^2}$$

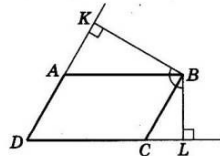
$$3) \frac{8x}{(x-2)^2} - \frac{(x+2)^2}{(x-2)^2} = \frac{8x - (x^2 + 4x + 4)}{(x-2)^2} = \frac{8x - x^2 - 4x - 4}{(x-2)^2} = \frac{-x^2 + 4x - 4}{(x-2)^2} = \frac{-(x^2 - 4x + 4)}{x^2 - 4x + 4} = -1$$

Відповідь. -1.

3.3. Нехай $ABCD$ — заданий паралелограм; $\angle D : \angle A = 2 : 3$.

Позначимо $\angle D = 2x$ і $\angle A = 3x$. Тоді $2x + 3x = 180^\circ$; $5x = 180^\circ$; $x = 36^\circ$. Тому $\angle D = 2 \cdot 36^\circ = 72^\circ$.

З вершини гострого кута B паралелограма $ABCD$ проведено висоти BK і BL . Тоді в чотирикутнику $DKBL$ відомі кути: $\angle K = \angle L = 90^\circ$ і $\angle D = 72^\circ$.



Тому $\angle KBL = 360^\circ - (2 \cdot 90^\circ + 72^\circ) = 108^\circ$.

Відповідь. 108° .

4.1^м. $7\left(x + \frac{1}{x}\right) - 2\left(x^2 + \frac{1}{x^2}\right) = 9$. Нехай $x + \frac{1}{x} = t$.

Тоді $t^2 = x^2 + 2 + \frac{1}{x^2}$, а тому $x^2 + \frac{1}{x^2} = t^2 - 2$.

Маємо $7t - 2(t^2 - 2) = 9$; $2t^2 - 7t + 5 = 0$; $t_1 = 1$; $t_2 = 2,5$.

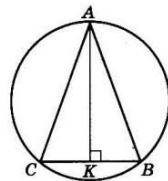
1) $x + \frac{1}{x} = 1$. Оскільки відомо, що $\left|x + \frac{1}{x}\right| \geq 2$, то рівняння $x + \frac{1}{x} = 1$ не має розв'язків.

2) $x + \frac{1}{x} = 2,5$; $x + \frac{1}{x} = 2 + \frac{1}{2}$; $x_1 = 2$; $x_2 = \frac{1}{2}$.

Відповідь. 2 ; $\frac{1}{2}$.

4.2^м. Нехай у коло вписано рівнобедрений трикутник ABC , у якого бічна сторона вдвічі більша за основу. Тому позначимо $AB = AC = 2x$; $CB = x$.

Проведемо AK — медіану і висоту трикутника.



Тоді $CK = \frac{CB}{2} = \frac{x}{2}$.

У $\triangle ACK$ ($\angle K = 90^\circ$): $\cos C = \frac{CK}{AC}$; $\cos C = \frac{\frac{x}{2}}{2x} = \frac{1}{4}$.

Тоді $\sin C = \sqrt{1 - \cos^2 C} = \sqrt{1 - \left(\frac{1}{4}\right)^2} = \frac{\sqrt{15}}{4}$.

Відомо, що $AB = 2R \sin C$; $AB = 2 \cdot 8 \cdot \frac{\sqrt{15}}{4} = 4\sqrt{15}$ (см). Тоді $CB = 2\sqrt{15}$ (см).

Знайдемо добуток $Rr = \frac{abc}{4S} \cdot \frac{S}{p} = \frac{abc}{4p}$. Звідси $r = \frac{abc}{4pR}$.

Маємо: $p = \frac{2AB + CB}{2} = AB + \frac{CB}{2} = 4\sqrt{15} + \sqrt{15} = 5\sqrt{15}$ (см).

Тоді $r = \frac{4\sqrt{15} \cdot 4\sqrt{15} \cdot 2\sqrt{15}}{4 \cdot 5\sqrt{15} \cdot 8} = 3$ (см).

Відповідь. 3 см.

1.1	1.2	1.3	1.4	1.5	1.6	1.7	1.8	1.9	1.10	1.11	1.12
Г	В	Г	Б	В	А	А	В	В	Г	А	Б

2.1	2.2	2.3	2.4
$x = 7$	$k = 0,5$; $b = -2$	21	3 см; 8 см

Варіант 13

3.1. Нехай другий оператор набирає щогодини по x сторінок, тоді перший оператор щогодини набирає по $(x + 1)$ сторінці. На набір рукопису зі 120 сторінок перший оператор витратив $\frac{120}{x+1}$ год, а на набір рукопису зі 100 сторінок другий оператор витратив $\frac{100}{x}$ год. За умовою, $\frac{120}{x+1} + 1 = \frac{100}{x}$.

Розв'яжемо отримане рівняння: $\frac{120}{x+1} + 1 - \frac{100}{x} = 0$;

$$\frac{120x + x(x+1) - 100(x+1)}{x(x+1)} = 0; \frac{120x + x^2 + x - 100x - 100}{x(x+1)} = 0;$$

$$x^2 + 21x - 100 = 0; x_1 = 4; x_2 = -25.$$

Другий корінь не підходить за умовою задачі.

Отже, другий оператор щогодини набрав по 4 сторінки, а перший оператор — по 5 сторінок.

Відповідь. 5 с./год; 4 с./год.

3.2. Нехай у коробці є x чорних кульок. Тоді ймовірність витягнути навмання чорну кульку з коробки дорівнює $\frac{x}{x+10}$.

За умовою, $0,4 < \frac{x}{x+10} < 0,5$.

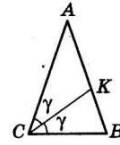
Оскільки $x+10 > 0$, то можна домножити на $x+10$. Маємо: $0,4(x+10) < x < 0,5(x+10)$;

$$\begin{cases} 0,4x + 4 < x, \\ x < 0,5x + 5; \end{cases} \begin{cases} 0,6x > 4, \\ 0,5x < 5; \end{cases} \begin{cases} x > 6\frac{2}{3}, \\ x < 10. \end{cases}$$

Оскільки x — натуральне число, то $x=7$, або $x=8$, або $x=9$. Отже, у коробці може бути 7, 8 або 9 чорних кульок.

Відповідь. 7, 8 або 9.

3.3. Нехай ABC — рівнобедрений трикутник. $AB=AC=20$ см; $BC=5$ см; CK — бісектриса трикутника.



За властивістю бісектриси, $\frac{AC}{BC} = \frac{AK}{KB}$.

Позначимо $AK = x$, тоді $KB = 20 - x$. Маємо:

$$\frac{20}{5} = \frac{x}{20-x}; 400 - 20x = 5x; 25x = 400; x = 16 \text{ (см)}.$$

Отже, $AK = 16$ см, $KB = 4$ см.

Позначимо $CK = y$; $\angle ACK = \angle KCB = \gamma$. Тоді у $\triangle ACK$:

$$\cos \gamma = \frac{AC^2 + CK^2 - AK^2}{2 \cdot AC \cdot CK}; \text{ у } \triangle KCB: \cos \gamma = \frac{CK^2 + CB^2 - KB^2}{2 \cdot CK \cdot CB}.$$

$$\text{Маємо: } \frac{20^2 + y^2 - 16^2}{2 \cdot 20 \cdot y} = \frac{y^2 + 5^2 - 4^2}{2 \cdot y \cdot 5}; y^2 + 144 = 4(y^2 + 9); y^2 = 36;$$

$y = 6$ (см).

Відповідь. 6 см.

4.1^м. Розв'яжемо спочатку рівняння $x^3 - x^2 - 15x - 9 = 0$. Будемо шукати цілі корені рівняння серед дільників числа -9 : ± 1 ; ± 3 ; ± 9 . Знаходимо, що $x = -3$ — корінь (оскільки $(-3)^3 - (-3)^2 - 15 \cdot (-3) - 9 = 0$).

Поділимо куточком $x^3 - x^2 - 15x - 9$ на $x + 3$, отримаємо частку $x^2 - 4x - 3$. Рівняння $x^2 - 4x - 3 = 0$ має корені $x_{1,2} = 2 \pm \sqrt{7}$.

$$\text{Отже, } x^3 - x^2 - 15x - 9 = (x+3)(x - (2 + \sqrt{7}))(x - (2 - \sqrt{7})) = (x+3)(x - 2 - \sqrt{7})(x - 2 + \sqrt{7}).$$

Відповідь. $(x+3)(x - 2 - \sqrt{7})(x - 2 + \sqrt{7})$.

4.2^м. Нехай у паралелограмі $ABCD$: $AB = a$; $AD = b$; $BD = d_1$; $AC = d_2$; $\angle BAD = \varphi$ — гострий кут.

У $\triangle BAD$: $d_1^2 = a^2 + b^2 - 2ab \cos \varphi$;

у $\triangle ABC$: $d_2^2 = a^2 + b^2 - 2ab \cos(180^\circ - \varphi) =$

$$= a^2 + b^2 + 2ab \cos \varphi.$$

Перемножимо ліві та праві частини рівнянь почленно:

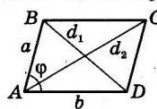
$$d_1^2 d_2^2 = (a^2 + b^2)^2 - (2ab \cos \varphi)^2; d_1^2 d_2^2 = a^4 + 2a^2 b^2 + b^4 - 4a^2 b^2 \cos^2 \varphi.$$

Але за умовою $d_1^2 d_2^2 = a^4 + b^4$, тому

$$a^4 + b^4 = a^4 + 2a^2 b^2 + b^4 - 4a^2 b^2 \cos^2 \varphi; 2a^2 b^2 - 4a^2 b^2 \cos^2 \varphi = 0;$$

$$2a^2 b^2 (1 - 2 \cos^2 \varphi) = 0; \cos^2 \varphi = \frac{1}{2}.$$

Оскільки φ — гострий, $\cos \varphi = \frac{\sqrt{2}}{2}$, а тому $\varphi = 45^\circ$, що й треба було довести.



1.1	1.2	1.3	1.4	1.5	1.6	1.7	1.8	1.9	1.10	1.11	1.12
Б	Г	Б	А	Г	В	Г	Б	В	Г	А	Б
2.1	2.2	2.3	2.4								
$-\frac{3}{xy}$	$p = 2,5;$ $x_2 = -4$	(2; -1), (8; 11)	10 см								

Варіант 14

3.1. Нехай перша бригада, працюючи самостійно, може зорати поле за x днів, тоді друга — за $(x-5)$ днів. За один день перша зоре $\frac{1}{x}$ частину роботи, а друга — $\frac{1}{x-5}$ частину роботи. За умовою $\frac{1}{x} + \frac{1}{x-5} = \frac{1}{6}$.

Розв'яжемо це рівняння: $\frac{x-5+x}{x(x-5)} = \frac{1}{6}$; $6(2x-5) = x^2 - 5x$;

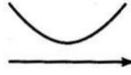
$x^2 - 17x + 30 = 0$; $x_1 = 15$; $x_2 = 2$. Другий корінь не підходить. Отже, перша бригада, працюючи самостійно, може зорати поле за 15 днів, а друга — за 10 днів.

Відповідь. 15 днів; 10 днів.

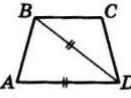
3.2. Для того щоб нерівність $x^2 - (2m+1)x + m^2 > 0$ виконувалася для всіх дійсних значень x , необхідно і достатньо, щоб парабола, що є графіком функції $y = x^2 - (2m+1)x + m^2$, не перетинала осі x (див. малюнок), тобто при виконанні умови $D < 0$.

Маємо $D = -(2m+1)^2 - 4m^2 = 4m^2 + 4m + 1 - 4m^2 = 4m + 1$. Далі, $4m + 1 < 0$; $m < -0,25$.

Відповідь. $m < -0,25$.



3.3. Нехай $ABCD$ — трапеція, що задана в умові. Діагональ BD розбиває її на рівнобедрені трикутники. Це можливо лише у випадку, коли $AB = BC = CD$ і $BD = AD$. Позначимо $\angle BAD = x$, тоді $\angle ABC = \angle BCD = 180^\circ - x$. Оскільки $AD = BD$, то $\angle ABD = \angle BAD = x$. Тоді $\angle DBC = (180^\circ - x) - x = 180^\circ - 2x$.



$\triangle BCD$ — рівнобедрений ($BC = CD$). Тому $\angle BDC = \angle DBC = 180^\circ - 2x$.

У $\triangle BCD$: $180^\circ - 2x + 180^\circ - x + 180^\circ - 2x = 180^\circ$; $5x = 360^\circ$; $x = 72^\circ$.

Отже, $\angle A = \angle ADC = 72^\circ$ і $\angle ABC = \angle BCD = 180^\circ - 72^\circ = 108^\circ$.

Відповідь. $72^\circ, 108^\circ$.

4.1*
$$\begin{cases} \sqrt{\frac{x}{y}} + \sqrt{xy} = \frac{80}{\sqrt{xy}} \\ x + y = 20. \end{cases}$$
 З умови випливає, що $xy > 0$.

Домножимо перше рівняння на $\sqrt{xy} \neq 0$. Маємо

$$\sqrt{\frac{x}{y}} \cdot xy + xy = 80; \sqrt{x^2 + xy} = 80; |x| + xy = 80.$$

Отже,
$$\begin{cases} |x| + xy = 80, \\ y = 20 - x; \end{cases} \begin{cases} |x| + x(20 - x) = 80, \\ y = 20 - x. \end{cases}$$

1) Якщо $x > 0$, то $|x| = x$. Маємо $x + 20x - x^2 = 80$; $x^2 - 21x - 80 = 0$; $x_1 = 16$; $x_2 = 5$. Обидва корені задовольняють умову $x > 0$. Тоді $y_1 = 20 - 16 = 4$; $y_2 = 20 - 5 = 15$. Кожна з пар $(16; 4)$, $(5; 15)$ задовольняє умову $xy > 0$.

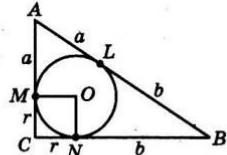
2) Якщо $x < 0$, то $|x| = -x$. Маємо $-x + 20x - x^2 = 80$; $x^2 - 19x + 80 = 0$; $x_{1,2} = \frac{19 \pm \sqrt{41}}{2}$.

Але $x_1 = \frac{19 + \sqrt{41}}{2} > 0$ і $x_2 = \frac{19 - \sqrt{41}}{2} > 0$.

Отже, у випадку $x < 0$ система не має розв'язків.

Відповідь. $(16; 4)$, $(5; 15)$.

4.2*. На малюнку точки L, N, M — точки дотику кола відповідно до сторін AB, BC і CA . $AL = a$; $LB = b$ (за умовою). За властивістю дотичних, $AM = AL = a$; $BN = BL = b$.



Ураховуючи той факт, що $OMCN$ — квадрат, позначимо $CM = CN = r$. Тоді площа $\triangle ABC$

$$S = \frac{1}{2} AC \cdot CB = \frac{1}{2} (a+r)(b+r).$$

У $\triangle ABC$, за теоремою Піфагора, $(a+r)^2 + (b+r)^2 = (a+b)^2$;

$$a^2 + 2ar + r^2 + b^2 + 2br + r^2 = a^2 + 2ab + b^2;$$

$$r^2 + ar + br = ab;$$

$$r^2 + ar + br + ab = ab + ab;$$

$$r(r+a) + b(r+a) = 2ab;$$

$$(r+a)(r+b) = 2ab.$$

Тому $S = \frac{1}{2} \cdot 2ab = ab$.

Відповідь. ab .

1.1	1.2	1.3	1.4	1.5	1.6	1.7	1.8	1.9	1.10	1.11	1.12
Б	Г	Г	В	В	Г	Б	В	В	Г	В	Г

2.1	2.2	2.3	2.4
$\frac{1}{2}$	-6; -7	$p = 2;$ $q = -5$	45 см

Варіант 15

3.1. Нехай швидкість одного автомобіля — x км/год, тоді швидкість іншого — $(x-10)$ км/год. Один проїхав з міста в село за $\frac{450}{x}$ год, інший — за $\frac{450}{x-10}$ год. Ураховуючи те, що $30 \text{ хв} = \frac{1}{2}$ год, та умову задачі, маємо $\frac{450}{x-10} - \frac{450}{x} = \frac{1}{2}$.

Розв'яжемо отримане рівняння:

$$\frac{450x - 450x + 4500}{x(x-10)} = \frac{1}{2}; \quad x^2 - 10x - 9000 = 0; \quad x_1 = 100; \quad x_2 = -90.$$

Другий корінь не задовольняє умову. Отже, швидкість одного автомобіля 100 км/год, а іншого — 90 км/год.

Відповідь. 100 км/год; 90 км/год.

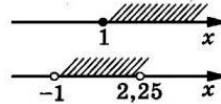
3.2. Область допустимих значень функції знайдемо із системи:

$$\begin{cases} x-1 \geq 0, & \{x \geq 1, \\ 5x+9-4x^2 > 0; & \{4x^2-5x-9 < 0. \end{cases}$$

$$4x^2 - 5x - 9 = 0; \quad x_1 = 2,25; \quad x_2 = -1.$$

Розв'язком нерівності $4x^2 - 5x - 9 < 0$ є множина $(-1; 2,25)$. Остаточно маємо, що область допустимих значень функції є множина $[1; 2,25)$.

Відповідь. $[1; 2,25)$.



3.3. Нехай $AC=b$ і $BC=a$ — катети прямокутного трикутника; $AB=c$ — його гіпотенуза. Тоді $c = \sqrt{a^2 + b^2}$.

BL і AK — медіани. За умовою $BL=4$ см; $AK=3$ см.

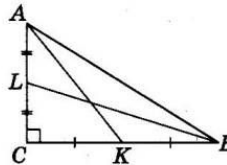
$$\text{У } \triangle AKC: AK^2 = AC^2 + CK^2; \quad 4^2 = b^2 + \frac{a^2}{4};$$

$$\text{у } \triangle BCL: BL^2 = LC^2 + BC^2; \quad 3^2 = \frac{b^2}{4} + a^2.$$

Склавши ці рівності почленно, маємо $25 = \frac{5}{4}(a^2 + b^2)$, звідси $a^2 + b^2 = 20$

$$\text{і } c = \sqrt{20} = 2\sqrt{5} \text{ (см).}$$

Відповідь. $2\sqrt{5}$ см.



$$4.1^m. (\sqrt{x-1} - a)(4x-5) = 0.$$

$$\text{Рівняння рівносильне сукупності: } \begin{cases} \sqrt{x-1} = a, & \begin{cases} \sqrt{x-1} = a, \\ 4x-5 = 0, \\ x-1 \geq 0; \end{cases} \\ 4x-5 = 0, & \begin{cases} \sqrt{x-1} = a, \\ x = \frac{5}{4}. \end{cases} \end{cases}$$

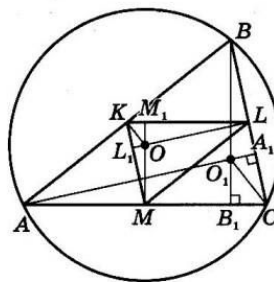
Задане в умові рівняння має єдиний корінь, якщо рівняння $\sqrt{x-1} = a$ розв'язків не має, що досягається при $a < 0$, або якщо коренем цього рівняння є число $\frac{5}{4}$. Це відбувається,

$$\text{коли } a = \sqrt{\frac{5}{4} - 1} = \frac{1}{2}.$$

Відповідь. $a < 0$ або $a = \frac{1}{2}$.

4.2^m. За умовою, у гострокутному $\triangle ABC$ проведено висоти AA_1 і BB_1 , точка їхнього перетину O_1 — ортоцентр. Навколо трикутника описано коло із центром у точці O . Потрібно довести, що $O_1C = 2OK$, де OK — відстань від точки O до сторони AB .

Проведемо середні лінії KL , LM і KM трикутника ABC . Отримаємо



$\triangle KLM$, висоти якого перетинаються в точці O , оскільки вони перпендикулярні до сторін $\triangle ABC$ і проходять через точки K , L і M — середини цих сторін. $\triangle ABC \sim \triangle KLM$ (бо $\frac{AB}{ML} = \frac{AC}{KL} = \frac{BC}{KM} = \frac{2}{1}$), а в подібних трикутниках відповідні елементи також пропорційні. Тому $\frac{AB}{ML} = \frac{O_1C}{OK}$, отже, $\frac{O_1C}{OK} = \frac{2}{1}$; $O_1C = 2OK$, що й треба було довести.

1.1	1.2	1.3	1.4	1.5	1.6	1.7	1.8	1.9	1.10	1.11	1.12
Г	В	Б	В	Б	А	Г	Б	А	Б	В	Г
2.1	2.2	2.3	2.4								
$\frac{1}{9}$	$\sqrt{3}$	$(\frac{1}{3}; 2\frac{2}{3})$	$3x - y + 7 = 0$								

Варіант 16

3.1. Нехай x км/год — швидкість потяга за розкладом, тоді, ліквідуючи запізнення, він їхав зі швидкістю $(x+5)$ км/год. За розкладом перегон завдовжки 180 км потяг мав проїхати за $\frac{180}{x}$ год, а проїхав за $\frac{180}{x+5}$ год. Оскільки $24 \text{ хв} = \frac{24}{60} \text{ год} = \frac{2}{5} \text{ год}$, то, враховуючи умову задачі, маємо рівняння $\frac{180}{x} - \frac{180}{x+5} = \frac{2}{5}$, або $\frac{90}{x} - \frac{90}{x+5} = \frac{1}{5}$. Розв'яжемо це рівняння:

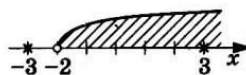
$$\frac{90x + 450 - 90x}{x(x+5)} = \frac{1}{5}; \quad x^2 + 5x - 2250 = 0; \quad x_1 = 45; \quad x_2 = -50.$$

Другий корінь не задовольняє умову задачі. Отже, швидкість потяга за розкладом дорівнює 45 км/год.

Відповідь. 45 км/год.

3.2. Область визначення функції знайдемо із системи:

$$\begin{cases} 2x + 4 > 0, \\ |x| \neq 3; \end{cases} \quad \begin{cases} x > -2, \\ x \neq 3, \\ x \neq -3; \end{cases}$$

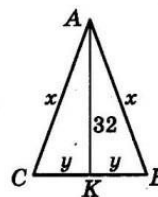


$$x \in (-2; 3) \cup (3; +\infty).$$

Відповідь. $(-2; 3) \cup (3; +\infty)$.

3.3. Довжина кола, описаного навколо трикутника, дорівнює 50π , з іншого боку, ця довжина дорівнює $2\pi R$, де R — радіус описаного кола. Маємо: $2\pi R = 50\pi$; $R = 25$ (см).

У $\triangle ABC$: $AC = AB$; AK — висота, медіана. Позначимо $AC = AB = x$ см, $CK = KB = y$ см. Тоді $S_{\triangle ABC} = \frac{1}{2} \cdot 2y \cdot 32 = 32y$ (см²). За відомою фор-



мулою, $R = \frac{abc}{4S}$; $25 = \frac{x \cdot x \cdot 2y}{4 \cdot 32y}$; $x^2 = 25 \cdot 16 \cdot 4$; $x = 40$.

Тоді у $\triangle AKC$:

$$CK = \sqrt{AC^2 - AK^2} = \sqrt{40^2 - 32^2} = 24 \text{ (см)}, \quad BC = 2 \cdot 24 = 48 \text{ (см)}.$$

Периметр трикутника $P = 2 \cdot 40 + 48 = 128$ (см).

Відповідь. 128 см.

4.1^а. Розв'яжемо рівняння $x^4 - 3x^3 - 6x^2 + 12x + 16 = 0$.

Оскільки $\frac{16}{1} = \left(\frac{12}{-3}\right)^2$, то дане рівняння — зворотно-симетричне. $x=0$ не є коренем рівняння; розділимо ліву і праву частини рівняння на x^2 . Маємо:

$$x^2 - 3x - 6 + \frac{12}{x} + \frac{16}{x^2} = 0; \quad \left(x^2 + \frac{16}{x^2}\right) - 3\left(x - \frac{4}{x}\right) - 6 = 0.$$

Позначимо $x - \frac{4}{x} = t$. Тоді $t^2 = x^2 - 8 + \frac{16}{x^2}$; $x^2 + \frac{16}{x^2} = t^2 + 8$.

Отже, $t^2 + 8 - 3t - 6 = 0$; $t^2 - 3t + 2 = 0$; $t_1 = 1$; $t_2 = 2$.

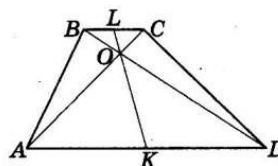
$$1) \quad x - \frac{4}{x} = 1; \quad \begin{cases} x^2 - x - 4 = 0, \\ x \neq 0; \end{cases} \quad x_{1,2} = \frac{1 \pm \sqrt{17}}{2}.$$

$$2) \quad x - \frac{4}{x} = 2; \quad \begin{cases} x^2 - 8x - 4 = 0, \\ x \neq 0; \end{cases} \quad x_{3,4} = 1 \pm \sqrt{5}.$$

Відповідь. $x_{1,2} = \frac{1 \pm \sqrt{17}}{2}$; $x_{3,4} = 1 \pm \sqrt{5}$.

4.2^а. Нехай L — середина основи BC , а K — середина основи AD трапеції $ABCD$. При гомотетії із центром O і коефіцієнтом $k = -\frac{AD}{BC}$ трикутник AOD є

образом трикутника COB . Звідси випливає, що точка K є образом точки L при цій гомотетії. А отже, точки L, O і K належать одній прямій, тобто $O \in LK$, що й треба було довести.



1.1	1.2	1.3	1.4	1.5	1.6	1.7	1.8	1.9	1.10	1.11	1.12
Г	Б	Б	В	Г	А	В	Б	В	Г	В	А

2.1	2.2	2.3	2.4
-9	$a = 5; c = 3$	0,7	4,8 см

Варіант 17

3.1. Нехай x км/год — швидкість першого туриста, а y км/год — другого. Тоді $2(x+y)=20$, а тому $x+y=10$.

Першому туристу, щоб подолати 20 км, потрібно $\frac{20}{x}$ год,

а другому — $\frac{20}{y}$ год. Оскільки 1 год 40 хв = $1\frac{40}{60}$ год = $1\frac{2}{3}$ год =

$\frac{5}{3}$ год, то маємо рівняння $\frac{20}{x} - \frac{20}{y} = \frac{5}{3}$, або $\frac{4}{x} - \frac{4}{y} = \frac{1}{3}$.

Маємо систему
$$\begin{cases} x+y=10, \\ \frac{4}{x} - \frac{4}{y} = \frac{1}{3} \end{cases}$$

Розв'яжемо її: $x = 10 - y$; $\frac{4}{10-y} - \frac{4}{y} = \frac{1}{3}$; $\frac{4y - 40 + 4y}{y(10-y)} = \frac{1}{3}$;

$3(8y - 40) = 10y - y^2$; $y^2 + 14y - 120 = 0$; $y_1 = 6$; $y_2 = -20$.

Другий корінь не задовольняє умову задачі. Тоді $x = 4$.
Отже, швидкість першого туриста — 4 км/год, а другого — 6 км/год.

Відповідь. 4 км/год; 6 км/год.

3.2. Маємо

$$\sqrt{11+4\sqrt{7}} = \sqrt{4+4\sqrt{7}+7} = \sqrt{2^2+2\cdot 2\cdot\sqrt{7}+(\sqrt{7})^2} = \sqrt{(2+\sqrt{7})^2}.$$

Тоді

$$\sqrt{11+4\sqrt{7}} - \sqrt{(1-\sqrt{7})^2} = \sqrt{(2+\sqrt{7})^2} - \sqrt{(1-\sqrt{7})^2} = |2+\sqrt{7}| - |1-\sqrt{7}|.$$

Оскільки $1-\sqrt{7} < 0$, $|1-\sqrt{7}| = -(1-\sqrt{7})$.

Остаточно отримуємо $2 + \sqrt{7} + 1 - \sqrt{7} = 3$.

Відповідь. 3.

3.3. На малюнку квадрат $CMNK$ вписано у прямокутний трикутник ABC вказаним способом; $AC = BC = 6$ см (за умовою). Позначимо сторону квадрата $CK = KN = x$.

У $\triangle KNB$: $\angle K = 90^\circ$; $\angle B = 45^\circ$ (оскільки $\triangle ABC$ — прямокутний, рівнобедрений). Тому $\angle KNB = 180^\circ - (90^\circ + 45^\circ) = 45^\circ$,
 $\triangle KNB$ — рівнобедрений і $KB = KN = x$.

Тоді $CK + KB = CB$; $2x = 6$; $x = 3$ (см). Отже, сторона квадрата дорівнює 3 см. Тоді його площа $S = 3^2 = 9$ (см²).

Відповідь. 9 см².

4.1*. Використаємо графічний метод.

1) $x^2 + y^2 - 2x - 8y + 16 = 0$;

$(x^2 - 2x + 1) + (y^2 - 8y + 16) - 1 = 0$;

$(x-1)^2 + (y-4)^2 = 1$.

Геометричною інтерпретацією рівняння $x^2 + y^2 - 2x - 8y + 16 = 0$ є коло із центром у точці $A(1; 4)$ і радіусом $r = 1$.

2) $y + |x - 1| = a^2 - 1$. Позначимо $a^2 - 1 = b$. Маємо $y = -|x - 1| + b$. Геометричною інтерпретацією цього рівняння є сім'я прямих кутів, вершина яких належить прямій $x = 1$, для яких ця пряма є віссю симетрії; сторони кутів напрямлені вниз.

Геометричні образи рівнянь мають єдину точку перетину лише у випадку $b = 3$ (див. малюнок). Отже,

$b = 3$; $a^2 - 1 = 3$; $a^2 = 4$; $a = \pm 2$.

Відповідь. $a = 2$ або $a = -2$.

4.2*. Нехай точка C розміщена всередині кута AOB такого, що $\angle AOB = 60^\circ$. CA і CB — відстані до сторін кута, $CA = \sqrt{7}$ см, $CB = 2\sqrt{7}$ см.

Оскільки $\angle CAO = \angle CBO = 90^\circ$, то $\angle CAO + \angle CBO = 180^\circ$, а тому навколо чотирикутника $ACBO$ можна описати коло, до того ж OC — його діаметр (бо $\angle OAC = 90^\circ$). Знайдемо діаметр кола з $\triangle ACB$: $OC = \frac{AB}{\sin \angle ACB}$.

Маємо $\angle ACB = 180^\circ - \angle AOB = 180^\circ - 60^\circ = 120^\circ$.

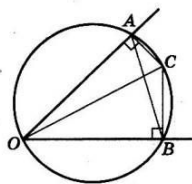
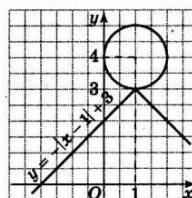
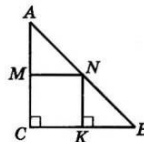
У $\triangle ACB$, за теоремою косинусів,

$$AB = \sqrt{AC^2 + BC^2 - 2AC \cdot BC \cdot \cos \angle ACB} =$$

$$= \sqrt{7 + 28 - 2\sqrt{7} \cdot 2\sqrt{7} \cdot \left(-\frac{1}{2}\right)} = 7 \text{ см.}$$

$$\text{Тоді } OC = \frac{7}{\sin 120^\circ} = \frac{7}{\frac{\sqrt{3}}{2}} = \frac{14}{\sqrt{3}} = \frac{14\sqrt{3}}{3} \text{ (см).}$$

Відповідь. $\frac{14\sqrt{3}}{3}$ см.



1.1	1.2	1.3	1.4	1.5	1.6	1.7	1.8	1.9	1.10	1.11	1.12
Б	Б	Г	А	А	В	Г	В	В	Б	Г	А

2.1	2.2	2.3	2.4
$x = 3$	[0; 1)	$\frac{1}{3}; -\frac{1}{3}$	30 см

Варіант 18

3.1. Нехай за планом перша бригада повинна виготовити x деталей, а друга — y деталей. Тоді $x + y = 250$. До обіду перша бригада виготовила $0,6x$, а друга — $0,7y$ деталей. За умовою, $0,7y - 0,6x = 6$. Маємо систему рівнянь $\begin{cases} x + y = 250, \\ 0,7y - 0,6x = 6. \end{cases}$

Розв'яжемо її. З першого рівняння маємо $y = 250 - x$.

Підставимо значення y у друге рівняння:

$$0,7(250 - x) - 0,6x = 6; 1,3x = 169; x = 130.$$

Тоді $y = 120$. Отже, перша бригада повинна була виготовити 130 деталей, а друга — 120 деталей.

Відповідь. 130 деталей; 120 деталей.

$$3.2. \left(\frac{a\sqrt{a} + b\sqrt{b}}{\sqrt{a} + \sqrt{b}} - \sqrt{ab} \right) : (a - b) + \frac{2\sqrt{b}}{\sqrt{a} + \sqrt{b}}.$$

$$1) \frac{a\sqrt{a} + b\sqrt{b}}{\sqrt{a} + \sqrt{b}} - \sqrt{ab} = \frac{(\sqrt{a})^3 + (\sqrt{b})^3}{\sqrt{a} + \sqrt{b}} - \sqrt{ab} = \\ = \frac{(\sqrt{a} + \sqrt{b})(a - \sqrt{ab} + b)}{\sqrt{a} + \sqrt{b}} - \sqrt{ab} = a - \sqrt{ab} + b - \sqrt{ab} = \\ = a - 2\sqrt{ab} + b = (\sqrt{a} - \sqrt{b})^2.$$

$$2) \frac{(\sqrt{a} - \sqrt{b})^2}{a - b} = \frac{(\sqrt{a} - \sqrt{b})^2}{(\sqrt{a} - \sqrt{b})(\sqrt{a} + \sqrt{b})} = \frac{\sqrt{a} - \sqrt{b}}{\sqrt{a} + \sqrt{b}}.$$

$$3) \frac{\sqrt{a} - \sqrt{b}}{\sqrt{a} + \sqrt{b}} + \frac{2\sqrt{b}}{\sqrt{a} + \sqrt{b}} = \frac{\sqrt{a} + \sqrt{b}}{\sqrt{a} + \sqrt{b}} = 1.$$

Відповідь. 1.

3.3. Нехай точка K належить колу, KA і KB — хорди, $\angle AKB = 90^\circ$.

Оскільки кут AKB прямий, то він спирається на діаметр, а тому AB — діаметр кола і $AB = 2 \cdot 10 = 20$ (см).

Позначимо $BK = x$ см, тоді $KA = (x + 4)$ см.

$$\text{У } \triangle AKB: AB^2 = AK^2 + KB^2;$$

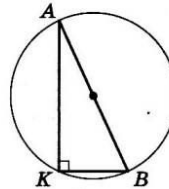
$$20^2 = (x + 4)^2 + x^2;$$

$$x^2 + 4x - 192 = 0.$$

Ураховуючи, що $x > 0$, отримаємо $x = 12$.

Отже, $KB = 12$ см, $KA = 16$ см.

Відповідь. 12 см і 16 см.



$$4.1^m. \frac{x}{x^2 + 3x + 2} - \frac{x}{x^2 + 5x + 2} = \frac{1}{24}.$$

Оскільки $x = 0$ не є коренем рівняння, то поділимо чисельник і знаменник кожного дробу, що стоять у лівій частині рівняння, на x . Маємо $\frac{1}{x + 3 + \frac{2}{x}} - \frac{1}{x + 5 + \frac{2}{x}} = \frac{1}{24}$. Заміна

$$x + 3 + \frac{2}{x} = t. \text{ Тоді:}$$

$$\frac{1}{t} - \frac{1}{t + 2} = \frac{1}{24}; \frac{t + 2 - t}{t(t + 2)} = \frac{1}{24}; \begin{cases} t^2 + 2t - 48 = 0, \\ t \neq 0, \\ t \neq -2; \end{cases} \quad t_1 = 6; \quad t_2 = -8.$$

$$1) t_1 = 6; \quad x + 3 + \frac{2}{x} = 6; \quad \frac{x^2 - 3x + 2}{x} = 0; \quad x_1 = 1; \quad x_2 = 2.$$

$$2) t_2 = -8; \quad x + 3 + \frac{2}{x} = -8; \quad \frac{x^2 + 11x + 2}{x} = 0; \quad x_{3,4} = \frac{-11 \pm \sqrt{113}}{2}.$$

$$\text{Відповідь. } x_1 = 1; \quad x_2 = 2; \quad x_{3,4} = \frac{-11 \pm \sqrt{113}}{2}.$$

4.2^m. Нехай S — площа трикутника. Тоді $h_a = \frac{2S}{a}$; $h_b = \frac{2S}{b}$;

$h_c = \frac{2S}{c}$, де a, b, c — сторони трикутника. За умовою,

$$\left(\frac{h_c}{h_a} \right)^2 + \left(\frac{h_c}{h_b} \right)^2 = 1. \quad \text{Тому} \quad \left(\frac{\frac{2S}{c}}{\frac{2S}{a}} \right)^2 + \left(\frac{\frac{2S}{c}}{\frac{2S}{b}} \right)^2 = 1; \quad \left(\frac{a}{c} \right)^2 + \left(\frac{b}{c} \right)^2 = 1;$$

$$\frac{a^2 + b^2}{c^2} = 1, \quad a^2 + b^2 = c^2. \quad \text{Звідси випливає, що трикутник пря-$$

мокутний, що й треба було довести.

1.1	1.2	1.3	1.4	1.5	1.6	1.7	1.8	1.9	1.10	1.11	1.12
В	Г	Г	Г	Б	Б	Б	В	Г	В	А	Б
2.1	2.2	2.3	2.4								
2013	$q = -40;$ $x_2 = -8$	$(2; 1),$ $(-2; 1)$	110°								

Варіант 19

3.1. Нехай x , $x + 1$ і $x + 2$ — три послідовних натуральних числа, які треба знайти. За умовою,

$$3x^2 = (x + 1)^2 + (x + 2)^2 + 67.$$

Розв'яжемо отримане рівняння

$$3x^2 = x^2 + 2x + 1 + x^2 + 4x + 4 + 67; x^2 - 6x - 72 = 0.$$

Оскільки x — натуральне число, то маємо $x = 12$.

Отже, шукані числа 12; 13; 14.

Відповідь. 12; 13; 14.

$$3.2. \left(\frac{\sqrt{x} - \sqrt{y}}{\sqrt{x} + \sqrt{y}} + \frac{\sqrt{y}}{\sqrt{x}} \right) : \left(\sqrt{x} + \sqrt{y} - \frac{2\sqrt{xy}}{\sqrt{x} + \sqrt{y}} \right).$$

Оскільки $x > 0$ і $y \geq 0$, то $\sqrt{xy} = \sqrt{x}\sqrt{y}$. Маємо

$$\begin{aligned} & \frac{\sqrt{x}(\sqrt{x} - \sqrt{y}) + \sqrt{y}(\sqrt{x} + \sqrt{y})}{\sqrt{x}(\sqrt{x} + \sqrt{y})} : \frac{(\sqrt{x} + \sqrt{y})^2 - 2\sqrt{x}\sqrt{y}}{\sqrt{x} + \sqrt{y}} = \\ & = \frac{x - \sqrt{xy} + \sqrt{xy} + y}{\sqrt{x}(\sqrt{x} + \sqrt{y})} \cdot \frac{\sqrt{x} + \sqrt{y}}{x + 2\sqrt{x}\sqrt{y} + y - 2\sqrt{x}\sqrt{y}} = \\ & = \frac{(x + y)(\sqrt{x} + \sqrt{y})}{\sqrt{x}(\sqrt{x} + \sqrt{y})(x + y)} = \frac{1}{\sqrt{x}}. \end{aligned}$$

Відповідь. $\frac{1}{\sqrt{x}}$.

3.3. Знайдемо рівняння прямої AB . Маємо:

$$\frac{x-2}{-3-2} = \frac{y-3}{5-3}; 2(x-2) = -5(y-3); 2x-4 = -5y+15;$$

$$2x + 5y - 19 = 0.$$

Оскільки точка $C(a; 9)$ належить цій прямій, то

$$2a + 5 \cdot 9 - 19 = 0; 2a = -26; a = -13.$$

Відповідь. $a = -13$.

$$4.1^m. \text{ Подамо систему так: } \begin{cases} x + y + xy = 7, \\ (x + y)^2 - xy = 13. \end{cases}$$

Далі заміна $x + y = u$; $xy = v$. Маємо систему для u і v :

$$\begin{cases} u + v = 7, \\ u^2 - v = 13. \end{cases}$$

Розв'яжемо її способом додавання. Додавши відповідно ліві і праві частини рівнянь, маємо: $u^2 + u = 20$; $u^2 + u - 20 = 0$; $u_1 = 4$, тоді $v_1 = 3$ або $u_2 = -5$, тоді $v_2 = 12$:

$$1) \begin{cases} u = 4, \\ v = 3; \end{cases} \begin{cases} x + y = 4, \\ xy = 3. \end{cases} \text{ Звідси маємо пари чисел } (3; 1), (1; 3).$$

$$2) \begin{cases} u = -5, \\ v = 12; \end{cases} \begin{cases} x + y = -5, \\ xy = 12; \end{cases} \begin{cases} x = -5 - y, \\ (-5 - y)y = 12. \end{cases} y^2 + 5y + 12 = 0.$$

Немає розв'язків.

Відповідь. (3; 1), (1; 3).

4.2^m. Доведення. Нехай висоти трикутника $h_a = 15$ см, $h_b = 20$ см, $h_c = 12$ см проведено до сторін a , b і c відповідно.

Відомо, що площа трикутника $S = \frac{1}{2}ah_a = \frac{1}{2}bh_b = \frac{1}{2}ch_c$.

$$\text{Тоді } a = \frac{2S}{h_a}, b = \frac{2S}{h_b}, c = \frac{2S}{h_c}.$$

Перевіримо виконання рівності $a^2 + b^2 = c^2$.

Маємо:

$$\begin{aligned} a^2 + b^2 &= \left(\frac{2S}{h_a} \right)^2 + \left(\frac{2S}{h_b} \right)^2 = (2S)^2 \left(\frac{1}{15^2} + \frac{1}{20^2} \right) = (2S)^2 \left(\frac{1}{225} + \frac{1}{400} \right) = \\ &= (2S)^2 \cdot \frac{1}{144} = (2S)^2 \cdot \left(\frac{1}{12} \right)^2 = \left(\frac{2S}{12} \right)^2 = \left(\frac{2S}{h_c} \right)^2 = c^2. \end{aligned}$$

Отже, $a^2 + b^2 = c^2$; тому трикутник з висотами 12 см, 15 см і 20 см є прямокутним, що й треба було довести.

1.1	1.2	1.3	1.4	1.5	1.6	1.7	1.8	1.9	1.10	1.11	1.12
Г	Г	В	В	А	Г	В	Б	Г	В	Б	Б
2.1		2.2		2.3		2.4					
4		-1		-1		6 см					

Варіант 20

3.1. Нехай чисельник шуканого дробу дорівнює x , тоді його знаменник — $(x+5)$, а сам дріб — $\frac{x}{x+5}$. Після того як до чисельника додали 3, а до знаменника — 4, отримали дріб $\frac{x+3}{x+9}$. За умовою $\frac{x+3}{x+9} - \frac{x}{x+5} = \frac{1}{8}$. Розв'яжемо отримане рівняння:

$$\frac{x^2+3x+5x+15-x^2-9x}{(x+9)(x+5)} = \frac{1}{8}; 8(15-x) = x^2+14x+45;$$

$$x^2+22x-75=0; x_1=3; x_2=-25.$$

Якщо $x=3$, матимемо дріб $\frac{3}{8}$, якщо $x=-25$, то матимемо дріб $\frac{-25}{-20}$, який не задовольняє умову.

Відповідь. $\frac{3}{8}$.

3.2. ОДЗ знайдемо з умови:

$$9x - x^3 \neq 0; x(9 - x^2) \neq 0; x \neq 0; x \neq 3; x \neq -3.$$

На ОДЗ спростуємо:

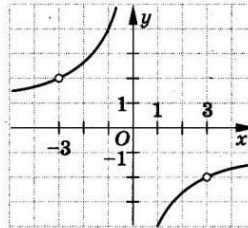
$$\frac{6x^2 - 54}{9x - x^3} = \frac{6(x^2 - 9)}{-x(x^2 - 9)} = -\frac{6}{x}.$$

Отже, графіком функції

$$y = \frac{6x^2 - 54}{9x - x^3} \text{ є гіпербола } y = -\frac{6}{x} \text{ з}$$

«виколотими» точками $(-3; 2)$ і $(3; -2)$.

Графік зображено на малюнку.



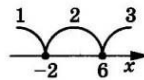
3.3. Нехай сторони паралелограма дорівнюють a см і b см, тоді $2(a+b)=26$ і $a+b=13$.

За властивістю діагоналей паралелограма: $d_1^2 + d_2^2 = 2(a^2 + b^2)$, де d_1 і d_2 — діагоналі паралелограма. Маємо: $7^2 + 11^2 = 2(a^2 + b^2)$; $a^2 + b^2 = 85$. Отже, маємо систему $\begin{cases} a+b=13, \\ a^2+b^2=85. \end{cases}$

Розв'яжемо її: $b=13-a$, тоді $a^2 + (13-a)^2 = 85$; $2a^2 - 26a + 84 = 0$; $a^2 - 13a + 42 = 0$. Звідси $a_1=6$ і тоді $b_1=7$ або $a_2=7$, і тоді $b_2=6$.
Відповідь. 6 см і 7 см.

4.1*. Рівняння рівносильне сукупності

$$\begin{cases} |x+2| - |x-6| = x, \\ |x+2| - |x-6| = -x. \end{cases}$$



Значення x , що перетворюють у нуль підмодульні вирази: $x=-2$ і $x=6$.

1) $x < -2$, тоді $|x+2| = -(x+2)$, $|x-6| = -(x-6)$. Маємо:

$$\begin{cases} -(x+2) + (x-6) = x, & [x = -8, -8 \in (-\infty; -2); 8 \notin (-\infty; -2). \\ -(x+2) + (x-6) = -x; & [x = 8; \end{cases}$$

Отже, $x=-8$ — корінь рівняння.

2) $-2 \leq x < 6$, тоді $|x+2| = x+2$, $|x-6| = -(x-6)$. Маємо:

$$\begin{cases} x+2 + (x-6) = x, & [x = 4, \\ x+2 + (x-6) = -x; & [x = \frac{4}{3}; \end{cases} \quad 4 \in [-2; 6] \text{ і } \frac{4}{3} \in [-2; 6].$$

Отже, $x=4$ і $x=\frac{4}{3}$ — корені рівняння.

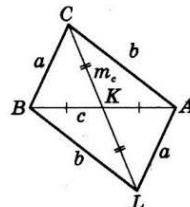
3) $x \geq 6$, тоді $|x+2| = x+2$, $|x-6| = x-6$. Маємо:

$$\begin{cases} x+2 - (x-6) = x, & [x = 8, 8 \in [6; +\infty); -8 \notin [6; +\infty). \\ x+2 - (x-6) = -x; & [x = -8; \end{cases}$$

Отже, $x=8$ — корінь рівняння.

Відповідь. $x_1=-8$; $x_2=4$; $x_3=\frac{4}{3}$; $x_4=8$.

4.2*. Нехай a, b, c — сторони трикутника; m_c — медіана, що проведена до сторони c . Продовжимо CK за точку K на відстань, що дорівнює CK . Отримали паралелограм $BCAL$, у якому $BL=CA=b$ і $CL=2m_c$.



У $\triangle CBL$, за нерівністю трикутника, маємо $2m_c < a+b$.

Аналогічно $2m_a < b+c$ і $2m_b < a+c$, де m_a і m_b — дві інші медіани. Додаючи почленно отримані нерівності, маємо: $2(m_a+m_b+m_c) < 2(a+b+c)$; $m_a+m_b+m_c < a+b+c$, що й треба було довести.

1.1	1.2	1.3	1.4	1.5	1.6	1.7	1.8	1.9	1.10	1.11	1.12
А	Б	Г	Б	Г	А	В	Б	Г	Г	В	Г
2.1	2.2	2.3	2.4								
$\frac{16}{b^2}$	$\sqrt{3}$	-1	15 см								

Варіант 21

3.1. Нехай x км/год — швидкість течії, тоді швидкість катера за течією $(20 + x)$ км/год, а проти течії — $(20 - x)$ км/год. 22 км за течією катер проплив за $\frac{22}{20+x}$ год, а 36 км проти течії — за $\frac{36}{20-x}$ год. 6 км на плоту можна подолати за $\frac{6}{x}$ год.

За умовою задачі маємо рівняння $\frac{22}{20+x} + \frac{36}{20-x} = \frac{6}{x}$, або

$$\frac{11}{20+x} + \frac{18}{20-x} = \frac{3}{x}.$$

Розв'яжемо його: $\frac{220 - 11x + 360 + 18x}{(20+x)(20-x)} = \frac{3}{x}$;

$$580x + 7x^2 = 1200 - 3x^2; x^2 + 58x - 120 = 0; x_1 = 2; x_2 = -60.$$

Другий корінь не задовольняє умову. Отже, швидкість течії 2 км/год.

Відповідь. 2 км/год.

3.2. $a_1 = -15,1; a_2 = -14,4$, тоді $d = a_2 - a_1 = -14,4 + 15,1 = 0,7$. Формула загального члена $a_n = a_1 + d(n-1); a_n = -15,1 + 0,7(n-1); a_n = 0,7n - 15,8$. Знайдемо члени арифметичної прогресії, найближчі до нуля. Перевіримо, чи не містить прогресія числа 0.

$$a_n = 0; 0,7n - 15,8 = 0; n = 22\frac{4}{7}. \text{ Отже, розглянемо } a_{22} \text{ і } a_{23}.$$

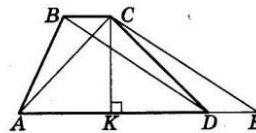
$$a_{22} = 0,7 \cdot 22 - 15,8 = -0,4; a_{23} = 0,7 \cdot 23 - 15,8 = 0,3.$$

Найменшим за модулем є $a_{23} = 0,3$.

Відповідь. $a_{23} = 0,3$.

3.3. Нехай $ABCD$ — задана в умові трапеція. Її основи $BC = 2$ см і $AD = 18$ см. діагоналі трапеції $BD = 15$ см, $AC = 7$ см.

Проведемо $CE \parallel BD$, де точка E належить продовженню сторони AD . Тоді $BCED$ — паралелограм, бо має дві пари паралельних сторін. Тоді $DE = BC = 2$ (см); $CE = BD = 15$ (см) і $AE = AD + DE = 18 + 2 = 20$ (см).



Проведемо CK — висоту $\triangle ACE$ і трапеції $ABCD$.

У $\triangle ACE$: $CK = \frac{2S_{\triangle ACE}}{AE}$. За формулою Герона:

$$S_{\triangle ACE} = \sqrt{p(p-a)(p-b)(p-c)}; p = \frac{a+b+c}{2} = \frac{20+15+7}{2} = 21;$$

$$S_{\triangle ACE} = \sqrt{21(21-20)(21-15)(21-7)} = 42 \text{ (см}^2\text{)}.$$

$$\text{Тоді } CK = \frac{2 \cdot 42}{20} = 4,2 \text{ (см)}.$$

$$\text{Площа трапеції } S = \frac{AD+BC}{2} \cdot CK = \frac{18+2}{2} \cdot 4,2 = 42 \text{ (см}^2\text{)}.$$

Відповідь. 42 см².

4.1м. $\left| \frac{x-4}{x-2} \right| (x^2+x-12) \leq 0$.

Розглянемо окремо рівняння $\left| \frac{x-4}{x-2} \right| (x^2+x-12) = 0$ і нерівність $\left| \frac{x-4}{x-2} \right| (x^2+x-12) < 0$.

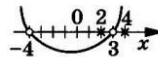
1) $\left| \frac{x-4}{x-2} \right| (x^2+x-12) = 0; x_1 = 4; x_2 = -4; x_3 = 3$.

2) $\left| \frac{x-4}{x-2} \right| (x^2+x-12) < 0$. Нерівність рівносильна системі:

$$\begin{cases} x \neq 4, \\ x \neq 2, & x \in (-4; 2) \cup (2; 3), \\ x^2 + x - 12 < 0; \end{cases}$$

Об'єднуючи, маємо $[-4; 2) \cup (2; 3] \cup \{4\}$.

Відповідь. $[-4; 2) \cup (2; 3] \cup \{4\}$.



4.2м. Маємо $S = rp = \frac{1}{2}ah_a = \frac{1}{2}bh_b = \frac{1}{2}ch_c$, де a, b, c — сторони трикутника; $p = \frac{a+b+c}{2}$ — його півпериметр. Тоді $h_a = \frac{2S}{a}$;

$$h_b = \frac{2S}{b}; h_c = \frac{2S}{c}.$$

$$\text{Отримаємо: } \frac{1}{h_a} + \frac{1}{h_b} + \frac{1}{h_c} = \frac{a}{2S} + \frac{b}{2S} + \frac{c}{2S} = \frac{a+b+c}{2S} = \frac{2p}{2S} = \frac{p}{rp} = \frac{1}{r},$$

що й треба було довести.

1.1	1.2	1.3	1.4	1.5	1.6	1.7	1.8	1.9	1.10	1.11	1.12
В	В	Г	Г	Б	Г	В	В	В	Б	А	Б
2.1	2.2	2.3	2.4								
17	(-1; -1), (4; 4)			14 олівців	10 см						

Варіант 22

3.1. Нехай басейн наповнюється через першу трубу за x год, тоді через другу — за $(x + 8)$ год, а через третю — за $(x + 2)$ год. За одну годину перша труба наповнює $\frac{1}{x}$ частину басейну, друга — $\frac{1}{x+8}$ частину басейну, а третя — $\frac{1}{x+2}$ частину басейну. За умовою, $\frac{1}{x} = \frac{1}{x+2} + \frac{1}{x+8}$.

Розв'яжемо отримане рівняння:

$$\frac{1}{x} = \frac{x+8+x+2}{(x+2)(x+8)}; \frac{1}{x} = \frac{2x+10}{x^2+10x+16};$$

$$x^2 + 10x + 16 = 2x^2 + 10x; x^2 = 16.$$

Ураховуючи, що $x > 0$, маємо $x = 4$.

Отже, через першу трубу для наповнення басейну необхідно 4 год, через другу — 12 год, через третю — 6 год.

Відповідь. 4 год; 12 год; 6 год.

3.2. Область визначення функції знайдемо із системи $y = \sqrt{x^2 - 3x - 10} - \frac{5}{x^2 - 9}$.

Розв'яжемо першу нерівність:

$$x^2 - 3x - 10 \geq 0; x^2 - 3x - 10 = 0; x_1 = 5; x_2 = -2.$$

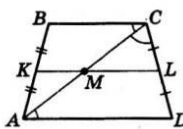
Маємо: $x \in (-\infty; -2] \cup [5; +\infty)$.

Необхідно врахувати, що $x^2 \neq 9$, тобто $x \neq -3; x \neq 3$. Тому остаточно отримуємо: $x \in (-\infty; -3) \cup (-3; -2] \cup [5; +\infty)$.

Відповідь. $(-\infty; -3) \cup (-3; -2] \cup [5; +\infty)$.



3.3. Нехай $ABCD$ — рівнобічна трапеція, що задана в умові, KL — її середня лінія, M — точка перетину діагоналі AC і KL . За умовою, $KM = 4$ см, $ML = 5$ см.



Оскільки $ML \parallel AD$ і L — середина CD , то, за теоремою Фалеса: M — середина AC .

Тому ML — середня лінія $\triangle ACD$ і $AD = 2ML = 2 \cdot 5 = 10$ (см).

Аналогічно, KM — середня лінія $\triangle ABC$ і $BC = 2KM = 2 \cdot 4 = 8$ (см).

$\angle BCA = \angle ACD$ (за умовою); $\angle CAD = \angle BCA$ (як внутрішні різносторонні кути, утворені при перетині паралельних прямих AD і BC січною AC). Тому $\angle ACD = \angle CAD$; $\triangle ADC$ — рівнобедрений і $CD = AD = 10$ (см). $AB = CD = 10$ (см).

Тоді периметр $P = 3 \cdot 10 + 8 = 38$ (см).

Відповідь. 38 см.

4.1^а. З умови випливає, що $\frac{b_1}{1-q} = 4$.

Розглянемо послідовність, що складається з кубів членів даної прогресії: $b_1^3; b_1^3q^3; b_1^3q^6; \dots$ Оскільки $|q| < 1$, то $|q^3| < 1$. А отже, дана послідовність — нескінченна геометрична прогресія, у якій перший член b_1^3 і знаменник q^3 . Тоді $\frac{b_1^3}{1-q^3} = 192$.

Маємо систему:

$$\begin{cases} \frac{b_1}{1-q} = 4, \\ \frac{b_1}{1-q} \cdot \frac{b_1^2}{1+q+q^2} = 192; \end{cases} \quad \begin{cases} b_1 = 4(1-q), \\ 4 \cdot \frac{b_1^2}{1+q+q^2} = 192; \end{cases}$$

$$\begin{cases} b_1 = 4(1-q), \\ 16(1-q)^2 = 48(1+q+q^2). \end{cases}$$

Маємо $2q^2 + 5q + 2 = 0$.

Ураховуючи, що $|q| < 1$, отримуємо $q = -\frac{1}{2}$.

Відповідь. $-\frac{1}{2}$.

4.2^а. Позначимо $CB = a$, $AC = b$, $AB = c$.

Оскільки CC_1 — бісектриса $\triangle ABC$, то $\frac{AC_1}{C_1B} = \frac{AC}{BC}$.

Позначимо $AC_1 = x$, тоді $C_1B = c - x$.

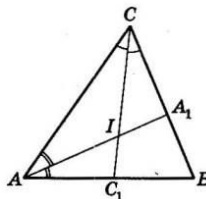
$$\text{Маємо: } \frac{x}{c-x} = \frac{b}{a}; x = \frac{bc}{a+b}.$$

У $\triangle ACC_1$: AI — бісектриса, тому

$$\frac{CI}{IC_1} = \frac{AC}{AC_1}; \frac{CI}{IC_1} = \frac{b}{\frac{bc}{a+b}} = \frac{a+b}{c}.$$

Отже, $\frac{CI}{IC_1} = \frac{12+18}{15} = 2:1$.

Відповідь. 2 : 1.



1.1	1.2	1.3	1.4	1.5	1.6	1.7	1.8	1.9	1.10	1.11	1.12
В	Г	А	А	В	В	В	Б	Г	Б	А	В
2.1	2.2	2.3	2.4								
6; -3	$y = -1,5x$	31,5	60° або 120°								

Варіант 23

3.1. Нехай перший робітник, працюючи самостійно, виконує завдання за x год, тоді другий — за $(x+6)$ год. Перший за одну годину виконує $\frac{1}{x}$ частину роботи, а другий — $\frac{1}{x+6}$

частину роботи. За умовою, $\frac{1}{x} + \frac{1}{x+6} = \frac{1}{4}$.

Розв'яжемо отримане рівняння:

$$\frac{x+6+x}{x(x+6)} = \frac{1}{4}; 4(2x+6) = x^2+6x; x^2-2x-24=0; x_1=6; x_2=-4.$$

Другий корінь не задовольняє умову задачі. Отже, перший робітник, працюючи самостійно, виконує роботу за 6 год, а другий — за 12 год.

Відповідь. 6 год; 12 год.

$$\begin{aligned} 3.2. \quad & \sqrt{\frac{(\sqrt{a}-1)(a\sqrt{a}-1)}{a+\sqrt{a}+1}} + \sqrt{a} = \sqrt{\frac{(\sqrt{a}-1)((\sqrt{a})^3-1)}{a+\sqrt{a}+1}} + \sqrt{a} = \\ & = \sqrt{\frac{(\sqrt{a}-1)(\sqrt{a}-1)((\sqrt{a})^2+\sqrt{a}+1)}{a+\sqrt{a}+1}} + \sqrt{a} = \sqrt{(\sqrt{a}-1)^2} + \sqrt{a} = \\ & = |\sqrt{a}-1| + \sqrt{a}. \end{aligned}$$

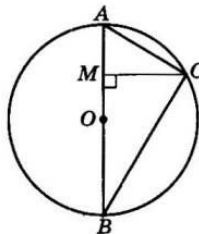
Оскільки $a=0,97$, то $\sqrt{a}-1 < 0$, і тому $|\sqrt{a}-1| = -(\sqrt{a}-1)$.

А отже, маємо $-\sqrt{a}+1+\sqrt{a}=1$.

Відповідь. 1.

3.3. Нехай точка O — центр кола, OA — його радіус; $CM \perp OA$, де $M \in OA$, $CM = 24$ см. За умовою, $OM : MA = 5 : 8$. Позначимо $OM = 5x$; $MA = 8x$.

Продовжимо AO до другого перетину з колом у точці B . AB — діаметр кола. Тому $\angle ACB = 90^\circ$ (як вписаний кут, що спирається на діаметр). Тому CM — висота прямокутного трикутника, що проведена до гіпотенузи.



$$CM^2 = AM \cdot MB; OB = OA = 5x + 8x = 13x;$$

$$BM = BO + OM = 13x + 5x = 18x.$$

$$\text{Отже, } 24^2 = 8x \cdot 18x; x^2 = 4; x = 2. \text{ Тоді } OA = 13 \cdot 2 = 26 \text{ (см).}$$

Довжина кола $l = 2\pi r = 52\pi$ (см).

Відповідь. 52π см.

$$4.1^*. \quad \frac{n^3}{6} + \frac{n^2}{2} + \frac{n}{3} = n \cdot \left(\frac{n^2}{6} + \frac{n}{2} + \frac{1}{3} \right) = n \cdot \frac{n^2+3n+2}{6} = \frac{n(n+1)(n+2)}{6}.$$

Оскільки n — натуральне число, то $n(n+1)(n+2)$ — добуток трьох послідовних натуральних чисел. Серед них є хоча б одне, кратне 2, і є рівно одне число, кратне 3. Тому вираз

$n(n+1)(n+2)$ кратний 6, тобто число $\frac{n(n+1)(n+2)}{6}$ є натураль-

ним, а тому й число $\frac{n^3}{6} + \frac{n^2}{2} + \frac{n}{3}$ — натуральне, що й треба було довести.

$$4.2^*. \quad \text{Маємо півпериметр трикутника } p = \frac{15+27}{2} = 21 \text{ (см).}$$

За відомою формулою $S=pr$, де r — радіус вписаного кола, отримаємо $S = 21 \cdot 4 = 84$ (см²). З іншого боку:

$$S = \sqrt{p(p-a)(p-b)(p-c)}.$$

Позначимо одну з невідомих сторін x см, тоді інша дорівнює $27-x$. Отримаємо: $84 = \sqrt{21(21-15)(21-x)(21-(27-x))}$;

$$84^2 = 21 \cdot 6(21-x)(x-6); 56 = 21x - 126 - x^2 + 6x; x^2 - 27x + 182 = 0; x_1 = 13; x_2 = 14.$$

Отже, одна із сторін буде 13 см, тоді друга — $27 - 13 = 14$ (см).

$$\text{Маємо } \cos \alpha = \frac{13^2 + 14^2 - 15^2}{2 \cdot 13 \cdot 14} = \frac{5}{13}.$$

Відповідь. $\frac{5}{13}$.

1.1	1.2	1.3	1.4	1.5	1.6	1.7	1.8	1.9	1.10	1.11	1.12
Б	Б	Г	Б	А	В	Б	Б	Г	В	Б	Г
2.1	2.2	2.3	2.4								
$\frac{5a-a^2-6}{3a+9}$	$p=2$ або $p=-2$	(3; 2), (0,4; -0,6)	10 см								

Варіант 24

3.1. Нехай перший робітник за планом мав виготовити x деталей, а другий — y деталей. Тоді $x + y = 250$.

Оскільки перший перевиконав план на 10%, то виготовив $x + 0,1x = 1,1x$ деталей; другий перевиконав план на 15%, а тому виготовив $y + 0,15y = 1,15y$ деталей. За умовою, $1,1x + 1,15y = 280$.

$$\text{Маємо систему } \begin{cases} x + y = 250, \\ 1,1x + 1,15y = 280. \end{cases} \text{ Розв'яжемо її: } x = 250 - y;$$

$$1,1(250 - y) + 1,15y = 280; 0,05y = 5; y = 100, \text{ тоді } x = 150.$$

Отже, перший робітник мав виготовити 150 деталей, а другий — 100 деталей.

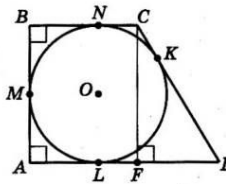
Відповідь. 150 деталей; 100 деталей.

3.2. Доведення. Оскільки $0,5x^2 - x + 2 = 0,5(x^2 - 2x + 4)$ і $0,5x^3 + 4 = 0,5(x^3 + 8) = 0,5(x + 2)(x^2 - 2x + 4)$, то маємо

$$\begin{aligned} & \left(\frac{1,5x - 4}{0,5(x^2 - 2x + 4)} - \frac{2x - 14}{0,5(x + 2)(x^2 - 2x + 4)} + \frac{1}{x + 2} \right) : \frac{4}{x + 2} = \\ & = \frac{(1,5x - 4)(x + 2) - (2x - 14) + 0,5(x^2 - 2x + 4)}{0,5(x + 2)(x^2 - 2x + 4)} \cdot \frac{x + 2}{4} = \\ & = \frac{1,5x^2 - 4x + 3x - 8 - 2x + 14 + 0,5x^2 - x + 2}{2(x + 2)(x^2 - 2x + 4)} = \frac{2x^2 - 4x + 8}{2(x^2 - 2x + 4)} = 1. \end{aligned}$$

Отже, значення виразу не залежить від значення змінної, що й треба було довести.

3.3. Нехай у прямокутну трапецію $ABCD$, у якій $\angle A = \angle B = 90^\circ$, вписано коло з радіусом 6 см. Тоді $AB = 12$ см. Нехай точки M, N, K, L — точки дотику сторін трапеції AB, BC, CD і AD відповідно. За властивістю дотичних та використовуючи умову, матимемо: $AM = MB = BN = AL = 6$ (см), $DK = DL = 8$ (см).



Позначимо $KC = CN = x$. Проведемо висоту CF .

Маємо $LF = CN = x$; тоді $DF = 8 - x$.

Крім того, $CF = AB = 12$ см; $DC = 8 + x$.

У $\triangle CFD$, за теоремою Піфагора, $CD^2 = CF^2 + FD^2$,

$$(8 + x)^2 = 12^2 + (8 - x)^2;$$

$$64 + 16x + x^2 = 144 + 64 - 16x + x^2; 32x = 144; x = 4,5.$$

Тоді $BC = 6 + 4,5 = 10,5$ (см), $AD = AL + LD = 6 + 8 = 14$ (см).

Площа трапеції:

$$S = \frac{AD + BC}{2} \cdot AB = \frac{14 + 10,5}{2} \cdot 12 = 147 \text{ (см}^2\text{)}.$$

Відповідь. 147 см².

4.1^м. Зазначимо, що кратне порівняння має місце тільки для додатних чисел. Використовуючи теорему Вієта й умову, одержимо:

$$\begin{cases} x_1 + x_2 = \frac{3k + 2}{4}, \\ x_1 x_2 = \frac{k^2 - 1}{4}, \\ x_2 = 3x_1. \end{cases} \quad \begin{cases} x_1 + 3x_1 = \frac{3k + 2}{4}, \\ x_1 3x_1 = \frac{k^2 - 1}{4}, \\ x_2 = 3x_1. \end{cases} \quad \begin{cases} x_1 = \frac{3k + 2}{16}, \\ 3 \left(\frac{3k + 2}{16} \right)^2 = \frac{k^2 - 1}{4}, \\ x_2 = 3x_1. \end{cases}$$

Розв'язуючи друге рівняння, одержимо $37k^2 - 36k - 76 = 0$;

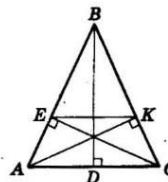
$$k_1 = -\frac{38}{37}; k^2 = 2.$$

1) $k_1 = -\frac{38}{37}$, тоді $x_1 = \frac{3 \left(-\frac{38}{37} \right) + 2}{16} < 0$. Тому $k_1 = -\frac{38}{37}$ не підходить.

$$2) k_2 = 2; \text{ тоді } x_1 = \frac{1}{2}; x_2 = \frac{3}{2}.$$

Відповідь. $k = 2$.

4.2^м. Нехай задано рівнобедрений трикутник ABC , у якого $AC = 6$ см; $AB = BC = 9$ см; BD, CE і AK — висоти трикутника. Оскільки трикутник гострокутний, то основи висот — точки E і K належать сторонам AB і BC відповідно.



$\triangle ADB \sim \triangle AEC$ (за двома кутами). Тоді

$$\frac{AD}{AB} = \frac{AE}{AC}; \frac{3}{9} = \frac{AE}{6}; AE = 2 \text{ (см)}.$$

$$BE = 9 - 2 = 7 \text{ (см)}.$$

$\triangle BEK \sim \triangle BAC$ (за двома кутами). Тоді

$$\frac{BE}{EK} = \frac{BA}{AC}; \frac{7}{EK} = \frac{9}{6}; EK = \frac{42}{9}; EK = 4\frac{2}{3} \text{ (см)}.$$

Відповідь. $4\frac{2}{3}$ см.

1.1	1.2	1.3	1.4	1.5	1.6	1.7	1.8	1.9	1.10	1.11	1.12
В	В	В	Б	Б	Б	В	Г	Б	Б	Б	А
2.1	2.2	2.3	2.4								
$-\frac{4}{b}$	1; 2	$(-\infty; 2]$	45°								

Варіант 25

3.1. Нехай початковий сплав містить x г срібла. Тоді відсоток срібла у сплаві був $\frac{x}{x+20} \cdot 100\%$. Після того як до сплаву додали 5 г срібла і 10 г золота, відсоток срібла став $\frac{x+5}{x+35} \cdot 100\%$. За умовою, $\frac{x+5}{x+35} \cdot 100\% - \frac{x}{x+20} \cdot 100\% = 5\%$;

$$\frac{x+5}{x+35} - \frac{x}{x+20} = \frac{1}{20}$$

Розв'яжемо отримане рівняння:

$$\frac{x^2 + 5x + 20x + 100 - x^2 - 35x}{(x+35)(x+20)} = \frac{1}{20};$$

$$20(100 - 10x) = x^2 + 55x + 700;$$

$$x^2 + 255x - 1300 = 0; x_1 = 5; x_2 = -260.$$

Другий корінь не задовольняє умову задачі. Отже, у початковому сплаві було 5 г срібла.
Відповідь. 5 г.

3.2.
$$\begin{cases} 3xy + y = 7, \\ 3xy - x = 4. \end{cases}$$

Помножимо друге рівняння на (-1) і додамо до першого:

$$\begin{cases} 3xy + y = 7, \\ -3xy + x = -4 \\ \hline x + y = 3. \end{cases}$$

Звідси $y = 3 - x$. Підставимо у друге рівняння початкової системи $3x(3 - x) - x = 4$; $3x^2 - 8x + 4 = 0$.

Маємо $x_1 = 2$; $x_2 = \frac{2}{3}$. Тоді $y_1 = 3 - 2 = 1$; $y_2 = 3 - \frac{2}{3} = 2\frac{1}{3}$.

Відповідь. $(2; 1), (\frac{2}{3}; 2\frac{1}{3})$.

3.3. Нехай ABC — заданий прямокутний трикутник; $\angle C = 90^\circ$, CK — його бісектриса. За умовою, $KB = 15$ см; $AK = 20$ см. Тоді $AB = 35$ см.

За властивістю бісектриси: $\frac{AC}{CB} = \frac{AK}{KB}$;

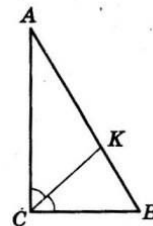
$$\frac{AC}{CB} = \frac{20}{15} = \frac{4}{3}; \text{ позначимо } AC = 4x; CB = 3x.$$

У $\triangle ABC$: $AB^2 = AC^2 + CB^2$; $35^2 = (4x)^2 + (3x)^2$;
 $35^2 = 25x^2$; $x^2 = 49$; $x = 7$.

Тоді $AC = 4 \cdot 7 = 28$ (см), $CB = 3 \cdot 7 = 21$ (см).

Радіус вписаного кола $r = \frac{a+b-c}{2}$;

$$r = \frac{28 + 21 - 35}{2} = 7 \text{ (см)}.$$



Відповідь. 7 см.

4.1^м. Використаємо метод математичної індукції.

1) Якщо $n=1$, то $4^n + 15n - 1 = 4 + 15 - 1 = 18$ — кратне 9.

2) Припустимо, що для $n=k$ умова задачі виконується, тобто $4^k + 15k - 1$ — кратне 9.

3) Доведемо для $n=k+1$, що $4^{k+1} + 15(k+1) - 1$ — кратне 9. Маємо: $4^k \cdot 4 + 15k + 15 - 1 = (4^k + 15k - 1) + (3 \cdot 4^k + 15) = (4^k + 15k - 1) + 3(4^k + 5)$.

Число $4^k + 15k - 1$ — кратне 9 (за припущенням). Оскільки $4^k = (3+1)^k$, то 4^k для будь-якого k при діленні на 3 дає остачу 1, а тому число $4^k + 5$ для будь-якого k кратне 3, а отже, вираз $3(4^k + 5)$ для будь-якого k кратний 9.

Тоді $(4^k + 15k - 1) + 3(4^k + 5)$ — кратне 9.

4) Довели для будь-якого n .

4.2^м. Відстань між центром даного кола $Q_1(1; -3)$ і центром шуканого $Q(-2; 1)$ дорівнює $Q_1Q = \sqrt{(-2-1)^2 + (1+3)^2} = 5$. Нехай r — радіус шуканого кола, $r_1 = 2$ — радіус даного кола.

Кола можуть мати як внутрішній, так і зовнішній дотик. Розглянемо ці випадки.

1. Зовнішній дотик. Тоді $r + r_1 = 5$; $r + 2 = 5$; $r = 3$. Отже, рівняння кола $(x+2)^2 + (y-1)^2 = 9$.

2. Внутрішній дотик. Тоді $|r - r_1| = 5$; $|r - 2| = 5$; $r - 2 = 5$ або $r - 2 = -5$. Ураховуючи, що $r > 0$, маємо $r = 7$. Отже, рівняння кола $(x+2)^2 + (y-1)^2 = 49$.

Відповідь. $(x+2)^2 + (y-1)^2 = 9$ або $(x+2)^2 + (y-1)^2 = 49$.

1.1	1.2	1.3	1.4	1.5	1.6	1.7	1.8	1.9	1.10	1.11	1.12
В	Г	Б	Б	А	Г	Б	Г	Б	Б	В	Г
2.1	2.2	2.3	2.4								
$4,34 \cdot 10^{11}$	$5a^3\sqrt{a}$	$[0; 4]$	$y = 1$ або $y = -5$								

3.1. Нехай до ятки завезли x кг апельсинів і y кг бананів. За умовою, $x - y = 100$.

Після того як продали 80% апельсинів, у ятці залишилося 20%, тобто $0,2x$ кг, а після того як продали 30% бананів, у ятці залишилося 70%, тобто $0,7y$ кг. За умовою, $0,7y - 0,2x = 105$. Маємо систему $\begin{cases} x - y = 100, \\ 0,7y - 0,2x = 105. \end{cases}$

Розв'яжемо її: $x = 100 + y$; $0,7y - 0,2(100 + y) = 105$; $0,7y - 20 - 0,2y = 105$; $0,5y = 125$; $y = 250$ (кг), тоді $x = 350$ (кг). Отже, було завезено 350 кг апельсинів і 250 кг бананів.

Відповідь. 350 кг апельсинів і 250 кг бананів.

3.2. $(2^2 + 4^2 + 6^2 + \dots + 100^2) - (1^2 + 3^2 + 5^2 + \dots + 99^2) = (2^2 - 1^2) + (4^2 - 3^2) + (6^2 - 5^2) + \dots + (100^2 - 99^2) = (2-1)(2+1) + (4-3)(4+3) + (6-5)(6+5) + \dots + (100-99)(100+99) = 3 + 7 + 11 + \dots + 199$.

Отримали суму арифметичної прогресії, що складається з 50 членів; $a_1 = 3$; $a_{50} = 199$. Її сума $S_{50} = \frac{a_1 + a_{50}}{2} \cdot 50$. Отже, значення виразу, що дано в умові, дорівнює $\frac{3+199}{2} \cdot 50 = 5050$.

Відповідь. 5050.

3.3. У $\triangle ABC$, у якого $AB = 29$ см, вписано коло з центром K , L , M — точки дотику відповідно до сторін AB , AC і BC . За умовою $AL = 24$ см, $CL = 1$ см.

За властивістю дотичних маємо: $AK = AL = 24$ см; $CM = CL = 1$ см.

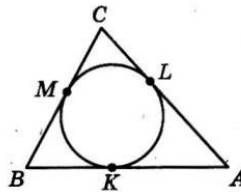
Тоді $KB = AB - AK = 29 - 24 = 5$ (см), а тому й $BM = BK = 5$ см. Отже, $AC = 24 + 1 = 25$ (см), $BC = BM + MC = 5 + 1 = 6$ (см).

Отже, маємо трикутник зі сторонами 29 см, 25 см і 6 см. Знайдемо його площу за формулою Герона:

$$S = \sqrt{p(p-a)(p-b)(p-c)}, \text{ де } p = \frac{29+25+6}{2} = 30 \text{ (см)}.$$

$$\text{Отже, } S = \sqrt{30(30-29)(30-25)(30-6)} = 60 \text{ (см}^2\text{)}.$$

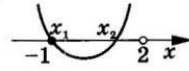
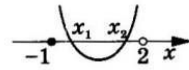
Відповідь. 60 см².



4.1^м. Нехай $f(x) = 4x^2 - (3a+1)x - a - 2$; $x_0 = \frac{-(3a+1)}{8} = \frac{3a+1}{8}$;
 $D = (3a+1)^2 - 16(-a-2) = 9a^2 + 22a + 33$.

Корені x_1 і x_2 належать проміжку $[-1; 2]$ при виконанні умови:

$$\begin{cases} D \geq 0, \\ -1 < x_0 < 2, \\ f(-1) \geq 0, \\ f(2) > 0; \end{cases} \begin{cases} 9a^2 + 22a + 33 \geq 0, \\ -1 < \frac{3a+1}{8} < 2, \\ 4 + (3a+1) - a - 2 \geq 0, \\ 16 - 2(3a+1) - a - 2 > 0. \end{cases}$$



Перша нерівність виконується для всіх a ($D_1 = 22^2 - 4 \cdot 9 \cdot 33 < 0$).

$$\text{Отже, маємо: } \begin{cases} -8 < 3a+1 < 16, \\ 2a \geq -3, \\ -7a > -12; \end{cases} \begin{cases} -3 < a < 5, \\ a \geq -\frac{3}{2}, \\ a < \frac{12}{7}; \end{cases} a \in \left[-\frac{3}{2}; \frac{12}{7}\right).$$

Відповідь. $a \in \left[-\frac{3}{2}; \frac{12}{7}\right)$.

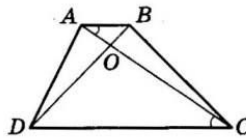
4.2^м. Нехай $ABCD$ — задана в умові трапеція. $S_{\triangle AOB} = n^2$;
 $S_{\triangle COD} = k^2$. $\triangle AOB \sim \triangle COD$ (за двома

кутами); $\left(\frac{AO}{OC}\right)^2 = \frac{n^2}{k^2}$; звідси $\frac{AO}{OC} = \frac{n}{k}$.

Оскільки $\triangle AOD$ і $\triangle DOC$ мають однакові висоти, то їхні площі відносяться так само, як основи, тобто

$$\frac{S_{\triangle AOD}}{S_{\triangle DOC}} = \frac{AO}{OC} = \frac{n}{k}; S_{\triangle AOD} = k^2 \cdot \frac{n}{k} = kn.$$

Аналогічно $S_{\triangle BOC} = kn$. Тоді площа трапеції $S = n^2 + k^2 + kn + kn = n^2 + 2nk + k^2 = (n+k)^2$, що й треба було довести.



1.1	1.2	1.3	1.4	1.5	1.6	1.7	1.8	1.9	1.10	1.11	1.12
-----	-----	-----	-----	-----	-----	-----	-----	-----	------	------	------

А	Б	В	В	В	Г	В	В	В	Г	В	А
---	---	---	---	---	---	---	---	---	---	---	---

2.1	2.2	2.3	2.4
$19 + 3\sqrt{2}$	(1; -1), (-1; -3)	$\frac{1}{9}$	$16\sqrt{3} \text{ см}^2$

Варіант 27

3.1. Нехай $\overline{ab} = 10a + b$ — шукане двоцифрове число. Тоді, за умовою, $3ab = 10a + b$. Також, за умовою, $ab + 18 = \overline{ba}$, тобто $10a + b + 18 = 10b + a$. Звідси маємо: $9b - 9a = 18$; $b - a = 2$.

Отримали систему $\begin{cases} b - a = 2, \\ 3ab = 10a + b. \end{cases}$ Розв'яжемо її. З першого рівняння: $b = a + 2$. Тоді, підставляючи у друге рівняння, $3a(a + 2) = 10a + a + 2$; $3a^2 + 6a = 11a + 2$; $3a^2 - 5a - 2 = 0$. Ураховуючи той факт, що a — цифра, отримуємо $a = 2$. Тоді $b = 4$. Шукане число дорівнює 24.

Відповідь. 24.

3.2. Доведення. Спростимо даний вираз за діями.

$$\begin{aligned} 1) & \frac{3a+2}{3a^2+1} - \frac{18a^3-a-9}{9a^4-1} + \frac{3a-2}{3a^2-1} = \\ & = \frac{3a+2}{3a^2+1} - \frac{18a^3-a-9}{(3a^2+1)(3a^2-1)} + \frac{3a-2}{3a^2-1} = \\ & = \frac{(3a+2)(3a^2-1) - (18a^3-a-9) + (3a-2)(3a^2+1)}{(3a^2+1)(3a^2-1)} = \\ & = \frac{9a^3-3a+6a^2-2-18a^3+a+9+9a^3+3a-6a^2-2}{(3a^2+1)(3a^2-1)} = \\ & = \frac{a+5}{(3a^2+1)(3a^2-1)}. \end{aligned}$$

$$\begin{aligned} 2) & \frac{a+5}{(3a^2+1)(3a^2-1)} : \frac{a^2+10a+25}{9a^4-1} = \frac{(a+5)(3a^2+1)(3a^2-1)}{(3a^2+1)(3a^2-1)(a+5)^2} = \\ & = \frac{1}{a+5}. \end{aligned}$$

Отже, заданий в умові вираз при всіх допустимих значеннях a тотожно дорівнює виразу $\frac{1}{a+5}$. Якщо $a < -5$, то

$$a + 5 < 0, \text{ а тому й } \frac{1}{a+5} < 0.$$

Отже, заданий в умові вираз набуває від'ємних значень для всіх $a < -5$.

3.3. Нехай кут між векторами \vec{a} і \vec{b} дорівнює α . Тоді матимемо: $(\vec{a} + 2\vec{b})(\vec{a} - \vec{b}) = -17$; $\vec{a}^2 - \vec{a}\vec{b} + 2\vec{a}\vec{b} - \vec{b}^2 = -17$; $|\vec{a}|^2 + \vec{a}\vec{b} - 2|\vec{b}|^2 = -17$; $2^2 + 2 \cdot 3 \cdot \cos\alpha - 2 \cdot 3^2 = -17$; $6\cos\alpha = -3$; $\cos\alpha = -\frac{1}{2}$. Тому $\alpha = 120^\circ$.

Відповідь. 120° .

$$4.1^m. \frac{6}{(x+1)(x+2)} + \frac{8}{(x-1)(x+4)} = 1;$$

$$\frac{6}{x^2+3x+2} + \frac{8}{x^2+3x-4} = 1. \text{ Зробимо заміну } x^2 + 3x = t.$$

$$\text{Тоді } \frac{6}{t+2} + \frac{8}{t-4} = 1; \frac{6}{t+2} + \frac{8}{t-4} - 1 = 0;$$

$$\frac{6(t-4) + 8(t+2) - (t+2)(t-4)}{(t+2)(t-4)} = 0;$$

$$\frac{6t-24+8t+16-t^2-2t+4t+8}{(t+2)(t-4)} = 0; \frac{-t^2+16t}{(t+2)(t-4)} = 0;$$

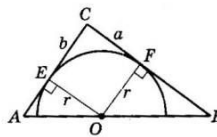
$$t_1 = 0; t_2 = -3.$$

$$1) t_1 = 0; x^2 + 3x = 0; x(x+3) = 0; x_1 = 0; x_2 = -3;$$

$$2) t_2 = 16; x^2 + 3x = 16; x^2 + 3x - 16 = 0; x_{3,4} = \frac{-3 \pm \sqrt{73}}{2}.$$

Відповідь. $-3; 0; \frac{-3 \pm \sqrt{73}}{2}$.

4.2^m. Нехай у $\triangle ABC$ зі сторонами $AC = b = 13$ см; $AB = c = 14$ см і $BC = a = 15$ см вписано півколо з радіусом r указаним способом. Центром кола є точка O , коло дотикається до сторони AC у точці E , а до сторони BC — у точці F .



Знайдемо площу $\triangle ABC$ як суму площ $\triangle ACO$ і $\triangle OCB$:

$$S_{\triangle ABC} = S_{\triangle ACO} + S_{\triangle OCB} = \frac{1}{2} \cdot AC \cdot OE + \frac{1}{2} \cdot BC \cdot OF = \frac{1}{2} br + \frac{1}{2} ar,$$

$$\text{тоді } S_{\triangle ABC} = \frac{1}{2} r(a+b) \text{ і } r = \frac{2S_{\triangle ABC}}{a+b}.$$

Знайдемо $S_{\triangle ABC}$ за формулою Герона:

$$S = \sqrt{p(p-a)(p-b)(p-c)}, \text{ де } p = \frac{a+b+c}{2} \text{ — півпериметр.}$$

$$p = \frac{13+14+15}{2} = 21;$$

$$S = \sqrt{21(21-15)(21-14)(21-13)} = \sqrt{21 \cdot 6 \cdot 7 \cdot 8} = 84 \text{ (см}^2\text{)}.$$

$$\text{Тоді } r = \frac{2 \cdot 84}{15+13} = 6 \text{ (см)}.$$

$$\text{Довжина півкола } \frac{l}{2} = \frac{2\pi r}{2} = \pi r = 6\pi \text{ (см)}.$$

Відповідь. 6π см.

1.1	1.2	1.3	1.4	1.5	1.6	1.7	1.8	1.9	1.10	1.11	1.12
A	B	Г	Б	В	Б	В	Б	Г	A	B	Г

2.1	2.2	2.3	2.4
3; -4	$k = 0; b = -2$	185	13 см

Варіант 28

3.1. Нехай власна швидкість катера — x км/год, тоді його швидкість за течією — $(x+2)$ км/год, а проти течії $(x-2)$ км/год. 40 км за течією він подолав за $\frac{40}{x+2}$ год, а 16 км

проти течії — за $\frac{16}{x-2}$ год. За умовою задачі, $\frac{40}{x+2} + \frac{16}{x-2} = 3$.

Розв'яжемо отримане рівняння: $\frac{40x-80+16x+32}{(x+2)(x-2)} = 3$;

$$56x-48=3(x^2-4); 3x^2-56x+36=0; x_1=18; x_2=\frac{2}{3}.$$

Другий корінь не задовольняє умову задачі. Отже, швидкість катера 18 км/год.

Відповідь. 18 км/год.

3.2. Нехай a, b і c — послідовні члени геометричної прогресії, тоді $b^2=ac$.

Розглянемо різницю $(a^2+b^2)(b^2+c^2)-(ab+bc)^2$. Маємо: $a^2b^2+b^4+a^2c^2+b^2c^2-(a^2b^2+2ab^2c+b^2c^2)=b^4+a^2c^2-2ab^2c=(b^2-ac)^2=0^2=0$.

Отже, $(a^2+b^2)(b^2+c^2)=(ab+bc)^2$, що й треба було довести.

3.3. Нехай коло вписано у прямокутний трикутник ABC , точки K, L, M — точки дотику кола відповідно зі сторонами AC, AB і BC .

За умовою, $CK=2$ см; $KA=3$ см.

Тоді, за властивістю дотичних, $CM=CK=2$ см; $AL=AK=3$ см.

Позначимо $BL=BM=x$. Тоді,

за теоремою Піфагора, $AC^2+CB^2=AB^2$; $5^2+(2+x)^2=(3+x)^2$; $25+4+4x+x^2=9+6x+x^2$; $x=10$ (см).

Тоді $AB=x+3=10+3=13$ (см), а радіус кола, описаного навколо трикутника, $R=\frac{AB}{2}=\frac{13}{2}=6,5$ (см).

Відповідь. 6,5 см.

4.1^м. Згрупуємо $((x+2)(x+12))((x+3)(x+8))=4x^2$;

$$(x^2+14x+24)(x^2+11x+24)=4x^2.$$

Оскільки $x=0$ не є коренем рівняння, то розділимо ліву і праву частини на x^2 . Маємо:

$$\frac{x^2+14x+24}{x} \cdot \frac{x^2+11x+24}{x} = 4; \left(x+14+\frac{24}{x}\right)\left(x+11+\frac{24}{x}\right) = 4.$$

Заміна $x+11+\frac{24}{x}=t$. Тоді $t(t+3)=4$; $t^2+3t-4=0$; $t_1=1$;

$$t_2=-4.$$

$$1) x+11+\frac{24}{x}=1; \begin{cases} x^2+10x+24=0, \\ x \neq 0; \end{cases} x_1=-4; x_2=-6.$$

$$2) x+11+\frac{24}{x}=-4; \begin{cases} x^2+15x+24=0, \\ x \neq 0; \end{cases} x_{3,4}=\frac{-15 \pm \sqrt{129}}{2}.$$

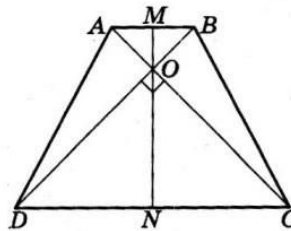
$$\text{Відповідь. } x_1=-4; x_2=-6; x_{3,4}=\frac{-15 \pm \sqrt{129}}{2}.$$

4.2^м. Нехай O — точка перетину діагоналей трапеції $ABCD$, а MN — висота трапеції, що проходить через точку O . Оскільки MN — вісь симетрії трапеції, то $\angle AOM=\angle MOB=45^\circ$, а тому $AM=MO$.

Аналогічно $ON=ND$. Тоді

$$\begin{aligned} S_{ABCD} &= \frac{AB+CD}{2} \cdot MN = \\ &= \frac{2AM+2ND}{2} \cdot MN = \\ &= (AM+ND) \cdot MN = \\ &= (MO+ON) \cdot MN = MN \cdot MN = \\ &= MN^2 = h^2. \end{aligned}$$

Відповідь. h^2 .



1.1	1.2	1.3	1.4	1.5	1.6	1.7	1.8	1.9	1.10	1.11	1.12
Б	В	Г	А	Б	В	В	Б	Б	В	А	Г

2.1	2.2	2.3	2.4
$\frac{b-3}{7}$	-37	(-1; 2), (2,8; 0,1)	100°

Варіант 29

3.1. Нехай через першу трубу басейн наповнюється за x год, тоді через другу спорожнюється за $(x+3)$ год. За одну годину перша труба наповнить $\frac{1}{x}$ частину басейна, а друга — спорожнить $\frac{1}{x+3}$ частину басейна. За умовою $\frac{1}{x} - \frac{1}{x+3} = \frac{1}{36}$.

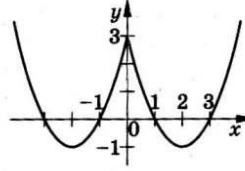
Розв'яжемо отримане рівняння:

$$\frac{x+3-x}{x(x+3)} = \frac{1}{36}; \quad x^2+3x-108=0; \quad x_1=9; \quad x_2=-12.$$

Другий корінь не задовольняє умову задачі. Отже, через першу трубу басейн наповнюється за 9 год, а через другу спорожнюється за 12 год.

Відповідь. 9 год; 12 год.

3.2. Спочатку будемо графік для $x \geq 0$, а потім ураховуємо парність функції. При $x \geq 0$ маємо $y = x^2 - 4x + 3$. Графіком є парабола, вітки якої напрямлені вгору. Координати її вершини:



$$x_0 = -\frac{-4}{2} = 2; \quad y_0 = 2^2 - 4 \cdot 2 + 3 = -1.$$

Графік перетинає вісь абсцис у точках (1; 0) і (3; 0), а вісь ординат — у точці (0; 3).

Симетрично відображуємо частину графіка, побудовану для $x \geq 0$, відносно осі ординат. Графік функції подано на малюнку.

Найменше значення функції дорівнює -1.

Відповідь. -1.

3.3. Нехай точка O — середина діагоналі AC , тоді $O\left(\frac{3+(-2)}{2}; \frac{-1+2}{2}\right)$, тобто $O(0,5; 0,5)$.

Нехай Q — середина діагоналі BD , тоді $Q\left(\frac{2+(-1)}{2}; \frac{3+(-2)}{2}\right)$, тобто $Q(0,5; 0,5)$.

Середини діагоналей чотирикутника $ABCD$ збігаються, тобто діагоналі чотирикутника $ABCD$ перетинаються і точкою перетину діляться навпіл. Тому $ABCD$ — паралелограм.

$$AC = \sqrt{(3+2)^2 + (-1-2)^2} = \sqrt{34}; \quad BD = \sqrt{(2+1)^2 + (3+2)^2} = \sqrt{34}.$$

Діагоналі паралелограма $ABCD$ рівні, тому він є прямокутником, що й треба було довести.

4.1^м. Оскільки $x^3 + y^3 = (x+y)(x^2 - xy + y^2) = (x+y)((x+y)^2 - 3xy)$, то введемо заміни: $x+y=t$; $xy=z$. Тоді маємо систему

$$\begin{cases} t(t^2 - 3z) = 19, \\ (z+8)t = 2. \end{cases}$$

З другого рівняння цієї системи маємо $z = \frac{2}{t} - 8$, підстав-

ляємо в перше рівняння: $t^3 - 3t\left(\frac{2}{t} - 8\right) - 19 = 0$; $t^3 + 24t - 25 = 0$;

$$(t^3 - 1) + (24t - 24) = 0; \quad (t-1)(t^2 + t + 1) + 24(t-1) = 0;$$

$$(t-1)(t^2 + t + 25) = 0.$$

Це рівняння має єдиний корінь $t=1$, тоді $z = \frac{2}{1} - 8$; $z = -6$.

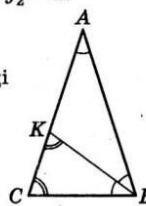
Маємо $\begin{cases} x+y=1, \\ xy=-6. \end{cases}$ Звідси $x_1=-2, y_1=3$ або $x_2=3, y_2=-2$.

Відповідь. (-2; 3), (3; -2).

4.2^м. Нехай у $\triangle ABC$: $\angle ABC = \angle ACB = 72^\circ$, тоді $\angle CAB = 180^\circ - 2 \cdot 72^\circ = 36^\circ$.

BK — бісектриса трикутника; $BK=l$.

$$\angle ABK = \angle KBC = \frac{72^\circ}{2} = 36^\circ.$$



Тоді:

1) $\angle KBA = \angle A$, а тому $KA = KB = l$;

2) $\angle CKB = 180^\circ - (36^\circ + 72^\circ) = 72^\circ$, а отже, $CB = KB = l$.

Позначимо $AB = x$, тоді $KC = CA - KA = x - l$. Маємо, за властивістю бісектриси: $\frac{AB}{AK} = \frac{BC}{CK}$; $\frac{x}{l} = \frac{l}{x-l}$; $x^2 - xl - l^2 = 0$; ураховую-

чи, що $x > 0$, отримаємо $x = \frac{1 + \sqrt{5}}{2} l$.

Відповідь. l ; $\frac{1 + \sqrt{5}}{2} l$; $\frac{1 + \sqrt{5}}{2} l$.

1.1	1.2	1.3	1.4	1.5	1.6	1.7	1.8	1.9	1.10	1.11	1.12
Г	В	В	В	А	Б	Г	В	В	Г	Б	Г
2.1	2.2	2.3	2.4								
$\frac{1}{m-3}$	(1; 2]	9	115°								

Варіант 30

3.1. Нехай спочатку в першому ящику було x кульок, а у другому — y кульок. Якщо з другого ящика переклали до першого 10 кульок, то в першому ящику стане $(x + 10)$ кульок, а у другому — $(y - 10)$ кульок. За умовою, $x + 10 = y - 10$, тобто $y - x = 20$. Якщо з першого ящика переклали до другого 20 кульок, то в першому ящику стане $(x - 20)$ кульок, а у другому — $(y + 20)$ кульок. За умовою, $4(x - 20) = y + 20$, тобто $4x - y = 100$.

Маємо систему
$$\begin{cases} y - x = 20, \\ 4x - y = 100. \end{cases}$$

Додамо рівняння системи: $3x = 120$; $x = 40$.

Тоді $y = 40 + 20$; $y = 60$. Отже, у першому ящику було 40 кульок, а у другому — 60 кульок.

Відповідь. 40 кульок; 60 кульок.

3.2. Рівняння $\frac{(x+a)(x-2a-3)}{x-7} = 0$ рівносильне системі

$$\begin{cases} (x+a)(x-2a-3) = 0, \\ x \neq 7. \end{cases}$$

Маємо $x_1 = -a$; $x_2 = 2a + 3$. Для того щоб рівняння мало один корінь, повинно виконуватися: $x_1 = 7$; $x_2 \neq 7$ або $x_2 = 7$; $x_1 \neq 7$. Розглянемо ці можливості.

1) $x_1 = 7$, тобто $-a = 7$; $a = -7$. Тоді $x^2 = 2 \cdot (-7) + 3$; $x^2 = -11$. Отже, при $a = -7$ рівняння, задане в умові, має єдиний корінь.

2) $x_2 = 7$, тобто $2a + 3 = 7$; $a = 2$. Тоді $x_1 = -2$. Отже, при $a = 2$ рівняння, задане в умові, також має єдиний корінь.

Відповідь. $a = -7$; $a = 2$.

3.3. Нехай $r = 4\sqrt{3}$ см — радіус кола, вписаного у правильний багатокутник; $R = 8$ см — радіус кола, описаного навколо правильного багатокутника; n — кількість сторін багатокутника.

За відомою формулою, $r = R \cos \frac{180^\circ}{n}$.

Маємо: $4\sqrt{3} = 8 \cos \frac{180^\circ}{n}$; $\cos \frac{180^\circ}{n} = \frac{\sqrt{3}}{2}$.

Оскільки $n \geq 3$, то $\frac{180^\circ}{n} \leq 60^\circ$.

Тому $\frac{180^\circ}{n} = 30^\circ$; $n = 6$. Маємо правильний шестикутник.

Його сторона дорівнює радіусу кола, описаного навколо шестикутника, тобто 8 см.

Відповідь. 6 сторін; 8 см.

4.1^м. $ab(a+b-2c) + bc(b+c-2a) + ac(a+c-2b) = a^2b + ab^2 - 2abc + b^2c + c^2b - 2abc + a^2c + ac^2 - 2abc = b(a^2 - 2ac + c^2) + a(b^2 - 2bc + c^2) + c(a^2 - 2ab + b^2) = b(a-c)^2 + a(b-c)^2 + c(a-b)^2$.

Оскільки $b > 0$ і $(a-c)^2 \geq 0$, то $b(a-c)^2 \geq 0$. Аналогічно $a(b-c)^2 \geq 0$ і $c(a-b)^2 \geq 0$.

Тому $b(a-c)^2 + a(b-c)^2 + c(a-b)^2 \geq 0$, а отже, і $ab(a+b-2c) + bc(b+c-2a) + ac(a+c-2b) \geq 0$, що й треба було довести.

4.2^м. Нехай задано $\triangle ABC$; $BC = 14$ см; AK — висота трикутника; $AK = 12$ см.

За умовою, $AB + BC + AC = 42$ см, тому $AB + AC = 42 - 14 = 28$ (см).

Площа трикутника

$$S = \frac{1}{2} BC \cdot AK = \frac{1}{2} \cdot 14 \cdot 12 = 84 \text{ (см}^2\text{)}.$$

З іншого боку, за формулою Герона,

$$S = \sqrt{p(p-a)(p-b)(p-c)}.$$

Позначимо $AC = x$, тоді $AB = 28 - x$. Маємо $p = \frac{42}{2} = 21$ (см).

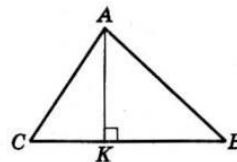
Тоді $84 = \sqrt{21(21-14)(21-x)(21-(28-x))}$;

$$84^2 = 21 \cdot 7 \cdot (21-x)(x-7); 48 = 21x - x^2 - 147 + 7x;$$

$$x^2 - 28x + 195 = 0. \text{ Тому } x_1 = 15; x_2 = 13.$$

Отже, $AC = 15$ см, тоді $AB = 28 - 15 = 13$ (см) або $AC = 13$ см, тоді $AB = 28 - 13 = 15$ см.

Відповідь. 15 см і 13 см.



1.1	1.2	1.3	1.4	1.5	1.6	1.7	1.8	1.9	1.10	1.11	1.12
Б	Г	В	Б	Б	В	Г	Г	Б	А	Б	В
2.1		2.2		2.3		2.4					
0,61		$(\sqrt{17}-3):4$		[-6; 1,5]		8 см					

Варіант 31

3.1. До зупинки автомобіль проїхав $\frac{1}{3} \cdot 1200 = 400$ (км), а після зупинки $1200 - 400 = 800$ (км). Нехай x км/год — запланована швидкість. Тоді $\frac{800}{x}$ год — час, за який автомобіль мав проїхати ці 800 км. Насправді швидкість автомобіля була $(x + 20)$ км/год, і він проїхав ці 800 км за $\frac{800}{x + 20}$ год. За умовою $\frac{800}{x} - \frac{800}{x + 20} = 2$, або $\frac{400}{x} - \frac{400}{x + 20} = 1$.

Розв'яжемо це рівняння: $\frac{400x + 8000 - 400x}{x(x + 20)} = 1$;

$x^2 + 20x - 8000 = 0$; $x_1 = 80$; $x_2 = -100$.

Другий корінь не задовольняє умову. Отже, швидкість автомобіля до зупинки була 80 км/год.

Відповідь. 80 км/год.

3.2. Спростимо вираз

$$\left(\frac{3-a}{a^2-2a+1} - \frac{2}{1-a} \right) \left(\frac{a^2-3a}{a^3+3a^2+3a+1} + \frac{2}{a^2+2a+1} \right)$$

1) $\frac{3-a}{a^2-2a+1} - \frac{2}{1-a} = \frac{3-a}{(a-1)^2} - \frac{2}{a-1} = \frac{3-a+2(a-1)}{(a-1)^2} = \frac{a+1}{(a-1)^2}$.

2) $a^3+3a^2+3a+1 = (a^3+1) + (3a^2+3a) = (a+1)(a^2-a+1) + 3a(a+1) = (a+1)(a^2-a+1+3a) = (a+1)(a^2+2a+1) = (a+1)(a+1)^2 = (a+1)^3$.

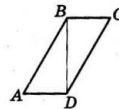
3) $\frac{a^2-3a}{a^3+3a^2+3a+1} + \frac{1}{a^2+2a+1} = \frac{a^2-3a}{(a+1)^3} + \frac{1}{(a+1)^2} = \frac{a^2-3a+a+1}{(a+1)^3} = \frac{a^2-2a+1}{(a+1)^3} = \frac{(a-1)^2}{(a+1)^3}$.

4) $\frac{a+1}{(a-1)^2} \cdot \frac{(a-1)^2}{(a+1)^3} = \frac{1}{(a+1)^2}$.

Отже, даний в умові вираз при всіх допустимих значеннях змінної дорівнює виразу $\frac{1}{(a+1)^2}$, який є додатним як відношення двох додатних виразів. Доведено.

3.3. Нехай у паралелограмі $ABCD$: $\angle A = 60^\circ$, тоді $\angle ABC = 180^\circ - 60^\circ = 120^\circ$.

За умовою, $\angle CBD : \angle DBA = 3 : 1$, тому позначимо $\angle DBA = x$, тоді $\angle CBD = 3x$ і маємо: $x + 3x = 120^\circ$; $x = 30^\circ$.



Отже, $\angle DBA = 30^\circ$, $\angle CBD = 90^\circ$, тобто діагональ BD перпендикулярна до сторін AD і BC .

Меншою є діагональ, яка сполучає тупі кути паралелограма. Отже, $BD = 4\sqrt{3}$ (см) — за умовою.

У $\triangle ABD$: $AD = BD \cdot \operatorname{tg} 30^\circ = 4\sqrt{3} \cdot \frac{1}{\sqrt{3}} = 4$ (см);

$AB = \frac{BD}{\sin 60^\circ} = \frac{4\sqrt{3}}{\frac{\sqrt{3}}{2}} = 8$ (см). Тоді периметр паралелограма

$P = 2(AD + AB) = 2(4 + 8) = 24$ (см).

Відповідь. 24 см.

4.1* $\begin{cases} 3x^2 + 2y^2 - 4xy = 17, \\ y^2 - x^2 = 16. \end{cases}$

Це система рівнянь, ліві частини яких — однорідні многочлени. Заміна $y = tx$. Тоді маємо:

$\begin{cases} 3x^2 + 2t^2x^2 - 4x^2t = 17, & \begin{cases} x^2(3 + 2t^2 - 4t) = 17, \\ t^2x^2 - x^2 = 16; & \begin{cases} x^2(t^2 - 1) = 16. \end{cases} \end{cases} \end{cases}$

Оскільки $x \neq 0$ і $t \neq \pm 1$, то розділимо почленно перше рівняння на друге. Маємо:

$\frac{3 + 2t^2 - 4t}{t^2 - 1} = \frac{17}{16}$; $15t^2 - 64t + 65 = 0$; $t_1 = 2,6$; $t_2 = 1\frac{2}{3}$.

1) $t = 2,6$; $\begin{cases} y = 2,6x, \\ ((2,6x)^2 - x^2 = 16; \end{cases} \begin{cases} y = 2,6x, \\ x^2 = \frac{25}{9}; \end{cases} \begin{cases} x_1 = \frac{5}{3}; \\ y_1 = \frac{13}{3}; \end{cases}$

$x_2 = -\frac{5}{3}$; $y_2 = -\frac{13}{3}$.

2) $t = \frac{5}{3}$; $\begin{cases} y = \frac{5}{3}x, \\ (\frac{5}{3}x)^2 - x^2 = 16; \end{cases} \begin{cases} y = \frac{5}{3}x, \\ x^2 = 9; \end{cases} \begin{cases} x_3 = 3; \\ y_3 = 5; \end{cases}$

$x_4 = -3$; $y_4 = -5$.

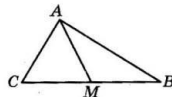
Відповідь. $(\frac{5}{3}, \frac{13}{3}), (-\frac{5}{3}, -\frac{13}{3}), (3; 5), (-3; -5)$.

4.2*. Нехай AM — медіана $\triangle ABC$; $AM = 2$ см, $AC = 1$ см, $AB = \sqrt{15}$ см. За формулою медіани, маємо:

$AM^2 = \frac{1}{4}(2AC^2 + 2AB^2 - CB^2)$; $4 = \frac{1}{4}(2 \cdot 1^2 + 2 \cdot (\sqrt{15})^2 - CB^2)$;

$CB^2 = 16$; $CB = 4$.

Зазначимо, що $\triangle ABC$ — прямокутний $(AC^2 + AB^2 = CB^2)$, оскільки $1^2 + (\sqrt{15})^2 = 4^2$ з прямим кутом A . Тоді його площа



$S = \frac{1}{2} AB \cdot AC = \frac{1}{2} \cdot 1 \cdot \sqrt{15} = \frac{\sqrt{15}}{2}$ (см²).

Відповідь. $\frac{\sqrt{15}}{2}$ см².

1.1	1.2	1.3	1.4	1.5	1.6	1.7	1.8	1.9	1.10	1.11	1.12
Б	Б	А	А	Г	Б	Г	А	Г	В	Г	Б
2.1	2.2	2.3	2.4								
94	(0; 4), (1; 3)	30	8 см								

Варіант 32

3.1. Нехай чисельник шуканого дробу дорівнює x , тоді знаменник — $(x+3)$, а сам дріб — $\frac{x}{x+3}$. Після того як збільшили

чисельник на 2, а знаменник — на 10, отримали дріб $\frac{x+2}{x+13}$.

За умовою $\frac{x}{x+3} - \frac{x+2}{x+13} = \frac{2}{15}$. Розв'яжемо отримане рівняння:

$$\frac{x^2+13x-(x^2+3x+2x+6)}{(x+3)(x+13)} = \frac{2}{15}; 15(8x-6)=2(x^2+16x+39);$$

$$2x^2-88x+168=0; x^2-44x+84=0; x_1=2; x_2=42.$$

Якщо $x=2$, маємо дріб $\frac{2}{5}$, що задовольняє умову, якщо $x=42$, то маємо дріб $\frac{42}{45}$, який умову не задовольняє, бо є скоротним.

Відповідь. $\frac{2}{5}$.

3.2. $10a^2 - 6a - 2ab + b^2 + 2 = 9a^2 - 6a + 1 + a^2 - 2ab + b^2 + 1 = (3a-1)^2 + (a-b)^2 + 1$.

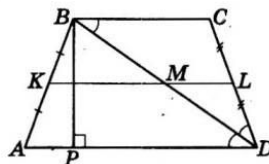
Оскільки $(3a-1)^2 \geq 0$ для всіх значень a і $(a-b)^2 \geq 0$ для всіх значень a і b , то $(3a-1)^2 + (a-b)^2 + 1 > 0$, а тому й $10a^2 - 6a - 2ab + b^2 + 2 > 0$ для всіх значень a і b , що й треба було довести.

3.3. Нехай $ABCD$ — рівнобічна трапеція; KL — її середня лінія, $\angle ADB = \angle BDC$.

Оскільки $KM \parallel AD$ і $BK = KA$, то, за теоремою Фалеса, M — середина BD , а тому KM — середня лінія трикутника ABD і

$AD = 2KM$. Аналогічно $BC = 2ML$. Оскільки $AD > BC$, то й $KM > ML$. За умовою $KM = 23$ см; $ML = 13$ см. Тоді $AD = 2 \cdot 23 = 46$ (см), $BC = 2 \cdot 13 = 26$ (см).

$\angle ADB = \angle CBD$ (внутрішні різносторонні кути при паралельних прямих AD і BC та січній BD). За умовою, $\angle ADB = \angle BDC$. Тому $\angle DBC = \angle CDB$, $\triangle BCD$ рівнобедрений і $CD = BC = 26$ см.



Проведемо висоту BP . Маємо

$$AP = \frac{AD - BC}{2} = \frac{46 - 26}{2} = 10 \text{ (см)}.$$

$$\text{У } \triangle ABP: BP = \sqrt{AB^2 - AP^2} = \sqrt{26^2 - 10^2} = 24 \text{ (см)}.$$

$$\text{Тоді } S_{ABCD} = \frac{AD + BC}{2} \cdot BP = \frac{26 + 46}{2} \cdot 24 = 864 \text{ (см}^2\text{)}.$$

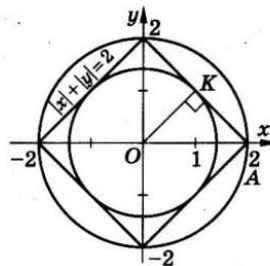
Відповідь. 864 см^2 .

$$4.1^{\text{м}}. \begin{cases} |x| + |y| = 2, \\ x^2 + y^2 = a^2. \end{cases}$$

Використаємо графічний метод. Графіком рівняння $|x| + |y| = 2$ є квадрат з вершинами в точках $(2; 0)$, $(0; 2)$, $(-2; 0)$ і $(0; -2)$.

Графіком рівняння $x^2 + y^2 = a^2$ є коло із центром у початку координат і радіусом $|a|$.

Система має чотири розв'язки, коли графіки перетинаються в чотирьох точках (див. мал.). Це досягається, якщо радіус кола дорівнює 2 або довжині відрізка OK .



У $\triangle OKA$: $KA = OK$ і $OA = 2$. Маємо:

$$OK^2 + AK^2 = 2^2; 2OK^2 = 4; OK = \sqrt{2}.$$

$$\text{Отже, } |a| = 2, a = \pm 2 \text{ і } |a| = \sqrt{2}, a = \pm\sqrt{2}.$$

Відповідь. ± 2 і $\pm\sqrt{2}$.

4.2^м. За відомими формулами для медіани трикутника $m_a^2 = \frac{1}{4}(2b^2 + 2c^2 - a^2)$; $m_b^2 = \frac{1}{4}(2a^2 + 2c^2 - b^2)$ і $m_c^2 = \frac{1}{4}(2a^2 + 2b^2 - c^2)$.

За умовою $m_a^2 + m_b^2 = 5m_c^2$, тоді $2b^2 + 2c^2 - a^2 + 2a^2 + 2c^2 - b^2 = 5(2a^2 + 2b^2 - c^2)$ або після спрощення $a^2 + b^2 = c^2$.

Звідси випливає, що трикутник є прямокутним, що й треба було довести.

1.1	1.2	1.3	1.4	1.5	1.6	1.7	1.8	1.9	1.10	1.11	1.12
Б	Г	А	В	Г	Б	Г	В	Б	Б	А	А

2.1	2.2	2.3	2.4
$x = 2$	(6; 3)	610	14 см

Варіант 33

3.1. Нехай спочатку у кінотеатрі було x рядів по y місць у кожному. Тоді, за умовою, $xy = 390$.

Після того як додали один ряд, рядів стало $x + 1$. А після збільшення місць у кожному ряді на 4, їх стало по $y + 4$. За умовою, $(x + 1)(y + 4) = 480$.

$$\text{Маємо систему } \begin{cases} xy = 390, \\ (x + 1)(y + 4) = 480. \end{cases}$$

Розв'яжемо її. З другого рівняння маємо:

$$xy + y + 4x + 4 = 480; 390 + y + 4x + 4 = 480; y = 86 - 4x.$$

Підставимо y у перше рівняння системи:

$$x(86 - 4x) = 390; 2x^2 - 43x + 195 = 0.$$

Оскільки x — натуральне число, то маємо $x = 15$. Тому в кінотеатрі стало $15 + 1 = 16$ рядів.

Відповідь. 16 рядів.

3.2. За теоремою Вієта $x_1 + x_2 = -9$, $x_1 x_2 = -2$. Маємо:

$$\frac{x_1 + x_2}{x_2 x_1} = \frac{x_1^2 + x_2^2}{x_1 x_2} = \frac{(x_1 + x_2)^2 - 2x_1 x_2}{x_1 x_2} = \frac{(-9)^2 - 2 \cdot (-2)}{-2} = -42,5.$$

Відповідь. -42,5.

3.3. Нехай ABC — заданий в умові трикутник; $\angle C = 90^\circ$; $AC = 12$ см; $BC = 16$ см; AK — бісектриса трикутника.

За теоремою Піфагора,

$$AB = \sqrt{AC^2 + BC^2} = \sqrt{12^2 + 16^2} = 20 \text{ (см)}.$$

Оскільки AK — бісектриса трикутника,

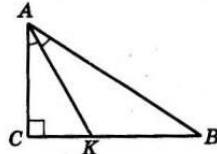
то $\frac{AC}{CK} = \frac{AB}{BK}$. Позначимо $CK = x$, тоді $BK = 16 - x$. Маємо:

$$\frac{12}{x} = \frac{20}{16 - x}; 32x = 192; x = 6 \text{ (см)}.$$

Тоді у $\triangle ACK$ ($\angle C = 90^\circ$):

$$AK = \sqrt{AC^2 + CK^2} = \sqrt{12^2 + 6^2} = \sqrt{180} = 6\sqrt{5} \text{ (см)}.$$

Відповідь. $6\sqrt{5}$ см.



4.1^м. Доведення. Будемо перетворювати ліву частину, намагаючись отримати суму $a + b$, замінивши її потім на 1. Також використаємо тотожність $a^2 + b^2 = (a + b)^2 - 2ab$.

$$\begin{aligned} \text{Маємо: } & \frac{a}{b^3 - 1} - \frac{b}{a^3 - 1} = \frac{a^4 - a - b^4 + b}{(a^3 - 1)(b^3 - 1)} = \frac{a^4 - b^4 - (a - b)}{a^3 b^3 - (a^3 + b^3) + 1} \\ & = \frac{(a - b)(a + b)(a^2 + b^2) - (a - b)}{a^3 b^3 - (a + b)(a^2 - ab + b^2) + 1} = \frac{(a - b)((a + b)^2 - 2ab - 1)}{a^3 b^3 - ((a + b)^2 - 3ab) + 1} \\ & = \frac{-2ab(a - b)}{a^3 b^3 + 3ab} = \frac{2ab(b - a)}{ab(a^2 b^2 + 3)} = \frac{2(b - a)}{a^2 b^2 + 3}. \end{aligned}$$

Умовну рівність доведено.

4.2^м. Нехай $ABCD$ — рівнобічна трапеція, у яку вписано коло радіусом r і описано коло радіусом R . Необхідно знайти $\frac{r}{R}$, якщо $\angle ABC = \alpha$.

Позначимо $AD = 2a$; $BC = 2b$; $AB = c$. Оскільки трапеція рівнобічна описана, то $2AB = AD + BC$; $2c = 2a + 2b$; $c = a + b$.

Проведемо висоту $AK = 2r$.

У $\triangle AKB$ ($\angle K = 90^\circ$): $AK = AB \sin \alpha$; $2r = c \sin \alpha$.

Знайдемо R як радіус кола, описаного навколо $\triangle ABC$:

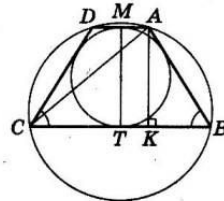
$$2R = \frac{AC}{\sin \alpha}; AC = \sqrt{AK^2 + KC^2}.$$

$$KC = CT + TK = CT + MA = \frac{2b}{2} + \frac{2a}{2} = a + b = c.$$

$$\text{Тоді: } 2R = \frac{\sqrt{(c \sin \alpha)^2 + c^2}}{\sin \alpha} = \frac{c\sqrt{1 + \sin^2 \alpha}}{\sin \alpha}.$$

$$\text{Маємо } \frac{r}{R} = \frac{2r}{2R} = \frac{c \sin \alpha}{\frac{c\sqrt{1 + \sin^2 \alpha}}{\sin \alpha}} = \frac{\sin^2 \alpha}{\sqrt{1 + \sin^2 \alpha}}.$$

Відповідь. $\frac{\sin^2 \alpha}{\sqrt{1 + \sin^2 \alpha}}$.



1.1	1.2	1.3	1.4	1.5	1.6	1.7	1.8	1.9	1.10	1.11	1.12
В	Г	Б	В	Б	Г	В	Г	Г	А	В	Г

2.1	2.2	2.3	2.4
$\frac{x}{x+3}$	$\frac{x+3}{2x+2}$	(4; 1), (-2; -2)	16 см

Варіант 34

3.1. Нехай у початковому сплаві було x кг цинку. Тоді відсоток міді у сплаві дорівнює $\frac{2}{2+x} \cdot 100\%$. Після того як у цей сплав додали 6 кг міді, відсоток міді став $\frac{8}{8+x} \cdot 100\%$. За умовою, $\frac{8}{8+x} \cdot 100\% - \frac{2}{2+x} \cdot 100\% = 30\%$, або $\frac{8}{8+x} - \frac{2}{2+x} = \frac{3}{10}$.

Розв'яжемо це рівняння: $\frac{16+8x-16-2x}{(8+x)(2+x)} = \frac{3}{10}$;

$10 \cdot 6x = 3(16+10x+x^2)$; $3x^2-30x+48=0$; $x^2-10x+16=0$;
 $x_1=2$; $x_2=8$.

Обидва корені задовольняють умову задачі. У першому випадку сплав містив 2 кг цинку і його загальна маса була 4 кг, а у другому випадку він містив 8 кг цинку і його загальна маса була 10 кг.

Відповідь. 4 кг або 10 кг.

3.2. $p = \frac{m}{n}$, n — кількість усіх двоцифрових чисел; $n=90$,
 m — кількість двоцифрових чисел, кратних 4 або 5.

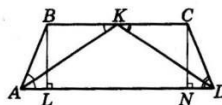
Числа, кратні 4, такі: 12; 16; ...; 92; 96. Оскільки $12=4 \cdot 3$;
 $16=4 \cdot 4$; ...; $92=4 \cdot 23$; $96=4 \cdot 24$, то цих чисел 22.

Числа, кратні 5, такі: 10; 15; ...; 90; 95. Оскільки $10=5 \cdot 2$;
 $15=5 \cdot 3$; ...; $90=5 \cdot 18$; $95=5 \cdot 19$, то цих чисел 18.

Але числа 20, 40, 60, 80 були враховані двічі. Тому $m = 22 + 18 - 4 = 36$ і $p = \frac{36}{90} = \frac{2}{5} = 0,4$.

Відповідь. 0,4.

3.3. Нехай $ABCD$ — задана в умові трапеція; бісектриси кутів A і D при основі AD перетнулися в точці K на стороні BC ; $AB=10$ см; $CD=17$ см. $\angle BKA = \angle KAD$ (внутрішні рівносторонні кути при паралельних прямих AD і BC та січній AK).



$\angle BAK = \angle KAD$ (за умовою), тому $\angle BAK = \angle BKA$, $\triangle ABK$ — рівнобедрений: $BK=AB=10$ см.

Аналогічно отримуємо $KC=CD=17$ см. Тоді $BC=BK+KC=10+17=27$ (см).

Проведемо висоти BL і CN ; $BL=CN=8$ см.

У $\triangle BLA$: $AL = \sqrt{AB^2 - BL^2} = \sqrt{10^2 - 8^2} = 6$ (см),

у $\triangle CND$: $ND = \sqrt{CD^2 - CN^2} = \sqrt{17^2 - 8^2} = 15$ (см).

$BCNL$ — прямокутник; $LN=BC=27$ (см), тоді $AD=AL+LN+ND=6+27+15=48$ (см).

Площа трапеції $S = \frac{AD+BC}{2} \cdot BL = \frac{48+27}{2} \cdot 8 = 300$ (см²).

Відповідь. 300 см².

4.1*. Підмодульні вирази перетворюються в нуль, якщо $x=-2$, $x=1$, $x=4$.

1) $x < -2$, тоді $|x+2| = -(x+2)$; $|x-1| = -(x-1)$; $|x-4| = -(x-4)$.

Маємо: $\begin{cases} x < -2, \\ -x-2+1-x+x-4 > 3; \end{cases} \begin{cases} x < -2, & x < -8. \\ x < -8; \end{cases}$

2) $-2 \leq x < 1$, тоді $|x+2| = x+2$; $|x-1| = -(x-1)$; $|x-4| = -(x-4)$.

Маємо: $\begin{cases} x+2+1-x+x-4 > 3, \\ -2 \leq x < 1; \end{cases} \begin{cases} x > 4, \\ -2 \leq x < 1, \end{cases}$ система не має

розв'язків.

3) $1 \leq x < 4$, тоді $|x+2| = x+2$; $|x-1| = x-1$; $|x-4| = -(x-4)$.

Маємо: $\begin{cases} x+2+x-1+x-4 > 3, \\ 1 \leq x < 4; \end{cases} \begin{cases} x > 2, \\ 1 \leq x < 4; \end{cases} \quad 2 < x < 4.$

4) $x \geq 4$, тоді $|x+2| = x+2$; $|x-1| = x-1$; $|x-4| = x-4$.

Маємо: $\begin{cases} x+2+x-1-x+4 > 3, \\ x \geq 4; \end{cases} \begin{cases} x > -2, \\ x \geq 4; \end{cases} \quad x \geq 4.$

Об'єднуючи відповіді, маємо $x \in (-\infty; -8) \cup (2; +\infty)$.

Відповідь. $(-\infty; -8) \cup (2; +\infty)$.

4.2*. Використовуючи формулу медіани, маємо:

$5^2 = \frac{1}{4}(2a^2+2b^2-c^2)$, $(\sqrt{73})^2 = \frac{1}{4}(2b^2+2c^2-a^2)$

і $(2\sqrt{13})^2 = \frac{1}{4}(2a^2+2c^2-b^2)$, де a, b, c — сторони трикутника.

Маємо систему $\begin{cases} 2a^2+2b^2-c^2 = 100, \\ 2b^2+2c^2-a^2 = 292, \\ 2a^2+2c^2-b^2 = 208. \end{cases}$

Склавши ці три рівняння почленно, маємо: $3(a^2+b^2+c^2)=600$;
 $a^2+b^2+c^2=200$; $2a^2+2b^2+2c^2=400$. Віднімаючи від останнього рівняння по черзі рівняння системи, матимемо: $3c^2=300$;
 $c^2=100$; $3a^2=108$; $a^2=36$; $3b^2=192$; $b^2=64$.

Оскільки $36+64=100$, то $a^2+b^2=c^2$, а тому трикутник прямокутний, що й треба було довести.

1.1	1.2	1.3	1.4	1.5	1.6	1.7	1.8	1.9	1.10	1.11	1.12
Б	В	А	Г	Б	В	Б	В	В	А	Б	Б

2.1	2.2	2.3	2.4
$\frac{x-1}{2(x+1)}$	$x < 0$	3	$p = 3$ або $p = -5$

Варіант 35

3.1. Нехай $\overline{ab} = 10a + b$ — шукане двоцифрове число. За умовою, $3(a + b) = 10a + b$, тобто $2b = 7a$. Також, за умовою, $ab + 45 = ba$, тобто $10a + b + 45 = 10b + a$. Звідси маємо: $9a - 9b = -45$; $b - a = 5$.

$$\text{Отримали систему } \begin{cases} 2b = 7a, \\ b - a = 5. \end{cases}$$

Розв'яжемо її: $b = 5 + a$.

Тоді $2(5 + a) = 7a$; $5a = 10$; $a = 2$. Тому $b = 5 + 2$; $b = 7$, а шукане число — 27.

Відповідь. 27.

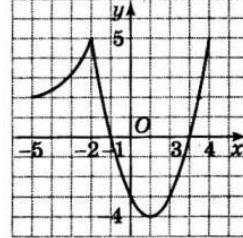
3.2. Графіком функції $f(x) = -\frac{10}{x}$ є гіпербола. Графіком функції $g(x) = x^2 - 2x - 3$ є парабола, вітки якої напрямлені вгору. Координати вершини параболи $x_0 = -\frac{-2}{2 \cdot 1} = 1$; $y_0 = 1^2 - 2 \cdot 1 - 3 = -4$.

Графік функції

$$y = \begin{cases} -\frac{10}{x}, & \text{якщо } x \leq -2, \\ x^2 - 2x - 3, & \text{якщо } x > -2 \end{cases}$$

зображено на малюнку. Найменшим значенням цієї функції є -4.

Відповідь. -4.



3.3. Нехай загальна кількість кутів (а також і сторін) многокутника дорівнює n . Маємо три кути по 120° і $(n - 3)$ кутів по 160° . Тоді сума кутів трикутника дорівнює $3 \cdot 120^\circ + (n - 3) \cdot 160^\circ$. З іншого боку, за відомою формулою, сума кутів опуклого n -кутника дорівнює $180^\circ \cdot (n - 2)$. Маємо рівняння $360^\circ + 160^\circ \cdot (n - 3) = 180^\circ \cdot (n - 2)$. Розв'яжемо його: $360 + 160n - 480 = 180n - 360$; $20n = 240$; $n = 12$.

Відповідь. 12.

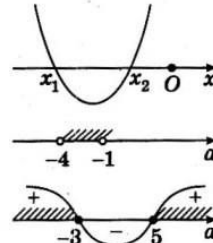
4.1^м. Початкова умова $x_1 < 0$, $x_2 < 0$, де x_1 і x_2 — корені рівняння. Позначимо $y(x) = x^2 - (a + 1)x + a + 4$. Для виконання умови необхідно:

$$\begin{cases} \frac{a+1}{2} < 0, \\ y(0) > 0, \text{ тобто } \\ D \geq 0, \end{cases} \quad \begin{cases} a+1 < 0, \\ a+4 > 0, \\ (a+1)^2 - 4(a+4) > 0, \end{cases}$$

$$\begin{cases} -4 < a < -1, \\ a^2 - 2a - 15 \geq 0, \end{cases} \quad \begin{cases} -4 < a < -1, \\ (a-5)(a+3) \geq 0. \end{cases}$$

Маємо остаточно: $a \in (-4; -3]$.

Відповідь. $(-4; -3]$.



4.2^м. Нехай задано прямокутний трикутник ABC ($\angle C = 90^\circ$) і $P_{\triangle ABC} = 72$ см, CK — його медіана; CM — висота. Позначимо $CK = x$, тоді гіпотенуза $AB = 2x$, а $CM = x - 7$.

Нехай катети трикутника дорівнюють a і b . Тоді $a^2 + b^2 = (2x)^2$, тобто $(a + b)^2 - 2ab = 4x^2$. (*)

Виражаючи двічі площу трикутника ABC , отримаємо

$$S = \frac{1}{2} ab = \frac{1}{2} AB \cdot CM, \text{ тобто } ab = 2x(x - 7).$$

Також маємо:

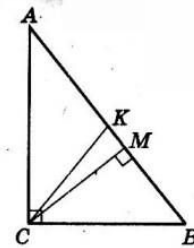
$$a + b + 2x = 72, \quad a + b = 72 - 2x.$$

Підставимо отримані дані у (*). Маємо:

$$(72 - 2x)^2 - 2 \cdot 2x(x - 7) = 4x^2; \quad x^2 + 65x - 1296 = 0.$$

Ураховуючи, що $x > 0$, отримаємо $x = 16$. Тоді гіпотенуза $AB = 2 \cdot 16 = 32$ (см).

Відповідь. 32 см.



1.1	1.2	1.3	1.4	1.5	1.6	1.7	1.8	1.9	1.10	1.11	1.12
В	Г	В	В	В	Г	Б	А	А	В	Б	В
2.1	2.2	2.3	2.4								
$3,41 \cdot 10^{-2}$	$\frac{\sqrt{x} - 3\sqrt{y}}{\sqrt{x} + 3\sqrt{y}}$	-2; -1; 0; 1	(0; 2)								

Варіант 36

3.1. Нехай швидкість першого автомобіля дорівнює x км/год, а другого — y км/год. За 2 год перший проїхав $2x$ км, а другий — $2y$ км. За умовою, $2x - 2y = 20$, тобто $x - y = 10$. На весь шлях перший витрачає $\frac{180}{x}$ год, а другий — $\frac{180}{y}$ год.

Оскільки 15 хв = $\frac{1}{4}$ год, то маємо рівняння $\frac{180}{y} - \frac{180}{x} = \frac{1}{4}$.

Отримаємо систему рівнянь
$$\begin{cases} x - y = 10, \\ \frac{180}{y} - \frac{180}{x} = \frac{1}{4}. \end{cases}$$

Розв'яжемо її. Отже, $x = 10 + y$, тоді

$$\frac{180}{y} - \frac{180}{10 + y} = \frac{1}{4}; \quad \frac{1800 + 180y - 180y}{y(10 + y)} = \frac{1}{4};$$

$$y^2 + 10y - 7200 = 0; \quad y_1 = 80; \quad y_2 = -30.$$

Другий корінь не задовольняє умову задачі. Тоді $x = 90$.

Отже, швидкість першого автомобіля дорівнює 90 км/год, а другого — 80 км/год.

Відповідь. 90 км/год; 80 км/год.

3.2. Маємо $n^2 - 12n + 17 = n^2 - 2 \cdot n \cdot 6 + 6^2 - 6^2 + 17 = (n - 6)^2 - 19$. Отже, $a_n = (n - 6)^2 - 19$. Найменшим буде член послідовності, для якого $n - 6 = 0$, тобто $a_6 = 0^2 - 19 = -19$.

Відповідь. $a_6 = -19$.

3.3. Нехай коло із центром у точці O вписано в рівнобічну трапецію; $OC = 6$ см; $OD = 8$ см. DO — бісектриса кута D , а CO — бісектриса кута C .

$$\begin{aligned} \text{У } \triangle COD: \angle COD &= 180^\circ - (\angle OCD + \angle CDO) = \\ &= 180^\circ - \left(\frac{\angle BCD}{2} + \frac{\angle CDA}{2} \right) = 180^\circ - \frac{\angle BCD + \angle CDA}{2} = 180^\circ - \frac{180^\circ}{2} = \\ &= 90^\circ. \end{aligned}$$

Отже, $\triangle COD$ — прямокутний; радіус кола OK є висотою цього прямокутного трикутника.

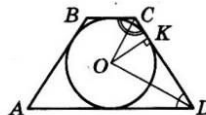
У $\triangle COD$: $CD = \sqrt{CO^2 + OD^2} = \sqrt{6^2 + 8^2} = 10$ (см). Виражаючи двічі площу $\triangle COD$, маємо: $S_{\triangle COD} = \frac{1}{2} OC \cdot OD = \frac{1}{2} CD \cdot OK$.

Звідси $OK = \frac{OC \cdot OD}{DC} = \frac{6 \cdot 8}{10} = 4,8$ (см).

Отже, $r = 4,8$ (см) — радіус кола.

Тоді його довжина $l = 2\pi r = 9,6\pi$ (см).

Відповідь. $9,6\pi$ см.



4.1*. Спростимо вираз $\sqrt{\left(\frac{a^2 - 4}{2a}\right)^2} + 4$, де $a \neq 0$. Маємо

$$\begin{aligned} \sqrt{\left(\frac{a^2 - 4}{2a}\right)^2} + 4 &= \sqrt{\frac{a^4 - 8a^2 + 16 + 16a^2}{4a^2}} = \sqrt{\frac{a^4 + 8a^2 + 16}{4a^2}} = \\ &= \sqrt{\frac{(a^2 + 4)^2}{(2a)^2}} = \frac{|a^2 + 4|}{|2a|}. \end{aligned}$$

Оскільки $a^2 + 4 > 0$ для всіх значень a , то $|a^2 + 4| = a^2 + 4$.

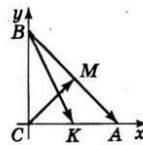
Крім того, $|2a| = 2|a|$. Тоді

$$a \sqrt{\left(\frac{a^2 - 4}{2a}\right)^2} + 4 = \frac{a^2 + 4}{a \cdot \frac{2|a|}{2}} = \frac{a^2 + 4}{|a|} = \begin{cases} 2, & \text{якщо } a > 0, \\ -2, & \text{якщо } a < 0. \end{cases}$$

Відповідь. 2, якщо $a > 0$; -2, якщо $a < 0$.

4.2*. **Доведення.** Для доведення введемо систему координат так, що початок координат збігається з вершиною прямого кута трикутника — точкою C , а точки A і B належать додатним півосям координат.

Маємо: $C(0; 0)$, $A(2\sqrt{2}; 0)$, $B(0; 2)$. Оскільки



K — середина AC , то $K\left(\frac{0 + 2\sqrt{2}}{2}; \frac{0 + 0}{2}\right)$, тобто $K(\sqrt{2}; 0)$ і

$\overline{BK}(\sqrt{2} - 0; 0 - 2)$, або $\overline{BK}(\sqrt{2}; -2)$. M — середина AB , тому

$M\left(\frac{2\sqrt{2} + 0}{2}; \frac{0 + 2}{2}\right)$, тобто $M(\sqrt{2}; 1)$. Тоді $\overline{CM}(\sqrt{2} - 0; 1 - 0)$, або

$\overline{CM}(\sqrt{2}; 1)$.

Оскільки $\overline{BK} \cdot \overline{CM} = \sqrt{2} \cdot \sqrt{2} - 2 \cdot 1 = 0$, то $\overline{BK} \perp \overline{CM}$, тобто медіани трикутника BK і CM перпендикулярні, що й треба було довести.

1.1	1.2	1.3	1.4	1.5	1.6	1.7	1.8	1.9	1.10	1.11	1.12
Г	В	Б	В	Г	А	В	В	Г	Б	А	Б
2.1	2.2	2.3	2.4								
$12\sqrt{6} + 24$	$y = 4x^2 + 2$	$\frac{1}{9}$	78 см^2								

Варіант 37

3.1. Нехай слюсар може виконати замовлення, працюючи самостійно, за x год, тоді перший його учень може виконати за $(x+4)$ год, а другий — за $(x+9)$ год. За одну годину слюсар виконує $\frac{1}{x}$ частину замовлення, перший учень — $\frac{1}{x+4}$ частину замовлення, а другий — $\frac{1}{x+9}$.

Оскільки слюсар виконує замовлення за той самий час, що й два учні, які працюють разом, то продуктивність праці слюсара $\frac{1}{x}$ дорівнює сумарній продуктивності праці учнів

$$\frac{1}{x+4} + \frac{1}{x+9}$$

Маємо рівняння $\frac{1}{x} = \frac{1}{x+4} + \frac{1}{x+9}$.

Розв'яжемо це рівняння: $\frac{1}{x} = \frac{x+9+x+4}{(x+4)(x+9)}$; $x^2 + 13x + 36 = 2x^2 + 13x$; $x^2 = 36$. Ураховуючи, що $x > 0$, маємо $x = 6$. Отже, слюсар, працюючи самостійно, може виконати замовлення за 6 год, один з його учнів — за 10 год, а інший — за 15 год.

Відповідь. 6 год; 10 год; 15 год.

3.2. Область допустимих значень функції $y = \sqrt{4-x^2} + \frac{3x}{x}$ знайдемо із системи:

$$\begin{cases} 4-x^2 \geq 0, \\ x \neq 0; \end{cases} \begin{cases} -2 < x \leq 2, \\ x \neq 0; \end{cases} \quad x \in [-2; 0) \cup (0; 2].$$

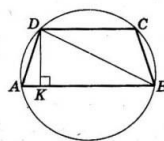
Для таких значень x функцію можна спростити $y_1 = \sqrt{4-x^2} + 3$. При $x \in [-2; 0) \cup (0; 2]$ маємо $x^2 > 0$; $-x^2 < 0$; $4 - x^2 < 4$. Тоді $0 < \sqrt{4-x^2} < \sqrt{4}$; $0 < \sqrt{4-x^2} < 2$. Тому $3 < \sqrt{4-x^2} + 3 < 5$.

Отже, область значень початкової функції — множина $[3; 5)$.

Відповідь. $[3; 5)$.

3.3. Нехай $ABCD$ — задана в умові трапеція. $AB = 16$ см і $DC = 12$ см — основи трапеції.

DK — висота трапеції; $DK = 14$ см. Знайдемо радіус R кола, описаного навколо трапеції, як радіус кола, описаного навколо трикутника ADB , за формулою $2R = \frac{DB}{\sin A}$.



$$AK = \frac{AB - DC}{2} = \frac{16 - 12}{2} = 2 \text{ (см)},$$

тоді $KB = AB - AK = 16 - 2 = 14$ (см).

У $\triangle DKB$ ($\angle K = 90^\circ$):

$$DB = \sqrt{DK^2 + KB^2} = \sqrt{14^2 + 14^2} = 14\sqrt{2} \text{ (см)}.$$

У $\triangle DKA$ ($\angle K = 90^\circ$):

$$AD = \sqrt{AK^2 + KD^2} = \sqrt{2^2 + 14^2} = \sqrt{200} = 10\sqrt{2} \text{ (см)}.$$

Також у цьому трикутнику $\sin A = \frac{DK}{AD}$.

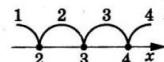
$$\sin A = \frac{14}{10\sqrt{2}} = \frac{7}{5\sqrt{2}}.$$

$$\text{Тоді } 2R = \frac{14\sqrt{2}}{7} = \frac{14\sqrt{2} \cdot 5\sqrt{2}}{7} = 20 \text{ (см)}.$$

Довжина описаного кола $l = 2\pi R = 20\pi$ (см).

Відповідь. 20π см.

4.1*. $|x-2| + |x-3| \geq |x-4|$. Числа, які перетворюють у нулі підмодульні вирази, такі: $x=2$; $x=3$; $x=4$.



1) $x < 2$, тоді

$$|x-2| = -(x-2); |x-3| = -(x-3); |x-4| = -(x-4).$$

$$\text{Маємо: } \begin{cases} x < 2, \\ -x+2-x+3 \geq -x+4; \end{cases} \begin{cases} x < 2, \\ -x \geq -1; \end{cases} \begin{cases} x < 2, \\ x \leq 1; \end{cases} \quad x \leq 1.$$

2) $2 \leq x < 3$, тоді

$$|x-2| = x-2; |x-3| = -(x-3); |x-4| = -(x-4).$$

$$\text{Маємо: } \begin{cases} 2 \leq x < 3, \\ x-2-x+3 \geq -x+4; \end{cases} \begin{cases} 2 \leq x < 3, \\ x \geq 3; \end{cases} \quad \text{немає розв'язків.}$$

3) $3 \leq x < 4$, тоді $|x-2| = x-2$; $|x-3| = x-3$; $|x-4| = -(x-4)$.

$$\text{Маємо: } \begin{cases} 3 \leq x < 4, \\ x-2+x-3 \geq -x+4; \end{cases} \begin{cases} 3 \leq x < 4, \\ 3x \geq 9; \end{cases} \begin{cases} 3 \leq x < 4, \\ x \geq 3; \end{cases} \quad 3 \leq x < 4.$$

4) $x > 4$, тоді $|x-2| = x-2$; $|x-3| = x-3$; $|x-4| = x-4$.

$$\text{Маємо: } \begin{cases} x > 4, \\ x-2+x-3 \geq x-4; \end{cases} \begin{cases} x > 4, \\ x \geq 1; \end{cases} \quad x > 4.$$

Об'єднуючи, маємо $x \in (-\infty; 1] \cup [3; +\infty)$.

Відповідь. $(-\infty; 1] \cup [3; +\infty)$.

4.2*. Нехай O — задана точка, відстань від якої до сторони AB дорівнює b , до сторони BC — c і до сторони AC — d .

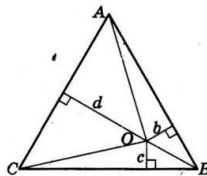
Позначимо $AB=BC=CA=a$, висоту трикутника h .

Маємо:

$$S_{\triangle ABC} = S_{\triangle AOB} + S_{\triangle BOC} + S_{\triangle COA};$$

$$\frac{1}{2}ah = \frac{1}{2}ab + \frac{1}{2}ac + \frac{1}{2}ad;$$

$$\frac{1}{2}ah = \frac{1}{2}a(b+c+d); \quad h = b+c+d, \text{ що й треба було довести.}$$



1.1	1.2	1.3	1.4	1.5	1.6	1.7	1.8	1.9	1.10	1.11	1.12
Г	Г	В	Г	Б	А	Г	В	Б	А	В	Г

2.1	2.2	2.3	2.4
$x = 9$	$(0; 2)$	$5; 2$	7 см

Варіант 38

3.1. Нехай $\overline{ab} = 10a + b$ — шукане двоцифрове натуральне число. За умовою, $a^2 + b^2 = 45$.

Також, за умовою, $\overline{ab} + 27 = \overline{ba}$, тобто $10a + b + 27 = 10b + a$. Звідси маємо: $9b - 9a = 27$; $b - a = 3$.

$$\text{Отримали систему } \begin{cases} b - a = 3, \\ a^2 + b^2 = 45. \end{cases}$$

Розв'яжемо її: $b = 3 + a$; $a^2 + (3 + a)^2 = 45$; $a^2 + 9 + 6a + a^2 - 45 = 0$; $a^2 + 3a - 18 = 0$. Ураховуючи те, що a — цифра, маємо $a = 3$, тоді $b = 3 + 3 = 6$, а шукане число 36.

Відповідь. 36.

3.2. $x^3 - 8x^2 + 8x - 1 = 0$; $(x^3 - 1) + (8x - 8x^2) = 0$; $(x - 1)(x^2 + x + 1) - 8x(x - 1) = 0$; $(x - 1)(x^2 + x + 1 - 8x) = 0$; $(x - 1)(x^2 - 7x + 1) = 0$.

1) $x - 1 = 0$; $x_1 = 1$.

2) $x^2 - 7x + 1 = 0$; $x_{2,3} = \frac{7 \pm \sqrt{7^2 - 4}}{2} = \frac{7 \pm 3\sqrt{5}}{2}$.

Відповідь. $x_1 = 1$; $x_{2,3} = \frac{7 \pm 3\sqrt{5}}{2}$.

3.3. Нехай AM — медіана $\triangle ABC$, а точка K така, що $AK : KB = 2 : 3$. Треба знайти відношення $CL : LK$.

Проведемо $KN \parallel AM$, позначимо $CM = MB = x$.

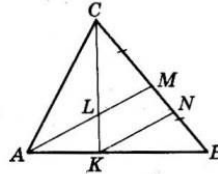
Оскільки $AM \parallel KN$, то, за теоремою Фалеса,

$$\frac{MN}{NB} = \frac{AK}{KB} = \frac{2}{3}. \text{ Тоді } MN = \frac{2}{5} MB = \frac{2}{5} x.$$

Знову використаємо той факт, що $KN \parallel AM$, і теорему

Фалеса: $\frac{CL}{LK} = \frac{CM}{NM}$. Маємо: $\frac{CL}{LK} = \frac{x}{\frac{2}{5}x} = \frac{5}{2}$.

Відповідь. 5 : 2.



4.1^м. Використаємо метод математичної індукції.

1) При $n = 1$ маємо $1^2 = 1$ і $\frac{1(1+1)(2 \cdot 1 + 1)}{6} = 1$.

2) Припустимо, що при $n = k$ рівність виконується, тобто $1^2 + 2^2 + 3^2 + \dots + k^2 = \frac{k(k+1)(2k+1)}{6}$.

3) Доведемо, що рівність виконується при $n = k + 1$, тобто виконується рівність

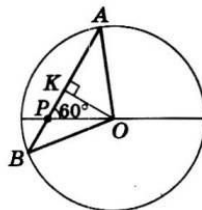
$$1^2 + 2^2 + 3^2 + \dots + k^2 + (k+1)^2 = \frac{(k+1)((k+1)+1)(2(k+1)+1)}{6}.$$

$$\begin{aligned} \text{Маємо: } 1^2 + 2^2 + 3^2 + \dots + k^2 + (k+1)^2 &= \frac{k(k+1)(2k+1)}{6} + (k+1)^2 = \\ &= \frac{k(k+1)(2k+1) + 6(k+1)^2}{6} = \frac{(k+1)(k(2k+1) + 6(k+1))}{6} = \\ &= \frac{(k+1)(2k^2 + 7k + 6)}{6} = \frac{(k+1) \cdot 2(k+1,5)(k+2)}{6} = \\ &= \frac{(k+1)((k+1)+1)(2(k+1)+1)}{6}. \end{aligned}$$

4) Рівність правильна для будь-якого n .

4.2^м. На малюнку точка P належить діаметру кола, AB — хорда, $AP = 8$ см; $BP = 3$ см, тоді $AB = 3 + 8 = 11$ (см).

Проведемо перпендикуляр OK з точки O до хорди AB . Оскільки $\triangle AOB$ — рівнобедрений, то $AK = KB = \frac{11}{2} = 5,5$ (см).



$$PK = AP - AK = 8 - 5,5 = 2,5 \text{ (см)}.$$

$$\text{У } \triangle OPK: OK = PK \operatorname{tg} 60^\circ = 2,5\sqrt{3} \text{ (см)}.$$

$$\text{У } \triangle AOK: AO = \sqrt{AK^2 + KO^2} = \sqrt{5,5^2 + (2,5\sqrt{3})^2} = \sqrt{49} = 7.$$

Отже, радіус кола дорівнює 7 см, а його довжина $l = 2\pi r = 2\pi \cdot 7 = 14\pi$ (см).

Відповідь. 14π см.

1.1	1.2	1.3	1.4	1.5	1.6	1.7	1.8	1.9	1.10	1.11	1.12
Б	В	А	Б	Б	Г	В	В	А	Г	Б	В

2.1	2.2	2.3	2.4
$\frac{3}{a+2}$	$-\frac{1}{3}(x+6) \times (x-3)$	(1; 2), (-1; -2)	16 см

Варіант 39

3.1. Нехай швидкість течії річки, а тому й плота — x км/год, тоді швидкість човна, що рухався за течією, — $(18+x)$ км/год. Щоб подолати 20 км, пліт витратив $\frac{20}{x}$ год, а човен — $\frac{20}{18+x}$ год. Оскільки $18-9=9$ (год), то за умовою задачі маємо рівняння $\frac{20}{x} - \frac{20}{18+x} = 9$.

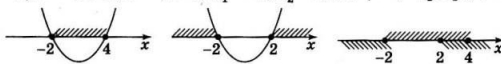
Розв'яжемо це рівняння: $\frac{360+20x-20x}{x(18+x)} = 9$; $40=18x+x^2$; $x^2+18x-40=0$; $x_1=2$; $x_2=-20$.

Другий корінь не задовольняє умову. Отже, швидкість плота 2 км/год, був він у дорозі до того моменту, коли його наздогнав човен, $\frac{20}{2} = 10$ (год), а тому це відбулося о 19 год.

Відповідь. О 19 годині.

3.2. $\begin{cases} x^2 - 2x - 8 < 0, \\ x^2 - 4 > 0, \end{cases}$

- 1) $x^2 - 2x - 8 < 0$; $x^2 - 2x - 8 = 0$; $x_1 = -2$; $x_2 = 4$; $x \in [-2; 4]$.
 2) $x^2 - 8 > 0$; $x^2 - 4 = 0$; $x_1 = -2$; $x_2 = 2$; $x \in (-\infty; -2] \cup [2; +\infty)$.

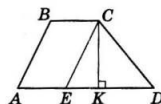


Отже, $x = -2$ або $x \in [2; 4]$.

Цілими розв'язками системи є числа -2 ; 2 ; 3 ; 4 .

Відповідь. -2 ; 2 ; 3 ; 4 .

3.3. Нехай $ABCD$ — задана в умові трапеція; $AD=14$ см і $BC=10$ см — основи трапеції; $AB = 13$ см; $CD = 15$ см.



Площа трапеції $S = \frac{AD+BC}{2} \cdot CK$, де

CK — висота трапеції.

Проведемо $CE \parallel AB$, де $E \in AD$. Тоді $ABCE$ — паралелограм (має дві пари паралельних сторін) і $CE = AB = 13$ см; $AE = BC = 10$ см.

Тоді $ED = AD - AE = 14 - 10 = 4$ (см).

CK — висота $\triangle CED$: $CK = \frac{2S_{\triangle CED}}{ED}$.

$S_{\triangle CED} = \sqrt{p(p-a)(p-b)(p-c)}$; $p = \frac{13+15+4}{2} = 16$ (см).

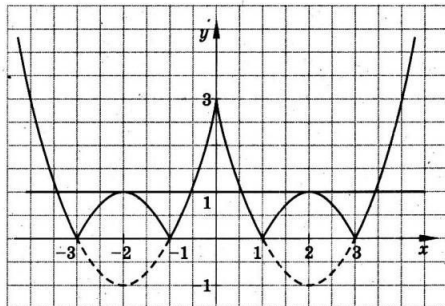
$S_{\triangle CED} = \sqrt{16(16-13)(16-15)(16-4)} = 24$ (см²).

Отже, $CK = \frac{2 \cdot 24}{4} = 12$ (см).

Тоді площа трапеції $S = \frac{14+10}{2} \cdot 12 = 144$ (см²).

Відповідь. 144 см².

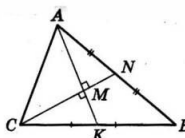
4.1^м. Використаємо графічний метод. Ураховуємо те, що функція $y = |x^2 - 4|x| + 3|$ є парною, та будемо за таким планом: $y = x^2 - 4|x| + 3 \rightarrow y = x^2 - 4|x| + 3 \rightarrow y = |x^2 - 4|x| + 3|$ (див. мал.). Рівняння $|x^2 - 4|x| + 3| = a$ має рівно шість розв'язків, коли графіки функцій $y = |x^2 - 4|x| + 3|$ і $y = a$ мають шість точок перетину.



Пряма $y = a$ паралельна осі абсцис і перетинає графік функції $y = |x^2 - 4|x| + 3|$ у шести точках при $a = 1$.

Відповідь. $a = 1$.

4.2^м. Нехай задано $\triangle ABC$; $AB = 6$ см; $CB = 8$ см; AK і CN — медіани; $AK \perp CN$, AK і CN перетинаються в точці M .



Позначимо $AK = m_a$; $CN = m_c$, тоді

$AM = \frac{2}{3} m_a$; $MK = \frac{1}{3} m_a$; $CM = \frac{2}{3} m_c$;

$MN = \frac{1}{3} m_c$.

У $\triangle CMK$: $(\frac{2}{3} m_c)^2 + (\frac{1}{3} m_a)^2 = 4^2$; у $\triangle AMN$: $(\frac{2}{3} m_a)^2 + (\frac{1}{3} m_c)^2 = 3^2$.

Додамо почленно: $\frac{5}{9} (m_a^2 + m_c^2) = 25$; $m_a^2 + m_c^2 = 45$.

У $\triangle ACM$: $AC = \sqrt{AM^2 + CM^2} = \sqrt{(\frac{2}{3} m_a)^2 + (\frac{2}{3} m_c)^2} = \frac{2}{3} \sqrt{m_a^2 + m_c^2} = \frac{2}{3} \sqrt{45} = \frac{2}{3} \cdot 3\sqrt{5} = 2\sqrt{5}$ (см).

Відповідь. $2\sqrt{5}$ см.

1.1	1.2	1.3	1.4	1.5	1.6	1.7	1.8	1.9	1.10	1.11	1.12
В	В	Б	Г	Г	Б	Г	В	В	Г	Б	В

2.1	2.2	2.3	2.4
-2	(-8; 16]	(-∞; 8]	9 см

Варіант 40

3.1. Нехай швидкість потяга до зупинки дорівнює x км/год, тоді його швидкість після зупинки $(x - 10)$ км/год.

До зупинки він проїхав $\frac{1}{3} \cdot 300 = 100$ (км) і витратив на це $\frac{100}{x}$ год. Після зупинки потяг проїхав $300 - 100 = 200$ (км) і витратив на це $\frac{200}{x-10}$ год. За умовою, $\frac{100}{x} + 1 + \frac{200}{x-10} = 8$. Розв'яжемо

отримане рівняння: $\frac{100}{x} + \frac{200}{x-10} = 7$; $\frac{100x - 1000 + 200x}{x(x-10)} = 7$;

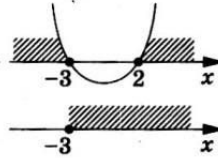
$7(x^2 - 10x) = 300x - 1000$; $7x^2 - 370x + 1000 = 0$. Ураховуючи те, що $x > 10$, маємо $x = 50$.

Отже, швидкість потяга до зупинки дорівнює 50 км/год.

Відповідь. 50 км/год.

3.2. $\begin{cases} x^2 + x - 6 \geq 0, \\ x(x-1) - (x+1)^2 \leq 8. \end{cases}$

Рівняння, що відповідає першій нерівності $x^2 + x - 6 = 0$, має корені $x = 2$; $x = -3$. Розв'язками цієї нерівності є множина $(-\infty; -3] \cup [2; +\infty)$.

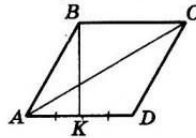


Розв'яжемо другу нерівність системи: $x^2 - x - x^2 - 2x - 1 \leq 8$; $-3x \leq 9$; $x \geq -3$.

Отримаємо розв'язки системи $x = -3$ і $x \in [2; +\infty)$.

Відповідь. $x = -3$; $x \in [2; +\infty)$.

3.3. Нехай $ABCD$ — заданий в умові ромб, BK — висота ромба. Нехай $AB = AD = a$, тоді, за умовою, $AK = KD = \frac{a}{2}$.



У $\triangle ABK$ ($\angle K = 90^\circ$): $\cos A = \frac{AK}{AB} = \frac{\frac{a}{2}}{a} = \frac{1}{2}$,

тому $\angle A = 60^\circ$. Тоді $\angle ABC = 120^\circ$.

AC — більша діагональ ромба, $AC = 4\sqrt{3}$ см (за умовою).

У $\triangle ABC$, за теоремою косинусів,
 $AC^2 = AB^2 + BC^2 - 2 \cdot AB \cdot BC \cdot \cos ABC$;

$(4\sqrt{3})^2 = a^2 + a^2 - 2a^2 \cos 120^\circ$; $16 \cdot 3 = 3a^2$. Звідси, $a = 4$ см.

Тоді площа ромба

$S = AB \cdot AD \cdot \sin BAD = a^2 \sin 60^\circ = 4^2 \cdot \frac{\sqrt{3}}{2} = 8\sqrt{3}$ (см²).

Відповідь. $8\sqrt{3}$ см².

4.1^м. $4x^4 - 16x^3 + 3x^2 + 4x - 1 = 0$.

Подамо $3x^2$ як $4x^2 - x^2$ і згрупуємо доданки:

$(4x^4 - 16x^3 + 4x^2) - (x^2 - 4x + 1) = 0$;

$4x^2(x^2 - 4x + 1) - (x^2 - 4x + 1) = 0$;

$(x^2 - 4x + 1)(4x^2 - 1) = 0$.

Маємо: $x^2 - 4x + 1 = 0$ або $4x^2 - 1 = 0$.

1) $x^2 - 4x + 1 = 0$; $x_{1,2} = 2 \pm \sqrt{3}$;

2) $4x^2 - 1 = 0$; $x_{3,4} = \pm \frac{1}{2}$.

Відповідь. $2 \pm \sqrt{3}$; $\pm \frac{1}{2}$.

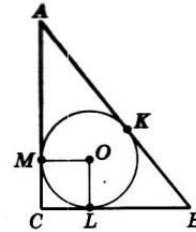
4.2^м. Нехай точка O — центр кола, вписаного у прямокутний трикутник ABC із прямим кутом C , $CO = \sqrt{8}$ см (за умовою).

M, K, L — точки дотику кола відповідно до сторін AC, AB і BC . За умовою,

$BK : KA = 2 : 3$.

Оскільки $OM \perp AC, OL \perp BC, MO = OL$ і $\angle C = 90^\circ$, то $MOLC$ — квадрат, сторони якого дорівнюють радіусу r вписаного кола.

У $\triangle COL$: $CO^2 = CL^2 + LO^2$; $(\sqrt{8})^2 = r^2 + r^2$; $r = 2$ (см).



Позначимо $BK = 2x$; $AK = 3x$, тоді $AB = 5x$. За властивістю відрізків дотичних, $BL = BK = 2x$; $AM = AK = 3x$; $CM = CL = 2$. Тоді $CB = 2x + 2$; $AC = 3x + 2$.

За теоремою Піфагора, $AB^2 = AC^2 + CB^2$;

$(5x)^2 = (3x + 2)^2 + (2x + 2)^2$; $3x^2 - 5x + 2 = 0$.

Ураховуючи, що $x > 0$, маємо $x = 2$. Тоді $AB = 10$ см, $AC = 3 \cdot 2 + 2 = 8$ (см), $CB = 2 \cdot 2 + 2 = 6$ (см).

Відповідь. 6 см, 8 см, 10 см.

1.1	1.2	1.3	1.4	1.5	1.6	1.7	1.8	1.9	1.10	1.11	1.12
Б	Г	В	В	А	Г	В	Б	Г	А	Б	В
2.1	2.2	2.3	2.4								
3	$-2a^3b^2$	$[-2; 0) \cup (0; 1]$	63 см								

Варіант 41

3.1. Нехай x км/год — швидкість велосипедиста, тоді $(x+45)$ км/год — швидкість мотоцикліста. Від міста A до міста B велосипедист проїхав за $\frac{60}{x}$ год, а мотоцикліст — за

$$\frac{60}{x+45} \text{ год. За умовою } \frac{60}{x} - \frac{60}{x+45} = 3, \text{ або } \frac{20}{x} - \frac{20}{x+45} = 1.$$

Розв'яжемо отримане рівняння:

$$\frac{20x+900-20x}{x(x+45)} = 1; \quad x^2+45x-900=0; \quad x_1=15; \quad x_2=-60.$$

Другий корінь не задовольняє умову задачі. Отже, швидкість велосипедиста 15 км/год.

Відповідь. 15 км/год.

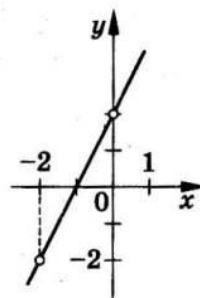
3.2. $y = \frac{x^2+6x+8}{x+2} - \frac{2x-x^2}{x}$. Областю допустимих значень є множина всіх чисел, крім -2 і 0 . Спростимо функцію на ОДЗ:

$$y = \frac{(x+2)(x+4)}{x+2} - \frac{x(2-x)}{x}; \quad y = x+4 - (2-x);$$

$$y = 2x+2.$$

Отже, графіком функції є пряма $y=2x+2$ з «виколотими» точками $(0; 2)$ і $(-2; -2)$.

Графік зображено на малюнку.



3.3. Нехай коло вписано у прямокутний трикутник ABC з гіпотенузою AB ; K, N, M — точки дотику кола відповідно до сторін AB, AC і BC .

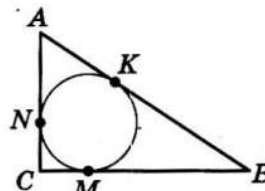
За умовою, $AK=4$ см, $KB=6$ см. За властивістю дотичних, $AN=AK=4$ см; $BM=BK=6$ см, а також $CN=CM$.

Позначимо $CN=CM=x$. За теоремою Піфагора, маємо:

$$AB^2 = AC^2 + CB^2; \quad 10^2 = (4+x)^2 + (6+x)^2;$$

$$100 = 16 + 8x + x^2 + 36 + 12x + x^2; \quad x^2 + 10x - 24 = 0.$$

Звідси $x_1=2$; $x_2=-12$. Другий корінь не задовольняє умову. Маємо: $AB=10$ см; $AC=4+2=6$ (см); $BC=6+2=8$ (см) і $P=10+6+8=24$ (см).



$$4.1^m. \begin{cases} x+y+\sqrt{xy} = 13, \\ x^2+xy+y^2 = 91. \end{cases}$$

Маємо $x+y = 13 - \sqrt{xy}$, піднесемо ліву і праву частини до квадрата (у кінці потрібно виконати перевірку):

$$x^2+2xy+y^2 = 169 - 26\sqrt{xy} + xy; \quad x^2+xy+y^2 = 169 - 26\sqrt{xy}.$$

Але $x^2+xy+y^2=91$ (виходячи з другого рівняння), тому $91 = 169 - 26\sqrt{xy}$; $\sqrt{xy} = 3$; $xy = 9$. Маємо систему:

$$\begin{cases} xy = 9, \\ x+y+\sqrt{9} = 13; \end{cases} \quad \begin{cases} xy = 9, \\ x+y = 10. \end{cases} \quad \text{Звідси } x_1=1, y_1=9 \text{ або } x_2=9, y_2=1.$$

Перевіркою переконаємося в тому, що ці пари задовольняють початкову систему.

Відповідь. $(1; 9), (9; 1)$.

4.2^m. Радіус кола дорівнює відстані від точки $O(1; -2)$ до прямої $3x-4y+9=0$. Отже, $r = \frac{|3 \cdot 1 - 4 \cdot (-2) + 9|}{\sqrt{3^2 + (-4)^2}} = \frac{20}{5} = 4$.

Шукане рівняння кола

$$(x-1)^2 + (y+2)^2 = 4^2, \text{ або } (x-1)^2 + (y+2)^2 = 16.$$

Відповідь. $(x-1)^2 + (y+2)^2 = 16$.

1.1	1.2	1.3	1.4	1.5	1.6	1.7	1.8	1.9	1.10	1.11	1.12
Б	В	Б	В	В	Г	В	Г	Г	Б	В	В
2.1	2.2	2.3	2.4								
20	$a=2; c=-24$	0,675	$3\pi \text{ см}^2$								

Варіант 42

3.1. Оскільки турист плотом повернувся назад, то моторним човном він плыв проти течії. Нехай x км/год — швидкість течії. Тоді швидкість човна проти течії дорівнює $(15-x)$ км/год. 18 км проти течії турист долає за $\frac{18}{15-x}$ год,

а 18 км плотом — за $\frac{18}{x}$ год. За умовою $\frac{18}{x} - \frac{18}{15-x} = 4,5$;

$$\frac{18}{x} - \frac{18}{15-x} = \frac{9}{2}, \text{ або } \frac{2}{x} - \frac{2}{15-x} = \frac{1}{2}.$$

Розв'яжемо отримане рівняння: $\frac{30-2x-2x}{x(15-x)} = \frac{1}{2}$; $2(30-4x) = 15x-x^2$; $x^2-23x+60=0$; $x_1=20$; $x_2=3$.

Перший корінь не задовольняє умову задачі. Отже, швидкість течії 3 км/год.

Відповідь. 3 км/год.

3.2. За теоремою Вієта, $x_1 + x_2 = -\frac{-3}{2} = 1,5$; $x_1 x_2 = \frac{-4}{2} = -2$.
Маємо $x_1^2 + x_2^2 = (x_1 + x_2)^2 - 2x_1 x_2 = 1,5^2 - 2 \cdot (-2) = 2,25 + 4 = 6,25$.

Відповідь. 6,25.

3.3. Нехай $a=3$ см; $b=5$ см; $\gamma=120^\circ$. Знайдемо третю сторону за теоремою косинусів:

$$c^2 = a^2 + b^2 - 2ab \cos \gamma; c = \sqrt{3^2 + 5^2 - 2 \cdot 3 \cdot 5 \cos 120^\circ} = \sqrt{49} = 7 \text{ (см)}.$$

Периметр даного трикутника $P=3+5+7=15$ (см), а периметр подібного йому $P'=30$ (см). Тому коефіцієнт подібності

$$k = \frac{P'}{P} = \frac{30}{15} = 2, \text{ площа другого трикутника у } 2^2=4 \text{ рази більша}$$

за площу даного.

$$\text{Площа даного трикутника } S = \frac{1}{2} \cdot 3 \cdot 5 \cdot \sin 120^\circ = \frac{15\sqrt{3}}{4} \text{ (см}^2\text{)}.$$

Тоді площа подібного трикутника $S' = 4S = 15\sqrt{3}$ (см²).

Відповідь. $15\sqrt{3}$ см².

$$\begin{aligned} 4.1^m. & \sqrt{11-2\sqrt{28}} - \sqrt{11+2\sqrt{28}} = \sqrt{4-2 \cdot 2\sqrt{7}+7} - \sqrt{4+2 \cdot 2\sqrt{7}+7} = \\ & = \sqrt{2^2-2 \cdot 2 \cdot \sqrt{7}+(\sqrt{7})^2} - \sqrt{2^2+2 \cdot 2 \cdot \sqrt{7}+(\sqrt{7})^2} = \sqrt{(2-\sqrt{7})^2} - \\ & - \sqrt{(2+\sqrt{7})^2} = |2-\sqrt{7}| - |2+\sqrt{7}| = -(2-\sqrt{7}) - (2+\sqrt{7}) = \\ & = -2+\sqrt{7}-2-\sqrt{7} = -4. \text{ Доведено.} \end{aligned}$$

4.2^m. Нехай $O(a; b)$ — центр описаного навколо $\triangle ABC$ кола. Тоді $OA=OB=OC$ і $OA^2=OB^2=OC^2$; $OA^2=(2-a)^2+(9-b)^2$;
 $OB^2=(11-a)^2+(b-0)^2$; $OC^2=(-5-a)^2+(-4-b)^2$.

Маємо $OA^2=OB^2$; $OB^2=OC^2$, звідси система

$$\begin{cases} (2-a)^2 + (9-b)^2 = (11-a)^2 + b^2, & \begin{cases} 18a - 18b = 36, \\ 8b + 32a = 80; \end{cases} \\ (11-a)^2 + b^2 = (5+a)^2 + (4+b)^2; & \begin{cases} a - b = 2, \\ 4a + b = 10, \end{cases} \end{cases}$$

звідси $5a=12$; $a=2,4$, тоді $b=0,4$.

Отже, $O(2,4; 0,4)$ — центр описаного кола. Його радіус

$$OA = \sqrt{(2-2,4)^2 + (9-0,4)^2} = \sqrt{0,4^2 + 8,6^2} = \sqrt{74,12}.$$

Рівняння описаного кола $(x-2,4)^2 + (y-0,4)^2 = 74,12$.

Відповідь. $(x-2,4)^2 + (y-0,4)^2 = 74,12$.

1.1	1.2	1.3	1.4	1.5	1.6	1.7	1.8	1.9	1.10	1.11	1.12
Г	В	Б	А	Г	В	Г	В	В	Б	Б	А

2.1	2.2	2.3	2.4
1; -1; -2	(2; 4)	$1\frac{63}{64}$	21 см

Варіант 43

3.1. Нехай перша бригада, працюючи самостійно, може виконати завдання за x год, тоді друга — за $(x + 6)$ год. За одну годину перша бригада виконає $\frac{1}{x}$ частину завдання, а

друга — $\frac{1}{x+6}$ частину завдання.

Перша бригада працювала 3 год і виконала $\frac{3}{x}$ частини завдання, а друга бригада працювала 5 год і виконала $\frac{5}{x+6}$ частини завдання.

За умовою, $\frac{3}{x} + \frac{5}{x+6} = \frac{2}{3}$. Розв'яжемо отримане рівняння:

$$\frac{3x+18+5x}{x(x+6)} = \frac{2}{3}; x^2 - 6x - 27 = 0; x_1 = 9; x_2 = -3.$$

Другий корінь не задовольняє умову задачі. Отже, перша бригада може виконати завдання, працюючи окремо, за 9 год, а друга — за 15 год.

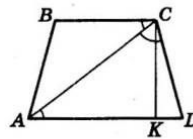
Відповідь. 9 год і 15 год.

3.2. $\sqrt{7 - \sqrt{|x| - 5}} = 2$. Тоді $7 - \sqrt{|x| - 5} = 2^2$; $\sqrt{|x| - 5} = 3$. Звідси $|x| - 5 = 9$; $|x| = 14$.

Тому $x = 14$ або $x = -14$.

Відповідь. 14; -14.

3.3. Нехай $ABCD$ — рівнобічна трапеція; $AD = 10$ см; $BC = 6$ см — основи трапеції; $\angle ACB = \angle ACD$ (за умовою). $\angle CAD = \angle BCA$ (як внутрішні різносторонні кути, утворені при перетині паралельних прямих AD і BC січною AC).



Тому $\angle ACD = \angle CAD$ і $\triangle ACD$ — рівнобедрений. Звідси $CD = AD = 10$ см.

Проведемо висоту CK ;

$$KD = \frac{AD - BC}{2} = \frac{10 - 6}{2} = 2 \text{ (см)}; AK = 10 - 2 = 8 \text{ (см)}.$$

$$\text{У } \triangle CKD: CK = \sqrt{CD^2 - KD^2} = \sqrt{10^2 - 2^2} = \sqrt{96}.$$

$$\text{У } \triangle ACK: AC = \sqrt{CK^2 + KA^2} = \sqrt{(\sqrt{96})^2 + 8^2} = \sqrt{160} = 4\sqrt{10} \text{ (см)}.$$

Відповідь. $4\sqrt{10}$ см.

4.1^м. Нехай $m \in N, n \in N$ і $m^3 - n^3 = 19$. Тоді

$$19 = (m - n)(m^2 + mn + n^2). \quad (*)$$

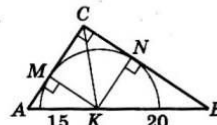
Оскільки $m > 1, n > 1$, то $m^2 + mn + n^2 > 3$. Зазначимо, що множники $m^2 + mn + n^2$ і $m - n$ — натуральні числа і 19 — просте число. Тоді єдина можливість виконання рівності (*) така: $m - n = 1$ і $m^2 + mn + n^2 = 19$.

$$\text{Маємо систему } \begin{cases} m = 1 + n, \\ (1 + n)^2 + (1 + n)n + n^2 = 19. \end{cases}$$

Звідси маємо $n^2 + n - 6 = 0$. Оскільки $n \in N$, то $n = 2$, тоді $m = 3$. Отже, $19 = 3^3 - 2^3$; подання єдине.

Відповідь. $19 = 3^3 - 2^3$.

4.2^м. Нехай маємо $\triangle ABC, \angle C = 90^\circ$, точка K — центр півкола, про який іде мова в задачі; KM і KN — радіуси, що проведені в точки дотику півкола з катетами AC і BC відповідно.



$\triangle KMC = \triangle KNC$ (за катетом і гіпотенузою), тому $\angle MCK = \angle NCK$ і CK — бісектриса $\triangle ACB$.

За властивістю бісектриси, $\frac{AC}{BC} = \frac{AK}{KB}$; $\frac{AC}{BC} = \frac{15}{20} = \frac{3}{4}$. Можемо позначити $AC = 3x$; $BC = 4x$.

$$\text{Тоді } (3x)^2 + (4x)^2 = 35^2; 25x^2 = 35^2; 5x = 35; x = 7.$$

$$\text{Маємо } AC = 3 \cdot 7 = 21 \text{ (см)}, BC = 4 \cdot 7 = 28 \text{ (см)};$$

$$S_{\triangle ABC} = \frac{1}{2} \cdot 21 \cdot 28 = 294 \text{ (см}^2\text{)}.$$

Розглянемо $MK = KN = 2$. Маємо $S_{\triangle ABC} = S_{\triangle AKC} + S_{\triangle KCB}$;

$$294 = \frac{1}{2} \cdot AC \cdot 2 + \frac{1}{2} \cdot BC \cdot 2; r = \frac{2 \cdot 294}{21 + 28} = 12 \text{ (см)}.$$

Зрозуміло, що $\angle MKN = 360^\circ - 3 \cdot 90^\circ = 90^\circ$, тому дуга MN — чверть кола, її довжина $l = \frac{2\pi r}{4} = \frac{\pi \cdot 12}{2} = 6\pi$ (см).

Відповідь. 6π см.

1.1	1.2	1.3	1.4	1.5	1.6	1.7	1.8	1.9	1.10	1.11	1.12
Г	В	В	Б	В	Б	В	Г	Г	В	А	Г

2.1	2.2	2.3	2.4
$\frac{a+b}{b}$	1000	(6; -1), (-2,25; 1,75)	24 см

Варіант 44

3.1. Нехай планувалося використати x машин, тоді на кожну повинні були навантажити $\frac{60}{x}$ т вантажу. Але використали $(x-2)$ машини і на кожну навантажили $\frac{60}{x-2}$ т вантажу.

За умовою $\frac{60}{x-2} - \frac{60}{x} = 1$.

Розв'яжемо отримане рівняння:

$$\frac{60x - 60x + 120}{x(x-2)} = 1; x^2 - 2x - 120 = 0; x_1 = 12; x_2 = -10.$$

Другий корінь не задовольняє умову. Отже, планували використати 12 машин, а використали 10.

Відповідь. 10 машин.

3.2. Оскільки $b_5 = b_3 q^2$, то маємо $q^2 = \frac{b_5}{b_3} = \frac{81}{9} = 9$, $q = 3$ або $q = -3$.

1) $q = 3$, тоді $b_1 = \frac{b_3}{q^2} = \frac{9}{3^2} = 1$; $S_6 = \frac{b_1(q^6 - 1)}{q - 1} = \frac{1 \cdot (3^6 - 1)}{3 - 1} = 364$.

2) $q = -3$, тоді

$$b_1 = \frac{b_3}{q^2} = \frac{9}{(-3)^2} = 1; S_6 = \frac{b_1(q^6 - 1)}{q - 1} = \frac{1 \cdot ((-3)^6 - 1)}{-3 - 1} = -182.$$

Відповідь. 364 або -182.

3.3. Нехай a і b — катети даного трикутника, c — його гіпотенуза; S — площа, а a' , b' , c' і S' — відповідно катети, гіпотенуза і площа подібного йому трикутника.

За умовою $c = 5$ см; $a = 3$ см. Тоді $b = \sqrt{c^2 - a^2} = \sqrt{5^2 - 3^2} = 4$ (см) і $a' = 3x$ (см), $b' = 4x$ (см), $c' = 5x$ (см).

За умовою, $S' = 54$ (см²), тобто $\frac{1}{2} \cdot 3x \cdot 4x = 54$, $x^2 = 9$, $x = 3$.

Тоді $c' = 5 \cdot 3 = 15$ (см).

Відповідь. 15 см.

4.1^м. Доведення. За нерівністю Коші для середнього арифметичного і середнього геометричного двох чисел, ураховуючи $x > 0$, $y > 0$, $z > 0$, маємо: $\frac{x+y}{2} \geq \sqrt{xy}$; $\frac{y+z}{2} \geq \sqrt{yz}$; $\frac{z+x}{2} \geq \sqrt{zx}$. Ліві і праві частини нерівностей додатні, можемо

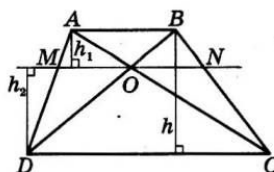
почленно перемножити: $\frac{(x+y)(y+z)(z+x)}{8} \geq \sqrt{x^2 y^2 z^2}$.

Ураховуючи $x > 0$, $y > 0$, $z > 0$, маємо: $\frac{(x+y)(y+z)(z+x)}{xyz} \geq 8$;

$\left(\frac{x+y}{x}\right)\left(\frac{y+z}{y}\right)\left(\frac{z+x}{z}\right) \geq 8$; $\left(1 + \frac{y}{x}\right)\left(1 + \frac{z}{y}\right)\left(1 + \frac{x}{z}\right) \geq 8$, що й треба було довести.

4.2^м. Нехай точка O — точка перетину діагоналей трапеції $ABCD$; $AB = 3$ см і $DC = 7$ см — основи трапеції.

Пряма MN паралельна основам трапеції і проходить через точку O . Знайдемо спочатку довжину відрізка MO . Позначимо $MO = x$.



$\triangle AMO \sim \triangle ADC$ (за двома кутами), тоді $\frac{MO}{DC} = \frac{h_1}{h}$; $\frac{x}{7} = \frac{h_1}{h}$, де h — висота трапеції і $\triangle DBC$, h_1 — висота $\triangle AMO$.

Аналогічно $\triangle DMO \sim \triangle DAB$, тоді $\frac{MO}{AB} = \frac{h_2}{h}$; $\frac{x}{3} = \frac{h_2}{h}$, де h_2 — висота $\triangle DMO$, h — висота трапеції і $\triangle DAB$. Додамо почленно рівності $\frac{x}{7} = \frac{h_1}{h}$ і $\frac{x}{3} = \frac{h_2}{h}$, маємо $\frac{x}{7} + \frac{x}{3} = \frac{h_1 + h_2}{h}$. Але $h_1 + h_2 = h$, тому $\frac{x}{7} + \frac{x}{3} = 1$; $x\left(\frac{1}{7} + \frac{1}{3}\right) = 1$; $x = \frac{21}{10} = 2,1$ (см).

Аналогічно можна довести, що $ON = 2,1$ см.

Тому $MN = 2 \cdot 2,1 = 4,2$ (см).

Відповідь. 4,2 см.

1.1	1.2	1.3	1.4	1.5	1.6	1.7	1.8	1.9	1.10	1.11	1.12
В	Б	Б	В	В	В	В	Г	Б	А	Г	Г

2.1	2.2	2.3	2.4
$\frac{3}{x-1}$	$[6; +\infty)$	$[4; +\infty)$	$K(1; -2)$

Варіант 45

3.1. Нехай $\overline{ab} = 10a + b$ — шукане двоцифрове натуральне число. За умовою, $10a + b = 4(a + b)$ і $10a + b = 3ab$.

Після спрощення першого рівняння отримуємо $6a = 3b$, тобто $b = 2a$.

Підставимо у друге рівняння замість b вираз $2a$. Отримаємо $10a + 2a = 3a \cdot 2a$; $6a^2 - 12a = 0$; $6a(a - 2) = 0$. Оскільки a — цифра і $a \neq 0$, то $a = 2$. Тоді $b = 4$. Шукане число — 24.

Відповідь. 24.

3.2. Доведення. Оскільки a, b і c — три послідовних члени арифметичної прогресії, то $\frac{a+c}{2} = b$.

Розглянемо різницю лівої і правої частин умовної тотожності, яку треба довести.

$$\begin{aligned} (a+2b)^2 - (8ab+c^2) &= \left(a+2\frac{a+c}{2}\right)^2 - \left(8a \cdot \frac{a+c}{2} + c^2\right) = \\ &= (2a+c)^2 - (4a(a+c) + c^2) = 4a^2 + 4ac + c^2 - 4a^2 - 4ac - c^2 = 0. \end{aligned}$$

Отже, $(a+2b)^2 = 8ab + c^2$, що й треба було довести.

3.3. Нехай a і b — катети прямокутного трикутника, c — його гіпотенуза. За умовою $a:b=20:21$. Позначимо $a=20x$ см, $b=21x$ см. Тоді $c = \sqrt{a^2+b^2} = \sqrt{(20x)^2+(21x)^2} = 29x$.

Нехай R — радіус описаного кола, r — радіус вписаного. За умовою $R-r=17$ (см). Використовуючи відомі формули, маємо:

$$R-r = \frac{c}{2} - \frac{a+b-c}{2} = \frac{2c-(a+b)}{2} = \frac{2 \cdot 29x - (20x+21x)}{2} = \frac{17x}{2}.$$

Отже, $\frac{17x}{2} = 17$; $x=2$. Тоді гіпотенуза $c = 29 \cdot 2 = 58$ (см).

Відповідь. 58 см.

4.1^м. Задане рівняння є однорідним. Число 0 не є коренем рівняння. Поділимо обидві частини рівняння на x^2 . Маємо:

$$\left(\frac{x^2+2x-2}{x}\right)^2 + \frac{x^2+2x-2}{x} = 2.$$

Заміна $\frac{x^2+2x-2}{x} = t$. Тоді маємо $t^2 + t - 2 = 0$; $t_1 = 1$; $t_2 = -2$.

1) $t_1 = 1$; $\frac{x^2+2x-2}{x} = 1$; $x^2 + 2x - 2 = x$; $x^2 + x - 2 = 0$;
 $x_1 = 1$; $x_2 = -2$.

2) $t_2 = -2$; $\frac{x^2+2x-2}{x} = -2$; $x^2 + 2x - 2 = -2x$; $x^2 + 4x - 2 = 0$;

$$x_{3,4} = \frac{-4 \pm \sqrt{24}}{2}; x_{3,4} = -2 \pm \sqrt{6}.$$

Відповідь. $x_1 = 1$; $x_2 = -2$; $x_{3,4} = -2 \pm \sqrt{6}$.

4.2^м. Оскільки задана в умові трапеція вписана в коло, то вона є рівнобічною. На малюнку зображено рівнобічну трапецію $ABCD$, у якій $AD = 8$ см і $BC = 2$ см — основи.

Оскільки трапеція вписана в коло, то $AB + CD = AD + BC$, тому

$$AB = CD = \frac{8+2}{2} = 5 \text{ (см)}.$$

$$AE = \frac{AD-BC}{2} = \frac{8-2}{2} = 3 \text{ (см)}.$$

$$\text{У } \triangle ABE: BE = \sqrt{AB^2 - AE^2} = \sqrt{5^2 - 3^2} = 4 \text{ (см)}.$$

$$\text{Тоді радіус вписаного кола } r = \frac{BE}{2} = \frac{4}{2} = 2 \text{ (см)}.$$

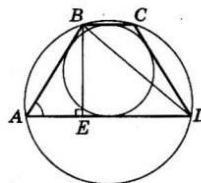
Знайдемо радіус R кола, описаного навколо трапеції як радіус кола, описаного навколо $\triangle ABD$, а саме: $2R = \frac{BD}{\sin \angle BAD}$.

$$\text{У } \triangle BAE: \sin \angle BAE = \frac{BE}{AB} = \frac{4}{5}. ED = DA - AE = 8 - 3 = 5 \text{ (см)}.$$

$$\text{У } \triangle BED: BD = \sqrt{BE^2 + ED^2} = \sqrt{4^2 + 5^2} = \sqrt{41} \text{ (см)}.$$

$$\text{Тоді } R = \frac{\sqrt{41}}{2 \cdot \frac{4}{5}} = \frac{5\sqrt{41}}{8} \text{ (см)}.$$

Відповідь. 2 см; $\frac{5\sqrt{41}}{8}$ см.



1.1	1.2	1.3	1.4	1.5	1.6	1.7	1.8	1.9	1.10	1.11	1.12
В	Г	В	Б	Б	А	Б	В	А	Б	Г	Б
2.1	2.2	2.3	2.4								
b^{-7}	$\frac{\sqrt{13} + \sqrt{5}}{2}$	$[-2; 2)$	5								

Варіант 46

3.1. Нехай перше з п'яти невідомих послідовних парних натуральних чисел дорівнює x , тоді друге $-x + 2$, третє $-x + 4$, четверте $-x + 6$, п'яте $-x + 8$. За умовою, $x^2 + (x + 2)^2 + (x + 4)^2 = (x + 6)^2 + (x + 8)^2$. Розв'яжемо отримане рівняння: $x^2 + x^2 + 4x + 4 + x^2 + 8x + 16 = x^2 + 12x + 36 + x^2 + 16x + 64$; $x^2 - 16x - 80 = 0$; $x_1 = 20$; $x_2 = -4$.

Оскільки задані в умові числа є натуральними, то перше із чисел дорівнює 20, друге -22 , третє -24 , четверте -26 , п'яте -28 .

Відповідь. 20; 22; 24; 26; 28.

3.2. $\begin{cases} x + xy + 3y = 3, \\ 2x - xy - y = -2. \end{cases}$ Додамо рівняння системи. Маємо:

$3x + 2y = 1$. Звідси $y = 0,5 - 1,5x$. Підставляємо у друге рівняння: $2x - x(0,5 - 1,5x) - (0,5 - 1,5x) = -2$;

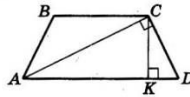
$$2x - 0,5x + 1,5x^2 - 0,5 + 1,5x = -2; 1,5x^2 + 3x + 1,5 = 0;$$

$$x = -1.$$

$$\text{Тоді } y = 0,5 - 1,5 \cdot (-1); y = 2.$$

Відповідь. $(-1; 2)$.

3.3. Нехай $ABCD$ — задана в умові рівнобічна трапеція; $BC = 12$ см; $AD = 20$ см; $AC \perp CD$.



Проведемо висоту трапеції CK . Маємо:

$$KD = \frac{AD - BC}{2} = \frac{20 - 12}{2} = 4 \text{ (см)}.$$

$$AK = AD - KD = 20 - 4 = 16 \text{ (см)}.$$

У прямокутному трикутнику ACD відрізок CK — висота, що проведена до гіпотенузи. Маємо: $CK^2 = AK \cdot KD$. Тоді $CK = \sqrt{4 \cdot 16} = 8$ (см).

$$\text{Площа трапеції } S = \frac{AD + BC}{2} \cdot CK = \frac{20 + 12}{2} \cdot 8 = 128 \text{ (см}^2\text{)}.$$

Відповідь. 128 см².

4.1*. Маємо

$$\sqrt{x^2 \pm 4x\sqrt{2} + 8} = \sqrt{x^2 \pm 2x \cdot 2\sqrt{2} + (2\sqrt{2})^2} = \sqrt{(x \pm 2\sqrt{2})^2} = |x \pm 2\sqrt{2}|.$$

$$\text{Тоді } \frac{\sqrt{x - 2\sqrt{2}}}{\sqrt{x^2 - 4x\sqrt{2} + 8}} - \frac{\sqrt{x + 2\sqrt{2}}}{\sqrt{x^2 + 4x\sqrt{2} + 8}} = \frac{\sqrt{x - 2\sqrt{2}}}{|x - 2\sqrt{2}|} - \frac{\sqrt{x + 2\sqrt{2}}}{|x + 2\sqrt{2}|}.$$

Оскільки $x = 3$, то $x + 2\sqrt{2} > 0$ і $x - 2\sqrt{2} > 0$.

$$\text{Тому } |x + 2\sqrt{2}| = x + 2\sqrt{2} \text{ і } |x - 2\sqrt{2}| = x - 2\sqrt{2}.$$

$$\begin{aligned} \text{Маємо } \frac{\sqrt{x - 2\sqrt{2}}}{x - 2\sqrt{2}} - \frac{\sqrt{x + 2\sqrt{2}}}{x + 2\sqrt{2}} &= \frac{1}{\sqrt{x - 2\sqrt{2}}} - \frac{1}{\sqrt{x + 2\sqrt{2}}} = \\ &= \frac{\sqrt{x + 2\sqrt{2}} - \sqrt{x - 2\sqrt{2}}}{\sqrt{x^2 - (2\sqrt{2})^2}} = \frac{\sqrt{x + 2\sqrt{2}} - \sqrt{x - 2\sqrt{2}}}{\sqrt{x^2 - 8}}. \end{aligned}$$

Якщо $x = 3$, то

$$\begin{aligned} \sqrt{x + 2\sqrt{2}} &= \sqrt{3 + 2\sqrt{2}} = \sqrt{2 + 2\sqrt{2} + 1} = \sqrt{(\sqrt{2} + 1)^2} = \\ &= |\sqrt{2} + 1| = \sqrt{2} + 1. \end{aligned}$$

$$\text{Тоді } \frac{\sqrt{x + 2\sqrt{2}} - \sqrt{x - 2\sqrt{2}}}{\sqrt{x^2 - 8}} = \frac{\sqrt{2} + 1 - (\sqrt{2} - 1)}{\sqrt{3^2 - 8}} = 2.$$

Відповідь. 2.

4.2*. Нехай OK — висота $\triangle OBC$, а OL — висота $\triangle OAC$. Позначимо $AC = b$; $BC = a$.

$$S_{\triangle OBC} = \frac{1}{3} S_{\triangle ABC}, \text{ тому } OK = \frac{1}{3} AC; OK = \frac{1}{3} b.$$

$$S_{\triangle OCA} = \frac{1}{3} S_{\triangle ABC}, \text{ тому } OL = \frac{1}{3} BC; OL = \frac{1}{3} a.$$

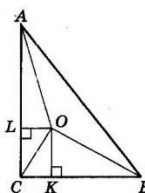
$$\text{Тоді } AL = AC - LC = \frac{2}{3} b;$$

$$KB = CB - CK = \frac{2}{3} a.$$

$$\text{У } \triangle OCK \text{ (} CK = OL = \frac{1}{3} a\text{): } OC^2 = OK^2 + KB^2 = \frac{1}{9}(a^2 + b^2); (*)$$

$$\text{у } \triangle OKB: OB^2 = OK^2 + KB^2 = \frac{1}{9}b^2 + \frac{4}{9}a^2;$$

$$\text{у } \triangle AOL: OA^2 = AL^2 + LO^2 = \frac{4}{9}b^2 + \frac{1}{9}a^2.$$



Додавши два останніх рівняння і врахувавши умову $OA^2 + OB^2 = d^2$, маємо: $d^2 = OB^2 + OA^2 = \frac{5}{9}(b^2 + a^2)$. Звідси $a^2 + b^2 = \frac{9}{5}d^2$.

Підставимо це в (*), отримаємо $OC^2 = \frac{1}{9} \cdot \frac{9}{5}d^2 = \frac{d^2}{5}$. Тому $OC = \frac{d}{\sqrt{5}}$.

Відповідь. $\frac{d}{\sqrt{5}}$.

1.1	1.2	1.3	1.4	1.5	1.6	1.7	1.8	1.9	1.10	1.11	1.12
В	В	Г	Б	Г	В	Г	Г	Б	Г	Б	В
2.1	2.2	2.3	2.4								
$x = 1$	8	$\frac{1}{3}$	88 см ²								

Варіант 47

3.1. Нехай x км/год — власна швидкість човна, тоді його швидкість за течією $(x+3)$ км/год, а проти течії — $(x-3)$ км/год. 45 км за течією човен долає за $\frac{45}{x+3}$ год, а проти течії — за $\frac{45}{x-3}$ год. За умовою $\frac{45}{x+3} + \frac{45}{x-3} = 8$.

Розв'яжемо отримане рівняння: $\frac{45x - 135 + 45x + 135}{x^2 - 9} = 8$;

$8(x^2 - 9) = 90x$; $8x^2 - 90x - 72 = 0$; $x_1 = 12$; $x_2 = -0,75$.

Другий корінь не задовольняє умову. Отже, власна швидкість човна — 12 км/год.

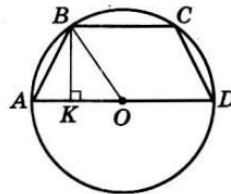
Відповідь. 12 км/год.

3.2. Маємо $S_1 = a_1 = 2 \cdot 1^2 + 1 = 3$; $S_2 = 2 \cdot 2^2 + 2 = 10$. Але $S_2 = a_1 + a_2$, тому $a_2 = S_2 - a_1$; $a_2 = 10 - 3$; $a_2 = 7$. Тоді $d = a_2 - a_1$; $d = 7 - 3$; $d = 4$.

Відповідь. $a_1 = 3$; $d = 4$.

3.3. Оскільки навколо трапеції можна описати коло, то вона рівнобічна. $BC : AD = 1 : 2$ (за умовою), нехай точка O — центр кола; $O \in AD$.

Позначимо $BC = x$, тоді $AD = 2x$ і $AO = OD = x$. У $\triangle AOB$: $AO = OB = x$ (як радіуси кола). Проведемо висоту трапеції BK .



$AK = \frac{AD - BC}{2} = \frac{2x - x}{2} = \frac{x}{2}$, тоді $KO = AO - AK = x - \frac{x}{2} = \frac{x}{2}$.

У $\triangle BKO$ ($\angle K = 90^\circ$): $KO = \frac{1}{2}BO$, тому $\angle KBO = 30^\circ$ і $\angle BOK = 60^\circ$.

У $\triangle AOB$: $AO = OB$, тому $\angle BAO = \angle ABO = \frac{180^\circ - 60^\circ}{2} = 60^\circ$. Отже,

у трапеції $\angle A = \angle D = 60^\circ$; $\angle ABC = \angle C = 180^\circ - 60^\circ = 120^\circ$.

Відповідь. 60° ; 60° ; 120° ; 120° .

4.1^м. Оскільки a^2 і b — числа додатні, то, за нерівністю Коші для середнього арифметичного і середнього геометричного, отримаємо:

$$\frac{a^2 + b}{2} \geq \sqrt{a^2 b}, \text{ або } a^2 + b \geq 2\sqrt{a^2 b}. \quad (*)$$

Аналогічно, застосувавши нерівність Коші до чисел $\frac{1}{a}$ і $\frac{1}{b^2}$, які додатні, отримаємо:

$$\frac{\frac{1}{a} + \frac{1}{b^2}}{2} \geq \sqrt{\frac{1}{a} \cdot \frac{1}{b^2}}, \text{ або } \frac{1}{a} + \frac{1}{b^2} \geq 2\sqrt{\frac{1}{a} \cdot \frac{1}{b^2}}. \quad (**)$$

Перемноживши почленно нерівності (*) і (**), маємо:

$$(a^2 + b) \left(\frac{1}{a} + \frac{1}{b^2} \right) \geq 4 \sqrt{a^2 b \cdot \frac{1}{a} \cdot \frac{1}{b^2}}; \quad (a^2 + b) \left(\frac{1}{a} + \frac{1}{b^2} \right) \geq 4 \sqrt{\frac{a}{b}},$$

що й треба було довести.

4.2^м. Нехай a і b — катети трикутника, c — його гіпотенуза, $h = 24$ см — висота, що проведена до гіпотенузи. Площа трикутника $S = \frac{1}{2}ab = \frac{1}{2}ch$, тому $ab = ch$; $ab = 24c$. Крім того,

$a^2 + b^2 = c^2$ і $a + b + c = 120$. Маємо систему:

$$\begin{cases} a^2 + b^2 = c^2, \\ a + b = 120 - c, \\ ab = 24c; \end{cases} \begin{cases} (a + b)^2 - 2ab = c^2, \\ a + b = 120 - c, \\ ab = 24c; \end{cases} \begin{cases} (120 - c)^2 - 2 \cdot 24c = c^2, \\ a + b = 120 - c, \\ ab = 24c. \end{cases}$$

З першого рівняння маємо: $120^2 - 240c + c^2 - 48c = c^2$; $288c = 120^2$; $c = 50$. Тоді $\begin{cases} a + b = 70, \\ ab = 1200, \end{cases}$ тому $a_1 = 30$, $b_1 = 40$ або

$a_2 = 40$, $b_2 = 30$. Отже, сторони трикутника — 30 см; 40 см; 50 см.

Відповідь. 30 см; 40 см; 50 см.

1.1	1.2	1.3	1.4	1.5	1.6	1.7	1.8	1.9	1.10	1.11	1.12
В	Г	А	Б	Б	А	Г	Б	Б	А	Г	В
2.1			2.2			2.3			2.4		
x = 3			0 ≤ x < 9			1/4			√10 см		

Варіант 48

3.1. Нехай x — перше із шуканих послідовних непарних натуральних чисел, тоді друге — $(x+2)$, третє — $(x+4)$, четвєрте — $(x+6)$. За умовою, $(x+2)(x+4) - 111 = 3(x+x+6)$.

Розв'яжемо це рівняння: $x^2 + 2x + 4x + 8 - 111 = 6x + 18$; $x^2 = 121$.

Оскільки x — натуральне число, то $x = 11$. Отже, шукані числа 11; 13; 15; 17.

Відповідь. 11; 13; 15; 17.

3.2. $\begin{cases} \frac{x}{y} + \frac{y}{x} = 2,5, \\ x + y = 6. \end{cases}$ Позначимо $\frac{x}{y} = t$, тоді $\frac{y}{x} = \frac{1}{t}$ і з першого

рівняння системи маємо:

$$t + \frac{1}{t} = 2,5; \begin{cases} 2t^2 - 5t + 2 = 0, \\ t \neq 0; \end{cases} \quad t_1 = 2; \quad t_2 = \frac{1}{2}.$$

1) $t_1 = 2; \begin{cases} \frac{x}{y} = 2, \\ x + y = 6; \end{cases} \begin{cases} x = 2y, \\ y \neq 0, \\ 2y + y = 6; \end{cases} \begin{cases} y = 2, \\ x = 4. \end{cases}$

2) $t_2 = \frac{1}{2}; \begin{cases} \frac{x}{y} = \frac{1}{2}, \\ x + y = 6; \end{cases} \begin{cases} y = 2x, \\ y \neq 0, \\ 2x + x = 6; \end{cases} \begin{cases} x = 2, \\ y = 4. \end{cases}$

Відповідь. (4; 2), (2; 4).

3.3. Нехай точка O — середина діагоналі AC , тоді $O\left(\frac{0+4}{2}; \frac{6+2}{2}\right)$, тобто $O(2; 4)$. Нехай точка Q — середина діагоналі BD , тоді $Q\left(\frac{5+(-1)}{2}; \frac{7+1}{2}\right)$, тобто $Q(2; 4)$.

Отже, середини діагоналей чотирикутника $ABCD$ збігаються, тобто його діагоналі перетинаються і точкою перетину діляться навпіл. Тому $ABCD$ — паралелограм. Маємо:

$$AB = \sqrt{(5-0)^2 + (7-6)^2} = \sqrt{25+1} = \sqrt{26};$$

$$AD = \sqrt{(-1-0)^2 + (1-6)^2} = \sqrt{1+25} = \sqrt{26}.$$

Отже, $AB=AD$, а тому $ABCD$ — ромб, що й треба було довести.

4.1^м. $p = \frac{m}{n}, n = C_{30}^3 = \frac{30!}{3! \cdot 27!} = \frac{30 \cdot 29 \cdot 28}{1 \cdot 2 \cdot 3};$

$$m = C_{12}^2 \cdot C_{18}^1 = \frac{12!}{2! \cdot 10!} \cdot \frac{18!}{1! \cdot 17!} = \frac{12 \cdot 11}{2} \cdot 18 = 12 \cdot 11 \cdot 9.$$

Тоді $p = \frac{12 \cdot 11 \cdot 9}{30 \cdot 29 \cdot 28} = \frac{6 \cdot 12 \cdot 11 \cdot 9}{30 \cdot 29 \cdot 28} = \frac{297}{1015}$. Відповідь. $\frac{297}{1015}$.

6

4.2^м. Нехай $CM = m$ — медіана $\triangle ABC$; $\angle ACM = \alpha$; $\angle BCM = \beta$. Продовжимо CM за точку M і відкладемо на цьому промені точку K таку, що $CM = MK$.

Чотирикутник $ACBK$ — паралелограм, $CK = 2m$; $\angle CKA = \beta$; $AK = CB$.

У $\triangle CKA$:

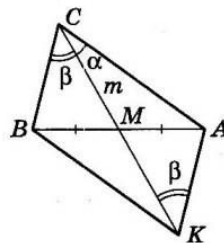
$$\frac{CK}{\sin \angle CAK} = \frac{CA}{\sin \angle CKA} = \frac{AK}{\sin \angle KCA};$$

$$\frac{2m}{\sin(180^\circ - (\alpha + \beta))} = \frac{CA}{\sin \beta} = \frac{AK}{\sin \alpha}.$$

Ураховуючи, що $\sin(180^\circ - (\alpha + \beta)) = \sin(\alpha + \beta)$ і $CB = AK$,

маємо: $CA = \frac{2m \sin \beta}{\sin(\alpha + \beta)}$; $CB = \frac{2m \sin \alpha}{\sin(\alpha + \beta)}$.

Відповідь. $CA = \frac{2m \sin \beta}{\sin(\alpha + \beta)}$; $CB = \frac{2m \sin \alpha}{\sin(\alpha + \beta)}$.



1.1	1.2	1.3	1.4	1.5	1.6	1.7	1.8	1.9	1.10	1.11	1.12
В	Г	А	Г	В	Г	В	Б	В	Б	Г	Б
2.1	2.2	2.3	2.4								
-45	24	(2; 6), $\left(\frac{1}{4}; -1\right)$	96°								

Варіант 49

3.1. Нехай перший робітник виконає задану роботу за x год, а другий — за y год. Третину роботи перший робітник виконає за $\frac{x}{3}$ год, а другий робітник четверту частину роботи виконає за $\frac{y}{4}$ год. За умовою, $\frac{x}{3} - \frac{y}{4} = 5$.

За одну годину перший робітник виконає $\frac{1}{x}$ частину роботи, а другий — $\frac{1}{y}$ частину роботи. Працюючи разом, за одну годину вони виконають $\frac{1}{x} + \frac{1}{y}$ частину роботи. За умовою, $\frac{1}{x} + \frac{1}{y} = \frac{1}{8}$.

Маємо систему
$$\begin{cases} \frac{x}{3} - \frac{y}{4} = 5, \\ \frac{1}{x} + \frac{1}{y} = \frac{1}{8}. \end{cases}$$

З першого рівняння цієї системи отримаємо $x = 15 + 0,75y$. Підставимо значення x у друге рівняння: $\frac{1}{15 + 0,75y} + \frac{1}{y} = \frac{1}{8}$.

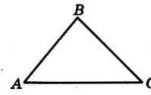
Маємо: $\frac{y + 15 + 0,75y}{y(15 + 0,75y)} = \frac{1}{8}$; $8(1,75y + 15) = 15y + 0,75y^2$; $0,75y^2 + y - 120 = 0$. Ураховуючи, що $y > 0$, маємо $y = 12$. Тоді $x = 15 + 0,75 \cdot 12$; $x = 24$. Отже, перший робітник, працюючи самостійно, виконає роботу за 24 год, а другий — за 12 год.

Відповідь. 24 год; 12 год.

3.2. Оскільки парабола перетинає вісь ординат у точці $B(0; 7)$, то $7 = a \cdot 0^2 + b \cdot 0 + c$, тому $c = 7$. Оскільки точка $A(1; 5)$ є вершиною параболи, то $1 = -\frac{b}{2a}$, тобто $b = -2a$, і $5 = a \cdot 1^2 + b \cdot 1 + c$. Звідси маємо: $5 = a - 2a + 7$; $a = 2$. Тоді $b = -2 \cdot 2 = -4$.

Відповідь. $a = 2$; $b = -4$; $c = 7$.

3.3. Нехай задано $\triangle ABC$, у якого $AB = \sqrt{3}$ см, $BC = 2$ см; $AC = R$, де R — радіус кола, описаного навколо трикутника.



За відомою формулою, $2R = \frac{AC}{\sin B}$, тому $2R = \frac{R}{\sin B}$; $\sin B = \frac{1}{2}$, тому $\angle B = 30^\circ$ або $\angle B = 150^\circ$.

У кожному із цих випадків, за теоремою синусів, можна знайти AC :

$$AC^2 = AB^2 + BC^2 - 2 \cdot AB \cdot BC \cdot \cos \angle B.$$

$$1) \angle B = 30^\circ; AC = \sqrt{(\sqrt{3})^2 + 2^2 - 2 \cdot \sqrt{3} \cdot 2 \cdot \frac{\sqrt{3}}{2}} = \sqrt{1} = 1 \text{ (см)}.$$

$$2) \angle B = 150^\circ; AC = \sqrt{(\sqrt{3})^2 + 2^2 - 2 \cdot \sqrt{3} \cdot 2 \cdot \left(-\frac{\sqrt{3}}{2}\right)} = \sqrt{13} \text{ (см)}.$$

Відповідь. 1 см або $\sqrt{13}$ см.

4.1*. Маємо: $\frac{a^2 - 1}{ax - 1} + \frac{a}{a} - \frac{x}{a} = 1$; $\frac{a^2 - 1}{ax - 1} = \frac{x}{a}$. Це рівняння рівносильне системі

$$\begin{cases} x(ax - 1) = a(a^2 - 1), \\ a \neq 0, \\ x \neq \frac{1}{a}; \end{cases} \quad \begin{cases} ax^2 - x - (a^3 - a) = 0, \\ a \neq 0, \\ x \neq \frac{1}{a}. \end{cases}$$

Оскільки $a \neq 0$, то рівняння $ax^2 - x - (a^3 - a) = 0$ для всіх значень параметра a є квадратним.

$$D = 1 + 4a(a^3 - a) = 4a^4 - 4a^2 + 1 = (2a^2 - 1)^2;$$

$$x_1 = \frac{1 + (2a^2 - 1)}{2a} = a; \quad x_2 = \frac{1 - (2a^2 - 1)}{2a} = \frac{1 - a^2}{a}.$$

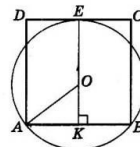
Проте повинна виконуватися умова $x \neq \frac{1}{a}$.

1) $x_1 = \frac{1}{a}$, тобто $a = \frac{1}{a}$. Це виконується, якщо $a = \pm 1$, тоді маємо лише другий корінь $x_2 = \frac{1 - 1}{\pm 1} = 0$.

2) $x_2 = \frac{1}{a}$, тобто $\frac{1 - a^2}{a} = \frac{1}{a}$. Це рівняння коренів не має.

Відповідь. Якщо $a = 1$ або $a = -1$, то $x = 0$; якщо $a \neq \pm 1$, $a \neq 0$, то $x_1 = a$, $x_2 = \frac{1 - a^2}{a}$.

4.2*. Квадрат $ABCD$ такий, що задано в умові. Проведемо через центр кола — точку O — перпендикуляр EK до сторін квадрата AB і CD .



Позначимо $AB = x$, тоді $AK = \frac{x}{2}$.

У $\triangle AOK$ ($\angle K = 90^\circ$):

$$AK = \frac{x}{2}; \quad OK = EK - EO = x - R; \quad AO = R.$$

За теоремою Піфагора, $AO^2 = AK^2 + KO^2$; $R^2 = \frac{x^2}{4} + (x - R)^2$.

$$\text{Звідси } \frac{5x^2}{4} - 2xR = 0; \quad x \left(\frac{5x}{4} - 2R \right) = 0; \quad x = \frac{8}{5} R.$$

Тоді площа квадрата $S = x^2 = \frac{64}{25} R^2$.

Відповідь. $\frac{64}{25} R^2$.

1.1	1.2	1.3	1.4	1.5	1.6	1.7	1.8	1.9	1.10	1.11	1.12
Г	Б	В	Б	Б	В	А	Г	Б	В	В	В

2.1	2.2	2.3	2.4
-1	0; 1	$a = 3; b = -2$	9 см

Варіант 50

3.1. Нехай швидкість першого пішохода x км/год, а другого — y км/год.

Перший подолав половину шляху, тобто 12 км, за $\frac{12}{x}$ год, а другий свою половину шляху — за $\frac{12}{y}$ год. Оскільки перший вийшов на годину раніше, то $\frac{12}{x} - 1 = \frac{12}{y}$. Крім того, за умовою задачі, $2 \cdot \frac{24}{60}(x + y) = 24$, тобто $x + y = 10$.

$$\text{Маємо систему рівнянь } \begin{cases} \frac{12}{x} - 1 = \frac{12}{y}, \\ x + y = 10. \end{cases}$$

З другого рівняння отримуємо $y = 10 - x$ і підставимо в перше рівняння.

$$\begin{aligned} \text{Маємо: } \frac{12}{x} - 1 - \frac{12}{10 - x} &= 0; \quad \frac{12(10 - x) - x(10 - x) - 12x}{x(10 - x)} = 0; \\ \frac{120 - 12x - 10x + x^2 - 12x}{x(10 - x)} &= 0; \quad x^2 - 34x + 120 = 0; \quad x_1 = 30; \\ x_2 &= 4. \end{aligned}$$

Перший корінь не підходить, бо тоді $y_1 = 10 - 30 < 0$. Отже, швидкість першого пішохода дорівнює 4 км/год, а другого $10 - 4 = 6$ (км/год).

Відповідь. 4 км/год; 6 км/год.

$$\begin{aligned} 3.2. \quad x^2 + y^2 + 2x - 4y &= (x^2 + 2x + 1) + (y^2 - 4y + 4) - 1 - 4 = \\ &= (x + 1)^2 + (y - 2)^2 - 5. \end{aligned}$$

Оскільки $(x + 1)^2 \geq 0$ і $(y - 2)^2 \geq 0$, то найменшим значенням виразу є число -5 (коли $x = -1$ і $y = 2$).

Відповідь. -5 .

3.3. Нехай AB — діаметр кола; CD — хорда, $CD \perp AB$.

За властивістю хорди, що перпендикулярна до діаметра, $CK = KD$, де K — точка перетину AB і CD .

Оскільки $CD = 12$ см, то $CK = KD = \frac{12}{2} = 6$ (см).

$\angle ADB = 90^\circ$ (як вписаний кут, що спирається на діаметр), тому DK — висота прямокутного трикутника, що проведена до гіпотенузи.

За властивістю висоти прямокутного трикутника, проведеної до гіпотенузи, $DK^2 = AK \cdot KB$.

За умовою, $BK - KA = 9$ (см).

Позначимо $KA = x$ см, тоді $BK = x + 9$ (см).

Маємо: $6^2 = x(x + 9)$; $x^2 + 9x - 36 = 0$. Ураховуючи те, що $x > 0$, маємо $x = 3$. Отже, $KA = 3$ см; $BK = 12$ см. Тоді $AB = d = 15$ см — діаметр кола.

Довжина кола $l = \pi d = 15\pi$ (см).

Відповідь. 15π см.

4.1*. Оскільки x_1 і x_2 — корені рівняння $2x^2 - 8x + 3 = 0$, то, за теоремою Вієта, $x_1 + x_2 = -\frac{-8}{2} = 4$ і $x_1 x_2 = \frac{3}{2} = 1,5$.

$$\begin{aligned} \text{Маємо: } |x_1 - x_2| &= \sqrt{(x_1 - x_2)^2} = \sqrt{x_1^2 - 2x_1 x_2 + x_2^2} = \\ &= \sqrt{(x_1 + x_2)^2 - 4x_1 x_2} = \sqrt{4^2 - 4 \cdot 1,5} = \sqrt{10}. \end{aligned}$$

Відповідь. $\sqrt{10}$.

4.2*. Проведемо третю медіану AD і доведемо лему.

Лема. Трикутники, на які розбивають даний трикутник медіани, мають рівні площі.

Доведення лему. $S_{\triangle CMD} = S_{\triangle DMV}$

(у цих трикутниках рівні відповідні основи і висоти). Проведемо висоти

AK — трикутника ABC і ML — трикутника CMB . $\triangle AKD \sim \triangle MLD$ (за

двома кутами). Тоді $\frac{AK}{ML} = \frac{AD}{MD} = \frac{3}{1}$

(оскільки M — точка перетину медіан).

Тоді $\frac{S_{\triangle ABC}}{S_{\triangle CMB}} = \frac{3}{1}$ (у трикутниках рівні основи, а тому їхні

площі відносяться так, як висоти).

Отже, $S_{\triangle CMB} = \frac{1}{3} S_{\triangle ABC}$, а тому $S_{\triangle CMD} = S_{\triangle DBM} = \frac{1}{6} S_{\triangle ABC}$.

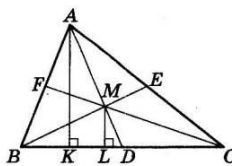
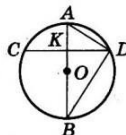
Аналогічно $S_{\triangle CME} = S_{\triangle EMA} = S_{\triangle AMF} = S_{\triangle MFB} = \frac{1}{6} S_{\triangle ABC}$.

Лему доведено.

Оскільки

$S_{\triangle BMC} = 2S_{\triangle BMD} = \frac{1}{3} S_{\triangle ABC}$ і $S_{\triangle EMF} = 2S_{\triangle AFM} = \frac{1}{3} S_{\triangle ABC}$, то

$S_{\triangle BMC} = S_{\triangle EMF}$, що й треба було довести.



1.1	1.2	1.3	1.4	1.5	1.6	1.7	1.8	1.9	1.10	1.11	1.12
В	Б	В	В	А	Б	Б	В	В	А	Б	В
2.1	2.2	2.3	2.4								
$\frac{13}{27}$	$-\frac{a}{2x}$	$(-1; 4)$	5 см								